

MEB'İN YENİ
100'Ü

ORTAK YAZILI
SENARYO-
LARINA GÖRE

YAZILI
İÇİN KISA
CEVAPLAR

AKILLI
TAHTA

6. SINIF

SÜREÇ
ODAKLI

ETKİNLİK
TESTLERİ

KAZANIM
TESTLERİ

YENİ NESİL
TESTLER

İŞLEMLİ
TESTLER

Karekod Çözümlü

Sosyal Bilgiler

SÖRÜ BANKASI

Ekstra Ücretsiz
Dijital Platform

3000

Çözümlü Soru
ve Sınırsız

Deneme
Sınavları

Çözümler için
karekodu okutunuz.





İSTİKLAL MARŞI

Korkma, sönmez bu şafaklarda yüzen al sancak;
Sönmeden yurdumun üstünde tüten en son ocak.
O benim milletimin yıldızıdır, parlayacak;
O benimdir, o benim milletimindir ancak.

Çatma, kurban olayım, çehreni ey nazlı hilâl!
Kahraman ırkıma bir gül! Ne bu şiddet, bu celâl?
Sana olmaz dökülen kanlarımız sonra helâl
Hakkıdır, Hakk'a tapan, milletimin istiklâl!

Mehmet Âkif ERSOY

ATATÜRK'ÜN GENÇLİĞE HİTABESİ

Ey Türk gençliği! Birinci vazifen; Türk istiklalini, Türk cumhuriyetini, ilelebet muhafaza ve müdafaa etmektir.

Mevcudiyetinin ve istikbalinin yegâne temeli budur. Bu temel, senin en kıymetli hazinendir. İstikbalde dahi seni bu hazineden mahrum etmek isteyecek dâhilî ve haricî bedhahların olacaktır. Bir gün, istiklal ve cumhuriyeti müdafaa mecburiyetine düşersen, vazife atılmak için içinde bulunacağın vaziyetin imkân ve şeraitini düşünmeyeceksin. Bu imkân ve şerait, çok namûsait bir mahiyette tezahür edebilir. İstiklal ve cumhuriyetine kastedecek düşmanlar, bütün dünyada emsali görülmemiş bir galibiyetin mümessili olabilirler. Cebren ve hile ile aziz vatanın bütün kaleleri zapt edilmiş, bütün tersanelerine girilmiş, bütün orduları dağıtılmış ve memleketin her köşesi bilfiil işgal edilmiş olabilir. Bütün bu şeraitten daha elim ve daha vahim olmak üzere, memleketin dâhilinde iktidara sahip olanlar, gaflet ve dalalet ve hatta hiyanet içinde bulunabilirler. Hatta bu iktidar sahipleri, şahsi menfaatlerini müstevlilerin siyasi emelleriyle tevhit edebilirler. Millet, fakrüzaruret içinde harap ve bitap düşmüş olabilir.

Ey Türk istikbalinin evladı! İşte, bu ahval ve şerait içinde dahi vazifen, Türk istiklal ve cumhuriyetini kurtarmaktır. Muhtaç olduğun kudret, damarlarındaki asil kanda mevcuttur.

Mustafa Kemal Atatürk

6. SINIF SOSYAL BİLGİLER

Bu kitabın basım, yayım ve satış hakları Editör Yayınevine aittir. Anılan kuruluşun izni alınmadan; kitabın tümünden veya bölümlerinden, yönerge-lerinden, ölçme araçlarından, etkinliklerinden ve kitaptaki modellemelerden esinlenmek, bunları taklit etmek veya benzerini yapmak suçtur. Aynı zamanda elektronik yollarla, fotokopi yoluyla, manyetik kayıt ya da başka yöntemlerle çoğaltılamaz, basılamaz veya dağıtılamaz.

Editör

Turgut MEŞE

Yazar

Komisyon

Sertifika No

40447

Baskı ve Cilt

Data Dijital Matbaacılık

ANKARA



İLETİŞİM

İvedik Organize Sanayi Matbaacılar Sitesi

1518 Sok. Mat-Sit İş Merkezi No:2/20

Yenimahalle / ANKARA

Tel: 0 312 384 20 33 - 0 505 925 57 81

Fax: 0312 342 23 58

www.editoryayinevi.com

İÇİNDEKİLER

1. ÜNİTE: BİZ VE DEĞERLERİMİZ

- ▶ SOSYAL ROLLERİN DEĞİŞİMİ - KÜLTÜR VE TOPLUMSAL BİRLİKTELİK 3
- ▶ FARKLILIKLARA SAYGI DUYUYORUM - YARDIMLAŞMA VE DAYANIŞMA 7
- ▶ SORUNLARA ÇÖZÜM BULUYORUM 13
- ▶ YAZILI İÇİN KISA CEVAPLAR 19

2. ÜNİTE: TARİHE YOLCULUK

- ▶ ORTA ASYA'DA KURULAN İLK TÜRK DEVLETLERİ .. 21
- ▶ İSLAMİYET'İN YAYILIŞI 31
- ▶ TÜRKLERİN İSLAMİYET'İ KABULÜ 38
- ▶ YENİ YURT ANADOLU 44
- ▶ İPEK VE BAHARAT YOLU 50
- ▶ YAZILI İÇİN KISA CEVAPLAR 55

3. ÜNİTE: YERYÜZÜNDE YAŞAM

- ▶ COĞRAFİ KONUMU ÖĞRENİYORUM 57
- ▶ TÜRYE'NİN FİZİKİ COĞRAFYA ÖZELLİKLERİ 64
- ▶ TÜRKİYE'NİN BEŞERİ COĞRAFYA ÖZELLİKLERİ ... 71
- ▶ DÜNYA'DA İKLİM VE YAŞAM 77
- ▶ YAZILI İÇİN KISA CEVAPLAR 82

4. ÜNİTE: BİLİM VE TEKNOLOJİ HAYATIMIZDA

- ▶ SOSYAL BİLİMLERİN TOPLUM HAYATINA ETKİSİ-GELECEKTEKİ YAŞAM 84
- ▶ BİLİMSEL ARAŞTIRMA BASAMAKLARI-TELİF VE PATENT HAKKI 91
- ▶ YAZILI İÇİN KISA CEVAPLAR 96

5. ÜNİTE: ÜRETİYORUM, TÜKETİYORUM, BİLİNÇLİYİM

- ▶ KAYNAKLARIN ÜLKE EKONOMİSİNDEKİ YERİ 97
- ▶ KAYNAKLARIN BİLİNÇSİZ KULLANIMI 103
- ▶ YATIRIM VE PAZARLAMA- VERGİMİ ÖDÜYORUM . 108
- ▶ NİTELİKLİ İNSAN GÜCÜ- MESLEĞİMİ SEÇİYORUM 114
- ▶ YAZILI İÇİN KISA CEVAPLAR 120

6. ÜNİTE: YÖNETİME KATILIYORUM

- ▶ YÖNETİM BİÇİMLERİNİ ÖĞRENİYORUM 121
- ▶ YASAMA, YÜRÜTME VE YARGI 130
- ▶ KARAR ALMA SÜRECİNE KATILIYORUM - TOPLUMSAL HAYATIMIZDA DEMOKRASİNİN ÖNEMİ 136
- ▶ ANAYASAL GÜVENCE ALTINDAYIZ 141
- ▶ TOPLUMSAL HAYATTA KADININ YERİ 146
- ▶ YAZILI İÇİN KISA CEVAPLAR 152

7. ÜNİTE: ULUSLARARASI İLİŞKİLERİMİZ

- ▶ TÜRK CUMHURİYETLERİ VE KOMŞU ÜLKELERLE İLİŞKİLER 153
- ▶ ÜLKEMİZİN EKONOMİK İLİŞKİLERİ 159
- ▶ ÜLKEMİZİN ÜSTLENDİĞİ ULUSLARARASI ROLLER-POPÜLER KÜLTÜR 164
- ▶ YAZILI İÇİN KISA CEVAPLAR 171
- ▶ CEVAP ANAHTARI 172



1. Ali Bey bir okulda sosyal bilgiler öğretmenidir. Ali Bey arkadaşlarıyla yaptığı halı saha maçında kaleye geçmektedir. Ayrıca Ali Bey anne ve babasının iki çocuğundan en büyüğüdür. Evli iki çocuğu olan Ali Bey çocukları çok sevmektedir.

Yukarıda verilen bilgilere göre Ali Bey kaç farklı rol üstlenmektedir?

- A) 6 B) 4 C) 7 D) 5

2. Sosyal bilgiler dersinde "Roller ve Gruplar" konusunu işleyen Ayşe Öğretmen öğrencilerine "insanların sahip olduğu bazı rollerin doğuştan kazanıldığını bazı rollerin ise sonradan kazanıldığını" söylemiştir.

Aşağıdakilerden hangisi doğuştan sahip olunan rollerle örnek olarak verilebilir?

- A) Abla olmak B) Mühendis olmak
C) Başkan olmak D) Bakan olmak

3. Selin Hanım, özel bir okulda öğretmenlik yapmaktadır. Hafta sonlarını ailesiyle kültürel faaliyetlere katılarak geçirmektedir. Ayrıca bir dernekte de gönüllü olarak çalışmaktadır.

Selin Hanım ile ilgili olarak aşağıdakilerden hangisi söylenebilir?

- A) Birden fazla rol üstlenmiştir.
B) Herkes tarafından çok sevilmiştir.
C) Tek bir role sahiptir.
D) Grup etkinliklerine katılmamıştır.

4. Kültür unsurlarının başında gelir. Çünkü bu unsur olmadan öteki unsurların meydana gelmesi mümkün değildir. Kültüre ait bütün unsurları bünyesinde barındırır. Kültür öğeleri bu unsur aracılığı ile yansıtılır.

Yukarıda hakkında bilgi verilen kültür unsuru aşağıdakilerden hangisidir?

- A) Tarih B) Din
C) Dil D) Sanat

5. Aynı yurt üzerinde yaşayan, aralarında dil, din, ırk, tarih, kültür ve ülkü birliği bulunan bu bağlarla birbirine bağlanan insan topluluklarına ulus denir.

Bu tanımda bir topluluğun ulus olabilmesinde rol oynayan özelliklerin hangisi üzerinde daha çok durulmuştur?

- A) Bireyler arasında dayanışmanın olması
B) Üyeler arasında iş bölümünün bulunması
C) Ortak geçmiş ve değerlere sahip olması
D) Güçlü bir gelecek beklentisinin olması

6. Bir milletin dünyada saygın ve özel bir yere sahip olması sadece ekonomik ve bilimsel olarak gelişmiş olmasına bağlı değildir. O milletin, kendine özgü bir kültürel karaktere de sahip olması gerekir. Kendine özgü kültürel değerlerle birbirine bağlanmayan milletler, kısa sürede karışıklık içerisinde yok olur gider.

Buna göre milletlerin tarih sahnesinde var olmaları aşağıdakilerden hangisine verdiği öneme bağlıdır?

- A) Farklı uluslarla ilişki kurmasına
B) Özüne bağlı olmasına
C) Sınırlarını korumasına
D) Güçlü bir ordu oluşturmaya

7.

- I. Aynı dili konuşan, aynı duygu, düşünce ve amaçlar içerisinde olan insanlar bir araya geldiklerinde dil sayesinde anlaşılabilir.
II. Dil sadece düşüncelerin aktarılmasında rol üstlenmektedir.
III. Ortak dile sahip olan insanlar aynı toplumun üyesi olduklarını fark edip millet olmanın şuuruna varırlar.
IV. Yabancı kelimeler Türkçenin bozulmasına neden olmaktadır.

Kültürü oluşturan öğelerden biri olan dil ile ilgili verilen bilgilerden hangileri yanlıştır?

- A) I ve II B) Yalnız II
C) II ve III D) Yalnız IV



8. “Türk çocuğu Atalarını tanıdıkça daha büyük işler yapmak için kendinde kuvvet bulacaktır.”

Mustafa Kemal Atatürk’ün bu sözünde;

- I. tarih,
- II. din,
- III. gelenek – görenek,
- IV. dil

kültürel unsurlarından hangilerine vurgu yapıldığı söylenebilir?

- A) Yalnız I
- B) I ve II
- C) Yalnız III
- D) III ve IV

9. Toplumsal birtikliliğin oluşmasında dil, din, gelenek ve görenekler gibi kültürel unsurlar da vardır.

Aşağıdakilerden hangisi gelenek ve göreneklerimizden biri değildir?

- A) Misafirlere ikramlarda bulunmak
- B) Hastaları ziyaret etmek
- C) Yılbaşı kutlamalarına katılmak
- D) Büyüklere saygı, küçüklere sevgi göstermek

10. **Aşağıdakilerden hangisi sosyal rollerin değişimine örnek verilemez?**

- A) Doktor Aslı Hanım’ın hastane yöneticisi olarak başka bir hastanede göreve başlaması
- B) İki çocuğu olan Fatih Bey’in çocuğunun olması
- C) Futbolcu Hakan’ın bir takımında teknik direktör olması
- D) Eğitim fakültesini bitiren Semra’nın öğretmenlik yapması

11. Aynı toprak parçası üzerinde bir arada yaşayan ve temel çıkarlarını sağlamak için iş birliği yapan insanların tümüne toplum adı verilir. Toplumda var olan birtakım değerler o toplumun ayakta durmasını sağlar.

Buna göre;

- I. Dil
- II. Tarih
- III. Gelenek–görenek
- IV. Din

yukarıdakilerden hangileri toplumu bir arada tutan değerler arasında yer alır?

- A) I ve II
- B) III ve IV
- C) Yalnız III
- D) I, II, III ve IV

12. Yer aldığımız gruplardaki rollerimizin gereklerini yerine getirmek sorumluluk olarak isimlendirilir. Sorumluluklarımızı yerine getirerek başarılı ve mutlu bireylerin olduğu bir toplumun oluşmasına katkıda bulunuruz.

Aşağıdakilerden hangisi sorumluluklarımızdan biri değildir?

- A) Okul kurallarına uymak
- B) Yeterli ve sağlıklı beslenmek
- C) Çöpleri çöp kutusuna atmak
- D) Odamızı temiz ve düzenli tutmak

13. Ortaokul 6. sınıf öğrencisi olan Yusuf sabah yatağından kalktı, yüzünü yıkadı, yatağını düzeltti. Annesi, babası, babaannesi ve küçük kardeşiyle kahvaltısını yaptıktan sonra okul servisine binip okula gitti, derse başladı. Okulun çevre koruma kulübünün faaliyetlerine üye olarak katıldı. Okuldan eve okul servisiyle dönen Yusuf, arkadaşlarıyla dışarıda oyun oynamak için annesinden izin istedi. Ona izin veren annesi gelirken ekmek almasını söyledi. Arkadaşlarıyla oynadığı maçta kalecilik yapan Yusuf, marketten ekmek alıp eve döndü.

Yukarıda verilen parçadan hareketle Yusuf’un kaç rolü olduğu söylenebilir?

- A) 6
- B) 7
- C) 8
- D) 9



14.

- ◆ Allah bağışlasın.
- ◆ Doğrunun yardımcısı Allah'tır.
- ◆ Aldatayım diyen aldanır.
- ◆ Allah akıl versin.

Yukarıdaki atasözleri ve deyimler kültürü oluşturan öğelerden hangisini vurgulamaktadır?

- A) Din B) Tarih
C) Dil D) Örf ve adet

15. Aşağıda rol ile ilgili verilen bilgilerden hangisi yanlıştır?

- A) Zamanla sahip olduğumuz roller değişebilir.
B) Bireyler toplum içinde tek bir role sahiptir.
C) Bireylerin içinde buldukları rollerle kendilerinden beklenen davranış değişebilmektedir.
D) Sahip olduğumuz rollerin sorumluluklarını yerine getirmeliyiz.

16. Kültür, insanların paylaştıkları bilgiyi, inancı, sanatı, gelenekleri, yasaları ve kazanmış oldukları tüm beceri ve alışkanlıkları kapsar. Bu nedenle toplumdaki dayanışmanın temelini oluşturur.

Buna göre kültürün toplumdaki dayanışmayı oluşturmalarının temel nedeni aşağıdakilerden hangisidir?

- A) Toplumun gelişmesinde önemli bir rol üstlenmesi
B) İnsan davranışlarını etkilemesi
C) Zaman içinde değişmesi
D) Bireyleri ortak noktada birleştirmesi

17.

Doğuştan Sahip Olduğumuz Roller	Sonradan Sahip Olduğumuz Roller
a. Abla	1. Sınıf Başkanı
b.?.....	2. Öğretmen
c. Torun	3.?.....
d. Kardeş	4. Takım kaptanı

Boş bırakılan yerlere aşağıdakilerden hangisi yazılmalıdır?

- A) (b) Amca
(3) Hala
- B) (b) Vali
(3) Muhtar
- C) (b) Evlat
(3) Futbolcu
- D) (b) Memur
(3) Doktor

18. Kültür, bir milleti diğer milletlerden ayıran en önemli özelliklerden biridir.

Aşağıdakilerden hangisi kültürümüzde olan ortak değerlerden biri değildir?

- A) Dil B) Din
C) Sanat D) Turizm

19. Doğduğumuz andan itibaren birçok role ve bu rollerin gerektirdiği görevlere sahip oluruz. Örneğin; evde çocuk rolünderken yatağımızı düzeltmek, okulda öğrenciyken sınıf kurallarına uymak, arkadaşlarımızla oyun oynarken etraftakileri rahatsız etmemek sorumluluklarımız arasındadır.

Buna göre aşağıdakilerden hangisi söylenemez?

- A) Roller zamana ve mekâna göre değişebilmektedir.
B) Rol ve sorumluluk birbiryle ilişki içindedir.
C) Rolümüz değiştiğinde sorumluluklarımız da değişebilmektedir.
D) İnsanlar aynı anda farklı rollere bürünemezler.



- 1 Graplarda herkesin görevleri olur. Bunların yerine getirilmesi önemlidir. İçinde bulunduğumuz gruplarda her grup üyesinin görevleri farklılık gösterir. Bu görevleri bizim grup içinde üstlendiğimiz roller olarak ifade edebiliriz. Bulduğumuz her grupta farklı rollerimizden söz edebiliriz. Örneğin; ailemizde çocuk, okulumuzda öğrenci, basketbol takımında oyuncu olabiliriz.

Yukarıdaki açıklamada vurgulanan temel düşünce aşağıdakilerden hangisidir?

- A) Kişilerin toplumda sahip oldukları rolleri bir anda edindiği
B) Herkesin içinde bulunduğu gruba göre bir rol sahibi olduğu
C) Gruplar arası çatışmanın yararlı olduğu
D) Grup içerisinde rol sahibi olmanın gerekli olmadığı

- 2 Ölüm gibi üzücü bir olayın ardından söylenen türküleri ağıt denir. Ağıt eski çağlardan beri bütün topluluklarda görülen duygulu bir ezgi türüdür. Türklerde ağıt geleneği çok eski dönemlere dayanır. Orhun Kitabeleri'nde yuğ adı verilen cenaze törenlerinde ağıt yakıldığı bilgisine ulaşılmıştır. Ağıtlar, yaşanan acının diğer insanlar tarafından paylaşılmasını ve yaşanan acı olayların nesilden nesile aktarılmasını sağlar.

Buna göre;

- I. Bazı değerler insanlığın ortak duygularıdır.
II. İnsanlar kimi zaman üzüntülerini ezgilerle dile getirmişlerdir.
III. Günümüzde acıların paylaşılması geçmişin bir ürünüdür.

yargılarından hangileri söylenebilir?

- A) Yalnız I
B) I ve II
C) Yalnız III
D) I, II ve III

- 3 **Fatih:** Meslek hayatım başladı. Annem bana “Oğlum hangi işi yaparsan yap, işin hakkını vererek yap.” dedi. Mesleğim öğretmenlik olduğu için bu söz benim için daha da bir anlam kazanmıştı. Çünkü insan yetiştirmenin sorumluluğunu üzerimde hissediyordum. Ben de iyi bir öğretmen olmak için çaba gösterdim.

Fatih Bey'in konuşmasından hareketle;

- I. Rolünün gerektirdiği sorumluluğu yerine getirmeye çalışmaktadır.
II. Birden fazla role sahiptir.
III. Öğretmenlik rolünü diğer rollerden üstün tutmaktadır.

yorumlarından hangileri yapılamaz?

- A) Yalnız I
B) I ve II
C) Yalnız III
D) I, II ve III

- 4 Dünürlük, kız evine gidilerek “Allah'ın emri peygamberin kavliyle kızın babasından istenmesi”ne denir. Söz kesme, kızın istenmesinden sonra gençlerin ve ailelerinin anlaşmasıyla evlilik kararının alınmasıdır. Nişan, kız ve erkek tarafı hazırlıklarını tamamladıktan sonra, kızın evinde daha çok kadınların katılımıyla yapılan törene denir. Bayrak asılması töreni, düğün başlamadan önce sadece erkek evinin çatısına veya uygun bir yerine bayrak asılmasıdır. Kına gecesi, genellikle düğünden bir gün öncesinin akşamında kız evinde ve oğlan evinde yapılan, kına yakma işleminin gerçekleştirildiği törene denir. Gelin alma, kına gecesinin ertesi günü oğlan tarafından konuklar toplanarak kız evine gelin almaya gelirler. Gelin ailesiyle vedalaştıktan sonra hayır dualarıyla, bazen ilahilerle bazen de davul-zurna eşliğinde eğlencelerle evden çıkarılır. Düğüne katılanlar yeni evlenen çiftte yardımcı olmak için takı, para ve eşya gibi hediyeler getirirler. Düğüne davet edilen kişilerin düğüne gelmesi beklenir.

Parçadan hareketle düğünler ile ilgili;

- I. dini inanışlara yer verildiği,
II. birlik ve beraberlik duygusunu yaşattığı,
III. kalıp yargıya neden olduğu

yargılarından hangilerine ulaşılabilir?

- A) I ve II
B) Yalnız II
C) II ve III
D) Yalnız III



1. Arkadaşlarımız bizden farklı düşündüğünde onlara kızmak yerine onların düşüncelerine saygı göstermek iletişimimizi olumlu yönde etkiler. Kendimizi arkadaşlarımızın yerine koyarak olaylara onların gözüyle bakabilirsek iletişimi kolaylaştırmış oluruz.

Yukarıdaki açıklamada aşağıdaki kavramlardan hangisinin önemine vurgu yapılmıştır?

- A) Grup B) Rol C) Empati D) Sempati

2. Ön yargı; bir kişi ya da olaya ilişkin gerekli bilgiye sahip olmadan peşin bir karara varmış olma durumudur.

Ön yargı ile ilgili olarak aşağıdakilerden hangisi söylenemez?

- A) İnsanları sınıflandırır.
B) İnsanlar arasında uzaklığa neden olur.
C) Toplumlara daha hızlı kalkındırır.
D) Kişilere ya da toplumlara karşı nefret ve düşmanlık duyguları oluşturur.

3. Sosyal, kültürel ve tarihî bağlar toplumsal birlikteliğin oluşmasında büyük bir etkiye sahiptir. Toplumsal birlik-telik sağlanınca sorunları daha kısa sürede çözeriz.

Aşağıdaki atasözlerinden hangisi birlik ve beraberlik ile ilgilidir?

- A) Sakla zamanı, gelir zamanı.
B) İşleyen demir pas tutmaz.
C) Bugünün işini yarına bırakma.
D) El el ile, değirmen yel ile.

4. Üstünde eski elbiseler olan bir genç aracına binen bir kadının camına tıklatarak camı açmasını ister. Kadın, gencin hâlini görünce para istediğini düşünerek ona bozuk para uzatır. Aslında genç adam, kadına az önce düşürdüğü cüzdanını vermeye çalışmaktadır.

Kadının gence karşı olan tutumu aşağıdaki kavramlardan hangisi ile ifade edilebilir?

- A) Ön yargı B) Empati
C) Sempati D) Diğergamlık

5. Başkalarıyla iyi iletişim kurabilmek için kişilere olumlu yaklaşmalı ve onlara nazik davranmalıyız. Başkalarına karşı ön yargısız olmak, onları dikkatle dinlemek, onlarla empati kurmak olumlu iletişim kurmamıza yardımcı olabilir. Karşımızdaki kişi bizden ne kadar farklı olursa olsun iyi iletişim kurabilmek için ona saygı duymalı, söylediklerini can kulağıyla dinlemeli, jest ve mimiklerine dikkat etmeliyiz.

Toplumda fertler arasında olumlu ilişki ve iletişim kurmak için aşağıdakilerden hangisinin yapılması yanlıştır?

- A) Ön yargılı olmak
B) Kişinin düşüncelerine önem vermek
C) Hoşgörülü yaklaşmak
D) Eleştirilere açık olmak

6. “Baskalarının faziletlerine karşı lütufkâr (kibar), hatalarına karşı da biraz kör olunuz.”

Yukarıda verilen söz aşağıdakilerden hangisine örnektir?

- A) Dayanışmaya B) Hoşgörüyü
C) Empatiye D) Yardımseverliğe

7. Toplumda var olan gruplar, kurumlar, örgütler ve sınıflar gibi toplumsal yapının öğelerinin birbirini tamamlayabilme durumuna ve sürecine “toplumsal bütünleşme” denir. Bu bütünleşme yardımlaşma ve dayanışma sayesinde oluşmaktadır.

Buna göre;

- I. Yapılan yardımlarla yoksullar korunmuş olur.
II. Toplumda karşılıklı olarak sevgi ve saygı artar.
III. Toplumdaki herkes kendi çıkarını düşünür.

yargılarından hangileri yardımlaşma ve dayanışmanın topluma sağlayacağı faydalardan biri değildir?

- A) I ve II B) Yalnız I
C) II ve III D) Yalnız III



8.

- I. Toplum içinde kargaşaya neden olur.
- II. Başarıyı beraberinde getirir.
- III. Problemler kolay çözülür.
- IV. Kardeşlik ve dostluk duyguları gelişir.

Yukarıdakilerden hangileri yardımlaşma ve dayanışmanın faydalarından biri değildir?

- A) Yalnız I B) I ve II
C) III ve IV D) Yalnız IV

9.

- ◆ 1868 yılından beri ülkemizde hizmet veren bir yardımlaşma kurumudur.
- ◆ Din, dil, ırk, cinsiyet ve mezhep farkı gözetmeksizin insanlara hizmet verir.
- ◆ Doğal afetler sonrasında afetzedelere acil olarak beslenme, barınma ve sağlık hizmetleri sunar.

Yukarıda hakkında bilgi verilen kurum aşağıdakilerden hangisidir?

- A) Darüşşafaka B) Darülaceze
C) Yeşilay D) Kızılay

10. Ön yargı ve kalıp yargı hakkında aşağıdaki öğrencilerden hangisinin söylediği yanlıştır?

- A) **Ferhat:** Toplumda oluşmuş kalıp yargılar sadece farklı etnik ve dini gruplara karşı olmaktadır.
- B) **Esra:** Ön yargı insanlar arasında olumlu ya da olumsuz kalıp yargılara dönüşmektedir.
- C) **Semra:** Ön yargı bir kimse veya bir şeyle ilgili olarak önceden edinilmiş peşin yargıdır.
- D) **Yusuf:** Ön yargı, kalıp yargı ve ayrımcılığa karşı çıkıp farklılıklara saygı göstermeliyiz.

11. Ön yargı; bir kimse veya bir şeyle ilgili olarak belirli şart, olay ve görüntülere dayanarak önceden edinilmiş olumlu veya olumsuz yargıya denir.

Aşağıdakilerden hangisi ön yargının temel nedenidir?

- A) Hoşgörülü olmamak
B) Karşımızdaki kişiyi yeterince tanımamak
C) Sorunlara karşı duyarlı olmak
D) Yeterince empati kurmamak

12.

- ◆ Cinsiyet ayrımcılığı
- ◆ Toplumsal ayrılmaya neden olma
- ◆ Arkadaşlık ilişkilerinde bozulma
- ◆ Toplumsal çatışma oluşturma

Yukarıda verilenlerden kaç tanesi ön yargının sonuçlarındandır?

- A) 1 B) 2 C) 3 D) 4

13. Bir grubun bütün üyelerine yönelik abartılarını genelleştiren olumlu veya olumsuz değerlendirmelere kalıp yargı denir.

Aşağıdakilerden hangisi kalıp yargı cümlesidir?

- A) Bizi görür görmez yine bağıırıp çağıracak.
B) Sen bu sınavı kazanamazsın.
C) Bizimle gelmeyeceğinden eminim.
D) Gözlüklü öğrenciler çalışkandır.



1. "Baş başa vermeyince taş yerinden kalkmaz."

Yukarıdaki atasözünde verilen toplumsal durum aşağıdakilerden hangisidir?

- A) Toplumsal roller
B) Toplumsal bilinç
C) Toplumsal dayanışma
D) Toplumsal hoşgörü

2. Türk milleti tarih boyunca kurduğu devletlerin bünyesinde farklı dinleri, mezhepleri ve etnik kökenleri barındırmıştır. Günümüzde de bu farklılıklara duyulan saygıya dair en güzel örneklerden biri Mardin ilimizdir.

Aşağıdakilerden hangisi Mardin ilindeki farklılıklara saygıyı olumsuz etkileyecek kavramlardan biridir?

- A) Hoşgörü
B) Ön yargı
C) Empati
D) Yardımlaşma

3. Bir köy veya köy topluluğu içinde işlerin el birliği ile yapılmasına imece denir.

Aşağıdakilerden hangisi imece usulünün faydalarından biridir?

- A) İnsanlar arasındaki bağlılık ve samimiyet azalır.
B) Yardım edilen kişinin ihtiyacı giderildiği için toplumsal huzur artar.
C) Toplumda birlik ve beraberlik azalır.
D) Sosyal problemler artar.

4. Bir kişiyle veya olayla ilgili önceden olumlu veya olumsuz karar verme durumuna ön yargı denir. Ön yargının diğer adı peşin hükümlü olmaktır. Bazen bazı olay veya durumlar hakkında izlenimlerimize, sezgilerimize, bilgilerimize, duygularımıza veya düşüncelerimize dayanarak ileriye dönük kestirmelerde bulunuruz. Henüz olayların başında, sonuca yönelik nelerin gerçekleşeceğine dair beklentilerimizi yansıtan cümleler kurarız. Bunlar olumlu ya da olumsuz olabilir.

Aşağıdakilerden hangisi ön yargı cümlesi değildir?

- A) Eminim bu haber gündeme bomba gibi düşecek.
B) Onun bu suçu işlediğine adım kadar eminim.
C) Sanatçının son albümü hiç tutulmayacak.
D) Derginin son sayısını çok güzel hazırlamışlar.

5. Farklılıklarımız, birbirimizi tamamlayan zenginliklerimizdir. Bu nedenle dini, dili, ırkı ve rengi ne olursa olsun herkese saygı gösterilmelidir. Demokrasinin temel şartlarından biri de farklılıklara saygı göstermektir.

Yukarıda verilen parçadan hareketle aşağıdakilerden hangisinin yanlış olduğu söylenebilir?

- A) İnsanları kendi düşüncelerimize göre yargılayabiliriz.
B) Farklılıklara saygılı olmak ve bunu zenginlik olarak görmek önemlidir.
C) Her birey saygıya değer bir varlıktır.
D) Toplumsal barışın sağlanması için herkese saygı göstermeliyiz.


6. **Faruk:** İnönü Üniversitesi Sağlık Bilimleri Fakültesi Hemşirelik Bölümü ikinci sınıf öğrencisiyim. Toplumda erkek hemşirelere hemşir denilmektedir. Ancak bu durum ara tartışılmaktadır. Sınıfımızın büyük çoğunluğu kız, erkek öğrencilerin ise sayısı az. Hemşirelik bölümünü okuduğumu düşünen bazı akrabalar bu durumu hayretle karşılıyor.

Bu olayda aşağıdakilerden hangisine yönelik kalıp yargıya değinilmiştir?

- A) Farklı dinlere
B) Farklı kültürlere
C) Farklı cinsiyetlere
D) Farklı eğitimlere



7.



Büşra: Arkadaşım karşı bankta da yer vardı, neden yanıma geldin?

Selin: Görmüyor musun? O farklı bir insan.





Büşra:

Yukarıdaki diyalogu Büşra aşağıdakilerden hangisiyle tamamlarsa Büşra'nın farklılıklara saygılı olduğu anlaşılır?

- A) Doğru söylüyorsun, onun ten rengi farklı.
- B) Olabilir. Ön yargılı olmamalıyız.
- C) Evet. O yüzden iyi ki yanıma geldin.
- D) O farklı bir ülkeden olduğu için onu yanımıza almamalıyız.

8. İş adamı olan Mehmet Bey şehit düşen askerlerimizin bakmakla yükümlü oldukları yakınları ile gazilerimize başışta bulunabileceği bir sivil toplum kuruluşuna gidecektir.

Buna göre Mehmet Bey aşağıdaki sivil toplum kuruluşlarından hangisine gitmelidir?

- A)  B) 
- C)  D) 

9. Savaş alanında yaralanan ya da hastalanan askerlere hiçbir ayırım gözetmeksizin yardım etmek amacıyla Hilâl-i Ahmer adıyla kurulmuştur.

Hakkında bilgi verilen kuruluş aşağıdakilerden hangisidir?

- A) Kızılay
- B) Darülaceze
- C) Yeşilay
- D) TEV

10. Birlik ve beraberliği anlatan sosyal bilgiler öğretmeni, öğrencilerinden toplumsal yardımlaşma ve iş birliği ile ilgili atasözü söylemelerini istemiştir.

Öğrencilerden;

Nisa: Yalnız taş duvar olmaz.

Murat: Birlikten kuvvet doğar.

Hayati: Sakla samanı gelir zamanı.

Şeyda: Bir elin nesi var iki elin sesi var.

atasözünü söylemiştir.

Buna göre yukarıdaki öğrencilerden hangisi bu konu ile ilgili olmayan atasözü söylemiştir?

- A) Şeyda
- B) Hayati
- C) Murat
- D) Nisa

11. Aşağıdaki ifadelerden hangisi ön yargıya örnek olarak verilemez?

- A) Ayça, okullarına yeni atanan sosyal bilgiler öğretmeni Murat Bey'i görür görmez onun çok sert bir öğretmen olduğunu düşündü.
- B) Metin, ilk görüşte yeni başladığı okulundaki sıra arkadaşının iyi bir çocuk olduğuna karar verdi.
- C) Annem, yan dairemize taşınan yeni komşularımız için "Pek bir havalılar, bunlarla komşuluk yapılmaz." dedi.
- D) Annem, odasını toplamayan kardeşime "Dağınık bir odaya sahip olman beni kaygılandırıyor." dedi.

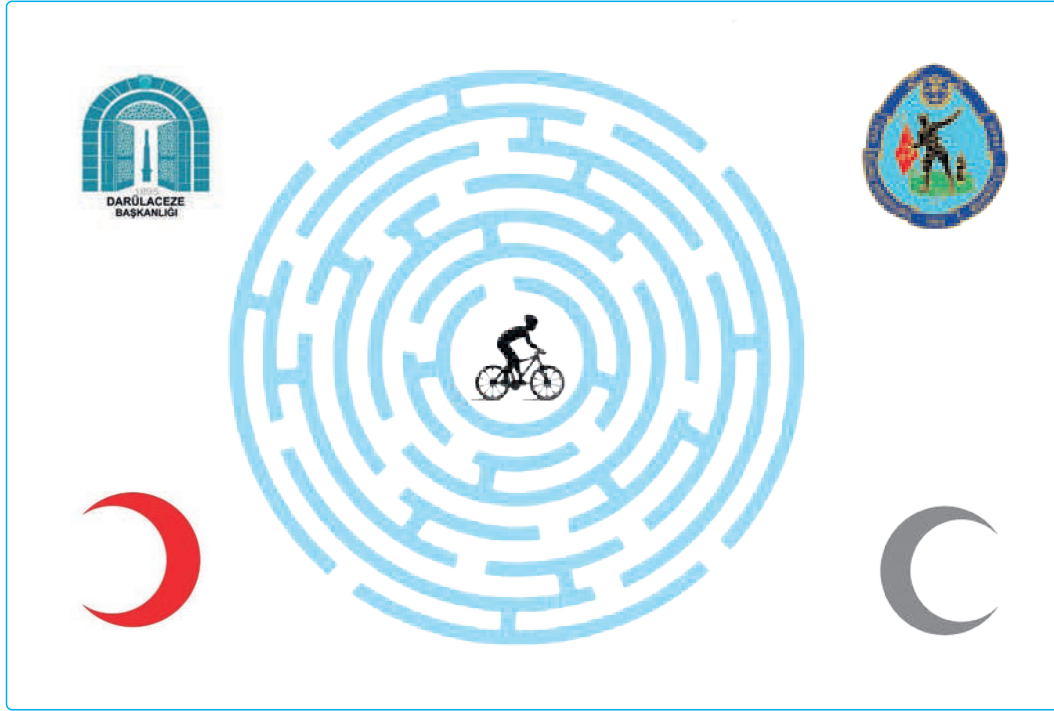
12. Antalya'da yaşanan orman yangını sırasında civardaki köylüler traktörleriyle su taşıyarak yangının söndürülmesi için canla başla çalışmışlardır. Burdur Belediyesi de yardım için itfaiye ekiplerini bölgeye göndermiştir. İzmir'deki öğrenciler ise yanan ağaçların yerine yenilerinin dikilmesi için fidan kampanyası düzenlemişlerdir.

Parçada anlatılan olay aşağıdaki kavramlardan hangisi ile ilgilidir?

- A) Kalıp yargı
- B) Irkçılık
- C) Dayanışma
- D) Ön yargı



1



Labirent içerisindeki çocuk, şehit düşen askerlerin bakmakla yükümlü oldukları yakınları ile gazilerimize başışta bulunmak için kurulmuş olan kurum veya kuruluşun olduğu çıkıştan çıkacaktır.

Buna göre çocuk hangi kurum veya kuruluşun bulunduğu çıkıştan çıkmalıdır?

A)



B)



C)



D)



2 Melis: Ben Eğitim Fakültesi öğrencisiyim. Kekemeyim. İlkokula başladığımda çok zor günler geçireceğimi ve arkadaş edinmekte zorlanacağımı düşünüyordum. Çünkü arkadaşlarımla ve öğretmenlerimle konuşurken sessiz duraksamalarım ve istemsiz tekrarlarım oluyordu. Ama düşündüğüm gibi olmadı. Arkadaşlarım ve öğretmenim Burak Bey, bana karşı her zaman anlayışla yaklaştı. Ailemin, arkadaşlarımla ve öğretmenimin desteğiyle artık kekeme değilim.

Parçadan hareketle;

- I. Melis'in arkadaşlarının ön yargılı olmadığı,
- II. farklılıklara saygı duyulduğu,
- III. farklı fiziksel özelliklerin doğal karşılanmadığı

yargılarından hangilerine ulaşılabilir?

A) Yalnız I

B) I ve II

C) II ve III

D) Yalnız III



3



Görselde verilen bilgiler değerlendirildiğinde yuvarlama kampanyasının Türkiye'de;

- I. bilinçli bir toplumun oluşmasına,
- II. toplumda dayanışma duygusunun gelişmesine,
- III. bireyler arasındaki sorumluluk duygusunun güçlenmesine,

durumlarından hangilerine katkı sağladığı söylenebilir?

- A) I ve II B) II ve III C) I ve III D) I, II ve III

4 Günümüzde; aile, komşu, arkadaşlık ve akrabalık gibi değerlere verilen önem gittikçe azalmaktadır. Bu da insanlar arasındaki etkileşimin, iletişimin özellikle de duygusal bağın azalmasına yol açmaktadır. Birbirini tanımayan, empati kuramayan ve birbirine saygı duymayan bireylerde başkalarına karşı ön yargı oluşmaktadır. Bu ön yargılar genellikle fiziksel farklılığı olan, farklı kültürden ve dinden insanlara karşı olmaktadır. Ön yargı hem bireysel hem de toplumsal bir sorundur.

Parçadan hareketle ön yargı ile ilgili;

- I. Toplumdaki birlik ve beraberliğin zayıflamasına neden olur.
- II. Bireyin insanlarla olan iletişiminin artmasına neden olur.
- III. Toplumda ayrımcılığa neden olur.

yorumlarından hangileri yapılabilir?

- A) I, II ve III B) I ve III
C) Yalnız II D) Yalnız I

5

Kübra: Atatürk Ortaokulunda okuyorum. Suriye'de başlayan olaylar nedeniyle göç edenlerden sınıfımıza gelenler oldu. İlk geldiklerinde dilimizi bile konuşamayan bu kişilerden çok hoşlanmadım. Ancak onları tanımaya başladıkça ne kadar çok sıkıntı çektiklerini ve zor durumda olduklarını anladım. Şimdi onlarla çok iyi anlaşıyorum.

Buna göre;

- I. Ön yargılar arkadaşlık ilişkilerini olumsuz yönde etkiler.
- II. Bireysel farklılıklar ön yargılara neden olabilmektedir.
- III. İnsanların birbirini daha yakından tanınması ön yargıların artmasına neden olur.

yargılarından hangilerine ulaşılabilir?

- A) I ve II B) II ve III
C) Yalnız I D) I, II ve III



1. Babasıyla birlikte alışveriş merkezine giden Enes, bir mağazada ayakkabı görüp çok beğenmiştir. Babası Ercan Bey de oğluna beğendiği ayakkabıları hediye olarak almıştır. Enes büyük bir mutlulukla ayakkabılarını giyinmiştir. Ancak iki gün sonra ayakkabının dikişlerinde açılmalar meydana gelmiştir. Enes üzgün bir şekilde durumu babasına anlatmıştır.

Buna göre bilinçli bir tüketici olan Ercan Bey;

I. Dikişleri açılan ayakkabıyı atarak oğluna yeni bir ayakkabı alır.

II. Ayakkabıyı fişiyile birlikte aldığı mağazaya götürür.

III. Ayakkabının iade alınmasını talep eder.

yukarıdakilerden hangilerini yapmaz?

- A) I ve II B) II ve III
C) Yalnız I D) Yalnız II
2. Kişilerin kendileriyle ilgili dileklerini veya devlet kurum ve kuruluşlarıyla ilgili istek ve şikâyetlerini ilgili yerlere ilemesini sağlar. Dilekçe hakkı hak arama özgürlüğünün bir yoludur. Türkiye Cumhuriyeti Devleti Anayasası'nın 74. maddesinde "Vatandaşlar ve karşılıklılık esası gözetilmek kaydıyla Türkiye'de ikâmet eden yabancılar kendileriyle veya kamu ile ilgili dilek ve şikâyetleri hakkında yetkili makamlara ve Türkiye Büyük Millet Meclisi'ne yazı ile başvurma hakkına sahiptir."

Dilekçe hakkı ile ilgili olarak aşağıda verilen bilgilerden hangisi yanlıştır?

- A) Kanunlarla güvence altına alınmıştır.
B) Dilekçe hakkı kullanılırken istekler dile getirilmektedir.
C) Hak arama yollarından biridir.
D) Ülkemizde yabancıların da dilekçe hakkı vardır.
3. **Dilek:** "Marketten çocuklarım için süt aldım. Eve geldiğimde baktım ki son kullanma tarihi geçmiş. Geri götürdüm ama bana sattıkları ürünü geri almadılar. Bu konuda nereye başvurabilirim."

Dilek Hanım'ın hakkını aramak için aşağıdakilerden hangisine başvurması en uygun olur?

- A) Tüketici Hakem Heyetine
B) Mahalle Muhtarlığına
C) Medya Kuruluşlarına
D) Belediye Başkanlığına

4. ◆ Sorunla ilgili dilekçe vermek
◆ Bakanlık hatlarını arayarak yardım istemek
◆ Sorunu görmezden gelmek
◆ Yetkili kurumlara başvurarak çözmeye çalışmak

Yukarıdakilerden kaç tanesi sorunlarımızı çözerken kullanacağımız yöntemlerdendir?

- A) 1 B) 2 C) 3 D) 4

5. Yeni aldığı kazağı yırtık çıkan Esra kazağı aldığı mağazaya geri götürmüştür.

Mağaza sorumlusu Esra'ya aşağıdaki cevaplardan hangisini verirse yanlış bir davranış sergilemiş olur?

- A) Sana başka bir kazak verelim.
B) Ödediğin ücreti sana iade edelim.
C) İstersen kazağının tamir edilmesini sağlayalım.
D) Almasaydın, sana zorla mı sattık ?

6. Devletin vatandaşın haklarını koruyabilmesi için vatandaşın da devlete karşı görev ve sorumluluklarını yerine getirmesi gerekir.

Aşağıdakilerden hangisi vatandaşın devlete karşı olan sorumluluklarından biri değildir?

- A) Seçimlerde aday olmak
B) Vergi vermek
C) Askere gitmek
D) Seçimlerde oy kullanmak

7. Anayasa'mızın 50. maddesine göre; kimse yaşına, cinsiyetine ve gücüne uymayan işlerde çalıştırılmaz. Dinlenmek çalışanların hakkıdır.

Yukarıdaki bilgilere göre aşağıdakilerden hangisi söylenebilir?

- A) Çalışma hakkı kanun ile güvence altına alınmıştır.
B) Bazı işlerde sadece erkekler çalışabilir.
C) Yaşlıların çalışmaları yasaklanmıştır.
D) Sadece zor işlerde çalışanların dinlenme hakkı vardır.



8. Anayasamızda; Türk vatandaşlarının ve Türkiye'de ikâmet eden yabancıların, dilekleri ve şikâyetleri konusunda yetkili makamlara başvuru yapma hakkının bulunduğu belirtilmiştir.

Yukarıdaki bilgiye göre çöpleri zamanında toplama-yan belediye görevlileri nasıl şikâyet edilir?

- A) Tüketici Hakları Mahkemesine başvurarak
B) Jandarmaya başvurarak
C) Belediyeye dilekçe yazarak
D) Emniyet Müdürlüğüne başvurarak

9. Zeynep, hizmet aksaklıklarından dolayı mahallesindeki yollarda çukurların oluştuğunu, kaldırım taşlarının yerinden çıktığını fark etmiştir.

Zeynep, bu aksaklıkların giderilmesi için;

- I. Tüketici Mahkemelerine
II. Belediyeye
III. Emniyet Müdürlüğüne

yukarıdaki kurumlardan hangilerine başvurmalıdır?

- A) Yalnız I
B) Yalnız II
C) II ve III
D) I, II ve III

10. Özgürlük kavramı ile ilgili olarak aşağıdaki ifadelerden hangisi yanlıştır?

- A) Herhangi bir kısıtlamaya uğramadan düşünmektir.
B) İnsanca yaşamının ön koşuludur.
C) Yapılan eylemlerin hiçbirinden sorumlu olmamaktır.
D) Kanun ve yasalarla güvence altına alınmıştır.

11. Marketten aldığı peynirin son kullanma tarihinin geçmiş olduğunu eve geldiğinde fark eden Ahmet Bey peyniri, aldığı markete geri götürmüştür. Ancak market çalışanları Ahmet Bey'in parasını iade etmemişlerdir.

Ahmet Bey'in bu durumda şikâyetinde bulunacağı kurum aşağıdakilerden hangisidir?

- A) Orman Genel Müdürlüğü
B) Tüketici Hakları Hakem Heyeti
C) Fiskobirlik Genel Müdürlüğü
D) Köy Muhtarlığı İhtiyar Heyeti

12.

- I. Anayasa ve yasalarla düzenlenen yazılı kurullarla birlikte gelenek ve görenekler, görgü kurallarına vb. yazısız kurallara uyulmadığı takdirde toplum yaşamında kargaşa meydana gelir.
II. Toplumda hakkımızı ararken gerektiğinde zor kullanmalıyız.
III. Kişi toplumda kendi hakkını savunabilmeli ve özgürce hareket edebilmelidir.

Yukarıdaki ifadelerden hangileri yanlıştır?

- A) I ve II
B) Yalnız II
C) I, II ve III
D) Yalnız III

13.



Bu akşam mağazadan pantolon aldım. Ama alışverişten sonra almayı unuttum.

Aldığın ürünü değiştirmek istersen ne olacak?



Yukarıdaki diyalogda boş bırakılan alana aşağıdakilerden hangisi yazılmalıdır?

- A) paranın üstünü
B) ürünün fişini
C) taşıyacağım poşeti
D) telefonumu

14. Kredi kartının dönem sonu hesabına bakan Hasan Bey, kartına 65 TL üyelik aidatı eklendiğini görünce Tüketici Mahkemesine başvurarak üyelik aidatının iptal edilmesini sağlamıştır.

Hasan Bey'in bu davranışı ile ilgili olarak aşağıdakilerden hangisi söylenebilir?

- A) Hakkının çiğnenmesini umursamamıştır.
B) Üzerine düşen sorumlulukları yerine getirmemiştir.
C) Hakkını yasal yollarla aramıştır.
D) Yasa üstünlüğünü kabul etmemiştir.



1.

- I. Günümüzde şehirleşmenin getirdiği toplum yapısında hak, özgürlük ve sorumluluğun önemi azalmıştır.
- II. Bireyler haklarını kullanarak ve sorumluluklarını yerine getirerek özgürce yaşayabilirler.
- III. Özgürlüklerimizi kullanırken başka insanlara saygılı olmalı, onların haklarını kullanmalarına engel olmamalıyız.
- IV. Bireyler başkalarının haklarını ve özgürlüğünü dikkate alarak sorumlu davranmalıdır.

Yukarıda verilen ifadelerden hangileri yanlıştır?

- A) Yalnız I B) I ve II
C) Yalnız III D) III ve IV

2.

- ◆ Hukukun gerektirdiği veya birine ayırdığı şey ya da kazançtır.
- ◆ Kişinin kendi davranışlarının sonuçlarını üstlenmesidir.
- ◆ Bireylerin dış etkilerden bağımsız olarak isteğine ve düşüncesine göre karar vermesidir.

Yukarıda verilen ifadelerde sırasıyla aşağıdaki kavramlardan hangilerinin tanımları yapılmıştır?

- A) Hak – Özgürlük – Sorumluluk
B) Sorumluluk – Özgürlük – Hak
C) Hak – Sorumluluk – Özgürlük
D) Sorumluluk – Hak – Özgürlük

3.

- I. Sorunun daha hızlı çözülmesi için kişileri tehdit etmek
- II. Haksızlığa uğradığımızda şiddete başvurmak
- III. İlgili kurumlara yazı ile başvurmak

Yukarıdakilerden hangileri hak arama ve sorun çözme yöntemlerinden biri değildir?

- A) I ve II B) II ve III
C) Yalnız III D) I, II ve III

4.

Bilişim ve iletişim teknolojileri kullanılarak hayata geçirilen bir halkla ilişkiler uygulamasıdır. Vatandaş ile devlet arasındaki iletişim kanallarını açık tutarak müracaatların her zaman ve her yerden yapılabilmesini mümkün kılmaktadır. Bu uygulama sayesinde devlet ile vatandaş arasındaki iletişim kanallarının tümü (elektronik mektup, faks, telefon ve şahsen) açık tutulmaktadır. Vatandaşların kendileri ve kamuya ilgili, talep, şikâyet, ihbar, görüş ve önerileri ile bilgi edinme haklarına ilişkin idari makamlara yapacakları müracaatlara cevapların hızlı ve etkin bir şekilde verilmesi amaçlanmaktadır.


Yukarıda hakkında bilgi verilen uygulama aşağıdakilerden hangisidir?

- A) BİMER B) CİMER
C) SİBER D) FİBER

5.

- ◆ Sağlık hakkı
- ◆ Seyahat ve yerleşme özgürlüğü
- ◆ Eğitim hakkı
- ◆ Özel hayatın gizliliği hakkı

Yukarıda verilen temel hak ve özgürlüklerimiz ile ilgili aşağıdaki görseller eşleştirildiğinde hangisi dışarda kalır?



6.

T.R'nin kendisine fiziksel şiddet uygulayan kişilerden şikayetçi olması sorunların çözümü ile ilgili aşağıdaki kavramlardan hangisinin kullanımına örnektir?

- A) Sorumluluk B) Özgürlük
C) Rol D) Hak



7. Sosyal bir varlık olan insan toplum hâlinde yaşar. İnsanların ortak yaşamlarını düzenleyen birtakım kurallar vardır. Bu kurallara uyulmadığı takdirde toplum yaşamında kargaşa yaşanır, rahat ve mutlu bir yaşam sürülemez. Kişi toplumda kendi hakkını savunabilmeli ve özgürce hareket edebilmelidir. Ancak başkalarının haklarını ve özgürlüğünü dikkate alarak sorumlu davranılmalıdır.

Aşağıdakilerden hangisi toplu taşıma araçlarına binme hakkını kullanan Nisa'nın sorumluluğudur?

- A) Çevreyi temiz tutmak
- B) Vergi vermek
- C) Komşuları rahatsız etmek
- D) Kurallara uymak

8. **Hak ve sorumluluk ile ilgili aşağıdakilerden hangisi söylenemez?**

- A) Hak ve sorumluluk sadece ayrıcalıklı kişiler için vardır.
- B) Sorumluluk, kişinin davranışlarını veya kendi yetki alanına giren herhangi bir olayın sonuçlarını üstlenmesidir.
- C) Bireyler, haklarını doğdukları andan itibaren kazanırlar.
- D) Hak ve sorumluluk birbirini tamamlayan kavramlardır.

9. **Haksız bir şekilde haklarımızın kısıtlandığı ve ihlal edildiği durumlarda aşağıdakilerden hangisi yaparsak sorunu demokratik bir şekilde çözmüş oluruz?**

- A) Sorunu görmezden gelmek
- B) Aynı şekilde karşılık vermek
- C) Yargı yoluna başvurmak
- D) Haksızlık yapan kişiden özür dilemek

10. Dilek Hanım yeni aldığı saç kurutma makinesinin arızalı olduğunu eve gelince fark etti.

Bu durumda Dilek Hanım'ın yapması gereken ilk davranış aşağıdakilerden hangisi olmalıdır?

- A) Üretici firmayı mahkemeye vermek
- B) Fişiyile beraber mağazaya gidip, ürünün değişimini ya da iadesini istemek
- C) Polise gidip mağazayı şikâyet etmek
- D) Tüketici Sorunları Hakem Heyetine başvurmak

11. Tüketicilerin gıda güvenilirliği ile ilgili her türlü sorunlarının çözülmesi, yetkili birimlere kolay bir şekilde ulaşılabilmesi, tüketicilere en kısa zamanda kurulan telefon hattıdır.

Yukarıda bilgisi verilen telefon hattı numarası aşağıdakilerden hangisidir?

- A) 112
- B) 175
- C) 174
- D) 182

12. Hak ve özgürlüklerimiz Anayasamız tarafından güvence altına alınmıştır. Ancak hak ve özgürlükler konusunda yerine getirmemiz gereken çeşitli sorumluluklarımız bulunmaktadır.

Buna göre aşağıdaki sorumluluklardan hangisi sağlık hakkı ile ilgilidir?

- A) Okul kurallarına uyararak sınıfı temiz tutmak
- B) Ev işlerine yardım etme
- C) Doktorun verdiği ilaçları zamanında kullanmak
- D) Çevreyi temiz tutmak



1

BÜYÜKŞEHİR BELEDİYE BAŞKANLIĞINA

BURSA

İlinizin Bahçelievler Mahallesi, İncirli Sokağı'nda ikamet etmekteyim. Gözlemediğim kadarıyla 04/01/2024 tarihinden beri mahallemizdeki çöpler toplanmamaktadır. Bu nedenle bütün mahalle kokmakta ve mahalle sakinleri bu kokudan ziyadesiyle rahatsız olmaktadır. Mahallemizdeki çöplerin toplanmasını istiyorum.

Gereğinin yapılmasını arz ederim.

Adres:

Tarih:

Adı Soyadı:

Dilekçeyi yazan kişi hakkında;

- I. Belediye başkanına karşı ön yargılıdır.
- II. Çevresel sorunlara karşı duyarlıdır.
- III. Hak ve sorumluluklarının farkındadır.

durumlarından hangileri söylenebilir?

- A) Yalnız I B) I ve II C) Yalnız II D) II ve III

- 2 Semra Hanım yeni bir bilgisayar satın almıştır. Ancak eve gelip paketini açtığı anda bilgisayarın bozuk olduğunu görmüştür. Bunun üzerine bilgisayarı faturasıyla birlikte aldığı mağazaya götürüp durumu anlatmıştır. Fakat mağaza görevlisi Fuat Bey ürünü satarken bozuk olmadığını tüketiciden kaynaklı olduğunu iddia etmiştir. Mağazanın sorunu çözmemesi üzerine Semra Hanım yaşadığı ilçenin tüketici Hakem Heyeti temsilciliğine başvurmuştur. Tüketici Hakem Heyeti, Semra Hanım'ı haklı bulmuş ve mağazanın kusurlu ürünü değiştirmesine karar vermiştir.

Buna göre Semra Hanım ile ilgili aşağıdakilerden hangisi söylenemez?

- A) Haklarını ve sorumluluklarını bilmektedir.
- B) Haksız kazanç peşindedir.
- C) Hakkını ararken kanunlara aykırı davranmamaktadır.
- D) Etkin bir vatandaşdır.

- 3 6. Sınıf öğrencisi Hakan mahallesinde bulunan yardıma muhtaç kişiler için valiliğe bu kişilere gerekli yardımların yapılmasını istemiştir.

Bu açıklamaya göre Hakan ile ilgili;

- I. Haklarını nasıl kullanacağını bilen bir bireydir.
- II. Çevresindeki sorunlara karşı duyarlıdır.
- III. İsteğini doğru kuruma kanunların belirlediği yol ile bildirmiştir.

yargılarından hangileri söylenebilir?

- A) Yalnız I B) I ve II C) I, II ve III D) Yalnız III



4

Biz Kimiz?

Herkes gibi senin de idarelerine karşı (okul, hastane, aile hekimliği, yurt, valilik, kaymakamlık, karakol, itfaiye ve belediye) yaşadığın sorunları çözmek için kurulmuş bir kurumuz.

Kamu Hizmeti: Eğitim, sağlık, ulaşım, barınma hizmeti alırken haksızlığa uğradığını mı düşünüyorsun?

Kamu Görevlileri: Öğretmen, doktor, yurt görevlisi, asker, polis ile ilgili bir sorun mu yaşadın?

kolaylıkla başvurabilirsin.

www.kdkcocuk.gov.tr



Şikâyet
Başvurusu

ÜCRETSİZ



BİZE KİMLER BAŞVURABİLİR?

Çocuklar
Gençler
Yetişkinler
Dernekler
Vakıflar

Nasıl Başvurabilirim?

İdarelerle yaşadığın ya da gördüğün bir haksızlığı paylaşmak için bize başvuru yaptığında artık bizim için "Görev Ortağımız"sın.

Bilmelisin ki bu görev yaşadığın ya da gördüğün haksızlık ile ilgili birtakım bilgileri "Kamu Denetçisi" ile paylaşman gerekli.

Hatta senin kişisel bilgilerine (İsim, soyisim, T.C. kimlik no) ihtiyacımız olacak, istersen kimliğin gizli kalacak.

Başvurularını
kdkcocuk.gov.tr
adresinden
gönderebilirsin.



Bilgilere bakılarak Kamu Denetçiliği Kurumu ile ilgili aşağıdakilerden hangisi söylenemez?

- A) Sorunlarının çözülmesine yardımcı olan bir kurumdur.
- B) Çocukların haklarını kullanmasına yardımcı olur.
- C) Başvurabilmek için bazı kişisel bilgiler gereklidir.
- D) Sadece çocuklar başvurabilir.

5

Her gün işe arabasıyla giden Derya Hanım işten geldikten sonra ailesiyle sohbet ederken yollar çok bozuk olduğu için arabasının sürekli arıza yaptığından bahsetmiştir. Bunun üzerine 6. sınıfa giden kızı Elif annesine, sosyal bilgiler dersinde dilekçe hakkını öğrendiklerinden bahsederek eğer isterse belediyeye bu konuda dilekçe yazabileceklerini söyledi. Derya Hanım kızının söylediklerini can kulağıyla dinledi ve kızının söylediklerini dikkate alarak beraber belediyeye dilekçe yazdılar. Birkaç gün sonra, Derya Hanım yolun bozuk kısımlarının onarıldığını görünce çok mutlu oldu.

Buna göre aşağıdaki yorumlardan hangisi yapılabilir?

- A) Hak ve sorumluluklarımızı bilmek hayatımızı kolaylaştırır.
- B) Derste öğrenilen bilgilerin sosyal hayata etkisi sınırlıdır.
- C) Dilekçe yamayı bilmek kişiyi toplumda ayrıcalıklı bir konuma getirir.
- D) Çözülemeyen sorunlar kişiyi güçsüzleştirir.

Aşağıdaki sorulara verilen kavramlardan uygun olanı seçerek cevap veriniz. (Not: Aynı kavram birden fazla yere yazılabilir.)

Rol, Tüketici Hakları Derneği, satıcı, Alo 112, miras, kültür, dayanışma, Alo 156, ön yargı, mesleki rol, dil, zekât, sevinç, farklılık, tarih, gelenek, yardımlaşma, sivil toplum kuruluşu, hak, anne, sorumluluk, özgürlük, şifahane, Emniyet Müdürlüğü, imaret, imece, iltica, sosyal yardım, mimari, sadaka taşı, müşteri, din, Hilal-i Ahmer, başış, Darülaceze, CİMER, dilekçe, Alo 144, ayrımcılık, millî, kalıp yargı, mülteci, evlat, saygı, sanat, Alo 122, ressam, hoşgörü

1. Bir toplumun tarihsel süreç içinde ürettiği, kuşaktan kuşağa aktardığı maddi ve manevi özelliklerin tümüne ne denir?
Cevap:
2. Bireylerin çeşitli konularda birbirlerine yardım etmesine ve ortak olarak işlerin üstesinden gelmesine ne denir?
Cevap:
3. Eğitim hayatımızı tamamladıktan sonra meslek grubunun gerektirdiği davranışlara ve kurallara uygun hareket etmeye ne denir?
Cevap:
4. Yasal olarak bireylere tanınan yetkilere verilen ad hangisidir?
Cevap:
5. Bireyin yaptığı davranışların sonuçlarını üstlenmesine ne denir?
Cevap:
6. Bir grup etkinliğinde yer alan ya da bir yerde bulunan bireylerin üstlendikleri görevlere verilen ad hangisidir?
Cevap:
7. İnsanların duygu ve düşüncelerini birbirine aktarmak için sözcükler ya da işaretler aracılığıyla kurduğu iletişime ne denir?
Cevap:
8. Milletin oluşturduğu ortak kültür mirasının geçmişten günümüze aktarılmasını sağlayan kültürel unsur hangisidir?
Cevap:
9. Bir grubun üyelerine karşı abartılan, genelleştirilen olumlu ve olumsuz değerlendirmelere ne denir?
Cevap:
10. Bir kimse veya bir olayla ilgili yeterli bilgi edinmeden geliştirilen tutumlara verilen ad hangisidir?
Cevap:
11. "Tüm Almanlar disiplinlidir." cümlesi hangi kavrama örnektir?
Cevap:
12. "Eminim ki bu işte başarılı olamazsın." cümlesi hangi kavrama örnektir?
Cevap:
13. Semra'nın istediği zaman babaannesine gitmesi hangi kavrama örnektir?
Cevap:
14. Kişilerin başkalarına zarar vermeden istediğini yapabilmesine ne denir?
Cevap:
15. Osmanlı Devleti'nde asalet ve merhametin simgesi hangisidir?
Cevap:
16. Leyla'nın yatağını topladıktan sonra kahvaltısını yapması hangisidir?
Cevap:
17. Bir topluluğu oluşturan bireylerin duygu, düşünce ve ortak amaçlarda birbirlerine karşılıklı olarak bağlanmasına ne denir?
Cevap:
18. Bir toplumun kuşaktan kuşağa aktarılan fakat yazılı olmayan kuralları, töreleri ve davranışları hangisidir?
Cevap:
19. İhtiyaç sahiplerinin yiyecek, giyecek, yakacak, tedavi, ilaç vb. ihtiyaçlarının karşılıksız temin edilmesine ne denir?
Cevap:
20. Devlet ile vatandaş arasındaki iletişim kanallarının tümünü açık tutan Cumhurbaşkanlığı İletişim Merkezi hangisidir?
Cevap:

21. Osmanlı'da Sultan II. Abdülhamit zamanında muhtaç insanlara hizmet vermek amacıyla kurulmuş hayır kurumu hangisidir?

Cevap:

22. Vatandaşların kendileriyle veya kamu ile ilgili dilek ve şikâyetleri konusunda, yetkili makamlara yazı ile başvurma hakkına ne denir?

Cevap:

23. Bir kişiye ya da gruba, belli özelliklerinden dolayı ön yargılı davranmaya ne denir?

Cevap:

24. Milletle ilgili, millete özgü olan kavram hangisidir?

Cevap:

25. İnsanların imkânlar dahilinde dayanışma anlayışıyla birbirine yardım etmesine ne denir?

Cevap:

26. Osmanlı'da ihtiyaç sahiplerine yemek dağıtmak amacıyla kurulan hayır kurumu hangisidir?

Cevap:

27. Her toplumun birbirinden ayrı özelliklere sahip bireylerden oluşmasına ne denir?

Cevap:

28. İnsanların inançlarını ve kültürel değerlerini yansıtan yapılara ne denir?

Cevap:

29. Bir kimseye, bir şeye karşı dikkatli, özenli ve ölçülü davranmaya sebep olan duygu hangisidir?

Cevap:

30. Dini, milliyeti, siyasi düşünceleri nedeniyle zulüm gören veya göreceği korkusu ve endişesi taşıyan, bu sebeple ülkesinden ayrılan/ayrılmak zorunda bırakılan kişilere ne denir?

Cevap:

31. Ahmet'in okul futbol takımına kaleci olarak seçilmesi hangi kavrama örnektir?

Cevap:

32. Kendine aykırı gelse de her şeyi anlayışla karşılayarak olabildiğince hoş görme durumuna ne denir?

Cevap:

33. Ülkemizde yaşadığımız sorunlar karşısında başvurabileceğimiz kurumlardan biri hangisidir?

Cevap:

34. Acil ve tehlike oluşturan durumlarda yetkililer ile vatandaş arasındaki irtibatı sağlamak amacıyla birden fazla olan acil çağrı numaralarını tek numara altında toplayan çağrı merkezi hangisidir?

Cevap:

35. Bazı kamusal hizmetlerin görülebilmesi amacıyla bireylerin bağışladığı her türlü para ve mülke ne denir?

Cevap:

36. Toplumdaki sorunları çözmek için gönüllü olarak bir araya gelen ve resmî kurumların dışında kalan oluşumlara ne denir?

Cevap:

37. Kişinin yeteneği doğrultusunda sahip olduğu rollerden biri hangisidir?

Cevap:

38. Kişinin hiçbir çaba harcamadan doğuştan sahip olduğu rollerden biri hangisidir?

Cevap:

39. İnsanların inançlarını özgür bir şekilde yaşadığı milli kültür ögesi hangisidir?

Cevap:

40. Evde annesine yardım eden Sıla hangi role sahiptir?

Cevap:

41. Ekmek almak için fırına giden Ali'nin rolü hangisidir?

Cevap:

42. Sosyal yardım hattı hangisidir?

Cevap:



1. "Orta Asya'da kurulan ilk Türk devleti olan Hunlar, MÖ III. yüzyılda Orhun Bölgesi ve Altay Dağları çevresine yerleştiler. Ekonomik hayatları büyük ölçüde hayvancılığa dayanıyordu. En çok at, koyun ve sığır besleyip, fazlasını satarlardı. Çin üzerindeki baskılarının artması üzerine Çinliler meşhur Çin Seddi'ni yaptılar.

Hunlar ile ilgili olarak yukarıda verilen parçada aşağıdaki sorulardan hangisinin cevabı bulunmaz?

- A) Çin Seddi'nin yapılma nedeni nedir?
 B) Hunların gelir kaynakları nelerdir?
 C) Hunlar nerede yaşamıştır?
 D) Hunların yıkılma nedenleri nelerdir?
2. İlk Türk devletleri ile ilgili aşağıda verilen bilgilerden hangisi yanlıştır?
- A) Özel mülk anlayışı ve kölelik gelişmiştir.
 B) Halk hayvancılıkla uğraşmıştır.
 C) Göçebe bir yaşam tarzı vardır.
 D) Töre adı verilen yazılı olmayan hukuk kuralları ile yönetilmiştir.

3. Çinliler komşuları Türklerin akınlarını durdurabilmek için Çin Seddi'ni inşa etmişler ancak sonuç alamamışlardır. Türk devletlerinin taht kavgalarından yararlanmışlardır. Ayrıca Türklerdeki benzer atlı askerlerden oluşan disiplinli bir ordu meydana getirmişlerdir.

Buna göre Çin ile ilgili;

- I. Ordularını oluştururken Türklerden etkilenmişlerdir.
 II. Sanata önem vermeleri Çin Seddi'ni yapmalarında etkili olmuştur.
 III. Türklerin iç karışıklıklarından yararlanmışlardır.

yargılarından hangileri söylenemez?

- A) I ve II
 B) Yalnız II
 C) II ve III
 D) I ve III

4. Türkler, ana yurtları olan Orta Asya'dan çeşitli sebeplerden dolayı batıya doğru göç etmişlerdir. Bu sebeplerden biri, komşu devletlerin Türk devletlerine baskı yapmaları ve saldırmalarıdır.

Yukarıda verilen sebep Türklerin aşağıdaki hangi yönünün ağır basmasından kaynaklanmaktadır?

- A) Teşkilatçılık
 B) Yurtseverlik
 C) Bağımsızlık
 D) Göçebelik

5. II. Kök Türk Devleti (İlteriş) Kağan tarafından Ötüken merkezli kurulmuştur.

II. Kök Türk (Kutluk) Devleti ile ilgili aşağıda verilen bilgilerden hangisi yanlıştır?

- A) Bilge Kağan Dönemi'nde en parlak dönemini yaşamıştır.
 B) Çinlilere karşı ayaklanarak bağımsızlıklarını kazanmışlardır.
 C) Yerleşik hayata geçen ilk Türk devletidir.
 D) Orhun Yazıtları en önemli eserleridir.

6. ...Dağların arasındaki düzlüğü yurt tutup burada çoğalmaya başlayan Türkler; artık bu dağ ve ormanlıklar içine sığmaz ve yaşayamaz hâle geldiler. Dağlar arasındaki tek geçitten geçmek de yine çok zordu. Hepsi bir araya gelip bu dar geçitten nasıl geçeceklerini düşündüler ve kurtuluş için bir yol aradılar. Hemen bu geçitte bir demir madeni vardı. Bu madeni işletir ve eriterek demir hâline getirirlerdi. Başka bir yol bulamayınca bu demir kapıyı eritip oradan çıkmaya karar verdiler. Hepsi bir araya gelip ormandan odunlar topladılar ve eşeklerle, yük yük kömürler getirdiler. Ayrıca da körükler yaptılar. Bu körükleri yapmak için de yetmiş baş at ve öküz kestiler. Bunların derilerini soyup kullanılacak hâle getirdiler. Topladıkları dağ gibi odun ve kömürleri geçidin önüne yığdılar. Körükleri, öyle dizdiler ki ateş yanıp da körükler üflenmeye başlayınca dağ hemen eriyip delinecekti. En sonunda ateşler yandı, körükler işledi ve geçit de eriyip parçalandı. Nihayet, Türkler... bütün dünyaya yayıldılar.

Yukarıda bir bölümü verilen parça hangi destandan alınmıştır?

- A) Ergenekon Destanı
 B) Oğuz Kağan Destanı
 C) Türeyiş Destanı
 D) Bozkurt Destanı



7. Asya Hun Devleti Hükümdarı Mete Han, orduyu onlu sisteme göre oluşturmuştur. Mete Han'ın geliştirmiş olduğu bu onlu sistem günümüze kadar birçok devlet tarafından kullanılmıştır.

Buna göre;

- I. Türklerin hâkimiyet alanını arttırdığı,
- II. askeri teşkilatlanmaya gidildiği,
- III. Türklerin diğer devletleri askeri alanda etkilediği

yukarıdakilerden hangilerine ulaşılabilir?

- A) I, II ve III B) I ve II
C) II ve III D) Yalnız III

8. Türkler Orta Asya'da yaşamışlardır. Orta Asya'da sert karasal bir iklim etkili olmuş ve bozkırlar geniş yer kaplamıştır.

Buna göre;

- I. konargöçer bir yaşam sürdürmeleri,
- II. hayvancılığın temel ekonomik faaliyetleri olmaları,
- III. deniz ticaretinde geliştirmeleri

yukarıdakilerden hangileri coğrafi şartların Türklerin yaşamı üzerinde etkisi olduğunu gösterir?

- A) Yalnız I B) I ve II
C) Yalnız III D) II ve III

9. Asya'da Aral Gölü ile Hazar Denizi arasında yaşayan Hunların 4 ve 6. yüzyıllar arasında Avrupa'ya giderken karşılarına çıkan barbar Avrupa kavimlerini yerlerinden etmesi sonucunda meydana gelen büyük göç dalgasına Kavimler Göçü denilmektedir.

Aşağıdakilerden hangisi Kavimler Göçü'nün sonuçlarından biri değildir?

- A) Orta Çağ sona erdi, Yakın Çağ başladı.
B) Avrupa'da feodalite (derebeylik) rejimi ortaya çıktı.
C) Roma İmparatorluğu Doğu ve Batı diye ikiye ayrıldı.
D) Avrupa devletlerinin temelleri atıldı.

10.

- ◆ Tarihte Türk adıyla kurulan ilk Türk devletidir.
- ◆ Bumin Kağan tarafından 552 yılında Ötüken merkezli kurulmuştur.
- ◆ Devlet en parlak dönemini Mukan Kağan Dönemi'nde yaşamıştır.

Yukarıda özellikleri verilen devlet aşağıdakilerden hangisidir?

- A) Asya Hun Devleti B) Uygurlar
C) I.Kök Türkler D) Avarlar

11. Asya Hun Devleti'nin yaşamış olduğu yerleşim alanlarında yapılan kazılarda sulama kanallarına, dokuma parçalarına ve silahlara rastlanmıştır.

Buna göre Asya Hunları ile ilgili;

- I. Tarımsal faaliyetlerde bulunmuşlardır.
- II. Hayvancılıkla uğraşmışlardır.
- III. Çok tanrılı dinlere inanmışlardır.

yargularından hangilerine ulaşamaz?

- A) I, II ve III B) I ve II
C) Yalnız II D) Yalnız III

12. Orta Asya Türk devletlerinin kısa sürede yıkılmalarının temel nedeni aşağıdakilerden hangisidir?

- A) Çin ve Moğol devletine komşu olması
B) Göçebe yaşam tarzını benimsemeleri
C) Devletin hükümdar ailesinin ortak malı olması
D) Askerlerin sadece ok, yay ve mızrak kullanmaları



1. Uygurlar; Kök Türk, Soğd ve Uygur gibi alfabeler kullanmışlardır. Kitaplarını da kaput üzerine basıp yazıyorlardı. Hareketli Uygur harfleriyle kitap basmayı gerçekleştiren ilk uygarlık onlardır. Yerleşik hayata geçen Uygurlar, mimari alanında çok fazla eser bıraktılar. Uygurları Orta Asya'daki diğer Türk devletlerinden ayıran en temel özellik Uygurların yerleşik hayata geçmiş olmalarıdır.

Buna göre Uygurlar hakkında aşağıda verilen bilgilerden hangisi doğru değildir?

- A) Kültürel alanda çalışmalar yapmışlardır.
B) Kitap basan ilk uygarlıktır.
C) Farklı alfabeler kullanmışlardır.
D) Yazı kültürü gelişmemiştir.

2.

- I. Türkler göçebe bir yaşam tarzı benimsedikleri için yazın yaylalarda, kışın kışlaklarda yaşarlardı.
II. Yaşam biçimlerini anlatan savlar, ölenler için söylenen sagular, koşuk adı verilen şiirler ve meşhur destanlar vardır.
III. Ekonomik yaşamın temelini tarım oluşturuyordu.
IV. Başlıca silahlar ok, yay, kılıç, mızrak, kalkan ve gürzdür.

İlk Türk devletleri ile ilgili yukarıda verilen bilgilerden hangileri yanlıştır?

- A) I ve II
B) II ve IV
C) III ve IV
D) Yalnız III

3.

Uygurların Özellikleri	
◆	Mani dinini benimsemişlerdir.
◆	Başkenti Karabalgasun'dur.
◆	?

Yukarıdaki tabloda boş bırakılan yere aşağıdakilerden hangisi yazılamaz?

- A) Mimari alanda gelişme göstererek tapınak ve saraylar inşa etmişlerdir.
B) Yerleşik hayatı benimseyen ilk Türk devletidir.
C) Savaşçılık özellikleriyle ön plana çıkmışlardır.
D) Tarım ile uğraşmışlardır.

4. **Uygur Devleti ile ilgili aşağıda verilen bilgilerden hangisi yanlıştır?**

- A) Orta Asya'da bilinen ilk Türk devletidir.
B) Çinlilerden öğrendikleri kâğıt ve matbaayı kullanmışlardır.
C) 18 harfli Türk alfabesini kullanmışlardır.
D) Uygur Devleti'nin ilk hükümdarı Kutluk Bilge Kül Kağan'dır.

5.

- I. Din adamlarına şaman, kam ya da baksı denilirdi.
II. Devlet hanedanının ortak malı kabul edildiği için sürekli taht kavgaları yaşanırdı.
III. Sadece Gök Tanrı dinini benimsemişlerdir.
IV. Ölen kişi kıymetli eşyalarıyla beraber kurgan adı verilen mezarlara gömülürdü.

İlk Türk devletleri ile ilgili yukarıda verilen bilgilerden hangisi yanlıştır?

- A) III
B) I
C) IV
D) II

6. Türklerin ana yurdu Orta Asya'dır. Orta Asya'da kurulan ilk Türk devletlerinde bozkır kültürü coğrafyanın etkisiyle şekillenmiş ve konargöçer bir yaşam tarzı görülmüştür. Hayvancılık en önemli geçim kaynaklarıdır. Sözlü edebiyat da çok gelişmiştir.

Yukarıda ilk Türk devletlerinin hangi alandaki özelliklerinden bahsedilmemiştir?

- A) Kültürel
B) Dini
C) Ekonomik
D) Coğrafi



7. Orta Asya'da Türk devletleri çadırlarda yaşarlardı. Göçebe olan Türk devletleri yazın yaylalarda, kışın da kışlaklarda yaşamışlardır.

Bu yaşam biçiminin sebebi aşağıdakilerden hangisidir?

- A) Hayvancılık için elverişli ortam bulmak istemeleri
B) Gök Tanrı dininin etkisi
C) Dış baskıların artması
D) Çin saldırılarına karşı korunmak istemeleri

8. Türklerin göçebe bir yaşam tarzının benimsemesinin aşağıdakilerden hangisinin üzerinde etkisinin olduğu söylenemez?

- A) Eşyaların taşınabilir malzemelerden yapılmasında
B) Hayvancılık faaliyetleriyle uğraşılmasında
C) Yazılı hukuk kurallarının gelişmesinde
D) Türklerin daha çevik olmasında

9. Uygurlardan önce Orta Asya'da kurulan Türk devletleri döneminde saray, tapınak ve şehir mimarisi gibi alanlarda gelişmelerin yaşanmadığı görülmektedir.

Bu durumun aşağıdakilerden hangisinden kaynaklandığı söylenebilir?

- A) Tek tanrılı inanç sisteminden
B) Göçebe hayat tarzından
C) Geniş bir alana yayılmalarından
D) Ticari faaliyetlerde bulunmalarından

10. Bozkır ikliminin getirdiği zorlu koşullardan kaynaklanan birtakım sebeplerden dolayı savaşçı bir toplum özelliğine sahip olan Türklerde askerlik bir meslek değil yaşam biçimidir. Kadın – erkek, yaşlı–genç herkes her an savaşabilecek durumda bulunuyordu.

Buna göre Türkler ile ilgili;

- I. Geniş bir coğrafyaya yayılmışlardır.
II. Ordu – millet anlayışına sahiptirler.
III. Türk ordu teşkilatı diğer milletlere örnek olmuştur.

yargılarından hangileri söylenebilir?

- A) I, II ve III
B) I ve II
C) II ve III
D) Yalnız II

11. Türkler, bir yılı 365 güne yakın hesaplamış ve günümüzdeki hesaplamaya çok yakın bir değer bulmuşlardır. Yağılan çalışmalar sonucu 12 Hayvanlı Türk takvimini bulmuşlardır.

Buna göre Türkler ile ilgili olarak aşağıdaki yorumlardan hangisi yapılamaz?

- A) Astronomi ile uğraşmışlardır.
B) Bilimsel çalışmalara ilgi duymuşlardır.
C) Sadece gök bilimi ile ilgili araştırmalar yapmışlardır.
D) Günümüz bilimsel çalışmalarına temel oluşturmuşlardır.

12. İlk Türk devletlerinde hükümdarlar, ülkeyi töre denilen yazısız hukuk kurallarına göre yönetirlerdi. Devlet yapısında hukukun üstünlüğü hâkimdi.

Hukuk kuralları ilk kez aşağıdaki devletlerden hangisinin zamanında yazılı hâle getirilmiştir?

- A) I. Kök Türk Devleti
B) Asya Hun Devleti
C) Kutluk Devleti
D) Uygur Devleti



1.

- I. Hayvancılık faaliyetleri ile uğraşmaları
- II. Farklı dinlere inanmaları
- III. Tekerleği bulup atı evcilleştirmeleri
- IV. Sözlü edebiyat geleneğini devam ettirmeleri

Yukarıdakilerden hangileri Türklerin kısa sürede geniş alanlara yayılmasında etkili olmuştur?

- A) Yalnız I
B) I ve II
C) Yalnız III
D) II, III ve IV

2.

- I. Minyatür sanatında ileri giderek Türk-İslam sanatına kaynaklık etmişlerdir.
- II. Tarihte bilinen 28 harfli ikinci Türk alfabesi olan Uygur Alfabesi'ni kullanmışlardır.
- III. Kâğıt ve matbaayı Çinlilerden öğrenip kullanmışlardır.
- IV. Ekonomi alanında sadece tarımla uğraşmışlardır.

Uygurlarla ilgili yukarıda verilen bilgilerden hangileri yanlıştır?

- A) Yalnız I
B) II ve IV
C) Yalnız III
D) III ve IV

3.

- I. Önemli meseleler Kurultay'da görüşülür son sözü hakan söylerdi.
- II. Ölen kişinin arkasından sagu adı verilen cenaze töreni yapılırdı.
- III. Mezarların etrafına ölen kişinin öldürdüğü düşman sayısı kadar balbal dikilirdi.
- IV. Ölümden sonra hayatın devam ettiğine inanılırdı.

İlk Türk devletleri ile ilgili yukarıda verilen bilgilerden hangileri yanlıştır?

- A) I ve II
B) Yalnız II
C) III ve IV
D) Yalnız IV

4.

- ◆ Teoman kurulan bu devletin hükümdarıdır.
- ◆ Merkezi Orhun ve Selenga ırmakları arasında bulunan Ötüken'dir.
- ◆ Çin entrikaları sonucu başlayan taht kavgaları devleti zayıflatmıştır.

Yukarıda hakkında bilgi verilen Orta Asya Türk devleti aşağıdakilerden hangisidir?

- A) Avrupa Hun
B) I. Köktürk
C) Asya Hun
D) II. Köktürk

5. Aşağıdakilerden hangisi Asya Hun İmparatoru Mete Han'ın Türkler arasında birlik ve beraberliği sağladığını gösterir?

- A) Türk boylarını bir bayrak altında toplaması
B) Çinlilerle İpek Yolu için mücadele etmesi
C) Orduda ilk defa onlu sistemi kurması
D) Çin topraklarının büyük kısmını ele geçirmesi

6. Uygur hükümdarı Böğü Kağan Dönemi'nde Çin'e yapılan sefer sonrasında Böğü Kağan devletin resmi dinini mani dini olarak kabul etti. Uygurlar bu dinin etkisiyle de bir müddet sonra yerleşik hayata geçti.

Buna göre Uygurlar ile ilgili;

- I. diğer dini inançlarını tamamıyla terk ettikleri,
- II. göçebe yaşamı terk ettikleri,
- III. çevre uygarlıklardan etkilendikleri

yukarıdakilerden hangilerine ulaşılabilir?

- A) I, II ve III
B) II ve III
C) Yalnız I
D) Yalnız II



7.

- I. Bilge Kağan
- II. Mukan Kağan
- III. Kültigin
- IV. Vezir Tonyukuk

Orhun Abideleri yukarıdaki kişilerden hangilerinin adına dikilmiştir?

- A) Yalnız I B) II ve III
C) I, III ve IV D) III ve IV

8. Türkler ilk çağlardan günümüze kadar çok sayıda devlet kurmuşlardır.

Bu durum Türklerin;

- I. Gök Tanrı'ya inanmaları,
- II. teşkilatçı yapıya sahip olmaları,
- III. göçebelikten yerleşik hayata geçmeleri,
- IV. Orta Asya'da hüküm sürmeleri

özelliklerinin hangisinden kaynaklandığı söylenebilir?

- A) I B) II C) III D) IV

9. Orta Asya'da yaşayan ilk Türk devletleriyle ilgili aşağıda verilen bilgilerden hangisi yanlıştır?

- A) Toplumun en küçük parçası aile idi.
B) Kadın hem devlet yönetiminde hem de sosyal hayatta önemli bir role sahiptir.
C) Devlet yapısında hukukun üstünlüğü hakimdir.
D) Türkler başka bir devletin egemenliği altında yaşamayı istemişlerdir.

10. İlk Türk devletlerinin devlet yönetim yapısı ile ilgili aşağıda verilen bilgilerden hangisi yanlıştır?

- A) Kağanı halk seçer.
B) Kağan tanrıdan kut alarak ülkeyi yönetir.
C) Ülke doğu ve batı olmak üzere ikiye ayrılırdı.
D) Kurultay (toy, kengeş) adı verilen danışma meclisi vardı.

11.

- I. Boylar arasında mücadelelerin yaşanması
- II. Otlakların yetersiz kalması
- III. Çin entrikaları
- IV. Yeni yurtlar edinme düşüncesi

Yukarıdakilerden hangileri Orta Asya'dan yapılan Türk göçlerinin ekonomik nedenlerinden biridir?

- A) I ve II B) Yalnız II
C) II ve III D) III ve IV

12. Mete Han Dönemi'nde Çinlilerle İpek Yolu hâkimiyeti için savaşlar yapıldı. Mete Han Çin'e karşı askeri açıdan büyük bir üstünlük sağlamışsa da Türk boylarının Çin'e yerleşmesini yasaklamıştır. Mete Han'ın Çin'e karşı izlemiş olduğu politika şu şekildedir: Çin dışarıdan baskı altında tutulacak, vergiye bağlanacak ancak Çin'e yerleşilmeyecekti.

Mete Han'ın bu tutumunun nedeni aşağıdakilerden hangisidir?

- A) Eşinin Çinli bir prenses olması
B) Türklerin Çinlilerden nefret etmesi
C) Türklerin millî benliğini kaybetmesinden korkması
D) Diğer Türk devletlerinin istememesi



1 Çin imparatoru, Asya Hun Devleti'nin hükümdarı olan Mete Han'a gönderdiği mektupta, ondan en iyi atını ve kılıcını kendisine göndermesini istemiştir. Mete Han bunun üzerine Kurultay'ı toplayarak ne yapması gerektiğini danışmıştır. Kurultay'a katılan vezir ve boy beyleri at ve kılıcın Türk töresinde kutsal kabul edildiğini bu sebeple göndermemesini önermişlerdir. Mete Han Kurultay'da alınan karara uymamış ve Çin imparatoruna atını ve kılıcını göndermiştir. Asıl amacı savaş çıkarmak olan imparator bu duruma pek sevinmemiş ama Türklere siyasi üstünlük kurduğunu düşünerek teselli olmuştur. Bu olaydan birkaç ay sonra Çin imparatoru, Mete Han'dan sınırlarına yakın küçük bir toprak parçasını ülkesine bağışlamasını istemiştir. Mete Han tekrar Kurultay'ı toplamış ve danışmıştır. Vezir ve boy beyleri bu sefer küçük bir toprak parçası için savaş çıkmasın diye toprağın verilmesini önermiştir. Mete Han bu duruma çok kızmış "Asıl kutsal olan vatan toprağıdır. Kılıç ve at benim malımdır ancak toprak milletimindir ve bana düşen emanete en iyi şekilde sahip çıkmaktır." diyerek Kurultay'ın aldığı karara uymamıştır. Gönderdiği mektupla Çin İmparatorluğu'na savaş ilan etmiştir.

Buna göre Mete Han ile ilgili aşağıdakilerden hangisi söylenebilir?

- A) Vatan toprağını bağımsızlıkla eş tutmuştur.
- B) Kurultay üzerindeki herhangi bir gücü kalmamıştır.
- C) Çin'e karşı her zaman savaş politikası yürütülmüştür.
- D) Türk töresine karşı gelmiştir.

2 Bizanslı elçi Zemarkhas ziyaret ettiği Kök Türk kağanı için şunları söylemiştir: "Türk beyi beni önce ipeklerle süslenmiş bir çadırdaki karşılamıştı. Çadırın içinde çeşitli madenlerden yapılmış heykelcikler, altın sürahi ve köşeleri altınlarla çevrili bir döşek vardı. Beyin başka bir çadırında da direkleri altın kaplama ve kuş figürleriyle süslü ortada ayakları altından olan bir taht bulunuyordu. Yine bir merasimde atlar tarafından çekilen altın bir taht üzerine oturmuştu."

Buna göre Kök Türkler hakkında aşağıda verilen bilgilerden hangisi doğru değildir?

- A) Göçebe bir hayat yaşadıkları
- B) Heykel sanatının geliştiği
- C) Ekonomik açıdan güçlü olmadıkları
- D) Bizans ile siyasi ilişki kurdukları

3 Ben Bilge Kağan. Bu sözüümü iyice işitin. Doğuda gün doğusuna, güneyde gün ortasına, batıda gün batısına, kuzeyde gece ortasına kadar onun içindeki millet hep bana bağlıdır. Bunca milleti hep düzene soktum. Doğuda Şantung Ovası'na kadar ordu sevk ettim. Denize ulaşmama az kaldı. Çin milleti ile anlaştım. Altını, gümüşü, ipeği bize veriyorlar. Çin milletinin sözü tatlı, ipek kumaşı yumuşak. Tatlı sözle, yumuşak ipek kumaşla uzak milletleri aldatıp kendine yaklaştırır sonra da kötü şeyler düşünürmüş. Beyleri, milleti ahenksiz olduğu için, Çin milleti hilekâr ve sahtekâr olduğu için, aldatıcı olduğu için, küçük kardeş ve büyük kardeşi birbirine düşürdüğü için, bey ve milleti karşılıklı çekiştiği için Türk milleti il yaptığı ilini elden çıkarmış. Türk beyleri Türk adını bırakmış.

Bilge Kağan'ın yukarıdaki açıklamalarından aşağıdaki çıkarımlardan hangisine ulaşamaz?

- A) Devletin geniş sınırlara ulaştığı
- B) Çin'in vergiye bağlandığı
- C) Türklerin her zaman Çinlilere üstünlük kurduğu
- D) Türk beylerinin birbirleriyle mücadelesinin devlet olma özelliğini kaybetmeye neden olduğu

4 Kök Türk Devleti ile ilgili bilgilere Çin kaynaklarında da rastlanmaktadır. Çin kaynaklarında Kök Türklerle ilgili yer alan bazı bilgiler şunlardır:

- ◆ "627 yılında Kök Türk ülkesinde çok kar yağmıştır. Bu yüzden koyunların ve atların büyük bir kısmı telef olmuştur."
- ◆ "685 yılında Oğuzların ülkesinde büyük bir kuraklık meydana gelmiştir. Bu yüzden atların ve sığırların onda yedisi veya sekizi ölmüştür. Oğuzlar, ot kökü yemek zorunda kalmıştır."

Bu bilgilerden hareketle Kök Türkler ile ilgili;

- I. temel geçim kaynaklarının hayvancılık olduğu,
- II. iklim koşullarının hayat şartları üzerinde etkili olduğu,
- III. tek geçim kaynaklarının tarım olduğu

yargılarından hangilerine ulaşılabilir?

- A) I ve II
- B) Yalnız III
- C) Yalnız I
- D) I, II ve III



5 Asya Hun Devleti'nin yıkılmasından sonra göç eden Hunlar Kavimler Göçü'nü başlatmıştır. Kavimler Göçü sonucunda yaşanan gelişmelerden bazıları şunlardır:

- ◆ Avrupa Hun Devleti kuruldu.
- ◆ Avrupa'da feodalite (derebeylik) rejimi ortaya çıktı.
- ◆ Avrupa'da, günümüzde yaşayan milletler oluştu. (İspanyollar, İngilizler)
- ◆ İlk Çağ sona erdi, Orta Çağ başladı.

Buna göre Kavimler Göçü ile ilgili aşağıda verilen bilgilerden hangisi yanlıştır?

- A) Çeşitli milletlerin ortaya çıkmasını sağlamıştır.
- B) Avrupa'da krallıkların güçlenmesini sağlamıştır.
- C) Evrensel sonuçlar doğurmuştur.
- D) Avrupa'da siyasi hayatın değişmesine neden olmuştur.

6 "Tarihte Türk adını taşıyan ilk devleti kuran Kök Türkler, Altay Dağları'nın doğusunda yaşıyorlardı. Bumin Kağan tarafından 552 yılında kurulan Kök Türk Devleti'nin merkezi Ötüken'di. Bumin Kağan doğunun yönetiminden, kardeşi İstemi Yabgu ise batının yönetiminden sorumluydu. Bumin Kağan ölünce yerine oğlu Mukan Kağan geçti. Bu dönemde devlet güçlendi. Çin üzerinde üstünlük kuruldu.

Kök Türkler ile ilgili yukarıdaki parçada aşağıdaki sorulardan hangisinin cevabı bulunmaz?

- A) Bumin Kağan kim tarafından seçilmiştir?
- B) Devlet nasıl yönetilmiştir?
- C) Kök Türkler nerede yaşamıştır?
- D) Devletin başkenti neresidir?

7 Masmavi gökyüzünün örttüğü Avrasya'da Türkler, sayısız maceralar yaşadılar. Ekonomik ve siyasi sebeplerden dolayı bilinmeyen ufuklara doğru göç etmek zorunda kaldılar. Zorlandıkları anda sığındıkları "Gök" idi. Türkler mavi gökyüzünün altında devamlı mücadele ile geçen bir hayat sürdürdüler. Uçsuz bucaksız bozkırda yaşayan bir Türk için gökyüzü birbirini tamamlayan nesnelere dönüşüyordu. Gök aynı zamanda Türk'ün bütün evrenini çevreleyen çadır gibiydi. Gök kubbede karanlığı kovan güneş, ay ve yıldızlar vardı. O yüzden inandıkları yaratıcıya "Gök Tanrı" adını verdiler. Kök Türk Yazıtları'nda Bilge Kağan "Tanrı beni kağan olarak oturttu." diyerek bize Gök Tanrı inancı hakkında ipuçları verir. Türklere göre tanrı, mutlak güç sahibi, ulu ya da yüksek ve sonsuzdur.

Yukarıdaki paragraftan aşağıdakilerden hangisi çıkarılamaz?

- A) Türklerin zor zamanlarda Gök Tanrı'ya sığındıkları
- B) Türklerin gökyüzünü kendilerine yol gösterici olarak gördükleri
- C) Türklerde hükümdarlığın ilahi kaynaklı olduğu
- D) Türklerin tek bir tanrıya inandığı



1



İlk Türk devletlerinde siyasi, askeri, ekonomik, sosyal ve kültürel konuların konuşulup karara varıldığı meclise Toy ya da Kurultay denilirdi. Türklerde Kurultay küçük ve büyük olmak üzere iki şekilde toplanırdı. Devletten devlete farklılık göstermekle beraber Kurultay'ın aldığı kararlar genellikle bağlayıcı nitelikteydi. Kağan Kurultay'ın kararlarını dikkate almak zorundaydı. Alınan kararlara uymazsa ortaya çıkan sonuçlardan sorumlu tutulurdu. Hatun, kağanın eşiydi. Kurultay'da kağanın yanında oturur, kağan olmadığı zaman Kurultay'a başkanlık ederdi.

Yukarıdaki metin ve görsel değerlendirildiğinde aşağıdakilerden hangisine ulaşamaz?

- A) Kağan olacak kişinin Kurultay tarafından belirlendiğine
- B) Türklerde kadınların yönetimde söz sahibi olduğuna
- C) Kurultay'ın Türklerde demokratik uygulamaların olduğunu gösterdiğine
- D) Kurultay'da devletle ilgili farklı alanlarda konuların görüşüldüğüne

2

UYGURLARIN YAŞAMI

Uygurlar kış gelince Turfan'a gelip otururlar ve bahar gelince de Karabalgasun şehrine göç ederlerdi. Uygurların başkenti olan Karabalgasun, aynı zamanda bir ilim ve sanat merkeziydi. Turfan şehri ticaret yollarının kesiştiği bir merkez olması bakımından önemliydi. Bundan dolayı birçok yabancı tüccar ve ticaret kolonileri vardı. Kervan işletmek, tüccarları kontrol ederek vergi almak onları zenginleştiriyordu. Ayrıca türlü milletten insanlarla karşılaşarak onların dillerini de öğrenden Uygurların, dünya görüşleri de geliyordu. Uygurların, mani ve buda dini hakkındaki bilgileri Çinlilerden çoktu.

Parçaya göre Uygurlar ile ilgili;

- I. hayat şartları üzerinde iklimin etkili olduğu,
- II. ekonomisinin geliştiği,
- III. kültür ve medeniyette ilerleme gösterdiği

yargılarından hangilerine ulaşılabilir?

- A) Yalnız I
- B) I ve II
- C) Yalnız III
- D) I, II ve III



- 3 Orhun Kitabeleri'nde Bilge Kağan ile ilgili "Tanrı buyurduğu için, talihim ve kısmetim olduğu için ölecek halkı diriltip besledim, sırtı açıkta olan halkı giydirdim, yoksul halkı zengin ettim." ifadesi yer almaktadır.

Bilge Kağan'ın bu ifadesi Türklerin;

- I. göçebe bir yaşam tarzını benimsedikleri,
- II. sosyal devlet anlayışına sahip oldukları,
- III. hükümdarları zengin kişilerden seçtikleri

özelliklerinden hangilerini kanıtlar niteliktedir?

- A) Yalnız I B) I ve II
C) Yalnız II D) I, II ve III

- 4 Mete Han Asya Hun Devleti'nin başında iken Çin'de yaşanan iç karışıklıklardan yararlanarak yaptığı seferlerde Çin'i mağlup ederek vergiye bağlamış ve İpek Yolu'nu denetimi altına almıştır.

Buna göre;

- I. Asya Hun Devleti ekonomik yönden güç kazanmıştır.
- II. Çin, Asya Hun Devleti'nin siyasi üstünlüğünü kabul etmiştir.
- III. Çinliler Türklerle bir daha mücadeleye girememiştir.

yargılarından hangilerine ulaşılabilir?

- A) I ve II B) II ve III
C) Yalnız III D) I, II ve III

- 5 Mete Han Hun Devleti'ne en parlak dönemini yaşattı. MÖ 174 yılında öldüğünde Hun Devleti çağının gelişmiş devletlerinden biriydi. Taht kavgaları artınca devlet, doğu ve batı olmak üzere ikiye bölündü. Batı Hunlar yıkılırken Doğu Hunları, Çin egemenliği altına girdi. Doğu Hunları, zaman zaman bağımsızlık mücadelesine girdi ancak başarılı olamadı.

Verilen paragrafta;

- I. Hun Devleti'nin ikiye bölünmesinin nedeni nedir?
- II. Hun Devleti en parlak dönemini hangi hükümdar zamanında yaşamıştır?
- III. Doğu Hunları'nın bağımsızlık mücadelesinde başarılı olamamalarının nedenleri nelerdir?

sorularından hangilerinin cevabı bulunur?

- A) I ve II B) II ve III
C) Yalnız II D) Yalnız III

- 6 "Türkler, on beş yüzyıl önce Asya'nın göbeğinde çok büyük devletler kurmuş ve insanlığın her türlü kabiliyetlerine belirti olmuş birer unsurdur. Elçilerini Çin'e gönderen ve Bizans'ın elçilerini kabul eden bir Türk devleti ecdadımız olan Türk milletinin kurduğu bir devlet idi."

Atatürk'ün Kök Türklerle ilgili söylediği bu sözlerinden aşağıdaki sonuçlardan hangisi çıkarılamaz?

- A) Türklerin tarihinin çok eskilere dayandığı
B) Doğudaki ve batıdaki devletlerle diplomatik ilişkilerin bulunduğu
C) Türklerin köklü ve zengin bir kültüre sahip olduğu
D) Kök Türklerin bilinen ilk büyük Türk devleti sayıldığı

- 7 Orta Asya'da kurulan ilk Türk devleti olan Asya Hun Devleti en parlak zamanını Mete Han Dönemi'nde yaşamıştır.

Mete Han Dönemi'nde;

- ◆ İpek Yolu hakimiyeti sağlanmış,
- ◆ Ordu, onlu sisteme göre düzenlenmiş,
- ◆ Türk beyleri ilk defa tek bayrak altında toplanmıştır.

Yaşanan bu gelişmeler aşağıdakilerden hangisinin göstergesi değildir?

- A) Ekonomi alanında güçlenilmeye başlandığının
B) Yerleşik hayatın benimsendiğinin
C) Güçlü bir ordu teşkilatının kurulduğunun
D) Teşkilatlanma alanında çalışmaların yapıldığının

- 8 Büyük Hun Devleti'nin MS. 48'de Kuzey ve Güney Hunlar diye ikiye ayrılmasından sonra Çin hakimiyetine girmek istemeyen Kuzey Hunlar, batıya göç ederek burada Avrupa Hun Devleti'ni kurmuşlardır.

Buna göre Türkler ile ilgili;

- I. Yerleşik hayata geçtikleri,
- II. bağımsızlıklarına düşkün oldukları,
- III. yaşam biçimini değiştirdikleri

yukarıdakilerden hangileri söylenebilir?

- A) Yalnız I B) Yalnız II
C) I ve II D) II ve III



1.

- I. Hicret, bir yerden başka bir yere yer değiştirmek yani göç etmek demektir.
- II. Arap Yarımadası'nda göçebe hayat süren insanlara medeni adı verilirdi.
- III. Arabistan Yarımadası'nda şehirlerde yaşayan insanlar tarım ve ticaretle uğraşırlardı.
- IV. Arap Yarımadası'nda bedeviler hayvancılıkla uğraşırlardı.

Yukarıda verilen bilgilerden hangileri yanlıştır?

- A) I ve II B) Yalnız II
C) III ve IV D) Yalnız IV

2.

Mekke müşriklerinin çoğunun daha önce "Muhammed-ül Emin (güvenilir)" lakabını taktıkları Hz. Muhammed'in (sav.) İslam çağrısına olumlu karşılık vermeme-lerinin nedeni Hz. Muhammed'in (sav.) getirmiş olduğu dine inanmak istememeleri değil İslam dininin mevcut düzenlerine de köklü değişiklikler getirmiş olmasıdır.

Aşağıdakilerden hangisi İslamiyet ile birlikte gelen değişimlerden biri değildir?

- A) Kan davaları yasaklanmıştır.
- B) Putlara tapma geleneği kaldırılarak tek tanrılı inanç sistemi getirilmiştir.
- C) Kabilecilik anlayışı güçlenmiştir.
- D) Kadınlara toplumsal hayatta yeni statüler kazandırılmıştır.

3.

İslamiyet'i kabul ettikleri için Mekkeli müşriklerin baskılarına maruz kalan az sayıda Müslüman, Habeşistan'a (Etiyopya) gitmek zorunda kaldı.

Baskılar dayanılmaz bir hâle gelince Hz. Muhammed (sav.) ve Müslümanların göç ettiği yer aşağıdakilerden hangisidir?

- A) Medine B) Tunus
C) Mısır D) Libya

4.

Hz. Muhammed'in (sav.) 622'de Medine'ye hicreti sırasında, İslam devletinin temelleri atılmış, İslam daha hızlı yayılmış ve ensar – muhacir kardeşliği ilan edilmiştir.

Buna göre;

- I. İslamiyet'in genişleme imkânı bulunduğu,
- II. Müslümanların sayısının hızla arttığı,
- III. Mekke'nin önemini kaybettiği

yargılarından hangilerine ulaşamaz?

- A) Yalnız I B) I ve II
C) Yalnız III D) I, II ve III

5.

Hz. Muhammed (sav.) söz vermişse mutlaka verdiği sözü yerine getirir, kendisine verilen emanetleri sonuna kadar korur, bir şey söylemişse muhakkak onu yapardı.

Hz. Muhammed'in (sav.) yukarıdaki özelliklerinden dolayı ona hangi lakap verilmiştir?

- A) Muhammed'ül Emin
- B) Zinnureyn
- C) Sıddık
- D) Naşirul Kur'an

6.

- I. Her kabile kendisini diğerlerinden üstün görür ve aralarında oluşan kan davalarından dolayı birbirleriyle sürekli mücadele ederlerdi.
- II. Kız çocuklarına değer verilirdi.
- III. Tek tanrılı dinlere inanılırdı.
- IV. Falcılık ve büyücülük yaygındı.

Yukarıdakilerden hangileri İslamiyet öncesi Arap Yarımadası'nın özelliklerinden biri değildir?

- A) Yalnız I B) II ve III
C) II ve IV D) Yalnız IV



7. 632 yılında Hz. Muhammed (sav.) hac görevini yerine getirmek üzere Mekke şehrine gitmiş ve burada Müslümanlara bir konuşma yapmıştır. Hz. Muhammed'in (sav.) ölümünden önce yaptığı bu konuşmaya denir.

Yukarıda verilen bilgide boş bırakılan alana aşağıdakilerden hangisi yazılmalıdır?

- A) Tavsiye Kararları B) Veda Hutbesi
C) Adalet Konuşması D) Hac Hutbesi

8. "Arap olmayanın Arap olana, Arap olanın Arap olmayana üstünlüğü yoktur."

(Hz. Muhammed (sav.)

Aşağıda verilenlerden hangisi Hz. Muhammed'in (sav.) bu sözüne ters düşmektedir?

- A) Abbasilerin Türkler ile iyi geçinmesi
B) Emevilerin Arap olmayan milletleri küçük görmesi
C) Dört Halife Dönemi'nde yöneticilerin seçimle belirlenmesi
D) İslam dininin tüm dünyaya yayılmaya çalışılması

9. İslamiyet öncesinde Arap Yarımadası'nda Cahiliye Dönemi yaşanırken İslamiyet ile birlikte birçok alanda değişimler yaşanmıştır.

Aşağıdakilerden hangisi İslamiyet ile yaşanan değişimlerden biri değildir?

- A) Cahiliye adetleri kaldırılmıştır.
B) Kız çocuklarına verilen değer artmıştır.
C) Çok tanrılı inanç sistemine geçilmiştir.
D) Toplumsal sınıf ayrımı kaldırılmıştır.

10. Hz. Muhammed (sav.) Medine'de yaşayan Yahudilerle bir sözleşme yapmıştır. Bu sözleşme ile Yahudiler;

- ◆ Müslümanlarla birlikte yaşamayı,
- ◆ Müslümanlarla ticaret yapmayı,
- ◆ Müslümanlara düşmanlık yapmamayı,
- ◆ Medine'ye bir saldırı olursa Medine'yi hep birlikte savunmayı kabul etmişlerdir.

Yukarıda bahsedilen sözleşme aşağıdakilerden hangisidir?

- A) Medine Sözleşmesi
B) Hudeybiye Sözleşmesi
C) Veda Hutbesi
D) Hakem Olayı

11. Cahiliye Dönemi, Arap toplumunun İslam öncesi dönemine verilen isimdir.

Buna göre;

- I. kabileler arası kan davalarının olması,
- II. kadınlara değer verilmeyip kız çocuklarının diri diri toprağa gömülmesi,
- III. tek tanrılı inanç sisteminin olması

yukarıdakilerden hangileri bu döneme Cahiliye Dönemi denilmesinin nedenleri arasında yer alır?

- A) I, II ve III B) Yalnız II
C) Yalnız III D) I ve II

12. Hz. Osman Dönemi'nde;

- I. Kur'an-ı Kerim'in çoğaltılarak çeşitli merkezlere gönderilmesi
- II. Kıbrıs'ın fethedilmesi
- III. Müslümanlar arasında iç karışıkların başlaması

gelişmelerinden hangileri İslam devletinin denizcilik faaliyetleriyle ilgilendiğine kanıt olarak gösterilebilir?

- A) I ve II B) Yalnız I
C) II ve III D) Yalnız II



1. Hz. Muhammed'in (sav.) vefatından sonra İslam devletinin başına Müslümanların önderi, koruyucusu anlamına gelen halife unvanlı kişiler geçti. İlk dört halife dönemine aynı zamanda "Cumhuriyet Dönemi" de denilmiştir.

Aşağıdakilerden hangisinin, Dört Halife Dönemi'nin "Cumhuriyet Dönemi" olarak adlandırılmasında etkili olduğu söylenebilir?

- A) İslam dünyasında siyasi birliğin sağlanması
B) Toplumda adalet ve hoşgörünün yayılması
C) Dini inançlarda serbestlik sağlanması
D) Halifelerin seçimle iş başına gelmesi

2. **Aşağıdakilerden hangisi Bedir Savaşı'nın sonuçlarından biri değildir?**

- A) İslamiyet hızla yayılmaya başlamıştır.
B) Şam ticaret yollarının idaresi Müslümanların eline geçmiştir.
C) Hz. Muhammed'in (sav.) amcası Hz. Hamza şehit olmuştur.
D) İslam savaş hukuku ortaya çıkmıştır.

3. İslam öncesi Arabistan Yarımadası'nda çok sayıda devlet vardı. Bu devletlerin idaresindeki toplum çoğunlukla kabileler hâlinde yaşardı. Kabileler arasında kan davası çok yaygındı.

Bu bilgilere dayanılarak;

- I. Arabistan'da siyasi birliğin olmadığı,
II. aile ve kan akrabalığının önemini kaybettiği,
III. birçok farklı dinin bulunduğu

yargılarından hangilerine ulaşılabilir?

- A) Yalnız I
B) I ve II
C) II ve III
D) Yalnız III

4. Hz. Ömer Dönemi'nde fetihleri hızlandırmak, güvenliği sağlamak ve merkezden uzak bölgelerin fethini kolaylaştırmak için birtakım çalışmalar yapılmıştır.

Bu amaçla Hz. Ömer'in;

- I. düzenli ordunun kurulması,
II. ordugâhların kurulması,
III. illere valilerin atanması

çalışmalarından hangilerini gerçekleştirdiği söylenebilir?

- A) II ve III
B) Yalnız II
C) I ve III
D) I ve II

- 5.

- I. Medine'de ekonominin gelişmiş olması
II. Medine'de yaşayan herkes tarafından desteklenmesi
III. Mekke'de can ve mal güvenliğinin tehdit edilmesi
IV. Medine'de devlet başkanı olmak istemesi

Aşağıdakilerden hangileri Hz. Muhammed'in (sav.) Mekke'den Medine'ye hicret etme nedenleri arasındadır?

- A) Yalnız I
B) I ve II
C) Yalnız III
D) I, III ve IV

6. Kur'an-ı Kerim'in çoğaltılarak devletin çeşitli bölgelerine gönderilmesi Hz. Osman Dönemi'nde yaşanmıştır.

Bu durum aşağıdakilerden hangisinin kanıtıdır?

- A) İslamiyet'in geniş alanlara yayıldığıının
B) Ekonomik hayatın canlandığının
C) Adalet sisteminin geliştiğinin
D) Merkezi otoritenin gücünün kaybettiğinin



7. Emeviler Dönemi'nde Arap olmayan Müslümanlar dışlanmış ve köle olarak kabul edilmiştir.

Bu politikanın;

- I. İslamiyet'i benimseyenlerin sayısının artmasını,
- II. İslam kültürünün yayılmasını,
- III. İslam âlemindeki birliğin güçlenmesini

durumlarından hangilerini engellediği söylenebilir?

- A) Yalnız I
- B) Yalnız II
- C) II ve III
- D) I, II ve III

8.

- I. İslamiyet'i geniş alanlara yaymaları
- II. İslam devleti olmaları
- III. Devlet hizmetinde Türklere görev vermeleri
- IV. Fetih hareketlerinde bulunmaları

Yukarıdakilerden hangileri Emeviler ile Abbasiler arasındaki farklardan biridir?

- A) Yalnız I
- B) I ve II
- C) Yalnız III
- D) III ve IV

9. Emeviler Dönemi'nde halifeliğin saltanata dönüştüğünün kanıtı aşağıdaki uygulamalardan hangisidir?

- A) Arap olmayan Müslümanlara karşı ırkçı bir politika takip etmeleri
- B) Muaviye'nin oğlu Yezid'i veliht ilan etmesi
- C) Fetih hareketlerinde bulunmaları
- D) Arapça'yı resmi dil ilan etmeleri

10. Emeviler Dönemi'nde İslamiyet ile ilk defa tanışan Türkler Abbasiler Dönemi'nde İslamiyet'i kabul etmişlerdir.

Bu durumun temel sebebi aşağıdakilerden hangisidir?

- A) Emevilerin uyguladığı mevali politikası
- B) Abbasilerin Türklere çeşitli görevler vermesi
- C) Emevilerde halifeliğin saltanata dönüşmesi
- D) Abbasilerin Türklerin askeri yeteneğinden yararlanması

11.

- I. Valilik kurumunun oluşturulması
- II. Zekât vermek istemeyenlerle mücadele edilmesi
- III. Beyt'ül Mal (Hazine) gelirlerinin artması
- IV. Düzenli ordunun kurulması

Yukarıda verilenlerden hangileri Dört Halife Dönemi'nde ülke sınırlarının genişlediğine kanıt olarak gösterilemez?

- A) I ve II
- B) Yalnız II
- C) II ve III
- D) III ve IV

12. Hz. Muhammed'den (sav.) sonra gelen onun gibi din ve devlet başkanı, İslam dünyasının baş imamı ve başkomutanı olan kimseye "halife" dini kurumuna da "halifelik" denir.

Hz. Muhammed'in (sav.) ölümünden sonra devlet yönetimine geçen halifelerin kronolojik sıralaması aşağıdakilerden hangisidir?

- A) Hz. Ebubekir – Hz. Osman – Hz. Ömer – Hz. Ali
- B) Hz. Osman – Hz. Ömer – Hz. Ali – Hz. Ebubekir
- C) Hz. Ebubekir – Hz. Ömer – Hz. Osman – Hz. Ali
- D) Hz. Ebubekir – Hz. Ali – Hz. Osman – Hz. Ali



- 1 Hz. Muhammed'in (sav.) Medine'de oluşturduğu toplumda Müslümanlar arasındaki ilişkiler karşılıklı sevgi ve saygıya dayandığı için zengin bir kimse fakirlere yüksekten bakmaz, onlara karşı kural koymaz ve zayıflara karşı güç kullanmazdı.

Buna göre;

- I. Sosyal barış ortamı sağlanmıştır.
- II. Sınıflar arası çatışma söz konusu olmamıştır.
- III. Medeni toplum seviyesine çıkmıştır.

yargılarından hangilerine ulaşılabilir?

- A) I, II ve III
- B) I ve II
- C) Yalnız I
- D) II ve III

- 2 624 yılında Hz. Muhammed (sav.) Dönemi'nde meydana gelen Bedir Savaşı'nı Müslümanlar kazanmıştır. Bedir Savaşı'nda esir alınan Mekkelilerin bir kısmı Müslümanlara okuma-yazma öğretileri karşılığında serbest bırakılmıştır.

Buna göre;

- I. Mekkelilerin Müslümanlar üzerinde hâkimiyet sağladığı,
- II. İslamiyet'in okuma ve yazmaya önem verdiği,
- III. Okuma-yazma bilen esir sayısının çok olduğu

yargılarından hangilerine ulaşılabilir?

- A) Yalnız III
- B) I ve II
- C) Yalnız II
- D) II ve III

- 3 İslamiyet öncesi Arap toplumunda kız çocuklarına değer verilmezdi. Kız çocukları diri diri toprağa gömülürdü. Ayrıca kadın doğuştan suçlu bir varlık gibi görülürdü. Bir adamın erkek çocuğu olunca sevinir şenlik yapar, kız çocuğu olunca utanır, suç işlemiş durumuna düşerdi.

Bu durum Arap toplumunda aşağıdakilerden hangisinin var olduğunun göstergesidir?

- A) İnsan hakları kavramının
- B) Sosyal barış ortamının
- C) Kadın – erkek eşitsizliğinin
- D) Birlik ve beraberliğin

- 4 571 yılında Mekke'de dünyaya gelen Hz. Muhammed (sav.) çevresinde sevilen ve saygı duyulan bir kişiliğe sahip olduğu için Mekkeliler ona "Muhammed-ül Emin (Güvenilir Muhammed) diyorlardı. Hz. Muhammed (sav.), putlara itibar etmiyor puta tapmanın yanlış olduğunu düşünüyordu. Ara sıra Hira Dağı'ndaki mağaraya giderek derin düşüncelere dalan Hz. Muhammed (sav.) bir gün yine Hira Mağarası'ndayken Cebrail adlı melek tarafından kendisine ilk vahiy getirilmiştir. Bu ilk vahiy Hz. Muhammed'in (sav.) peygamberliğinin ve İslamiyet'in başlangıcı olmuştur.

Buna göre aşağıdakilerden hangisine ulaşamaz?

- A) Hz. Muhammed'e (sav.) peygamberlik Hira Mağarası'nda gelmiştir.
- B) Hz. Muhammed'e (sav.) peygamberlik kırk yaşında gelmiştir.
- C) İlk vahyin gelmesiyle Hz. Muhammed'in (sav.) peygamberlik görevi başlamıştır.
- D) Mekke'de puta tapıcılık yaygındı.

- 5 İslamiyet öncesinde sosyal hayatta hakim anlayış kabilecilikti. Kabileler arasında sürekli yaşanan kan davaları toplum hayatında can güvenliğini ortadan kaldırmıştı. İslamiyet'in gelmesiyle birlikte kabilecilik ve kan davaları yasaklandı. Arabistan'da huzur ve güven ortamı oluştu. Ancak Araplar kabile geleneğine o kadar bağlıydılar ki Müslüman olduktan sonra bile namazlarını kendi kabilesinden olan imamların arkasında kıldılar.

Paragraftan çıkarılabilecek genel yargı aşağıdakilerden hangisidir?

- A) İslamiyet, en çok Arabistan'da yapılmıştır.
- B) Cahiliye Dönemi'nde kölecilik anlayışı hâkimdir.
- C) Kabilecilik sadece Arap toplumunda görülmektedir.
- D) Kabilecilik anlayışı İslamiyet'in kabulünden sonra da devam etmiştir.



6 Mekkeli müşrikler Uhud Savaşı'ndan iki yıl sonra on bin kişilik bir orduyla İslamiyet'i ortadan kaldırmak için Medine üzerine harekete geçtiler. Bunu haber alan Hz. Muhammed (sav.) Medine'de kalarak savunma yapma fikrini ortaya attı. Bunun üzerine İranlı Selman Farisi'nin önerisiyle Medine'nin etrafına geniş ve derin hendekler kazdırıldı. Hendek Savaşı olarak bilinen bu mücadelede Mekkeliler kazılan hendekleri geçemeyince geri dönmek zorunda kaldılar.

Buna göre;

- I. Mekkeliler hedeflerine ulaşamamışlardır.
- II. Hz. Muhammed (sav.) farklı bir savaş stratejisi uygulamıştır.
- III. Savaş sonrasında Mekkeliler Müslüman olmuşlardır.

yargılarından hangilerine ulaşamaz?

- A) I ve II
B) II ve III
C) Yalnız II
D) Yalnız III

7 Hz. Muhammed (sav.) Dönemi'nde;

- ◆ Bedir Savaşı ile ganimetlerin eşit pay edildiği savaş hukuku ortaya çıktı.
- ◆ Medine'ye hicret eden Müslümanlar ile Medine'de yaşayan halka eşit haklar getiren (Müslümanlar, Yahudiler, Hristiyanlar) arasında Medine Sözleşmesi imzalandı.

Yukarıda verilen bilgilere göre Hz. Muhammed (sav.) ile ilgili olarak aşağıdakilerden hangisi söylenebilir?

- A) Hz. Muhammed'in (sav.) askeri yeteneğinin çok güçlü olduğu
B) Hz. Muhammed'in (sav.) sadece Müslümanların hakkını düşündüğü
C) Hz. Muhammed'in (sav.) adaletten hiçbir zaman ayrılmadığı
D) Hz. Muhammed'in (sav.) devlet kurumları oluşturduğu

8 **H. Ebubekir:** Yalancı peygamberler sorununu çözmüştür. Kur'an ayetlerini birleştirerek kitap hâline getirmiştir.

H. Ömer: Devlet geniş sınırlara ulaşmıştır. Bu nedenle illere valiler ve kadılar tayin etmiştir.

H. Osman: İslam devletinin ilk donanması bu dönemde kurulmuştur. Kur'an-ı Kerim çoğaltılarak önemli merkezlere gönderilmiştir.

H. Ali: Siyasi sebeplerden dolayı müslümanlar arasında iç karışıklıklar artmış ve İslam'da ilk ayrılıklar yaşanmıştır.

Buna göre aşağıdakilerden hangisine ulaşamaz?

- A) İç anlaşmazlıklar İslam'ın yayılmasını durdurmuştur.
B) İdari alanda teşkilatlanmaya gidilmiştir.
C) Denizcilik alanında çalışmalar yapılmıştır.
D) İslamiyet'i tehdit eden unsurlarla mücadele edilmiştir.

9 İslamiyet öncesi dönemde Arap Yarımadası'nda siyasi birlik yoktu. Araplar kabileler hâlinde yaşarlardı. Kabilelerin başında şeyh adı verilen yöneticiler bulunurdu. Mekke şehrinin yönetimi Kureyş kabilesinin elindeydi. Bu kabile şehrin siyasi ve dinî hayatını düzenlerdi. İslamiyet'ten önce Arapların büyük çoğunluğu putlara tapardı. Her Arap kabilesinin kendine ait putları bulunmaktaydı. Arap kabileleri önemli ve ortak sayılan putlarını Kâbe'ye koyardı. Bu nedenle Kâbe, İslamiyet öncesinde de Araplar için kutsal sayılmaktaydı. Araplar, yılın belli bir döneminde Mekke'ye gelerek Kâbe'yi ziyaret ederdi. Puta tapmanın dışında insanların bir kısmı da Musevilik, Hıristiyanlık ve Mecusilik dinlerine inanmaktaydı. Ayrıca İslamiyet öncesi Arabistan Yarımadası'nda kız çocuklarına ve kadınlara değer verilmiyordu. Köleleştirilen insanlar bir eşya gibi alınıp satılırdı.

İslam öncesi Arap Yarımadası hakkında aşağıdakilerden hangisine ulaşamaz?

- A) Çok tanrılı din inanışları görülmektedir.
B) Demokratik bir yönetim mevcuttur.
C) Eşit bir toplum yapısı görülmemiştir.
D) İnsan haklarına önem verilmemiştir.



10

Bedir Savaşı

Mekkeliler, içinde Medine'ye hicret eden Müslümanların mallarının da olduğu bir kervanı Şam'a göndermeye karar vermiştir. Bu ticaretten elde edecekleri gelir ile de Müslümanlarla savaşmayı amaçlamışlardır. Bunu öğrenen Müslümanlar, Şam kervanının yolunu kesmek ve gözdağı vermek için sefer düzenlemiştir. Bedir kuyuları önünde yapılan savaşı Müslümanlar kazanmıştır. Bedir Savaşı'nda elde edilen ganimetler, savaşa katılanlar arasında paylaştırılmıştır. Hz. Muhammed (sav.) başta olmak üzere sahabelerin birçoğu esirlerin fidye karşılığı serbest bırakılmasını savunmuştur. Esirlerin, fakir olup ödeme yapamayacak olanlarından okuma-yazma bilenler, on Müslüman'a okuma-yazma öğretmesi karşılığında serbest bırakılmıştır.



Bu uygulamalar;

- I. Savaş hukukunun uygulandığı,
- II. Medine'de okuryazar oranının arttırılmaya çalışıldığı,
- III. Müslümanlar arasında kültürel seviyenin yükseltilmeye çalışıldığı

durumlarından hangilerini kanıtlar niteliktedir?

- A) Yalnız I B) Yalnız II C) I ve II D) I, II ve III

- 11** Uhud Savaşı 625 yılında Medine yakınlarındaki Uhud Dağı'nda Müslümanlar ile Mekkeli müşrikler arasında yapılmıştır. Bedir Savaşı'nda aldıkları yenilgi üzerine Mekkeli müşriklerin Müslümanlardan öç almak istemesi savaşın nedenidir. Hz. Muhammed'in (sav.) Uhud Dağı'na yerleştirdiği okçuların yerlerini terk etmeleri Müslümanların bu savaşta büyük kayıplar vermelerine neden olmuştur. Hz. Hamza ile birlikte 70 sahabe şehit olmuş, Hz. Muhammed (sav.) ise yaralanmıştır.

Verilen bilgilerden hareketle;

- I. Kimler arasında gerçekleşmiştir?
- II. Savaşın sebebi nedir?
- III. Savaşın sonuçları nelerdir?

sorularından hangilerinin cevabına ulaşılabilir?

- A) I ve II B) I, II ve III C) Yalnız II D) Yalnız III



1. Türklerin İslamiyet'i kabul etmesiyle birlikte sosyal, kültürel ve siyasi alanlarda birçok gelişme ve değişim yaşanmıştır. Bu değişimlerden biri de hükümdarların kullandığı unvanlarda meydana gelmiştir. İslamiyet'ten önce han, kağan, hakan ve yabgu gibi unvanlar kullanan hükümdarlar, İslamiyet'in kabulüyle birlikte sultan ve padişah gibi unvanlar kullanmaya başlamışlardır.

Buna göre;

- I. Gazneli Mahmut III. Mete Han
II. Selçuk Bey IV. Alp Arslan

yukarıdakilerden hangisi "sultan" unvanını kullanan ilk hükümdardır?

- A) I B) II C) III D) IV

2. Alp Tigin tarafından Horasan, Afganistan ve Kuzey Hindistan'da kurulan Müslüman Türk devletidir. 1040 yılında Selçuklularla yapılan Dandanakan Savaşı'nda yenilmiştir. Bu savaş sonrasında zayıflama sürecine girmiş ve 1187 yılında yıkılmıştır.

Yukarıda bilgisi verilen devlet aşağıdakilerden hangisidir?

- A) Gazneli Devleti
B) Karahanlı Devleti
C) Büyük Selçuklu Devleti
D) Uygur Devleti

3. Talas Savaşı'ndan sonra Araplar ve Türkler arasında başlayan dostluk ve iyi ilişkiler sayesinde Türkler İslam dinini yakından tanıma fırsatı bulmuş ve Müslüman olmaya başlamışlardır.

Buna göre;

- I. Abbasilerin eşitlikçi ve anlayışlı bir politika uygulaması,
II. Ticaretle uğraşan Türklerin ticaret yolları üzerindeki Müslüman tüccarlarla etkileşim içerisinde olması,
III. Türklerdeki kurban kesmenin İslamiyet'te de olması

yukarıdakilerden hangileri Türklerin Müslüman olmalarını kolaylaştıran nedenlerden biridir?

- A) Yalnız I B) I, II ve III
C) II ve III D) Yalnız III

4. Türklerin İslamiyet'i kabul etmesiyle birlikte sosyal, kültürel ve siyasi alanlarda birçok gelişme yaşanmıştır.

Buna göre;

- I. İslamiyet'ten önce devlete "il" diyen Türkler İslamiyet'in kabulünden sonra il kavramı yerine "devlet" ve "mülk" kelimelerini kullanmaya başlamışlardır.
II. Türklerde var olan "cihad anlayışı" İslamiyet'in kabulünden sonra yerini "cihan anlayışına" bırakmıştır.
III. Kadın-erkek kıyafetlerinde değişiklikler meydana gelmiştir.
IV. Edebi eserlerde Allah, peygamber, hak, cennet ve cehennem gibi konular ele alınmıştır.

yukarıda verilen bilgilerden hangileri yanlıştır?

- A) I ve III B) Yalnız III
C) II ve IV D) Yalnız II

5.

- ◆ Bilge Kül Kadir Han tarafından 840 yılında kurulmuştur.
- ◆ Orta Asya'da Müslümanlığı kabul eden ilk Türk devletidir.
- ◆ Abdülkerim Satuk Buğra Han Müslümanlığı kabul ederek İslamiyet'i devletin resmi dini olarak kabul etmiştir.
- ◆ Başkenti Balasagun'dur.
- ◆ Türk boylarının İslamlaşmasını ve İslamiyet'in kısa sürede yayılmasını kolaylaştırdı.

Yukarıda hakkında bilgi verilen devlet aşağıdakilerden hangisidir?

- A) Gazneliler B) Büyük Selçuklular
C) Uygurlar D) Karahanlılar

6. Aşağıdakilerden hangisi Türk-İslam edebiyatının ilk eserlerinden biri değildir?

- A) Şehname
B) Atabet'ül Hakayık
C) Divan-ı Hikmet
D) Kutadgu Bilig



7. "Kutadgu Bilig" ve "Divanü Lügati't Türk" aşağıdaki devletlerden hangisine aittir?

- A) Büyük Selçuklular
- B) Karahanlılar
- C) Gazneliler
- D) Türkiye Selçukluları

8.

- ◆ Devletin en güçlü zamanı yaşanmıştır.
- ◆ Hindistan'a on yedi askerî sefer düzenlemiştir.
- ◆ İslamiyet'in yayılmasına öncülük etmiştir.
- ◆ Karahanlılarla birlikte Samanoğulları Devletine son vermişlerdir.
- ◆ Biruni için "Sarayımın en değerli hazinesi" ifadesi kullanmıştır.

Yukarıda hakkında bilgi verilen hükümdar aşağıdakilerden hangisidir?

- A) Gazneli Mahmut
- B) Bilge Kül Kadir Han
- C) Alp Tigin
- D) Satuk Buğra Han

9. Araplara Türkçe'yi öğretmek amacıyla Kaşgarlı Mahmut tarafından yazılmıştır. Büyük Türkçe sözlük anlamına gelmektedir. Bu eser yalnızca bir sözlük değil aynı zamanda Türk tarihinin en zengin bilgi kaynaklarından biridir.

Yukarıda bilgisi verilen eser aşağıdakilerden hangisidir?

- A) Divan-ı Hikmet
- B) Kutadgu Bilig
- C) Divanü Lügati't Türk
- D) Atabetü'l Hakayık

10.

- ◆ Orta Asya'daki ilk Müslüman-Türk devletidir.
- ◆ Bilinen ilk hükümdarı Bilge Kül Kadir Han'dır.

Bazı özellikleri verilen Müslüman - Türk devleti aşağıdakilerden hangisidir?

- A) Gazneliler
- B) Karahanlılar
- C) Hunlar
- D) Kök Türkler

11. Yusuf Has Hacip tarafından Uygur alfabesiyle yazılmıştır. Türk İslam edebiyatının ilk yazılı örneğidir. Mutluluk veren bilgi anlamına gelmektedir. İdeal bir devlet yönetim sisteminin nasıl olması gerektiğini açıklayan öğretici bir eserdir.

Hakkında bilgi verilen eser aşağıdakilerden hangisidir?

- A) Kutadgu Bilig
- B) Divan-ı Hikmet
- C) Firdevsi
- D) Atebet'ül Hakayık

12.

- I. Türklerde yasak olan hırsızlık, yalan söyleme, zina vb. olumsuz davranışların İslam dininde haram olması
- II. Türklerdeki Gök Tanrı inancının İslamiyet'te de olması
- III. Türklerdeki ölümden sonra hayata inanışın, İslamiyet'teki ahiret inancına uyması

Yukarıdakilerden hangileri Türklerin Müslüman olmasını kolaylaştıran nedenlerden değildir?

- A) I ve II
- B) Yalnız II
- C) II ve III
- D) Yalnız III



13. Aşağıdakilerden hangisi Gazneli Devleti'nin hükümdarı, Sultan Mahmut'un eğitim ve bilime önem verdiğini gösterir?

- A) Hindistan'a on yedi sefer düzenlenmesi
- B) Sarayında dönemin bilginlerini toplaması
- C) Abbasi halifesini Büveyhoğulları'nın baskısından kurtarması
- D) Sultan unvanını kullanması

14. İslamiyet dışındaki dinleri kabul eden Türklerin büyük bir kısmı millî benliklerini kaybederken İslamiyet'i kabul eden Türkler ise millî benliklerini koruyarak yaşamlarını devam ettirmişlerdir.

İslamiyet'i kabul eden Türklerin millî benliklerini koruması aşağıdakilerden hangisi ile açıklanabilir?

- A) Türklerin İslamiyet'i kitleler hâlinde kabul etmesiyle
- B) İslamiyet'in Türk millî yapısına uygun olmasıyla
- C) Türklerin Abbasilerin devlet kademelerinde çeşitli görevler yapmasıyla
- D) Arapçanın uluslararası bir dil olmasıyla

15. İslamiyet'in kabulünden sonra sosyal ve kültürel alanda birçok değişim yaşanmıştır.

Aşağıdakilerden hangisi bu değişimlerden biri değildir?

- A) Semerkant, Buhara, Taşkent ve Horasan gibi Türklerin yoğun olarak yaşadığı şehirler ilmi açıdan İslamiyet'i temsil etmeye başladılar.
- B) Yardıma muhtaç kişilerin ihtiyaçlarının karşılanması için çeşitli hayır kurumları oluşturuldu.
- C) Orduda onluk sisteme geçildi.
- D) Göçebe yaşam tarzından yerleşik hayata geçildi.

16. Karahanlılar ticaretin canlanması için ribat adı verilen kervansarayları ve bimarhane adı verilen hastaneleri yapmışlardır.

Verilen bilgiler aşağıdaki alanlardan hangileriyle ilgilidir?

- A) Ekonomi – Sağlık
- B) Dini – Sosyal
- C) Siyasi – Eğitim
- D) Sosyal – Hukuk

17. Türkler İslamiyet'i kabul ettikten sonra siyasi, sosyal ve kültürel alanda birçok değişim yaşanmıştır.

Aşağıdaki değişimlerden hangisi İslam dininin yayılma hızını arttırmıştır?

- A) Bilim insanlarına önem verilmesi
- B) Tasavvuf müziğinin gelişmesi
- C) Minyatür sanatına önem verilmesi.
- D) Gaza ve cihad anlayışının benimsenmesi

18. Türklerin İslamiyet'i kabulüyle birlikte;

- I. şehirler kurup tarım ve ticaretle uğraşmaya başlamaları,
- II. çeşitli ilim ve kültür merkezleri açmaları
- III. töreye dayanan örfi hukuk kurallarını şer'i hukuk kurallarına göre yorumlayıp uygulamaları

değişimlerinden hangileri meydana gelmiştir?

- A) Yalnız I
- B) I ve II
- C) Yalnız III
- D) I, II ve III



1

Araplar Türk topluluklarından biri olan Türğişlerle uzun yıllar mücadele ettiler. II. Kök Türk Devleti'nin kuruluş yıllarında Emeviler, Türklerin yoğun olarak yaşadıkları Maveraünnehir bölgesinde fetihlere başladı. Emevi Devleti'nin uyguladığı Arap milliyetçiliği politikası Türklerin İslamiyet'ten uzak durmalarına neden oluyordu. Türkler, yönetimde daha adil ve eşit hareket eden Abbasi Devleti Dönemi'nde İslamiyet'e ilgi duymaya başladılar.

Türkler İslamiyet'i kabul ettikten sonra yerleşik hayata geçmeye başlayınca şehir ve köylerde yaşayan Türklerin sayısında artış meydana gelmiştir. Köylere yerleşenler, tarım ve hayvancılıkla uğraşırken şehirlere yerleşenler de ticaret, el sanatları ve esnaflıkla uğraşmışlardır.

Buna göre Türklerle ilgili aşağıdakilerden hangisine ulaşılabilir?

- A) Milli benliklerini kaybetmişlerdir.
- B) Siyasi olarak başka devletlerle savaşabilecek güce ulaşmışlardır.
- C) Yaşam tarzlarında değişiklik olmuştur.
- D) İslam dinine önemli hizmetlerde bulunmuşlardır.

2

7. yüzyılda Hz.Ömer Dönemi'nde 642 yılında yapılan Nihavend Savaşı'ndan sonra Müslümanlar ile Türkler temas etmeye başlamıştır. Sasani Devleti'nin yıkılmasından sonra da Türkler ile Araplar arasında yaklaşık olarak 50 yıl süren mücadeleler yaşanmıştır. Emeviler Dönemi'nden itibaren (661-750) Türkler, İslamiyet'in hizmetinde yer almaya başlasalar da Emevilerin Arap olmayanlara karşı uyguladığı ırkçı politikalar Türklerin İslamiyet'e geçişini zorlaştırmıştır. Emevilerin yıkılmasından sonra kurulan Abbasi Devleti Dönemi'nde meydana gelen Talas Savaşı'nda (751) Araplar Türkler ile birlikte Çinlilere karşı savaşmış ve savaş Arapların üstünlüğü ile sonuçlanmıştır. Bu savaştan sonra Türkler ile Arapların ilişkileri olumlu yönde gelişmeye başlamış, Türkler kitleler hâlinde İslamiyet'i kabul etmeye başlamışlardır.

Buna göre aşağıdaki yorumlardan hangisi yapılamaz?

- A) Türklerin İslamiyet'i kabul etmesinde Talas Savaşı dönüm noktası olmuştur.
- B) Türklerin İslamiyet'i kabulünden sonra sosyal alanda birçok değişiklik yaşanmıştır.
- C) Müslüman Arapların fetih hareketleri Arapların Türklerle temas kurmasına ortam oluşturmuştur.
- D) Türklerin İslamiyet'e geçme sürecindeki en büyük aşama Abbasiler Dönemi'nde yaşanmıştır.



3 Hz. Ömer Dönemi'nde İslam Devleti İran'daki Sâsânî Devleti'ne son verdi. Bu olay sonucunda Müslüman Araplar ve Türkler sınır komşusu oldu. Emevi Devleti Dönemi'nde Orta Asya yönünde ilerleyen Araplar, Türk topluluklarından biri olan Türkişlerle uzun yıllar mücadele ettiler. II. Kök Türk Devleti'nin kuruluş yıllarında Emeviler, Türklerin yoğun olarak yaşadıkları Maverâünnehir bölgesinde fetihlere başladı. Emevi Devleti'nin uyguladığı Arap milliyetçiliği politikası Türklerin İslamiyet'ten uzak durmalarına neden oluyordu. Türkler, yönetimde daha adil ve eşit hareket eden Abbasi Devleti Dönemi'nde İslamiyet'e ilgi duymaya başladılar. Bu durumda Abbasi Devleti'nin Türklere gösterdiği hoşgörü politikası etkili olmuştur. Ayrıca Türklerin İslam dinini seçmelerindeki nedenlerden biri de Türklere Gök Tanrı inancının İslam dinindeki Tanrı inancı esasına dayanıyor olmasıydı. Diğer taraftan Türkler İslam dininde olduğu gibi Tanrı'ya kurbanlar kesiyor, ahirete inanıyorlardı. İslamiyet'in getirdiği ahlak kuralları ile Türklerin ahlak anlayışları birbirine uygundu.

Buna göre Türklerin İslamiyet'i kabul etmesinde aşağıdakilerden hangisinin rolünün olduğu söylenemez?

- A) Emevilerin mevali politikası yürütmesi
B) Eski Türk dini ile İslam dini arasındaki benzerlikler
C) İslamiyet'in Türklerin yaşayışına uygun olması
D) Abbasilerin takip ettiği politika

4

İslam Öncesi Gök Tanrı İnancının Özellikleri	İslam Dininin Özellikleri
◆ Gök Tanrı'ya inanılması	◆ Tek Allah olması
◆ Ahiret inancının olması	◆ Ahiret anlayışının olması
◆ Ölümden sonra iyi insanların cennete (uçmağ), kötü insanların cehenneme (tamu) gideceğine inanılması	◆ Ölümden sonra iyilik yapan ve sevap işleyenlerin cennete, kötü işler yapan ve günah işleyenlerin cehenneme gideceğine inanılması
◆ Temizlik anlayışına önem vermenin yanı sıra kurban kesme anlayışının bulunması	◆ Temizliğin imandan geldiğine inanılması ve kurban kesmeye önem verilmesi
◆ Hırsızlık, yalancılık, adaletsizlik ve zinanın suç sayılması	◆ İslam dininin hoşgörüye büyük önem vermesi
◆ Din adamlarının herhangi bir üstünlüğünün olmaması	◆ Haksız kazancın, yalan söylemenin, adaletsizlik ve zinanın günah ve suç sayılması
◆ Türklere cihan adaletini sağlama, yeni yerleri fethetme anlayışının bulunması	◆ İslamiyet'te ruhban sınıfının bulunmaması
◆ Farklı inanışlara hoşgörü gösterilmesi	◆ İslam dininde gaza ve cihat anlayışının olması

Yukarıdaki tabloda yapılan karşılaştırmaya göre Türklerin İslamiyet'i benimsemelerinde iki dinde de var olan ilkelerin hangisinden söz edilemez?

- A) İyi ve kötünün ayrımı
B) Ahlaki değerler
C) Eşitlik
D) Devlet yönetimi



Türklerin İslamiyet'i Kabulü

5 İslamiyet'ten önce;

- ◆ Kadınlara değer verilmiyor, kız çocukları diri diri gömülüyordu.
- ◆ Her türlü kötü davranış yaygındı, can ve mal güvenliği yoktu.
- ◆ Okuma yazma oranı çok düşüktü.

İslamiyet'in kabulünden sonra;

- ◆ Kadınlara uygulanan baskı ve şiddet ortadan kalktı.
- ◆ Kötü davranışlar yasaklandı, can ve mal güvenliği koruma altına alındı.
- ◆ Toplumsal huzur, barış ve adalet sağlandı.
- ◆ Mescid-i Nebevi'nin yanına öğrencilerin eğitimi ve barınma için eğitim odaları (suffe) yapıldı.

Verilen bilgilere göre İslamiyet'in kabulünden sonraki durum için aşağıdakilerden hangisine ulaşamaz?

- A) Öğrencilerin eğitim görmesi imkân oluşturulduğu
- B) Sosyal hayatta huzur ve güven sağlandı.
- C) Sosyal sınıf ayrımının yapıldığı
- D) Kişi haklarının güvence altına alındığı

6 Talas Savaşı sonrasında Abbasiler, Türkleri ordu ve devlet yönetiminde önemli görevlere getirdi. Abbasi halifesi Mutasım, Bağdat yakınlarında sadece Türklerin yaşaması için Samarra şehrini kurdurdu. Bu gelişmelerden sonra İslamiyet Türkler arasında hızla yayılmaya başladı. Türklerin İslamiyet'i kabul etmeleri ile birlikte siyasi, sosyal ve kültürel alanlarda değişimler meydana geldi. Türkler İslamiyet'teki gaza ve cihat anlayışını benimsediler ve İslam uğruna fetihlere öncülük etmeye başladılar. Göçebe yaşam tarzından yerleşik hayata geçtiler. Şehirler kurup tarım ve ticaretle uğraşmaya başladılar. İslamiyet'in etkisiyle Türkler arasında kültürel değişimler hız kazandı. Dil, edebiyat ve sanat alanında yeni çalışmalar ortaya konuldu. Semerkant, Buhara, Taşkent ve Horasan gibi Türklerin yoğun olarak yaşadığı şehirler ilmî açıdan İslamiyet'i temsil etmeye başladılar. Bu şehirlerde çeşitli ilim ve kültür merkezleri açıldı. İbn-i Sina, İmam Buhârî, Bîrunî, Kâşgarlı Mahmut, Ahmet Yesevî ve Yusuf Has Hacip gibi bilim, din ve edebiyat alanlarında çalışmalar yapmış bilim insanları yetişti. Kültürel gelişme ve değişmelerin hızlı meydana geldiği İslam coğrafyasında toplum içinde din ve bilim insanları itibar görürdü. Ayrıca insanlar arasında sıkı bir yardımlaşma ve dayanışma vardı. Yardıma muhtaç kişilerin ihtiyaçlarının karşılanması için çeşitli hayır kurumları oluşturuldu.

Buna göre aşağıdakilerden hangisine ulaşamaz?

- A) Kültürel alanda gelişmeler yaşanmıştır.
- B) Siyasi alanda gelişmeler yaşanmıştır.
- C) Ekonomik alanda gelişmeler yaşanmıştır.
- D) Dini alanda gelişmeler yaşanmıştır.



1. ◆ Güneydoğu Anadolu'da kuruldu.
◆ Anadolu'da kurulan beylikler içinde en uzun ömürlü olanıydı.
◆ Hasankeyf, Mardin ve Harput kollarına ayrıldılar.

Hakkında bilgi verilen beylik aşağıdakilerden hangisidir?

- A) Artuklular B) Danişmentler
C) Saltuklular D) Mengücekler

2. 1071 Malazgirt Zaferi sonrası Büyük Selçuklu sultanları Sultan Alparslan ve Sultan Melikşah'ın şekillendirdiği batı yönlü fetih politikası sonrası Anadolu'da ilk Türk beylikleri dönemi başladı.

Buna göre;

- I. Danişmentliler
II. Çaka Beyliği
III. Saruhanoğulları
IV. Artuklular

yukarıdakilerden hangisi Anadolu'da kurulan ilk Türk beyliklerinden biri değildir?

- A) I B) II C) III D) IV

3. Moğol baskısı sonucu Anadolu'ya göç eden Türkler arasında yer alan şair, bilim ve ilim insanları da Anadolu'ya gelmiştir. Türkiye Selçukluları bu önemli şahsiyetlere değer vererek onları korumuştur. Bu sayede Anadolu'da Türk dili ve kültürü geniş alanlara yayılma imkânı bulmuş, Anadolu'nun Türkleşmesi hız kazanmıştır.

Buna göre;

- I. Ali Kuşçu
II. Yunus Emre
III. Mevlana
IV. Hacı Bektaş-ı Veli

yukarıdakilerden hangileri düşünceleriyle bu dönemde halkın Anadolu'yu yurt olarak benimsemesinde etkili olmamıştır?

- A) Yalnız I B) II ve III
C) Yalnız IV D) I ve IV

4. **Aşağıdaki savaşlardan hangisinin Anadolu'nun Türk yurdu olmasında etkisi yoktur?**

- A) Malazgirt Savaşı
B) Miryokefalon Savaşı
C) Pasinler Savaşı
D) Otlukbeli Savaşı

5. Türkiye Selçuklu sultanları ve beyleri Konya, Sivas, Kayseri, Mardin, Erzurum gibi birçok şehre medrese, kütüphane, türbe ve kümbet gibi mimari eserler yapmıştır. Medreselerde dini bilimlerin yanında astronomi, tıp, matematik ve fen bilimleri de okutulmuştur. Türkiye Selçukluları Dönemi'nde medreselerin kurulması bilimin gelişmesini sağlarken Anadolu'nun da İslamlaşmasına katkıda bulunmuştur.

Aşağıdakilerden hangisi Türkiye Selçuklu Devleti Dönemi'nde yapılan medreselerden biri değildir?

- A) Cacabey Medresesi
B) Orhangazi Medresesi
C) Yakutiye Medresesi
D) Gevher Nesibe Darüşşifası

6. **İlk denizci beylik aşağıdakilerden hangisidir?**

- A) Saltuklu Beyliği
B) Mengücek Beyliği
C) Danişmend Beyliği
D) Çaka Beyliği

7. **Aşağıdakilerden hangisi günümüze kadar gelen Saltuklu eserlerinden biri değildir?**

- A) Tepsi Minare
B) Erzurum Kale Camisi
C) Mama Hatun Külliyesi
D) Malabadi Köprüsü



8. Selçukluların öncülüğünde Anadolu'yu yurt edinmeye çalışan Türkler Bizanslılar ile ilk kez Savaşı'nda karşı karşıya gelmişlerdir.

Yukarıda verilen bilginin doğru olabilmesi için boşluğa aşağıdakilerden hangisi yazılmalıdır?

- A) Malazgirt B) Pasinler
C) Miryokefalon D) Köseadağ

9. Türkler 1071 Malazgirt Savaşı'ndan sonra Anadolu'yu yurt edinmeye başlamışlardır. Türkler Anadolu'da çeşitli kültürel ve imar faaliyetlerinde bulunmuşlar, ticareti geliştirme amacıyla çalışmalar yapmışlardır.

Aşağıdakilerden hangi ticaretin geliştirilmesi için yapılmıştır?

- A) Kervansaray B) Medrese
C) Şifahane D) İmarethane

10. Türkiye Selçuklu sultanları ve beyleri Konya, Sivas, Kayseri, Mardin ve Erzurum gibi birçok şehre medrese ve kütüphaneler yapmıştır. Bu medreselerde dini bilimlerin yanında astronomi, tıp, matematik ve fen bilimleri de okutulmuştur. Türkiye Selçukluları Dönemi'nde medreselerin kurulması bilimin gelişmesini sağlarken Anadolu'nun da İslamlaşmasına katkıda bulunmuştur.

Buna göre;

- I. İnce Minareli Medrese
II. Süleymaniye Medresesi
III. Karatay Medresesi
IV. Gök Medrese

yukarıdakilerden hangisi Türkiye Selçuklu Devleti Dönemi'nde yapılan medreselerden biri değildir?

- A) I B) II C) III D) IV

11. Hacı Bektaş-ı Veli Mevlana ve Yunus Emre gibi düşünürler Anadolu'nun yurt edinilmesinde etkili olmuşlardır. Bu düşünürler Anadolu'ya hoşgörü, insan sevgisini birlik ve beraberliği getirmişler, toplum düzenini sağlamaya çalışmışlardır.

Bu faaliyetler aşağıdaki gelişmelerden hangisine ortam hazırlamıştır?

- A) Halkın ihtiyaçlarının artmasına
B) Bizans kültürünün Anadolu'ya yayılmasına
C) Anadolu'da Türk kültürünün yerleşmesine
D) Düşünürlerin fikirlerinin koşulsuz kabul edilmesine

12.

- ◆ Erzincan, Kemah, Divriği ve Karahisar'da kurulan Türk beyliğidir.
- ◆ Divriği Ulu Cami ve Darüşşifası en önemli eserleridir.
- ◆ Sivas Divriği'de bulunan bu tarihî eser UNESCO tarafından 1985 yılında Dünya Miras Listesi'ne alınmıştır.
- ◆ Divriği Anadolu'daki ilk külliye'dir.

Yukarıda verilen bilgiler aşağıdaki beyliklerden hangisine aittir?

- A) Artuklular B) Mengücekler
C) Danişmentliler D) Saltuklular

13.

- I. I.Süleyman Şah, 1077 yılında İznik'i başkent yaparak Türkiye Selçuklu Devleti'ni resmen kurdu.
II. 1176 yılında yapılan Miryokefalon Savaşı ile Anadolu'nun kapıları Türklere açıldı.
III. Katvan Savaşı ile yıkılış sürecine girdi.
IV. Yassı Çemen Savaşı ile Moğollar ile komşu oldu.

Türkiye Selçuklu Devleti ile ilgili yukarıda verilen bilgilerden hangileri yanlıştır?

- A) Yalnız I B) II ve III
C) Yalnız III D) III ve IV



1.

- I. Başta Bizans ve Haçlılar olmak üzere Türk yurdunu saldırılara karşı korumuşlardır.
- II. Türk-İslam kültürünü Anadolu'ya taşımışlardır.
- III. Anadolu'daki küçük yerleşim yerlerinin zarar görmesine neden olmuşlardır.
- IV. Anadolu'nun Türkleşmesine ve İslamlaşmasına katkıda bulunmuşlardır.

İlk Türk beylikleriyle ilgili yukarıda verilen bilgilerden hangileri yanlıştır?

- A) I ve II B) II ve III
C) Yalnız III D) Yalnız IV

2.

- ◆ Sivas, Tokat, Kayseri, Amasya ve Malatya çevresinde kurulmuştur.
- ◆ Anadolu'da kurulan ilk Türk beylikleri içerisinde en güçlü beyliktir.
- ◆ Tokat Niksar'da bulunan Yağlıbasan Medresesi Anadolu'daki ilk medresedir.

Yukarıda hakkında bilgi verilen Türk beyliği aşağıdakilerden hangisidir?

- A) Danişmentliler B) Artuklular
C) Saltuklular D) Mengücekliler

3. Türkiye Selçuklular, yoksullar için imarethaneler, hastaların tedavisi için darrüşşifalar, tüccarların konaklaması için kervansaraylar yapmışlardır.

Buna göre Türkiye Selçukluları ile ilgili aşağıdakilerden hangisi söylenebilir?

- A) Kültürel alanda gelişmişlerdir.
B) Ticareti diğer alanlardan üstün tutmuşlardır.
C) Halkın ihtiyaçlarını karşılayan kurumlar açmışlardır.
D) Mimari alanda gelişmişlerdir.

4.

- ◆ Bizans ile yapılan ilk büyük savaştır.
- ◆ Anadolu'yu yurt edinme amaçlı yapıldı.
- ◆ Bu savaş ile Anadolu tanındı ve Bizans'ın direnci kırıldı.
- ◆ Anadolu'nun kapısı aralandı ve birçok akın yapıldı.

Yukarıda hakkında bilgi verilen savaş aşağıdakilerden hangisidir?

- A) Dandanakan B) Malazgirt
C) Miryokefalon D) Pasinler

5.

- I. Anadolu'da Birinci Beylikler Dönemi başladı. Çaka Beyliği, Saltuklular, Mengücekliler, Danişmentliler, Artuklular vb. beylikler kuruldu.
- II. Anadolu'nun Türk yurdu olduğu kesinleşti.
- III. Bizans Avrupa'dan yardım istedi ve Haçlı Seferleri başladı.
- IV. Türkiye Tarihi başladı.

Yukarıdakilerden hangileri Malazgirt Savaşı'nın sonuçlarından biri değildir?

- A) I ve II B) Yalnız II
C) III ve IV D) Yalnız IV

6. Tuğrul Bey yaptığı fetih ve gazalarla devletin sınırlarını genişletti. Ülkeye göç eden Türk boylarının Anadolu'ya yerleşmesini sağladı.

Tuğrul Bey'in asıl amacı aşağıdakilerden hangisidir?

- A) Anadolu'yu bayındırlaşmak
B) Anadolu'da ticaretin canlanmasını sağlamak
C) Bizans'a ekonomik baskı uygulamak
D) Anadolu'nun Türkleşmesini sağlamak



7. 1243 yılında Moğollarla yapılan Köseadağ Savaşı'nı kaybeden Türkiye Selçuklu Devleti Anadolu üzerindeki siyasi gücünü kaybetti ve yıkılma sürecine girdi. Bu savaş sonrasında Türkmen beyleri bağımsızlıklarını ilan ederek çeşitli beylikler kurdular.

Bu durum aşağıdakilerden hangisinin göstergesidir?

- A) Anadolu'da ekonomik gücün arttığı
B) Merkezi otoritenin güçlendiğinin
C) Anadolu'da Türk siyasi birliğinin bozulduğunun
D) Anadolu'da Türkleşmenin hızlandığının

8. Aşağıdaki savaşlardan hangisi ile Anadolu'nun kapıları Türklere açılmıştır?

- A) Miryokefalon
B) Pasinler
C) Malazgirt
D) Köseadağ

9. Malazgirt Savaşı'ndan sonra Alp Arslan komutasındaki komutanlar Alp Arslan'ın emriyle Anadolu'da beylikler kurmaya başlamıştır. Böylece Anadolu'da İlk Türk beylikleri Dönemi başlamıştır.

Aşağıdakilerden hangisi İlk Türk Beylikleri Dönemi'nin Anadolu'nun Türk yurdu olmasına katkılarından biridir?

- A) Anadolu'ya yerleşen Türklerin milli benliklerini kaybetmesi
B) Anadolu'daki Türk nüfusunun artması
C) Bizans'ın Haçlılardan yardım istemesi
D) Türk beylikleri arasında mücadelelerin yaşanması

10. Anadolu Selçuklu Sultanı I. Alaaddin Keykubat Dönemi'nde medreseler yapılmıştır. Mevlana, başta olmak üzere birçok bilgin Konya'ya davet edilmiştir.

Yapılan bu faaliyetler dikkate alındığında Alaaddin Keykubat ile ilgili aşağıdakilerden hangisi söylenebilir?

- A) Ülkeyi bilim ve kültür merkezi hâline getirmek istemiştir.
B) Otoritesini güçlendirmek istemiştir.
C) Ticareti canlandırmak istemiştir.
D) Siyasi birliği sağlamak istemiştir.

11. Türklerin Anadolu'ya yerleşmeye başlamaları ile Türk İslam kültürü bölgeye yayılmıştır. Malazgirt Savaşı ile başlayan yerleşme süreci Miryokefalon Savaşı ile beraber tamamen kalıcı hâle gelmiştir. Askeri başarılar kültürel faaliyetlerle desteklenmiştir.

Aşağıdakilerden hangisi, Türk - İslam kültürünün örneklerinden biri değildir?

- A) Diyarbakır Ulu Camii
B) Erzurum Kale Camii
C) Mardin Hatuniye Medresesi
D) İshak Paşa Sarayı

12. Büyük Selçuklular Dönemi'nde medreselerin kurulup yaygınlaştırılmasına oldukça önem verilirdi.

Bu durumun aşağıdakilerden hangisinden kaynaklandığı söylenebilir?

- A) Eğitim faaliyetlerinin sadece medreselerde yapılması
B) Devlet işlerinde idarecilere ihtiyaç duyulması
C) Sınırların genişlemesi
D) Sultanların ilim adamlarına önem vermesi



1 Anadolu'nun Türk yurdu olmasında askerlerin başarısının yanında bu yeni vatana gelen bilim insanları, sanatkârlar, tüccar ve esnaf grupları ile şeyh ve dervişlerin de önemli katkıları oldu. Halkın eğitiminde, Anadolu'nun vatan olarak benimsenmesinde önemli rol oynayan bu kişiler arasında; Mevlana, Hacı Bektaş-i Veli ve Yunus Emre'yi sayabiliriz. Malazgirt Zaferi'nden sonra Anadolu'nun fethiyle görevlendirilen Danişment Ahmet Gazi, Saltuk, Artuk, Mengücek gibi beyler Bizans, Gürcü ve Haçlılar ile mücadele ederek Anadolu'ya Türklerin yerleşmesini sağladılar. Hâkim oldukları bölgelerde cami, medrese, han, kervansaray, hastane, köprü gibi dini ve sosyal kurumlar inşa ederek ülkenin imarına katkıda bulundular. Aynı zamanda Anadolu'da yaşayan farklı milletlere inanç özgürlüğü tanıyarak Anadolu'ya barış ve huzur getirdiler.

Buna göre;

- I. Türkler hoşgörülü bir yönetim sergilemiştir.
- II. Anadolu'nun Türk yurdu olmasında sadece askeri başarılarının etkisi yoktur.
- III. Türkmen beyleri Anadolu'nun Türkleşmesinde etkili olmuşlardır.

yargılarından hangilerine ulaşılabilir?

- A) I ve II B) Yalnız II
C) Yalnız III D) I, II ve III

2 Türkiye Selçuklu Devleti Dönemi'nde kurulmuş olan darüşşifalarda sadece Müslüman halk tedavi edilmiş gayrimüslim halk da tedavi edilmiştir. Ayrıca aşevi ve imarethanelerde din, dil, ırk ayrımı yapmaksızın tüm fakirlere, öğrencilere, misafirlere ve muhtaç insanlara yemek dağıtılmaktaydı.

Buna göre Türkiye Selçuklu Devleti ile ilgili olarak aşağıdaki yorumlardan hangisi yapılamaz?

- A) Müslüman ile gayrimüslim halk kaynaşmıştır.
B) Hoşgörü ortamı vardır.
C) Müslüman ile gayrimüslim halk arasında ayrımcılık yapılmıştır.
D) Halk arasındaki farklılıklar gözetilmemiştir.

3 Bizans'ın hâkimiyetindeki Anadolu'ya yapılan göçler, Selçuklu Devleti'nin batı yönlü politikaları nedeniyle 11. yüzyılın ilk çeyreğinde kitleler hâlinde başlamış ve Malazgirt Savaşı'ndan sonra yoğunluk kazanarak devam etmiştir. Yapılan bu Oğuz göçlerinin büyük kitleler hâlinde yaşanması Türklerin Anadolu'ya yerleşmek amacıyla kaynaklanmaktadır. Doğu sınırında güvenliği sağlamak isteyen Bizans'ın bölgede sorun yaşadığı Ermeni Krallığı'nı ve Ermeni Prenslikleri'ni ortadan kaldırarak Ermenilere karşı izlemiş olduğu politika Selçukluların Anadolu'ya yaptığı akınları kolaylaştırmıştır.

Yukarıda verilen paragraftan hareketle;

- I. Türkler Anadolu'yu yurt edinmek istemişlerdir.
- II. Anadolu'ya yapılan Türk göçleri Bizans İmparatorluğu'nu olumsuz yönde etkilemiştir.
- III. Malazgirt Savaşı ile Bizanslıların Türkleri Anadolu'dan atma umutları yok olmuştur.

yargılarından hangilerine ulaşamaz?

- A) Yalnız I B) I ve II
C) II ve III D) Yalnız III

4 **Melikşah:** "Alimleri himaye ederek sarayımı onlara açtım. Nizamiye medreseleri adında okullarda dini bilimlerin yanında tıp gibi başka bilimlerin de öğretilmesine olanak sağladım. Bir de rasathane (gözlemevi) kurdurarak gök cisimlerinin gözlemlenmesini sağladım. Bu gözlemler sonucu Celali Takvimi'ni hazırlattım."

Yukarıdaki konuşmaya göre Selçuklu Sultanı Melikşah Dönemi ile ilgili aşağıdakilerden hangisine ulaşamaz?

- A) Bilim adamlarını koruyup onları himaye etmiştir.
B) Nizamiye medreselerinde sadece dini bilimler öğretilmiştir.
C) Yapılan gözlemler ve araştırmalarda zaman hesaplanmıştır.
D) Astronomi ile uğraşmıştır.



- 5 Malazgirt Savaşı öncesinde Bizans'ın yanlış politikaları sebebiyle Anadolu'da yaşayan halk yıllarca sefalet çekmişti. Türklerin adaletli ve insaniyetli yaklaşımını gören farklı milletler, Türk devletleri ve beyliklerinin hâkimiyetinden rahatsız olmadılar. Anadolu'nun Türkleşme sürecinde yeni köyler, kasabalar ve şehirler kuruldu. Türkmen boyları, bu yerleşimlerin çoğuna kendi isimlerini verdi. Türkmen boylarının Anadolu coğrafyasına yerleşmeye başlamalarından itibaren Anadolu'nun dağ ve nehirlerine Türkçe isimler verdiler.

Buna göre;

- I. Türkler Anadolu'ya tamamen hâkim olmuşlardır.
- II. Türkler hoşgörülü bir politika yürütmüşlerdir.
- III. Türklerin Anadolu'ya gelmesiyle buradaki isimler Türkçeleştirilmiştir.

yargılarından hangilerine ulaşamaz?

- | | |
|-----------------|---------------|
| A) I, II ve III | B) II ve III |
| C) Yalnız I | D) Yalnız III |

- 6 Malazgirt Zaferi'nden sonra Anadolu ilk Türk beylikleri kurulmuştur ve bu beylikler bazı eserler yapmışlardır. Tokat Niksar'da Anadolu'daki ilk medreselerden biri olan Yağlıbasan Medresesi, Erzincan Tercan'da kervansaray, hamam, mescit ve türbe özelliği gösteren Mama Hatun Külliyesi Sivas'ta taş işlemleri ile ünlü Divriği Ulu Camii, Diyarbakır'da ise Malabadi Köprüsü yapılmıştır. Bu köprü dünyanın en büyük taş kemerine sahiptir.

Buna göre Anadolu'da kurulan ilk Türk beylikleri ile ilgili;

- I. mimari alanda çalışmalar yaptıkları,
- II. ticaretin gelişmesine yönelik yapılar yaptıkları,
- III. eğitime yönelik yapılar yaptıklarını,
- IV. askeri yapılar inşa ettikleri

yargılarından hangilerine ulaşamaz?

- | | |
|--------------|--------------|
| A) I ve II | B) Yalnız II |
| C) II ve III | D) Yalnız IV |

- 7 1071 yılında yapılan Malazgirt Savaşı'ndan sonra Alparslan Anadolu'yu fethetmeleri için birçok akıncı komutanını Anadolu'ya göndermiştir. Anadolu'nun fethine katılan beylikler fethettikleri yerlerde kendi beyliklerini kurdu. Bu beylikler zamanla Haçlılar, Gürcüler ve Bizans'la mücadele ettiler. İlk Türk beylikleri camiler, medreseler, imarethaneler, kervansaraylar ve hamamlar gibi birçok eser inşa etmişlerdir.

Verilen parçaya göre;

- I. Farklı düşmanlara karşı mücadele ettiklerine
- II. Din alanında eserler ortaya koyduklarına
- III. Tüccarların mallarını devlet güvencesine aldıklarına

yargılarından hangilerine ulaşılabilir?

- | | |
|--------------|---------------|
| A) I ve II | B) Yalnız II |
| C) II ve III | D) Yalnız III |

- 8 Türkiye Selçuklu Devleti Dönemi'nde bilim ve sanata büyük önem verildi. Devletin başkenti Konya olmak üzere Sivas, Kayseri, Amasya ve Mardin gibi şehirlerde birçok medrese, türbe, kümbet ve darüşşifa inşa edilmiştir. Türkiye Selçuklu Devleti Dönemi'nde Karatay Medresesi, İnci Minareli Medrese (Konya), Çifte Minareli Medrese (Erzurum), Ertokuş Medresesi (Isparta) yapılmıştır. Ayrıca Alaeddin Keykubat Darüşşifası (Konya), Gevher Nesibe Darüşşifası (Kayseri), Toruntay Darüşşifası (Amasya) yapılmıştır. Türbe ve kümbetler de bu dönemde yapılmış önemli mimari eserlerdir. Bu yapılar birer anıt mezardır. Mevlana Türbesi (Konya) ve Döner Kümbet (Kayseri) bu yapılara örnektir.

Verilen bilgilere göre aşağıdakilerden hangisine ulaşamaz?

- A) Ticaret diğer ekonomik faaliyetlerden daha önemli tutulmuştur.
- B) Eğitime önem verilmiştir.
- C) Dini alanda eser ortaya konulmuştur.
- D) Sağlık alanında yapı inşa edilmiştir.



1. İpek Yolu tarihte kullanılan önemli ticaret yollarından biriydi.

Bu ticaret yolları ile ilgili olarak aşağıdakilerden hangisi söylenemez?

- A) İpek Yolu, Çin'den başlayarak Avrupa'ya uzanan önemli bir ticaret yoludur.
B) Mete Han Dönemi'nde İpek Yolu ele geçirilmiştir.
C) İpek Yolu'nda sadece ipek ve baharat taşınmıştır.
D) Toplumlar arası kültürel etkileşim sağlanmıştır.

2. İpek Yolu, Çin'den başlayarak birçok ülkenin topraklarından geçer ve Anadolu topraklarından Avrupa'ya kadar ulaşır.

Aşağıdakilerden hangisi İpek Yolu'nun geçtiği yerlerde yaşayan insanlara etkileri arasında gösterilemez?

- A) Ticari ilişkiler gelişmiştir.
B) Kültürlerin kaynaşması sağlanmıştır.
C) Bilgi birikimleri paylaşılmıştır.
D) Çin'in para birimi Anadolu'da resmi para birimi olarak kullanılmıştır.

3.

- I. Baharat ticareti uzun yıllar Müslümanlarla Venediklilerin elinde kaldı.
II. İpek ve Baharat ticaret yollarının Türklerin eline geçmesiyle Avrupalılar yeni ticaret yolları bulmak amacıyla Reform hareketlerini başlatmışlardır.
III. Baharat Yolu, Hindistan ile Akdeniz limanları arası taşımada yararlanılan bir yoldur.
IV. Türkler, İpek Yolu'nu Sasanilere kaptırmamak için Bizans ile iş birliği yapmıştır.

Yukarıda verilen bilgilerden hangisi yanlıştır?

- A) III B) IV C) I D) II

4. Hindistan'dan başlayıp, Suriye, Irak ve Mısır'a ulaşan ticaret yolu'dur.

Yukarıda verilen cümle aşağıdakilerden hangisi ile doldurulursa doğru olur?

- A) Kral Yolu B) İpek Yolu
C) Baharat Yolu D) Kürk Yolu

5. Tarih boyunca İpek Yolu hâkimiyeti için birçok devlet birbirleriyle sürekli mücadele etmişlerdir.

Bu mücadelenin nedenleri arasında;

- I. ekonomik yönden güç kazanma,
II. siyasi alanda üstünlük sağlama,
III. dini açıdan etkili olma

yukarıdakilerden hangileri gösterilemez?

- A) I, II ve III B) I ve II
C) Yalnız III D) II ve III

6. İpek Yolu kumaş, baharat ve değerli eşyaların satıldığı önemli bir yoldur. Aynı zamanda bu yol sayesinde birçok fikir akımı ve buluş, Doğu ve Batı uygarlıkları arasında taşınmıştır.

Buna göre İpek Yolu aşağıda verilen hangi alanlarda devletlere katkı sağlamıştır?

- A) Ekonomik – Kültürel
B) Kültürel – Sosyal
C) Sosyal – Siyasi
D) Siyasi – Kültürel



7.

- I. Büyük Hun
- II. Kök Türk
- III. Uygur

İpek Yolu için yukarıdaki devletlerden Çin ile hangi-leri mücadele etmiştir?

- A) I, II ve III
- B) Yalnız I
- C) II ve III
- D) Yalnız III

8.

- ◆ Çin'in Xi'an kentinden başlayarak Hazar Denizi'nin güneyinden ve kuzeyinden iki kol hâlinde Avrupa'ya uzanan tarihî ticaret yoludur.
- ◆ Kuzeyinden geçen kolu Kırım'a uğrarken, güneyinden geçen kolu Anadolu'yu boydan boya geçerek İstanbul'a kadar uzanmaktadır.
- ◆ Bu yol sadece ticari anlamda değil, kültürel etkileşim anlamında da yol üzerinde bulunan devletlerin birbirinden etkilenmesine neden olmuştur.
- ◆ Deri, porselen, mücevher vb. değerli birçok malın taşındığı bir yol olmuştur.

Yukarıda hakkında bilgi verilen tarihî ticaret yolu aşağıdakilerden hangisidir?

- A) İpek Yolu
- B) Baharat Yolu
- C) Kürk Yolu
- D) Kral Yolu

9.

- I. Hava Yolu
- II. Demir Yolu
- III. Kara Yolu
- IV. Deniz Yolu

Baharat yolu yukarıdaki ulaşım sistemlerinin hangi-sinin gelişimine daha fazla katkı sağlar?

- A) I
- B) II
- C) III
- D) IV

10. Baharat Yolu tarihi ticaret yollarından biridir. Hindistan'da yetiştirilen tarım ürünleri Baharat Yolu aracılığıyla Avrupa'ya satılıyordu. Tarım ürünleri birçok alanda kullanılmaktaydı.

Aşağıdakilerden hangisi bu alanlardan biri değildir?

- A) İnsanların yiyecek ihtiyaçlarının karşılanması
- B) Ticarete takas aracı olarak kullanılması
- C) Kozmetik üretiminde kullanılması
- D) Sağlık alanı olan eczacılıkta ham madde olarak kullanılması

11. İpek Yolu üzerinde ticaret kervanlarının dinlenmeleri ve ihtiyaçlarını gidermeleri amacıyla belli mesafelerde yapılan yapılar aşağıdakilerden hangisidir?

- A) Külliye
- B) Medrese
- C) Kervansaray
- D) Hamam

12. İpek Yolu, Çin'i Asya üzerinden Anadolu ve Avrupa'ya bağlayan tarihî bir ticaret yoludur. Genel olarak ipek ve ipekli kumaş taşındığı için bu yola 1870 yılında "İpek Yolu" adı verilmiştir. İpek Yolu toplumlar arası etkileşimlere neden olan kervan yoludur.

Verilen parçada aşağıdakilerden hangisinin cevabı yoktur?

- A) İpek Yolu ne zaman kullanılmaya başlanmıştır?
- B) İpek Yolu üzerinde daha çok hangi ürün taşınmıştır?
- C) İpek Yolu adını kaç yılında almıştır?
- D) Bu yola İpek Yolu denilmesinin nedeni nedir?



13. İpek Yolu sadece bir ticaret yolu değil, aynı zamanda sosyal ve kültürel öneme de sahipti.

Buna göre;

- I. Türklerin Çinlilerle evlenmesi
- II. Toplumların birbirlerini tanınması
- III. Anadolu'nun ticaretle zenginleşmesi

yargılarından hangileri İpek Yolu'nun sosyal ve kültürel özelliklerindedir?

- A) Yalnız I
- B) I ve II
- C) II ve III
- D) Yalnız III

14. Aşağıdakilerden hangisi Baharat Yolu güzergahının olduğu ülkelerdir?

- A) Çin – Hindistan – Akdeniz
- B) Basra Körfezi – Çin – Mısır
- C) Hindistan – Mısır – Akdeniz
- D) Hindistan – Kızıldeniz – Mısır

15. Baharat Yolu'nun denetimi aşağıdaki padişahlardan hangisinin döneminde Osmanlı Devleti'ne geçmiştir?

- A) Fatih Sultan Mehmet
- B) Kanuni Sultan Süleyman
- C) Yavuz Sultan Selim
- D) Yıldırım Bayezid

16.

- I. İpek Yolu hakimiyeti için devletlerin birbiriyle savaşmaları
- II. Uygurların İpek Yolu üzerinde Maniheizm dinini öğrenmeleri
- III. Türklerin İpek Yolu üzerinden ticaret yapmaları
- IV. İpek Yolu sayesinde matbaa ve kağıdın batıya ulaşması

Yukarıdakilerden hangileri İpek Yolu'nun dini hayata etkisine örnek verilmiştir?

- A) Yalnız I
- B) I ve III
- C) II ve IV
- D) Yalnız II

17. İpek Yolu sayesinde yüzyıllar boyunca tüccarlar büyük kervanlar ile ticaret yapmışlardır. Tüccarlar İpek Yolu'na hakim olan devletlere geçiş ücreti ödemiş ve alışveriş yaparak bölge halkının gelirinin artmasına katkıda bulunmuşlardır.

Buna göre İpek Yolu'nun devletlere aşağıdaki alanların hangisinde katkı sağladığı söylenebilir?

- A) Ekonomik
- B) Dini
- C) Siyasi
- D) Sosyal

18. Aşağıdakilerden hangisi İpek Yolu'nun kültürel etkileşim sağladığının kanıtlarından biri değildir?

- A) İpek Yolu üzerinde ticaret yapan uygarlıkların birbirlerinin dinlerinden etkilenmeleri
- B) Çin kaynaklarında Batı uygarlıklarına ait olan bazı kelimelere rastlanması
- C) İpek Yolu'nda değerli ürünlerin ticaretinin yapılması
- D) Barut ve pusula gibi yeniliklerin Batı uygarlıklarına ulaşması



1 İpek Yolu, Çin'den başlayıp Anadolu, Akdeniz ve Avrupa'ya kadar uzanarak doğu ile batıyı birbirine bağlayan tarihî bir yoldur. İpek Yolu'nu kullanan kervanlar, Şian şehrinde hareket ederek Hazar Denizi'nin kuzeyine ve İran üzerinden hareketle Anadolu'ya ulaşırdı. Anadolu'ya ulaşan ürünler Akdeniz ve Trakya üzerinden Avrupa'ya taşınırdı. İpek Yolu üzerinde ipeğin yanı sıra; baharat, kürk, porselen, kâğıt, tahıl ve cam da taşınırdı. İpek Yolu yaklaşık olarak iki bin yıldır insanlık tarihinde devletler arası siyasi, ekonomik ve kültürel alanlarda önemli bir köprü olmuştur.

Buna göre İpek Yolu ile ilgili;

- I. en fazla Türklerin yararlandığı,
- II. devletler arasında birçok alanda etkileşimlerin yaşanmasına neden olduğu,
- III. sonraki dönemlerde önemini kaybettiği

yargılarından hangilerine ulaşılabilir?

- A) Yalnız II B) Yalnız III
C) II ve III D) I ve II

2 Günümüzde rahatça ve bolca ulaşabildiğimiz baharatı geçmişte elde etmek çok da kolay olmamıştır. Baharat üretimi birçok medeniyet tarafından bilinmemekteydi. Öyle ki XV. yüzyıla kadar Avrupa'da baharatın gramı gümüşle ve altınla yarışır durumdadır. Bu dönemden kalma belgelerde arazi alımları, gümrük vergileri gibi ödemelerin karabiberle yapıldığına rastlanmıştır. Yine aynı dönemde 10 gram Hindistan cevizi ile yedi ineğin takas edildiği bilgisine ulaşılmıştır.

Buna göre aşağıdakilerden hangisine ulaşılabilir?

- A) Baharata günümüzde sadece aktarlarda rastlanmaktadır.
B) Baharat kullanımı XV. yüzyıldan sonra artmıştır.
C) Günümüzde baharat tüketimi azalmıştır.
D) Baharat değerli bir ticaret ürünüdür.

3 Orta Asya'da yaşayan Türk devletlerinin ekonomik faaliyetleri üzerinde İpek Yolu'nun önemi büyüktür. Hun, Kök Türk ve Uygur devletleri başta olmak üzere Çin gibi pek çok devletle İpek Yolu'nu kullanarak ticaret yapmışlardır. Yapılan bu ticaretle ipek, baharat, kâğıt, porselen ve çeşitli taşlar taşınmıştır. Örneğin; Kök Türkler, İpek Yolu sayesinde komşu devletlere at, deri ve kürk satarken karşılığında çeşitli tarım ürünleri satın almışlardır. Uygurlar ise işledikleri kumaşları bu yol sayesinde diğer ülkelere satmışlardır. Binlerce kilometre uzunluğundaki bu önemli ticaret yoluna sahip olma isteği devletler arasında bu ticaret yolu için çeşitli mücadelelerin yaşanmasına da neden olmuştur. Örneğin, Sasaniiler ile Kök Türkler arasında bu ticaret yolu için çeşitli mücadeleler yaşanmıştır. Kök Türk kağanları İpek Yolu ticaretini kontrolleri altında tutabilmek için Bizans İmparatorluğu ile anlaşma yaparak Sasaniilere karşı ittifak kurmuşlardır.

Buna göre aşağıdaki yargılardan hangisine ulaşmaz?

- A) Birçok devlet İpek Yolu hâkimiyeti için birbirleriyle mücadele etmiştir.
B) İpek Yolu üzerinden birçok ürün taşınmıştır.
C) Bizans İmparatorluğu'nun İpek Yolu'na hâkim olması Türklerin ittifak arayışına girmesine neden olmuştur.
D) Hun, Kök Türk ve Uygur gibi Türk devletleri Çin ile ticaret yapmışlardır.

4 İpek Yolu, Çin'i Asya üzerinden Anadolu ve Avrupa'ya bağlayan tarihî bir ticaret yoludur. Genel olarak ipek ve ipekli kumaş taşındığı için bu yola 1870 yılında "İpek Yolu" adı verilmiştir. İpek Yolu toplumlar arası etkileşimlere neden olan kervan yoludur.

Yukarıda verilen parçada aşağıdaki sorulardan hangisinin cevabı yoktur?

- A) İpek Yolu üzerinde hangi ürünler taşınmıştır?
B) İpek Yolu ne zaman kullanılmaya başlanmıştır?
C) İpek Yolu adını kaç yılında almıştır?
D) Bu yola İpek Yolu denilmesinin nedeni nedir?



5 İlk çağlarda Doğu ülkelerini Batı ülkelerine bağlayan önemli ticaret yollarından biri de Baharat Yolu'ydu. Baharat günümüzden binlerce yıl önce Doğu uygarlıkları tarafından kullanılmaktaydı. Baharat, Orta Çağ'da Avrupa soylularının sofrasına girince önemli bir ticaret ürünü hâline geldi. Ancak baharatın çok uzak coğrafyalarda Avrupa sofralarına gelmesi pahalı olmasına neden oldu. Bu yüzden sadece zenginler tarafından tüketildi.

Buna göre aşağıdaki yorumlardan hangisi yapılamaz?

- A) Baharat Yolu Doğu – Batı kültürünün birbiriyle karşılaşmasını sağlamıştır.
- B) Baharatın ekonomik değerinin yüksek olması sadece belirli kişiler tarafından kullanılmasına neden olmuştur.
- C) Baharat Yolu tarihî bir ticaret yoludur.
- D) Doğu lezzetleri Batı lezzetlerinden daha ayrıcalıklı bir hâle gelmiştir.

6 Orta Asya'da İpek Yolu denetiminin uzun süre Türk devletlerinin elinde bulunması, ekonomik anlamda daha da güçlenmelerini sağlamıştır. Çinliler, başta evlilik yolu olmak üzere farklı yollarla Türk devletlerine yaklaşarak, İpek Yolu'nun sağladığı ekonomik yararları öğrenmişlerdir. Bu yüzden Çinliler, Türklerin elindeki İpek Yolu hâkimiyetini ele geçirmek için uzun yıllar mücadele etmişlerdir. Türk devletleri de İpek Yolu'nun denetimini kaybetmemek için Çin'le mücadelenin yanı sıra bazen Sasaniler ile bazen de Bizans ile iş birliği yapmak durumunda kalmışlardır. Çıkar çatışmaları ittifakların bozulmasına hatta savaflara neden olmuştur. Selçuklular ve Osmanlılar zamanında Anadolu, doğu-batı ticaret kervanlarına ev sahipliği yapmıştır.

Buna göre İpek Yolu;

- I. mali
- II. kültür
- III. siyasi
- IV. sosyal

alanlarının hangilerini etkilemiştir?

- A) Yalnız I
- B) I ve II
- C) III ve IV
- D) I, II, III ve IV

7 Baharat günümüzden binlerce yıl önce doğu ülkelerinde kullanılıyordu. Kullanılan baharatların çoğu da Hindistan'da bulunuyordu. Karabiber, zerdeçal, tarçın, yenibahar, zencefil, karanfil vb. baharat türleri Orta Çağ Avrupası'nda çok önemliydi. Bu baharatlar Avrupalı zenginlerin de vazgeçilmez tatlarıydı. Sadece sofralarda değil eczacılıkta, parfümlerde ve tütsülerde de kullanılıyordu. Hindistan'daki baharatların Basra Körfezi, Kızıldeniz ve Mısır yoluyla Akdeniz'e, buradan gemilerle Avrupa'ya taşınmasında kullanılan tarihî ticaret yoluna Baharat Yolu denir. Baharat ticareti uzun yıllar Müslümanlarla Venediklilerin elinde kaldı. Yavuz Sultan Selim Dönemi'nde ticaret yolunun, kontrolü Osmanlı Devleti'ne geçti. Ancak Coğrafi Keşiflerin yapılmasından sonra Baharat Yolu eski önemini yitirdi.

Buna göre baharatlar ile ilgili;

- I. farklı kullanım alanlarına sahip olduğu,
- II. Avrupa'ya taşınmasında farklı yolların kullanıldığı,
- III. en önemli türünün karabiber olduğu

yargılarından hangilerine ulaşamaz?

- A) Yalnız I
- B) I ve III
- C) Yalnız III
- D) I, II ve III

8 İpek Yolu'nda yalnızca tüccarlar değil, yol üzerindeki ülkeler, şehirler ve köyler büyük kazanç elde etmişlerdir. Tüccarlar yolculukları sırasında birçok ülke, şehir ve köy gezmişlerdir. Gezdikleri yerlerin dillerini, sanatlarını, yemeklerini öğrenmişlerdir.

Buna göre İpek Yolu;

- I. siyasi,
- II. kültür,
- III. ekonomi,
- IV. askeri

alanlarından hangilerine katkı sağlamıştır?

- A) Yalnız I
- B) II ve III
- C) Yalnız III
- D) III ve IV

Aşağıdaki sorulara verilen kavramlardan uygun olanı seçerek cevap veriniz.

Destan, Kitabe (Yazıt), Kavimler Göçü, sav, yabgu, ikili teşkilat, kurgan, II. Kök Türk Devleti, kurultay (toy, kengeş), budun, töre, hatun, kağan, kut anlayışı, han, sultan, bimarhane, Saltuklular, kervansaray, Kutadgu Bilig, Atabetü'l Hakayık, Siya-setname, Ahi Teşkilatı, Hudeybiye, ribat, Gazneliler, Biruni, Nevruz, Karahanlılar, Hıdırellez, Miryokefalon Savaşı, Divan-û Lügatit Türk, Malazgirt Savaşı, Baharat Yolu, Danişmentliler, Lonca Teşkilatı, Saltuklular, Ali Kuşçu, bedesten, İpek Yolu, Selahaddin Eyyubi, Sasani Devleti, Bizans, Alparslan, Çaka Beyliği, Pasinler Savaşı, ensar, hicret, divan, muhacir, balbal, Muhammed-ül Emin, halife, mevali, yağ, Bedir Savaşı, I. Kök Türk Devleti, Uhud Savaşı, sagu

1. Genelde anıtsal bir eserin üzerine tanıtım ve bilgilendirme amaçlı yazılmış yazıya ne denir?
Cevap:
2. Hunların batıya doğru göç ederek Avrupa'da başlattığı göç hareketine ne denir?
Cevap:
3. Bir milletin başından geçen savaş, göç ve istilâ gibi tarihi olayları anlatan hikâyeci metinlere ne denir?
Cevap:
4. Eski Türklerde cenaze törenine verilen ad hangisidir?
Cevap:
5. İlk Türklerde devletin doğu ve batı şeklinde yönetilmesine ne denir?
Cevap:
6. İlk Türklerde ölümlerin eşyaları ile gömüldüğü mezara verilen ad hangisidir?
Cevap:
7. Mekkeli müşriklerin baskısı karşısında Hz. Muhammed ve Müslümanların Medine'ye göç etmesine ne denir?
Cevap:
8. İlk Türk devletlerinde devlet işlerinin görüşüldüğü ve hükümdarın başkanlık yaptığı meclise ne denir?
Cevap:
9. Müslümanların imamlığını ve İslam dininin koruyuculuğunu yapmakla görevli kişiye verilen unvan hangisidir?
Cevap:
10. İlk Türklerde hükümdarın eşine verilen ad hangisidir?
Cevap:
11. Hz. Muhammed peygamber olmadan önce çevresi tarafından güvenilir olarak bilindiği için kendisine ne denirdi?
Cevap:
12. İlk Türklerde mezar taşlarına verilen ad hangisidir?
Cevap:
13. İlk Türklerde hükümdarların Gök Tanrı'dan yönetme yetkisini alarak ülkeyi yönettikleri inancına verilen ad hangisidir?
Cevap:
14. İlk Türklerde ailelerin bir araya gelerek oluşturdukları boyların birleşmesiyle meydana gelen kavimlere ne denir?
Cevap:
15. İlk Türklerde ülkenin batı kanadını yöneten hanedan üyesi ne verilen ad hangisidir?
Cevap:
16. İlk Türklerde sözlü hukuk kurallarına verilen ad hangisidir?
Cevap:
17. Mekke'den Medine'ye göç eden Müslümanlara ne denir?
Cevap:
18. İlk Türklerde yaşam biçimlerini anlatan atasözlerine verilen ad hangisidir?
Cevap:
19. Medineli Müslümanlar ile Mekkeli müşrikler arasında 624 yılında yapılan savaş hangisidir?
Cevap:
20. Hz. Ömer zamanında devlet işlerinin görüşülmesi için kurulan teşkilatın adı nedir?
Cevap:
21. İlk Türklerde hükümdarın kullandığı unvan hangisidir?
Cevap:
22. Mekke'den Medine'ye hicret edenlere yardım eden Medineli Müslümanlara verilen ad hangisidir?
Cevap:

23. Elli yıl kadar Çin esareti altında yaşayan Türk devleti hangisidir?

Cevap:

24. Hz. Muhammed'in (sav.) görevlendirdiği okçuların yerlerini terk etmesiyle kaybedilen savaş hangisidir?

Cevap:

25. Mekkeli müşriklerin Müslümanları hukuken tanıdığı antlaşma hangisidir?

Cevap:

26. Türkiye Selçukluları zamanında ticaret yolları üzerinde tüccarların dinlenmek için konakladıkları mekân hangisidir?

Cevap:

27. Müslüman Türk devletlerinde hastanelere verilen ad hangisidir?

Cevap:

28. Ticaretin canlanması ve güvenliği için Karahanlılar zamanında yapılan kervansaraylara ne ad verilir?

Cevap:

29. Türklerin İslam dinine geçmesinden sonra hükümdarların kullandığı unvan hangisidir?

Cevap:

30. Türkiye Selçuklu Devleti'nde esnaf birliğine verilen ad hangisidir?

Cevap:

31. Yûsuf Hâs Hâcip tarafından yazılmış ve mutluluk veren bilgi anlamına gelen eser hangisidir?

Cevap:

32. Kâşgarlı Mahmut tarafından yazılan Türkçe-Arapça sözlük hangisidir?

Cevap:

33. Büyük Selçuklu Devleti Veziri Nizamülmülk'ün eseri hangisidir?

Cevap:

34. Edip Ahmet Yükneki tarafından kaleme alınan eser hangisidir?

Cevap:

35. Anadolu'nun kapılarını Türklere açan savaş hangisidir?

Cevap:

36. 1040 yılında Selçuklularla yaptıkları Dandanakan Savaşı'nda yıkılma sürecine giren devlet hangisidir?

Cevap:

37. Orta Asya'da kurulan ilk Müslüman Türk devleti hangisidir?

Cevap:

38. Gazne hükümdarı Sultan Mahmut'un "sarayımın en değerli hazinesi" ifadesini kullandığı bilim insanı hangisidir?

Cevap:

39. Türklerin yılın ilk günü kabul ettikleri 21 Mart'ta çeşitli etkinliklerle kutladıkları bayram hangisidir?

Cevap:

40. Bizanslılarla Büyük Selçuklular arasında yapılan ilk büyük savaş hangisidir?

Cevap:

41. Hindistan, Kızıldeniz ve Mısır'dan Avrupa'ya uzanan ticaret yolu hangisidir?

Cevap:

42. Türkler'in İpek Yolu'nun denetimi için iş birliği yaptığı devlet hangisidir?

Cevap:

43. Hittin Savaşı ile Kudüs'ü alan kişi kimdir?

Cevap:

44. Denizcilikle uğraşan ilk Türk beyliği hangisidir?

Cevap:

45. Anadolu'da kurulan ilk Türk beylikleri içerisinde en güçlü olan beylik hangisidir?

Cevap:



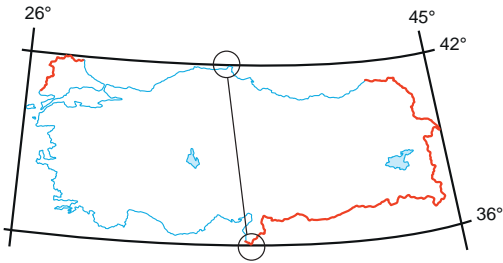
7.

- ◆ Türkiye; Asya, Avrupa ve Afrika'nın birbirine en çok yaklaştığı yerde bulunur. Avrupa'daki topraklarımıza adı verilir.
- ◆ Dünya'nın Ekvator'dan şişkin, kutuplardan basık olan kendine özgü şekline denir.

Yukarıda verilen boşluklara getirilecek kavramlar sırasıyla aşağıdakilerden hangisidir?

- A) Asya – eksen
- B) Anadolu – kıta
- C) Rumeli – konum
- D) Trakya – geoid

8.



Ülkemizin en kuzeyi ile en güneyi arasındaki kuş uçuşu mesafe kaç kilometredir?

- A) 111 km
- B) 754 km
- C) 666 km
- D) 360 km

9.

- ◆ Türkiye'de dört mevsim belirgin olarak yaşanır.
- ◆ Türkiye başlangıç meridyeninin doğusunda bulunmaktadır.
- ◆ Türkiye Ekvator'un kuzeyinde yer almaktadır.

Yukarıda aşağıdakilerden hangisi ile ilgili bilgi verilmiştir?

- A) Türkiye'nin mutlak konumuyla
- B) Türkiye'nin göreceli konumuyla
- C) Türkiye'nin stratejik konumuyla
- D) Türkiye'nin Dünya üzerindeki önemiyle

10. Meridyenlerin özellikleri ile ilgili aşağıdaki bilgilerden hangisi yanlıştır?

- A) Meridyenler kuzey–güney doğrultusunda uzanır.
- B) Ardışık iki meridyen arasındaki yerel saat 4 dakikadır.
- C) Meridyenlerin toplamı 360'tır.
- D) Meridyenlerin uzunlukları birbirine eşit değildir.

11. Sosyal Bilgiler Öğretmeni Sümeyye Hanım 6/A sınıfı öğrencilerinden Beyza'nın sorduğu soruya şu cevabı vermiştir:

Türkiye; Asya, Avrupa ve Afrika kıtalarının birbirine en çok yaklaştığı yerdedir. Çanakkale ve İstanbul boğazlarına sahiptir. Uluslararası ticaret yolları üzerindedir. Zengin petrol yataklarına sahip Orta Doğu ülkelerine komşudur. Akdeniz ile Karadeniz arasında doğuda Kafkaslar'a, batıda Balkanlar'a kadar uzanan geniş bir alana sahiptir.

Öğretmenin verdiği cevap dikkate alındığında Beyza aşağıdaki sorulardan hangisini sormuştur?

- A) Matematik konum nedir?
- B) Türkiye'nin özel konumu nedir?
- C) Ekonomi nedir?
- D) Meridyen ve paralel ne işe yarar?

12. Bir yerin dünya üzerinde bulunduğu yere coğrafi konum denir. Coğrafi konum mutlak (matematik) ve göreceli (özel) konum olmak üzere ikiye ayrılır.

Buna göre bir yerin mutlak konumu tanımlanırken aşağıdaki kavramlardan hangisi kullanılır?

- A) Denizellik
- B) Yükselti
- C) Enlem
- D) Karasallık



1.

- I. Yeraltı kaynakları bakımından zengin olması
- II. İstanbul ve Çanakkale boğazlarına sahip olması
- III. Batıdan doğuya gittikçe yükseltinin artması
- IV. Dağların kuzey yamaçlarının güney yamaçlarından daha soğuk olması

Yukarıdakilerden hangisi Türkiye'nin göreceli konumu ile ilgili değildir?

- A) I B) II C) III D) IV

2.

- I. Ekvator'dan kutuplara doğru gidildikçe boyları kısalır.
- II. Kutuplarda birleşirler.
- III. Dereceleri doğu ve batı yönüne gidildikçe büyür.
- IV. 90 tane kuzeyde 90 tane güneyde olmak üzere 180 tanedir.

Yukarıda verilen paralel ve meridyen özelliklerinin doğru eşleştirilmesi aşağıdakilerden hangisidir?

	Paralel	Meridyen
A)	I - II	III - IV
B)	I - III	II - IV
C)	III - II	I - IV
D)	I - IV	II - III

3. Öğrencinin sorduğu soruya öğretmen şu cevabı vermiştir:

"Ülkemiz Kuzey Yarım Küre'de yer aldığı için yamaçların ya da binaların güney tarafları Güneş ışınlarını daha dik açıyla alır. Bu da sıcaklığın artmasına neden olduğu için güneşe bakan yamaçlarda sıcaklık daha fazla olur, ormanlar daha yükseklere kadar çıkar, tarım daha yükseklere kadar yapılır, karlar daha çabuk erir."

Öğretmenin verdiği cevap dikkate alındığında öğrenci aşağıdaki sorulardan hangisini sormuştur?

- A) Türkiye'nin özel konumu nedir?
- B) Türkiye'nin başlangıç meridyenine göre konumu nedir?
- C) İklimin olumlu ve olumsuz etkileri nelerdir?
- D) Türkiye'nin bakı etkisi nedir?

4. Kutuplarda nokta hâlini alan ve Doğu-batı doğrultusunda uzanan çizgilere ne denir?

- A) Paralel B) Meridyen
C) Ekvator D) Konum

5.

- ◆ Türkiye'nin doğusu ile batısı arasında 76 dakikalık zaman farkı vardır. ()
- ◆ Türkiye doğal kaynaklar bakımından yoksul bir ülkedir. ()
- ◆ En büyük paralel dairesi Ekvator'dur. ()
- ◆ Dünya üzerinde bulunan bir yerin, Ekvator ve başlangıç meridyenine olan uzaklığına göreceli konum denir. ()

Yukarıda verilen bilgilerden doğru olanların karşısına (D), yanlış olanların karşısına da (Y) yazılacaktır.

Buna göre doğru işaretleme hangi seçenekte verilmiştir?

- A) D, D, Y, D B) Y, D, D, D
C) D, Y, D, Y D) Y, Y, D, Y

6. Türkiye'nin mutlak konumu ile ilgili aşağıda verilen bilgilerden hangisi yanlıştır?

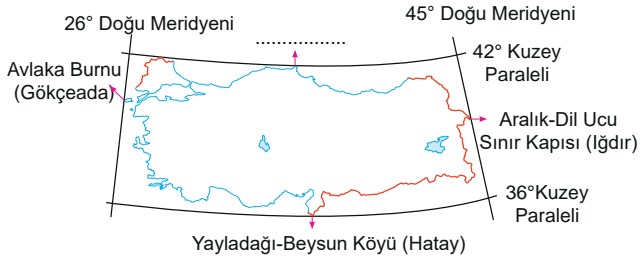
- A) En güneyimizde 36° Güney paraleli yer alır.
- B) En kuzey ilimiz Sinop'tur.
- C) En batımızda 26° Doğu meridyeni yer alır.
- D) En doğumuzda 45° Doğu meridyeni yer alır.



7. Aşağıdakilerden hangisi Türkiye'nin göreceli konumunun özelliklerinden biri değildir?

- A) Üç tarafı denizlerle çevrilidir.
- B) Batıdan doğuya doğru yükseltisinin artmasından dolayı doğuya doğru sıcaklıklar azalır.
- C) Tarih boyunca birçok medeniyete ev sahipliği yapmıştır.
- D) Başlangıç meridyeninin doğusunda yer alır.

8.



Yukarıdaki haritada Türkiye'nin matematik konumunu gösteren sınırlar verilmiştir.

Buna göre, haritada noktalı alana aşağıdaki sınırlardan hangisi yazılmalıdır?

- A) İnceburun (Sinop)
- B) Enez (Edirne)
- C) Finike (Antalya)
- D) Altındağ (Ankara)

9.

- I. Yayla turizminin gelişmiş olması
- II. Yağış rejiminin düzenli olması
- III. Nüfusun kıyı kesimlerinde yoğunlaşması
- IV. Gece ve gündüz arasındaki zaman farkının fazla olması

X ülkesi ile ilgili yukarıda verilen özelliklerden hangileri matematik konum ile ilgilidir?

- A) Yalnız I
- B) II ve III
- C) Yalnız IV
- D) III ve IV

10. Türkiye özel konumuna bağlı olarak Asya, Avrupa ve Afrika kıtalarının birbirine en çok yaklaştığı yerde; Akdeniz, Ege ve Karadeniz arasında bulunmaktadır.

Buna göre aşağıdakilerden hangisi ülkemizin özel konumu ile açıklanamaz?

- A) Kuzeyden esen rüzgârların sıcaklığı düşürmesi
- B) Dünyadaki petrolün önemli bir kısmına sahip olan Orta Doğu ülkelerine komşu olması
- C) Eğim ve engebenin fazla olması
- D) Üç kıtayı birbirine bağlayan noktada olması

11. Aşağıdakilerden hangisi Türkiye'nin mutlak konumu ile ilgili değildir?

- A) Güneyden kuzeye gidildikçe güneş ışınlarının geliş açısının küçülmesi
- B) Yer altı kaynakları bakımından zengin olması
- C) Cephesel yağışların görülmesi
- D) Güneyden esen rüzgarların sıcaklığı yükseltmesi

12. Sosyal Bilgiler Öğretmeni Zeynep "Dünya üzerinde herhangi bir yerin paralel ve meridyen değerleriyle belirtilen konumuna matematik konum denir." açıklamasını yaptıktan sonra öğrencilerine Türkiye'nin matematik konumunu sormuştur.

Öğrencilerin verdikleri cevaplar şunlardır:

Tuana: 36°– 42° kuzey paralelleri, ile 26°– 45° doğu meridyenleri

Remzi: 26°– 45° kuzey paralelleri, ile 36°– 42° doğu meridyenleri

Hasan: 46°– 42° kuzey paralelleri, ile 36°– 45° doğu meridyenleri

Ravza: 16°– 22° kuzey paralelleri, ile 21°– 49° doğu meridyenleri

Buna göre öğrencilerden hangisinin verdiği cevap doğrudur?

- A) Tuana
- B) Remzi
- C) Hasan
- D) Ravza



13. Aşağıdakilerden hangisi Türkiye'deki özel konumun iklim üzerindeki etkisine örnek gösterilemez?

- A) Marmara Bölgesi'nde çeşitli iklimlerin görülmesi
- B) Ege kıyılarının Marmara kıyılarına göre daha sıcak olması
- C) Ege Bölgesi'nde Akdeniz ikliminin geniş alanlarda görülmesi
- D) İç Anadolu'nun yurdumuzun en az yağış alan bölgesi olması

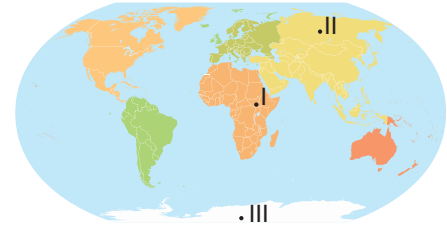
14. Türkiye'nin dünyanın en önemli petrol ve doğal gaz rezervine sahip Orta Doğu ve Hazar Denizi ile önemli ulaştırma yollarının kavşağında bulunan Akdeniz Havzası'nda yer alması aşağıdakilerden hangisiyle ilgilidir?

- A) Bulunduğu yarım kürenin etkisi
- B) Enlemin etkisi
- C) Göreceli konum
- D) Matematik konum

15. Aşağıdakilerden hangisi Türkiye'nin farklı bir konuma ait özelliğidir?

- A) Doğuda sıcaklıkların kışın -30°C 'lere kadar düşmesi
- B) En uzun gölge boyunun yıl için Sinop'ta görülmesi
- C) Kuzeyden gelen rüzgârların sıcaklıkları düşürmesi
- D) Türkiye'nin cephesel yağışların etkisinde kalması

16.



Numaralarla gösterilen yerlere aşağıdaki kıtaların hangileri yazılmalıdır?

	I	II	III
A)	Afrika	Avrupa	Antarktika
B)	Avrupa	K. Amerika	Asya
C)	Asya	Afrika	G. Amerika
D)	Afrika	Asya	Antarktika

17. Ekvator'un kuzeyinde ve başlangıç meridyeninin batısında yer almaktadır. Kıtanın doğusunda Atlas Okyanusu, batısında ise Büyük Okyanus vardır. Kuzey Kutup Noktası'na yakındır.

Hakkında bilgi verilen kıta aşağıdakilerden hangisidir?

- A) Avrupa Kıtası
- B) Asya Kıtası
- C) Afrika Kıtası
- D) Kuzey Amerika Kıtası

18.

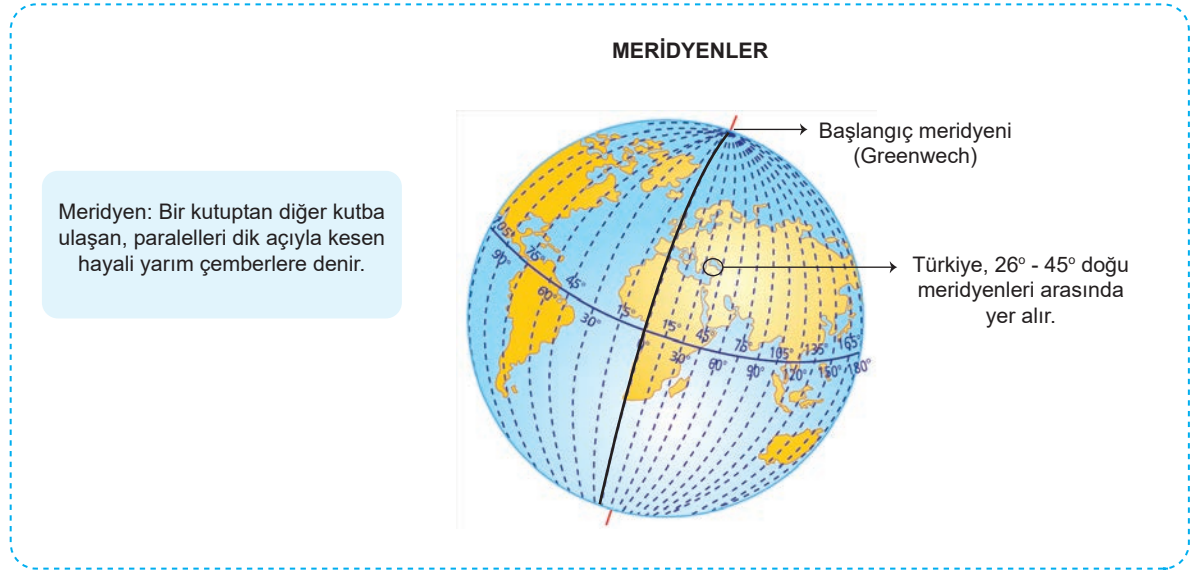
20°D	25°D	30°D	40°D	
	a		d	45°K
	b	c	e	40°K
				30°K
				20°K

Coğrafi koordinatları verilen yerlerin hangisinde Türkiye'nin toprakları bulunmaz?

- A) a, b, c
- B) c, d, e
- C) a, b
- D) d, e



1



Yukarıda verilen bilgilere bakılarak aşağıdaki yorumlardan hangisi yapılamaz?

- A) Meridyenler kutup noktalarında birleşirler.
- B) Ülkemizin doğusu ile batısı arasında 19 meridyen vardır.
- C) Meridyenlerin boyları Ekvator'dan kutuplara doğru kısalır.
- D) Türkiye'nin doğusundan batısına doğru gidildikçe meridyen dereceleri küçülür.

2



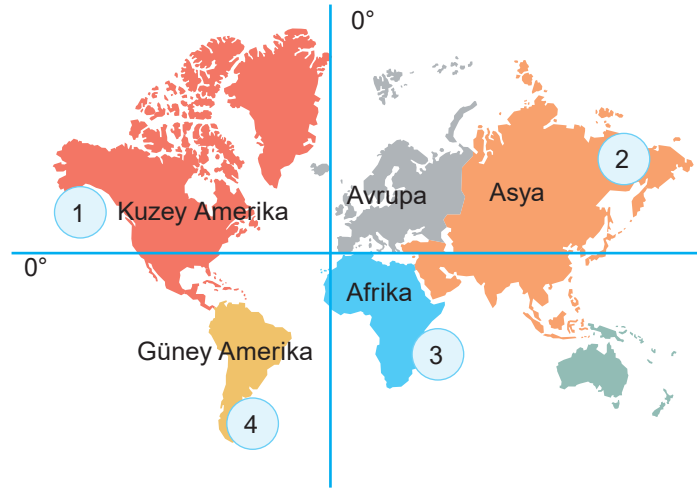
Yukarıdaki haritada Türkiye'nin bulunduğu matematik (mutlak) konum verilmiştir.

Türkiye'nin matematik konumu ile ilgili aşağıdaki yorumlardan hangisi yapılamaz?

- A) Üç tarafı denizlerle çevrilidir.
- B) Kuzey Yarım Küre'de yer almaktadır.
- C) 36° - 42° kuzey paralelleri ile 26° - 45° doğu meridyenleri arasında yer almaktadır.
- D) Akdeniz kıyıları Karadeniz kıyılarından daha sıcaktır.



3



Üniversiteden mezun olan Adil, Betül, Ceyda ve Deniz isimlerindeki dört arkadaş yurt dışında çalışmaya karar vermişlerdir. Bu arkadaşlardan:

- ◆ Adil'in çalışacağı şehir Ekvator'un güneyinde Hint Okyanusu kıyısındadır.
- ◆ Betül'ün çalışacağı şehir başlangıç meridyenin (Greenwich'in) batısında Büyük Okyanus kıyısındadır.
- ◆ Ceyda'nın çalışacağı şehir Dünya'nın en geniş kıtasında yer almaktadır.
- ◆ Deniz'in çalışacağı şehir arkadaşlarının çalışacağı şehirlere göre Güney Kutbu'na daha yakındır.

Buna göre Adil, Betül, Ceyda ve Deniz verilen haritada numaralandırılmış şehirlerden hangilerinde çalışacaktır?

	Adil	Betül	Ceyda	Deniz
A)	2	3	1	4
B)	3	1	2	4
C)	4	2	3	1
D)	1	2	4	3

4 Aşağıdaki tabloda kıtalar ve bu kıtaların yüz ölçümleri verilmiştir.

Kıtalar ve Kaptadıkları Alanlar	
Asya	44. 337. 317 km ²
Afrika	30. 221. 652 km ²
Kuzey Amerika	24. 242. 363 km ²
Güney Amerika	17. 795. 429 km ²
Antarktika	13. 189. 925 km ²
Avrupa	10. 181. 129 km ²
Okyanusya	8. 982. 439 km ²

Tablodaki bilgilere göre aşağıdakilerden hangisine ulaşamaz?

- A) Kuzey ve Güney Amerika kıtalarının kaptadıkları alanın toplamı Asya Kıtası'nın kaptadığı alandan azdır.
- B) Kaptadığı alan bakımından en küçük kıta Avrupa Kıtası'dır.
- C) Antarktika Kıtası'nın kaptadığı alan Okyanusya Kıtası'ndan daha fazladır.
- D) Afrika ve Güney Amerika kıtalarının kaptadığı alanların toplamı Asya Kıtası'nın kaptadığı alandan fazladır.



1. Çevresine göre yüksekte kalmış, akarsular tarafından derin yarılmış düzlüklere denir. yurdumuzdaki örneklerinden biridir.

Yukarıdaki boşluklara sırasıyla aşağıdakilerden hangileri gelmelidir?

- A) plato – Haymana
B) ova – Konya
C) vadi – Büyük Menderes
D) delta – Çukurova

2. Aşağıdakilerden hangisi Türkiye'nin iklimini etkileyen faktörlerden biri değildir?

- A) Bitki örtüsü B) Yükselti
C) Bakı D) Rüzgâr

3. Ülkemiz dağlarının kuzeyde ve güneyde kıyıya paralel uzanması kıyı ile iç kesimler arasında belirgin bir iklim farklılığına yol açar. Dağların kıyıya dik uzandığı Ege Bölgesi'nde Akdeniz iklimi iç kesimlere kadar ulaşabilmektedir.

Buna göre kıyı bölgelerimizde iklimin farklı olması aşağıdakilerden hangisi ile açıklanabilir?

- A) Nüfusun fazla olmasıyla
B) Dağların kıyıya uzanış şekliyle
C) Tarım alanlarının az olmasıyla
D) Denizcilik faaliyetlerinin gelişmemesiyle

4. Türkiye fiziki haritasında kahverengi ile gösterilen yeryüzü şekli aşağıdakilerden hangisidir?

- A) Ova B) Plato
C) Dağ D) Yarımada

5. Berat, yaz tatilinde gezdiği bölgenin ismini soran arkadaşlarına bölgenin adını unuttuğunu söylemiş, bölgenin özelliklerini saymıştır:

- ◆ Yazlar sıcak ve kurak, kışlar ılık ve yağışlıdır.
- ◆ Kış mevsiminin ılık geçmesi seracılık yapılmasına imkân sağlar.
- ◆ Bitki örtüsü kısa boylu ağaç ve çalı topluluğu olan makilerdir.

Berat'ın saydığı özellikler dikkate alındığında yaz tatilinde hangi bölgemizi gezdiği söylenebilir?

- A) Karadeniz
B) Akdeniz
C) Güneydoğu Anadolu
D) Doğu Anadolu

6. Bir yerin güneşe dönük olma durumudur. Güneş'e dönük yamaçlar, gölgede kalan yamaçlara göre güneş ışınlarını daha büyük açılarla alır ve daha fazla ısınır.

Yukarıda iklimi etkileyen faktörlerin hangisinden bahsedilmektedir?

- A) Ekvator'a uzaklık
B) Denizellik
C) Dağların uzanış yönü
D) Bakı

7. Türkiye fiziki haritasından yararlanarak aşağıdakilerden hangisini tespit edebiliriz?

- A) Nüfusun niteliğini
B) Nüfus sayısını
C) Yeryüzü şekillerini
D) Nüfus dağılışını



8.

- ◆ Dört tarafı sularla çevrili olan kara parçasıdır.
- ◆ Akarsuların yatağını aşındırarak oluşturduğu yeryüzü şekilleridir.
- ◆ Kara parçalarının denizin içine doğru uzanmış bölümleridir.

Yukarıda verilen açıklamalar yeryüzü şekilleri ile ilgili eşleştirildiğinde hangisi dışta kalır?

- A) Göl B) Vadi
C) Ada D) Burun

9.

- ◆ En fazla yağış kış mevsiminde görülür ve yağışlar yağmur şeklindedir.
- ◆ Akdeniz, Ege ve Marmara Deniz'nin kıyı kesimlerinde görülür.
- ◆ Güneşli gün sayısı fazla olduğu için etkili olduğu yerlerde kıyı turizmi gelişmiştir.
- ◆ Defne, zakkum, mersin, zeytin, keçi boynuzu, kekik ve ada çayı yetişir.

Yukarıda özellikleri verilen iklim aşağıdakilerden hangisidir?

- A) Karadeniz İklimi B) Akdeniz İklimi
C) Karasal İklim D) Tundra İklimi

10. Aşağıdakilerden hangisi karasal iklimin özelliklerinden biri değildir?

- A) Kışlar soğuk ve kar yağışlıdır.
B) Türkiye'de etki alanı en geniş olan iklimdir.
C) Doğal bitki örtüsü iğne yapraklı ormanlardır.
D) Yazlar sıcak ve kuraktır.

11.

- I. Karalar üzerindeki çukur alanlarda birikmiş ve belirli bir akıntısı olmayan durgun su kütlesidir.
- II. Çevresine göre daha yüksek olan yeryüzü şeklidir.
- III. Çevresine göre alçakta kalmış geniş düzlüktür.

Yukarıda tanımları verilen terimler aşağıdakilerden hangisinde sırasıyla doğru olarak verilmiştir?

	I	II	III
A)	Göl	Dağ	Ova
B)	Dağ	Ova	Göl
C)	Ova	Göl	Dağ
D)	Dağ	Göl	Ova

12.

- ◆ Yazlar serin, kışlar ılık ve yağışlı geçer.
- ◆ Yağış en fazla sonbahar mevsiminde düşer.
- ◆ Yıl boyunca nem fazla olduğu için yıllık ve günlük sıcaklık farkları azdır.
- ◆ Nem ve yağış isteği fazla olan fındık, çay ve mısır bu iklimin görüldüğü yerlerde yetiştirilir.

Hakkında bilgi verilen iklim aşağıdakilerden hangisidir?

- A) Akdeniz iklimi B) Karasal iklim
C) Kutup iklimi D) Karadeniz iklimi

13.

- ◆ 0 metre ile 500 metre arasında olan yükseltiler renk ile gösterilir.
- ◆ Sulama veya içme suyu sağlamak ya da su gücünden yararlanmak amacıyla akarsu üzerine yapılan setlere denir.

Yukarıda verilen bilgilerin doğru olabilmesi için verilen boşluklara sırasıyla aşağıdakilerden hangisi getirilmelidir?

- A) mavi – ova B) sarı – göl
C) yeşil – baraj D) turuncu – deniz



1.

- I. Geldikleri yerin sıcaklık koşullarını estikleri yerlere taşıyan hava akımlarına rüzgâr denir.
- II. Lodos ülkemize kuzeybatı yönünden esen bir rüzgârdır.
- III. Sıcak yerlerden esen rüzgârlar hava sıcaklığını artırır.
- IV. Lodos, ülkemizdeki sıcaklığı kış aylarında artırır.

Yukarıda verilen bilgilerden hangisi yanlıştır?

- A) I B) II C) III D) IV

2.

Bir bölgenin yer şekillerini yani dağlarını, ovalarını, platolarını, vadilerini, akarsularını ve göllerini göstermede kullanılan haritalara fiziki harita denir. Fiziki haritalarda yer şekillerini daha belirgin gösterebilmek ve yer şekillerinin daha iyi anlaşılmasını sağlamak için yükselti basamaklarına göre renk verilir.

Türkiye'nin fiziki haritasından yararlanarak aşağıdakilerden hangisi söylenemez?

- A) Yükseltisi en fazla olan bölgemiz Doğu Anadolu Bölgesi'dir.
- B) En çok orman Marmara Bölgesi'ndedir.
- C) Yükseltisi en az olan bölgemiz Marmara Bölgesi'dir.
- D) Yükselti batıdan doğuya doğru gittikçe artmaktadır.

3.

- I. Muson İklimi
- II. Karadeniz İklimi
- III. Akdeniz İklimi
- IV. Karasal İklim

Yukarıda verilen kaç numaralı iklim ülkemizde görülmez?

- A) I B) II C) III D) IV

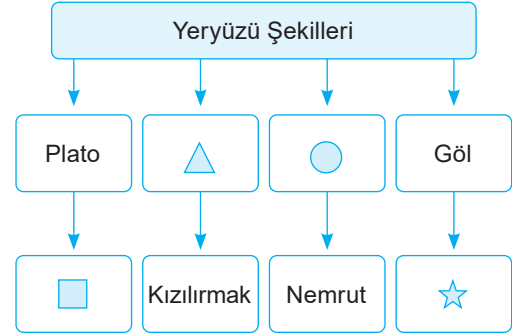
4.

- I. Ülkemizde platoların en fazla bulunduğu yer Tuz Gölü çevresidir.
- II. Kahverengi renkler yükseltinin 0–500 m arasında olduğunu gösterir.
- III. Mavi rengin tonu koyulaştıkça deniz ve göllerde derinliğin arttığı anlaşılır.
- IV. Beyaz renkler buzulların ve dağların zirvesindeki kalıcı karları gösterir.

Yukarıda verilen bilgilerden hangileri yanlıştır?

- A) I ve II B) Yalnız II
C) Yalnız III D) III ve IV

5.



Yukarıdaki şemada sembol bırakılan yerlere sırasıyla aşağıdakilerden hangileri getirilmelidir?

- | | | | |
|--|---|---|---|
| | ▲ | ● | ☆ |
|--|---|---|---|
- A) Bafra Akarsu Dağ Beyşehir
 - B) Cihanbeyli Akarsu Vadi Seyhan
 - C) Haymana Akarsu Dağ Eğirdir
 - D) Taşeli Ova Dağ Bafa

6. Yükselti ve engebenin fazla olduğu yerlerle ilgili;

- I. Sıcaklık ortalaması yüksektir.
- II. Diğer bölgelerden göç alır.
- III. Sanayi ve ticaret gelişmiştir.
- IV. Nüfusu azdır.
- V. Ulaşım gelişmemiştir.

yukarıdaki değişmelerden hangileri söylenemez?

- A) I ve II B) II ve III
C) I, II ve III D) IV ve V



7.



I



II



III



IV

- Karalar üzerindeki çukur alanlarda birikmiş tatlı ya da tuzlu su kütlelerine denir.
- Akarsuların yatağını hem derine hem de yanlarına doğru aşındırmasıyla oluşan "U" ya da "V" şeklindeki oluklardır.
- Çevresine göre yüksek ve belli bir doruğu olan yeryüzü şeklidir.
- Çevresine göre alçakta kalmış olan geniş düzlüklerdir.

Yukarıdaki görseller ile görsellerin altında verilen açıklamaların doğru eşleştirilmesi aşağıdakilerden hangisidir?

- I – c, II – a, III – d, IV – b
- I – a, II – d, III – b, IV – c
- I – d, II – b, III – c, IV – a
- I – b, II – a, III – c, IV – d

8. Türkiye'nin iklimini etkileyen denizellik ve karasallıkla ilgili aşağıda verilen bilgilerden hangisi yanlıştır?

- Ülkemizdeki kıyı kesimlerinde iklim ılımandır.
- Denizler karalar üzerinde yaz mevsiminde serin bir etki yaparak sıcaklığı dengeler.
- Karalar geç ısınıp geç soğur.
- Denizler karalar üzerinde kış mevsiminde ılıman bir etki yapar.

9. Ülkemizde farklı iklim tiplerinin görülmesinde;

- dağların uzanış yönü,
- denizlerin varlığı,
- yeryüzü şekillerinin çeşitlilik göstermesi

faktörlerinden hangileri etkili olmuştur?

- I ve II
- II ve III
- I ve III
- I, II ve III

10. Semra: Bingöl'ün Solhan ilçesinde yaşıyorum. Solhan'da kışlar çok soğuk geçtiği için kış aylarında Antalya'daki amcamın yanına gidiyorum. Burada kışlar daha ılık geçiyor. Hatta bazen küçük bir ısıtıcı ile kışı geçirdiğimiz oluyor.

Buna göre Bingöl ve Antalya arasındaki sıcaklık farkı aşağıdakilerden hangisi ile açıklanabilir?

- Bingöl'de karasallığın, Antalya'da denizelliğin etkili olması
- İki şehrin enlem derecesinin aynı olması
- Antalya'nın Bingöl'den daha batıda yer alması
- Bingöl'de Güneş'in daha erken doğması

11. Yeryüzü şekillerinin dağlık ve engebeli olduğu şehirlerde iklim şartları yerleşme için uygun değildir. Bu şehirlerde nüfus az, ulaşım ise gelişmemiştir.

Bilgileri verilen il aşağıdakilerden hangisidir?

- İzmir
- Ağrı
- İstanbul
- Bursa



5



Yukarıda verilen iklim haritasına bakılarak aşağıdaki yorumlardan hangisi yapılamaz?

- A) Karasal iklim etki alanı en geniş olan iklim tipidir.
- B) Marmara ve Ege bölgeleri Akdeniz ikliminin etkisi altındadır.
- C) Karadeniz iklimi Karadeniz kıyı kesimi boyunca dar bir alanda görülmektedir.
- D) Karadeniz iklimi her mevsim yağış almaktadır.

6



Türkiye'nin doğusunda kar yağışı etkili olurken Muğla'nın Bodrum ilçesinde yazdan kalma günler yaşanıyor. Bodrum'da sıcak havayı fırsat bilen vatandaşlar güneşin yüzünü göstermesi ile birlikte sahil kenarlarına akın etti. Kars ve Erzurum'da kar yağışının etkili olduğu, Ardahan'a ise Sibiryaya soğuklarının geldiği öğrenildi. Ardahan'da hava sıcaklığı sıfırın altında 28 dereceye kadar düşerken Ege kıyılarında hava sıcaklığı 25 dereceye kadar ulaştı. Bodrum'da yazdan kalma bir gün yaşandığını belirten vatandaşlar, "Sıcak havayı fırsat bilip sahil kenarına geldik. Yaz sıcaklığı var, sahil sessiz, biz de denize girerek serinliyoruz." dedi. Meteorolojiden edinilen bilgiye göre Bodrum'da hava sıcaklığının hafta sonuna kadar mevsim normallerinin üstünde olacağı öğrenildi.

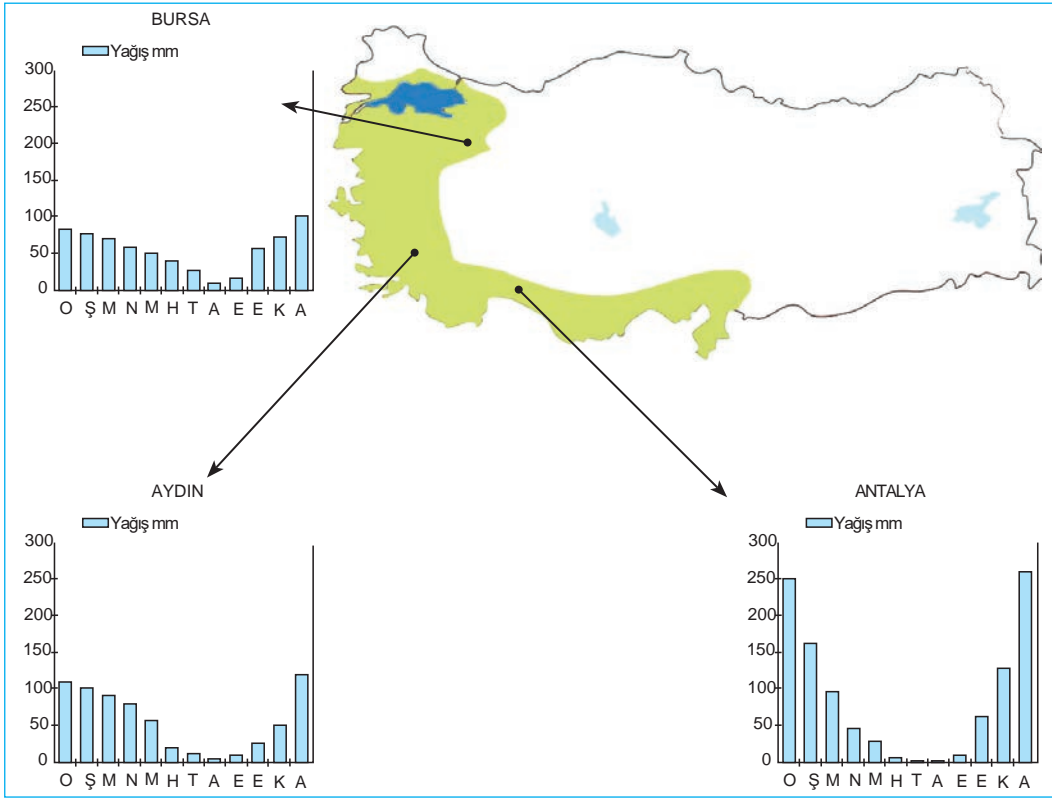


Buna göre aşağıdakilerden hangisine ulaşılabılır?

- A) İklimin ekonomik faaliyetleri etkilediğine
- B) Ülkemizde aynı anda farklı mevsim özelliklerinin görüldüğüne
- C) Yıl boyunca aynı mevsim özelliklerinin görülmesine
- D) En uzun süren mevsimin yaz olduğuna



7



Görselde Akdeniz ikliminin etkili olduğu bazı şehirlerin yağış grafiği verilmiştir.

Verilen grafiklere bakılarak;

- I. Akdeniz iklimi her bölgede görülür.
- II. Antalya en çok yağışı kış mevsiminde almaktadır.
- III. Aydın ili düzenli bir yağış rejimine sahiptir.

yukarıdaki yorumlardan hangileri yapılamaz?

- A) I ve II B) II ve III C) Yalnız II D) I ve III

8 Aşağıdaki tabloda Türkiye'de üç farklı merkezde yağışın mevsimlere göre dağılışı verilmiştir.

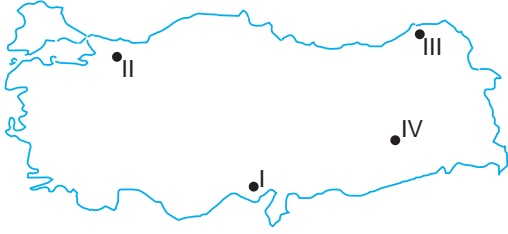
Merkez	İlkbahar %	Yaz %	Sonbahar %	Kış %
I	25	5	20	50
II	40	10	22	28
III	23	20	38	19

Bu merkezler aşağıdakilerden hangisinde doğru olarak verilmiştir?

	I	II	III
A)	Antalya	Konya	Trabzon
B)	Konya	Trabzon	Antalya
C)	Trabzon	Antalya	Konya
D)	Konya	Trabzon	Antalya



7.



Türkiye'de özellikle yaz mevsiminde inşaat, turizm ve tarım sektöründe çalışmak için mevsimlik göçler olmaktadır.

Yukarıdaki Türkiye haritası üzerinde işaretlenmiş yerleşimlerin hangisinde mevsimler arasındaki nüfus değişimi daha fazladır?

- A) I B) II C) III D) IV

8. Bir bölgenin yoğun nüfuslanmasında iklim ve yer şekillerinin elverişliliği, ulaşım olanaklarının yeterliliği, tarım alanlarının verimliliği, sanayinin gelişmişliği gibi etmenler rol oynamaktadır.

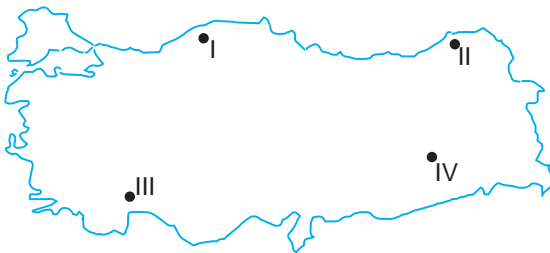
Buna göre;

- I. İzmir
II. Bayburt
III. Kocaeli

yukarıdakilerden hangileri Türkiye'nin yoğun nüfuslu şehirlerinden biri değildir?

- A) I ve II B) II ve III
C) Yalnız II D) I ve III

9.



Haritada numaralandırılarak verilen alanların hangisinde nüfusun artmasında turizm sektörünün etkisi daha fazladır?

- A) I B) II C) III D) IV

10. Yer kabuğunun farklı derinliklerinde bulunan ve ekonomik değer taşıyan mineral bileşenlerine maden denir. Türkiye'deki madenlerin bulunup çıkarılması için 1935 yılında Maden Tetkik ve Arama Enstitüsü (MTA) kurulmuştur.

Türkiye'nin madenleri ile ilgili olarak aşağıdakilerden hangisi söylenemez?

- A) Maden çeşitliliğinin en fazla olduğu bölge Marmara Bölgesi'dir.
B) Madenlerin bulunduğu ve çıkarılıp işlendiği yerlerde iş olanakları fazladır.
C) Taş kömürü Zonguldak'ta çıkarılmaktadır.
D) Demir, bakır, krom ve cıva Türkiye'de çıkarılan önemli madenlerdendir.

11. Yer altı kaynakları, bakımından zengin olan yerlerde nüfus fazladır.

Aşağıdaki şehirlerin hangisinde nüfus daha fazladır?

- A) Karaman B) Erzincan
C) Bayburt D) Manisa

12. Hekimhan, Hasaңcelebi (Malatya), Divriği, Kangal (Sivas), Kayseri, Hatay, Balıkesir ve Kahramanmaraş illerimizde çıkarılan ağır sanayinin en önemli madeni aşağıdakilerden hangisidir?

- A) Demir B) Bakır
C) Krom D) Kurşun



Türkiye'nin Beşerî Coğrafya Özellikleri



Ülkemizde nüfus her yere eşit dağılmamıştır. Ülkemizdeki coğrafi bölgeler, bölümler ve yöreler arasında nüfus miktarı ve yoğunluğu yönünden önemli farklar bulunmaktadır. Nüfusun dağılışında iklim şartları, yeryüzü şekilleri, sosyal ve ekonomik faaliyetler etkili olmaktadır.

Yukarıda verilen boyalı alanda nüfusun az olmasında aşağıdaki faktörlerden hangisinin etkisinden söz edilemez?

- A) Dağlık ve engebeli olması
B) Sanayinin gelişmemiş olması
C) İklimin sert ve karasal olması
D) Turizmin gelişmesi
2. Türkiye nüfus haritasını inceleyen bir öğrenci, nüfusun öncelikle Marmara Denizi çevresinde yer alan illerde (İstanbul–Bursa–Kocaeli) yoğunlaştığını görür.

Yukarıda verilen bilgiye göre bu duruma bölgenin en çok hangi özelliğinin etkisi olduğu söylenebilir?

- A) İklim şartlarının elverişli olması
B) Boğazlara sahip olması
C) Sanayisinin gelişmiş olması
D) Etrafının dağlarla çevrili olması
3. Yurdumuzda nüfusun bölgelere dağılımı eşit değildir. Bazı bölgeler sık nüfusluyken bazı bölgelerde nüfus çok tenhadır.

Aşağıdakilerden hangisi nüfusun az olduğu yerlerin özelliklerinden biri değildir?

- A) Engebenin fazla olduğu yerlerdir.
B) Sanayinin geliştiği yerlerdir.
C) Ulaşımın zor olduğu yerlerdir.
D) Dağlık alanlardır.

4. Türkiye nüfusuyla ilgili;

- I. Tunceli, Bayburt ve Ardahan nüfusun yoğun olmadığı iller arasındadır.
II. Yükseltinin fazla olduğu bölgelerde nüfus azdır.
III. Türkiye'nin her yerinde nüfus aynı yoğunluğa sahiptir.
IV. Tarım, turizm ve sanayi gibi faktörler nüfusun dağılışı üzerinde etkilidir.

yukarıda verilen bilgilerden hangisi yanlıştır?

- A) I B) II C) III D) IV

5.

- ◆ Mentеше Yöresi
- ◆ Yıldız Dağları Bölümü
- ◆ Tuz Gölü çevresi

Yukarıdaki alanların nüfuslarının seyrek olmasında aşağıdakilerden hangisinin etkili olduğu söylenebilir?

- A) Yer şekillerinin engebeli olması
B) Yağış miktarının az olması
C) Ulaşım imkânlarının zor olması
D) Akarsu boylarının kısa olması

6.

- I. Sanayi, ticaret ve turizm gelişmiştir.
II. Yer şekilleri engebeldir.
III. İklim şartları elverişlidir.
IV. Ulaşım yolları üzerinde yer alır.

Yukarıdakilerden hangileri nüfusu fazla olan şehirlerin özelliklerinden biri değildir?

- A) I ve II B) Yalnız II
C) II ve III D) III ve IV

7. Aşağıdakilerden hangisi nüfusun dağılışını etkileyen doğal faktörlerden biri değildir?

- A) Su kaynakları B) İklim
C) Yer şekilleri D) Turizm



8. Jeolojik oluşumundaki farklılıklardan dolayı Türkiye'de çok çeşitli madenler bulunmaktadır. Ancak bazı madenlerin rezervi az olduğundan ülke ihtiyacını karşılamak için bu madenleri ithal ederiz.

Buna göre aşağıdaki madenlerden hangisini ithalat oranı daha fazladır?

- A) Krom
B) Linyit
C) Demir
D) Doğal gaz

9. Ülkemizin kıyı kesiminde yer alan bir ilimizdir. İklimi ılıman olmasına rağmen yeryüzü şekilleri bakımından dağlıktır. Deniz turizminin gelişmesi yaz aylarında ilin nüfusunu arttırmaktadır. Özellikle Bodrum, dünya çapında tanındığı için turistlerin uğrak yeri hâline gelmiştir.

Hakkında bilgi verilen şehir aşağıdakilerden hangisidir?

- A) İstanbul
B) Muğla
C) Çanakkale
D) Kayseri

10. Akdeniz Bölgesi'nde turuncgil gibi geliri fazla olan meyveler yetiştirilir. Muz yaygındır, seracılık faaliyetleri de gelişmiştir.

Akdeniz Bölgesi'nde verilen tarım ürünlerinin yetiştirilmesinde ve seracılığın gelişmesinde aşağıdakilerden hangisi daha fazla etkili olmuştur?

- A) İklim
B) Yeryüzü şekilleri
C) Bitki örtüsü
D) Ulaşım

11.

- ◆ Karasal iklim hakim olmasına rağmen sanayi ve ticaretin geliştiği illerimizden biridir.
- ◆ Mobilya sanayisinde dünyada önemli bir konuma sahiptir.
- ◆ İş imkanlarının fazla olması şehrin nüfusunu arttıran en önemli etkidir.

Yukarıda bilgisi verilen ilimiz aşağıdakilerden hangisidir?

- A) Çanakkale
B) Sinop
C) Kayseri
D) Ardahan

12. **Tebessüm:** Yaşadığım şehir deniz kenarındadır. Şehrimizin iklimi ılıman, güneşli gün sayısı ise fazladır. Ayrıca şehrimizde ormanlar geniş yer tutmaktadır. Arazilerimiz verimli olduğu için tarım faaliyetleri yapılmaktadır.

Tebessüm'ün yaşadığı şehirde;

- I. deniz turizmi,
II. hidroelektrik enerji,
III. kayak turizmi,
IV. mobilyacılık

faaliyetlerinden hangilerinin gelişmesi beklenmez?

- A) Yalnız I
B) II ve III
C) III ve IV
D) Yalnız IV

13.

- I. Erzurum
II. Ağrı
III. Eskişehir
IV. Konya

Yukarıdaki şehirlerin hangilerinde ulaşım imkanları gelişmemiştir?

- A) I ve II
B) Yalnız II
C) III ve IV
D) Yalnız IV



1 Türkiye, fiziki ve beşerî coğrafya çeşitliliğinin fazla olduğu ender ülkelerden biridir. Türkiye'nin her yerinde ayrı bir doğal güzelliğin olması ekonomik faaliyetlerimizi de olumlu etkilemiştir. Ayrıca farklı iklim tiplerinin görülmesi tarım ürünlerindeki çeşitliliği arttırmıştır. Buna bağlı olarak da tarıma dayalı sanayinin gelişmesine katkı sağlamıştır. Doğu illerimizde yükseltinin fazla olması da kış turizmini ve hayvancılık faaliyetlerini olumlu etkilemiştir. Hayvancılığın gelişmesi et ve süt ürünlerine bağlı tesislerin açılmasını sağlamıştır. Marmara'da ulaşımın gelişmesi ticaret ve sanayi tesislerini de arttırmıştır. Akdeniz ve Ege kıyılarımızda iklimin elverişli olması seracılık ve yaz turizminin gelişmesini sağlamıştır.

Buna göre;

- I. Doğu illerimizde hayvancılığa dayalı tesisler bulunmaktadır.
- II. Türkiye'nin fiziki ve beşerî coğrafya özellikleri ekonomik faaliyetlerin çeşitlenmesini sağlamıştır.
- III. Akdeniz ve Ege kıyılarında farklı ekonomik faaliyetler gelişmiştir.

yargılarından hangilerine ulaşılabilir?

- A) I, II ve III B) I ve II
C) Yalnız II D) Yalnız III

2 Sıcaklığın düşük olduğu iç kesimler, yüksek dağlar ve platolar ile yağışın az olduğu alanlar seyrek nüfusludur. Örneğin; Doğu Anadolu'nun seyrek nüfuslu olmasının nedenlerinden biri, kışların uzun ve soğuk geçmesidir.

Parçaya göre nüfusun dağılışı üzerinde;

- I. ulaşım,
- II. yeryüzü şekilleri,
- III. turizm,
- IV. iklim

faktörlerinden hangileri etkili olmuştur?

- A) Yalnız I B) II ve III
C) II ve IV D) Yalnız IV

3 Ülkemizde doğal ve beşeri koşullar yönünden yöreler arasında önemli farklılıklar vardır. Ülkemizde yerleşmeye çok elverişli alanlar bulunduğu gibi yerleşmeye elverişli olmayan yerler de bulunmaktadır. Bu nedenle nüfus yoğunluğu bakımından iller arasında farklılıklar vardır. Yer şekilleri nüfusun dağılışını etkileyen doğru bir faktördür. Yükseltisi fazla olan yerler, yerleşmeye elverişli değildir. Çünkü yükselti, sıcaklığın düşmesine neden olmakta ve ekonomik etkinlikleri güçleştirmektedir. Bu nedenle yüksek yerlerde nüfus azdır. Fazla engebeli yerler de yerleşmenin az olduğu alanlardır. Engebeli yerler yerleşmeye ve tarıma elverişli değildir. Bu nedenle dağlar ve engebeli arazilerde nüfus azdır. Nüfusumuzun önemli bir kısmı engebelenin az olduğu yerlerde toplanmıştır.

Yukarıdaki parçadan hareketle;

- I. doğal faktörlerin nüfusun dağılışını etkilediği,
- II. nüfusun dağılışını etkileyen en önemli faktörün yer şekilleri olduğu,
- III. yer şekillerinin birçok faktör üzerinde etkili olduğu

yargılarından hangilerine ulaşılabilir?

- A) I ve II B) Yalnız II
C) II ve III D) Yalnız III

4 Erzurum - Kars yöresinde çayır alanları geniş yer kaplamaktadır. Bundan dolayı büyükbaş hayvancılık yaygındır. Küçükbaş hayvancılık bozkırların geniş yer kapladığı iç bölgelerde yaygındır. Mera hayvancılığı iklim koşullarına bağlıdır. Bundan dolayı et ve süt verimi yıllara göre değişmektedir. Et ve süt verimi düşüktür.

Buna göre aşağıdakilerden hangisine ulaşılabilir?

- A) Küçükbaş hayvancılığın ekonomiye katkısı en fazladır.
- B) İlimden en fazla büyükbaş hayvancılık etkilenmektedir.
- C) Türkiye'de et ve süt verimi büyükbaş hayvancılıkta yüksektir.
- D) Yağış ve doğal bitki örtüsünün dağılışı ile hayvancılık arasında bir paralellik vardır.



5 Aşağıdaki tabloda Türkiye'de 2014 - 2022 yılları arasında doğum sayıları verilmiştir.

Yıllar	Doğum sayısı
2014	1.345.286
2015	1.325.783
2016	1.295.784
2017	1.309.771
2018	1.248.847
2019	1.183.652
2020	1.112.859
2021	1.047.975
2022	1.035.795

Tablodaki bilgilerden yararlanarak aşağıdakilerden hangisine ulaşamaz?

- A) Verilen yıllar içinde en fazla doğum 2014 yılında gerçekleşmiştir.
- B) Verilen bütün yıllarda doğum sayısı bir milyondan fazladır.
- C) 2014 – 2022 yılları arasında doğum sayısı azalmıştır.
- D) Nüfus artışının en fazla olduğu yıl 2018'dir.

6

Doğal Gaz: Kırklareli Hamitabat'ta çıkarılmaktadır. Termik santrallerde, evlerin ısıtılmasında ve ocaklarda kullanılmaktadır.

Taş Kömürü: Sadece Zonguldak'ta çıkarılmaktadır. Demir - çelik sanayisinde demirin eritilmesinde, termik santrallerde ve evlerin ısıtılmasında kullanılmaktadır.

Linyit: Manisa'da çıkarılmaktadır. Termik santrallerde ve elektrik üretiminde kullanılmaktadır.

Petrol: Batman, Raman, Garzan ve Adıyaman gibi yerlerde çıkarılmaktadır. Motorlu araçlarda ve termik santrallerde yakıt olarak kullanılmaktadır.

Verilen bilgilerden hareketle aşağıdakilerden hangisine ulaşamaz?

- A) Ülkemizde çıkarılan madenler tüketim için yeterli değildir.
- B) Linyit ve petrol ortak bir özelliğe sahiptir.
- C) Taş kömürünün çıkarıldığı alan sınırlıdır.
- D) Doğal gaz birçok alanda kullanılmaktadır.

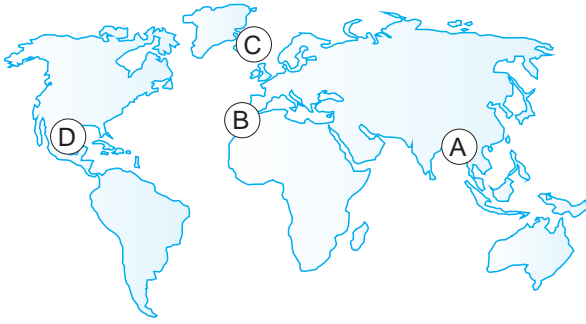


- ◆ Bitki örtüsü yoktur.
◆ Sıcaklık değerleri hep 0°C'nin altındadır.
◆ İnsanlar "igloo" denilen evlerde yaşamaktadır.
◆ Toprak oluşumuna rastlanmaz.

Hakkında bilgi verilen iklim türü aşağıdakilerden hangisidir?

- A) Savan iklimi B) Kutup iklimi
C) Okyanusal iklim D) Muson iklimi

2.



Yukarıdaki haritada harflerle gösterilen alanların hangisinde muson iklimi görülmektedir?

- A) A B) B C) C D) D

3.

- ◆ Güneydoğu Asya ülkelerinde görülen iklim tipidir.
- ◆ Yağış isteği fazla olan çay ve pirinç yetiştirilir.
- ◆ Sadece yaz ve kış mevsimi vardır.

Yukarıda hakkında bilgi verilen iklim türü aşağıdakilerden hangisidir?

- A) Çöl iklimi B) Savan iklim
C) Muson iklimi D) Ekvatorial iklim

- Konutlarda kullanılan malzeme ile o yerin coğrafi koşulları arasında sıkı bir ilişki vardır. Örneğin; bitki örtüsünün gür ormanlarla kaplı olduğu bölgelerde ahşap evler mevcuttur.

Buna göre aşağıda verilen yerlerin hangisinde ahşap yapılara rastlanır?

- A) Moğolistan B) Brezilya
C) Yemen D) Mısır

- Nunivak:** Yaşadığımız bölgede, yılın büyük kısmında toprak donmuş hâdedir. Bundan dolayı topraklarımız tarıma elverişli değildir. Genellikle avcılık ve balıkçılıkla (özellikle balina avcılığı) geçiniriz. Temel yiyeceklerimiz balık ve Ren geyiğidir. Genellikle Ren geyiği derisinden yapılmış kürklü ve kalın kıyafetler giyiniriz.

Yukarıdaki konuşmada verilen özelliklerin aşağıdaki bölgelerden hangisi ile ilgili olduğu söylenebilir?

- A) Ekvator Bölgesi B) Kutup Bölgesi
C) Avrupa Kıtası D) Afrika Kıtası

- Bu iklim tipi Avustralya'nın güneybatısında, Şili'nin orta kesimlerinde, Kuzey Amerika kıtasındaki Kaliforniya çevresinde ve Güney Afrika Cumhuriyeti'nde Kap bölgesinde görülür. Bu iklimde yazlar sıcak ve kurak geçer. Uzun güneşlenme süresi kıyı turizminin gelişmesini sağlamıştır. Kışların ılık ve yağışlı geçmesi nedeniyle portakal, mandalina, limon vb. turunçgiller yetiştirilmektedir.

Yukarıda bilgisi verilen iklim türü aşağıdakilerden hangisidir?

- A) Çöl iklimi B) Kutup iklimi
C) Akdeniz iklimi D) Ekvatorial iklim



7. ◆ Yıl boyunca yağış görülür.
◆ Gece ve gündüz arasındaki sıcaklık farkı azdır.
◆ Bitki örtüsü yağmur ormanlarıdır.
◆ Amazon ve Kongo havzalarında görülmektedir.

Yukarıda hakkında bilgi verilen iklim türü aşağıdakilerden hangisidir?

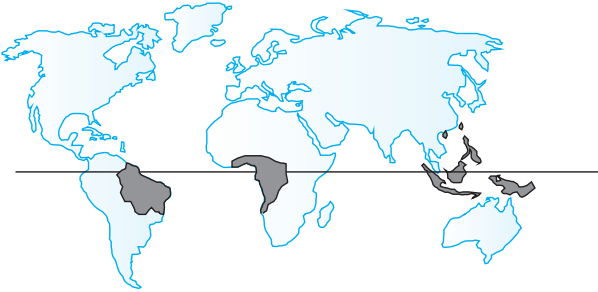
- A) Çöl iklimi B) Savan iklimi
C) Muson iklimi D) Ekvatorial iklim

8. ◆ Yaz aylarında sıcaklıklar ortalama 28 - 30 °C, kış aylarında ise ortalama 10 °C kadardır.
◆ Zeytin, incir ve üzüm gibi birçok tarım ürünü bu iklimin görüldüğü yerlerde yetiştirilmektedir.
◆ Güneşli gün sayısı yıl boyunca fazla olduğu için seracılık faaliyetleri yaygındır.

Hakkında bilgi verilen iklim türü aşağıdakilerden hangisidir?

- A) Muson iklimi B) Akdeniz iklimi
C) Kutup iklimi D) Ekvatorial iklim

9.



Aşağıda verilen bilgilerden hangisi harita üzerinde belirtilen yerlerde görülen iklime ait bir özellik değildir?

- A) Pamuk üretimi için uygun bir iklimdir.
B) Bitki örtüsü yağmur ormanlarıdır.
C) Tüm yıl boyunca yağmur görülür.
D) Evler genellikle ahşaptan yapılmıştır.

10. ◆ Yaz aylarında bol yağışlar görülür, kış aylarında yağışlar azalır.
◆ Yaz mevsiminde etkili olan aşırı yağışlar sele neden olur.
◆ Pirinç en çok tüketilen yiyecektir.

Yukarıda hakkında bilgi verilen iklim türü aşağıdakilerden hangisidir?

- A) Muson iklimi B) Kutup iklimi
C) Ekvatorial iklim D) Akdeniz iklimi

11.

- ◆ Kuzey Kutbu çevresinde, Antarktika'da ve Grönland Adası'nın iç kısımlarında etkilidir.
◆ Sıcaklık düşük olduğu için buharlaşma yok denecek kadar azdır.
◆ Bu iklim türünde yaşayanlar Eskimo olarak bilinirler.
◆ Genellikle kar yağışı görülür.

Hakkında bilgi verilen iklim türü aşağıdakilerden hangisidir?

- A) Ekvatorial iklim
B) Akdeniz iklimi
C) Kutup iklimi
D) Muson iklimi

12.

- ◆ Pakistan, Tayvan ve Bangladeş gibi ülkelerde görülür.
◆ Yazlar çok yağışlı, kışlar ise kuraktır.
◆ Hava sıcaklığı yıl boyunca genellikle 15 - 20 °C olur.

Hakkında bazı bilgiler verilen iklim türü aşağıdakilerden hangisidir?

- A) Akdeniz iklimi
B) Muson iklimi
C) Kutup iklimi
D) Ekvatorial iklimi



1



Kutup ikliminde insanlar soğuk iklim koşullarından korunmak için buzdan ve balina kemiklerinden yaptıkları iglo denilen geleneksel evlerde, yazın ise çadırlarda yaşarlar.

Yukarıda verilen bilgidен hareketle aşağıdakilerden hangisi söylenebilir?

- A) İglolar kamıştan da yapılır.
- B) İglolarda yaşamak kişiye konfor sağlar.
- C) Çevre koşulları evlerin yapılmasında etkilidir.
- D) Toprak sadece kutup ikliminde donar.

2

Ekvatorial iklimde her gün sıcak ve bol yağışlıdır. Her yer ormanlarla kaplıdır. Bundan dolayı Tropikal yağmur ormanları vardır ve ormanların boyları 50 metreyi aşmaktadır. Ekvatorial iklimin görüldüğü yerlerde orman fazla olduğu için ahşap evler yaygındır. Sıcaklık ve nem çok fazladır. Bu nedenle yılın büyük bir bölümünde ince kıyafetler giyilir. Ayrıca Ekvatorial iklimin görüldüğü yerlerde bol miktarda Hindistan cevizi, kakao, mango vb. tarım ürünleri yetiştirilmektedir.



Buna göre aşağıdakilerden hangisine ulaşamaz?

- A) İklimin doğal bitki örtüsünü oluşumunda etkili olduğuna
- B) İklimin insan yaşamı üzerinde etkisinin olduğuna
- C) Ulaşımın iklimden olumsuz etkilendiğine
- D) Konut yapımı üzerinde iklimin etkili olduğuna

3

Rainiharo Anlatıyor...

Madagaskarlı birçok erkek gibi küçük bir çiftlikte yaşamını sürdürüyorum. Şeker kamışı, muz, lahana ve patates gibi ürünler yetiştiriyorum. Bu ürünleri pazarda satarak geçimimi sağlıyorum. Burada yıl boyunca hem sıcaklık hem de yağış fazladır. Ülkemizde ilkbahar, yaz, sonbahar ve kış mevsimleri yoktur. Sürekli yaz mevsimi yaşandığı için kışlık giysiye ve yakacağa ihtiyaç duymuyoruz.

Rainiharo verdiği bilgilerde iklimin aşağıdaki etkilerinden hangisine değinilmiştir?

- A) Etnik çeşitliliğine
- B) Ekonomik faaliyetlerine
- C) Konut yapımına
- D) Hayvancılık faaliyetlerine

4

- ◆ Akdeniz iklimi Akdeniz'e kıyısı olan ülkelerde Avustralya'nın güneybatısında Şili'nin orta kesimlerinde, Kuzey Amerika Kıtası'ndaki Kaliforniya çevresinde ve Güney Afrika Cumhuriyeti'nde Kap bölgesinde görülür.
- ◆ Akdeniz Bölgesi'nde yazlar sıcak ve kurak, kışlar ılık ve yağışlıdır. İklimin ılıman olması tarım, sanayi ve turizm gibi ekonomik faaliyetlerin yapılmasını kolaylaştırmaktadır. Akdeniz ikliminde güneşli gün sayısı yıl boyunca fazla olduğu için seracılık faaliyetleri yaygındır.
- ◆ Zeytin, turunçgiller, incir ve üzüm gibi birçok tarım ürünü bu iklimin görüldüğü yerlerde yetiştirilmektedir.

Buna göre Akdeniz ikliminde;

- I. tarım ürünü çeşitliliği görüldüğü,
- II. farklı ekonomik faaliyetlerin görüldüğü
- III. konut yapımının farklılık gösterdiği

yargılarından hangilerinin görüldüğü söylenemez?

- A) Yalnız I
- B) I ve II
- C) II ve III
- D) Yalnız III



5

Aamir: Burası Asya kıtasının güneydoğusunda yer alan Hindistan. Bizim ülkemiz mayıs ayından ekim ayına kadar yani yaz aylarında muson rüzgârlarından dolayı çok fazla yağış alır. Ancak kışları kurak geçer. Bu fazla yağış, pirinç tarımı yapmamızı kolaylaştırır. Çünkü pirinç, su dolu tarlalarda yetişen bir bitkidir. Pirinç tarlalarda çalışırken muson yağmurlarından korunmak için başımızı hasırdan yapılmış şapkalarla kapatırız. Ayrıca bizim buralarda dünyada eşine az rastlanan teak (tik) ağacı yetiştirilir. Bu ağaç sayesinde de kendimize çok güzel mobilyalar yaparız. Bizim açımızdan buradaki en büyük olumsuzluklardan biri aşırı yağın yağmurlar sonrasında her yerin sular altında kalmasıdır.

Yukarıdaki açıklama dikkate alındığında aşağıdakilerden hangisine ulaşamaz?

- A) Hindistan'da Muson ikliminin etkili olduğu
- B) Muson ikliminin pirinç ekimi için elverişli olduğu
- C) Aşırı yağın yağışların doğal afetlere neden olduğu
- D) Aynı iklim özelliklerine Karadeniz Bölgesi'nde rastlanıldığı

6



Resim I

Amazon Havzası'nda yıl boyunca düzenli ve bol yağışlar görülür. Ormanların fazla olması insanların evlerini ahşaptan yapmalarına sebep olmuştur. Çok sık ve uzun olan ormanlar, dünyada canlı çeşitliliğinin en fazla olduğu doğal yaşam alanı olarak kabul edilir.



Resim II

Kutuplarda yaşayan eskimolar kışın buzdan ve balina kemiklerinden yaptıkları iglo denilen kubbeleri, geleneksel evlerde yazın ise çadırlarda yaşarlar. Ulaşım aracı olarak köpeklerin çektiği kar kızakları kullanılır. Kutup ayıları ve kutup tilkileri burlardan yaşar

Amazon Havzası'nda ve kutuplarda yaşayan insanların farklı malzemeler kullanarak evler yapmalarında aşağıdakilerden hangisi daha etkili olmuştur?

- A) İklim şartları
- B) Gelişmişlik düzeyleri
- C) Eğitim seviyesi
- D) İnsanların ihtiyaç ve istekleri

Aşağıdaki sorulara verilen kavramlardan uygun olanı seçerek cevap veriniz.

Ekvator, coğrafi konum, ölçek, harita, paralel, meridyen, Doğu Yarım Küre, Kuzey Amerika, Batı Yarım Küre, matematik (mutlak konum), göreceli konum (özel) konum, Hint Okyanusu, kıta, okyanus, Asya, bozkır, lejant, maki, ova, Afrika, plato, vadi, nüfus, doğal faktörler, beşeri faktörler, hava durumu, Güney Amerika, Akdeniz iklimi, kutup iklimi, muson iklimi, Ekvatorial iklim, fiziki harita, geot, karasal iklim, Antarktika, Büyük Okyanus (Pasifik), Karadeniz iklimi, iklim, Kuzey Yarım Küre, yer eksenini, Avrupa, kutup noktası, Güney Yarım Küre, hayvancılık, jeopolitik konum, Okyanusya, Atlas Okyanusu

1. Bir bölgenin dağlarını, ovalarını, platolarını, akarsularını, göllerini ve vadilerini gösteren haritalara ne ad verilir?

Cevap:

2. Haritada kullanılan özel işaretlerin ne anlama geldiğini gösteren bölüme veya anahtara ne ad verilir?

Cevap:

3. Dünya'nın Ekvator'dan şişkin, kutuplardan basık olan kendine özgü şekline ne ad verilir?

Cevap:

4. Dünya'yı tam ortadan ikiye ayırdığı varsayılan hayalî çizgiye ne ad verilir?

Cevap:

5. Bir ülkenin, bölgenin ya da şehrin dünya üzerinde bulunduğu yerin belirtilmesine ne ad verilir?

Cevap:

6. Yeryüzünün ya da bir parçasının, kuş bakışı görünüşüyle belli bir orana göre küçültülüp bir düzlem üzerine geçirilmesine ne ad verilir?

Cevap:

7. Haritalarda kullanılan küçültme oranına verilen ad hangisidir?

Cevap:

8. Ekvator'a paralel olarak birer derecelik açılarla geçirilen çemberlere ne ad verilir?

Cevap:

9. Akdeniz ikliminin tipik bitki örtüsü hangisidir?

Cevap:

10. Başlangıç meridyeninin doğusuna ne ad verilir?

Cevap:

11. Başlangıç meridyeninin batısına ne ad verilir?

Cevap:

12. Bir yerin Ekvator'a ve başlangıç meridyenine göre belirlenen konumuna ne ad verilir?

Cevap:

13. Sıcak ve ılıman iklimlerde geniş alanlar kaplayan kurakçıl otsu bitkilerden oluşan doğal bölgeye ne ad verilir?

Cevap:

14. Her mevsim yağışlı olan iklim tipi hangisidir?

Cevap:

15. Yazların sıcak ve kurak, kışların ılık ve yağışlı geçtiği iklim tipi hangisidir?

Cevap:

16. Akarsular tarafından derince yarılmış çevresine göre yüksekte olan geniş düzlüklere ne ad verilir?

Cevap:

17. Çevresi sularla kaplı büyük kara parçalarına ne ad verilir?

Cevap:

18. İki kutup noktası arasında uzanarak paralelleri dik kesen yarım çemberlere ne ad verilir?

Cevap:

19. Yeryüzündeki derin ve geniş çukurları dolduran büyük su kütlelerine verilen ad hangisidir?

Cevap:

20. Nüfusun yeryüzüne dağılışında insan etkisinin olduğu faktörlere ne ad verilir?

Cevap:

21. Gün içerisinde değişkenlik gösteren hava olaylarına ne denir?

Cevap:

22. Yazların sıcak ve kurak, kışların soğuk ve kar yağışlı geçtiği iklim tipine ne ad verilir?

Cevap:

23. Nüfusun yeryüzüne dağılışında insan etkisinin olmadığı faktörlere ne ad verilir?

Cevap:

24. Sınırları belli bir alanda yaşayan insan sayısına ne ad verilir?

Cevap:

25. Herhangi bir yerin kıtalara, okyanuslara, denizlere ve yer şekillerine göre belirlenen konumuna ne ad verilir?

Cevap:

26. Yazların çok yağışlı, kışların ise kurak geçtiği iklim tipi hangisidir?

Cevap:

27. Herhangi bir yerde uzun yıllar değişmeyen hava olaylarının yıllık ortalama değerine ne ad verilir?

Cevap:

28. Hayvanların ürünlerinden ve gücünden yararlanılmasına dayanan ekonomik faaliyete ne ad verilir?

Cevap:

29. Akarsular tarafından derince yarılmamış çevresine göre alçakta yer alan geniş düzlüklere ne ad verilir?

Cevap:

30. Dünya'nın çevresinde döndüğü kabul edilen doğru parçasına ne ad verilir?

Cevap:

31. Ekvator ile kuzey kutup noktası arasında kalan yarım küreye ne ad verilir?

Cevap:

32. Yer ekseninin Dünya'yı kestiği kabul edilen yerlere ne ad verilir?

Cevap:

33. Bir bölgenin veya ülkenin coğrafi konumu, büyüklüğü, iklimi, yer altı ve yer üstü kaynakları gibi özelliklerinin ülkeler arası politikada oynadığı rollerden kaynaklanan konumuna ne ad verilir?

Cevap:

34. Ekvator'un kuzeyinde ve başlangıç meridyeninin doğusunda yer alan kıta hangisidir?

Cevap:

35. Başlangıç meridyeni kıtanın üzerinden geçmekle beraber kıta topraklarının önemli bir kısmının başlangıç meridyeninin doğusunda yer aldığı kıta hangisidir?

Cevap:

36. Batısında Atlas Okyanusu, kuzeyinde Avrupa kıtası, doğusunda ise Asya kıtası ve Hint Okyanusu olan kıta hangisidir?

Cevap:

37. Ekvator'un kuzeyinde ve başlangıç meridyeninin batısında yer alan kıta hangisidir?

Cevap:

38. Üzerinden Ekvator çizgisi geçen ve başlangıç meridyeninin batısında yer alan kıta hangisidir?

Cevap:

39. Ekvator'un güneyinde ve başlangıç meridyeninin doğusunda yer alan kıta hangisidir?

Cevap:

40. Ekvator'un güneyinde yer alan ve güney kutup noktasına çok yakın bir konumda bulunan kıta hangisidir?

Cevap:

41. Çevresinde Asya, Okyanusya, Kuzey Amerika ve Güney Amerika kıtaları bulunan okyanus hangisidir?

Cevap:

42. Avrupa, Afrika, Kuzey ve Güney Amerika kıtaları arasında bulunan okyanus hangisidir?

Cevap:

43. Çevresinde Afrika, Asya, Okyanusya ve Antarktika kıtaları bulunan, önemli bir kısmının Ekvator'un güneyinde yer aldığı okyanus hangisidir?

Cevap:



1.

- ◆ İnsan ırklarını, kalıntılarını, iskelet ve kafatası gibi fizik yapılarını inceleyen bilim dalıdır.
- ◆ Özellikle yazının bilinmediği tarih öncesi devirlerin aydınlatılmasına yardımcı kazı bilimidir.
- ◆ Toplumların her türlü faaliyetlerini ve insanlar üzerindeki etkilerini inceleyen bilim dalıdır.

Yukarıda özellikleri verilen sosyal bilim dalları aşağıdakilerden hangisidir?

- A) Arkeoloji – Antropoloji – Sosyoloji
- B) Arkeoloji – Sosyoloji – Antropoloji
- C) Sosyoloji – Arkeoloji – Antropoloji
- D) Antropoloji – Arkeoloji – Sosyoloji

2.

- ◆ Toplumların gelenek, görenek, örf ve adetlerini inceleyen bilim dalıdır.
- ◆ İnsan davranışlarını bilimsel yöntemler kullanarak inceleyen bilim dalıdır.
- ◆ Ergenlik sorunları yaşayan bireylere terapilerle yardımcı olmaya çalışan bilim dalıdır.
- ◆ Varlığın ve bilginin kaynağını bilimsel olarak araştıran bilim dalıdır.

Yukarıda verilen özellikler ile aşağıdaki sosyal bilim dalları eşleştirildiğinde hangisi dışta kalır?

- A) Sosyoloji
- B) Psikoloji
- C) Felsefe
- D) Antropoloji

3. Günümüzde nanoteknoloji sayesinde insanların hayatı giderek daha da kolaylaşmaktadır.

Aşağıdakilerden hangisi nanoteknolojinin sağladığı faydalardan biri değildir?

- A) Enerji kaynaklarından tasarruf sağlar.
- B) Kullanılan teknolojinin maliyeti azalır.
- C) Ürünlerin üretim süreleri uzar.
- D) İnsanlar daha rahat bir yaşam sürer.

4.

- ◆ Dünyada yeni kurulmaya başlanan moleküler biyoloji dalının ilk profesörlerinden biri olmuştur.
- ◆ Kendisini Türkçe öğretimine adanmış ve Türk dilinin benliğini kaybetmemesi için çok sayıda çalışma yapmıştır.

Yukarıda hakkında bilgi verilen bilim insanı aşağıdakilerden hangisidir?

- A) Oktay Sinanoğlu
- B) Cahit Arf
- C) Hulusi Behçet
- D) Mazhar Osman

5.



Bizim zamanımızdaki teknoloji bu şekilde değildi. Şimdi öyle mi? Cep telefonları, internet... aklım şaşıyor.

Yukarıda verilen konuşmadan yola çıkılarak aşağıdaki yorumlardan hangisi yapılabilir?

- A) Teknoloji günden güne gelişme göstermektedir.
- B) Teknolojinin zararları da vardır.
- C) Teknoloji sadece gençler tarafından kullanılmaktadır.
- D) Teknolojik gelişmeler iletişim ile sınırlı kalmıştır.

6. Geçmiş dönemlerde yaşamış toplumların ürettikleri kültür ve uygarlığı birbirleriyle olan ilişkilerini neden–sonuç ilişkisi içerisinde belgelere dayanarak objektif (tarafsız) bir biçimde açıklayan bilim dalıdır.

Yukarıda tanımlanan sosyal bilim dalı aşağıdakilerden hangisidir?

- A) Antropoloji
- B) Tarih
- C) Arkeoloji
- D) Hukuk



7.

- ◆ İlk Çağ insanı haberleşmek için dumanı kullanmıştır.
- ◆ Günümüzde kullanılan en hızlı iletişim araçları internet ve cep telefonu gibi araçlardır.
- ◆ Uydular; haberleşme, deney, gözlem gibi amaçlarla askeri ve ticari alanda yoğun olarak kullanılır.

Buna göre aşağıdaki yargılardan hangisine ulaşamaz?

- A) Günümüzde hızlı olan iletişim araçları kullanılmaktadır.
- B) Uyduların iletişim dışında herhangi bir fonksiyonu yoktur.
- C) İletişim araçları zamanla değişme ve gelişme göstermiştir.
- D) İnternet en hızlı iletişim araçlarından biridir.

8. Zaman makinesi icat edilebilir mi bilinmez ama zamanda yolculuğu konu alan birçok yerli ve yabancı film çekildi bile. Geçmişe baktığımızda imkânsız gibi görünen çoğu şeyi günümüzde görmek mümkün artık.

Aşağıdakilerden hangisi yukarıdaki parçayı özetleyen bir ifadedir?

- A) Teknoloji sürekli olarak gelişmektedir.
- B) Zamanda yolculuk imkânsızdır.
- C) Filmler hep hayallerden ibarettir.
- D) Yabancı filmler daha teknolojiktir.

9. Dünyada ve insan yaşamı üzerinde beşeri ve toplumsal yönleri inceleyen disiplinler bütününe sosyal bilimler denilmektedir. Sosyal bilimlerin yaptığı bilimsel çalışmalarla hayatımızdaki beşeri olgular açığa kavuşmaktadır. Sosyal bilimler sayesinde insanlık tarihi, insanlık geçmişi ve insanlığı ilgilendiren her konu çeşitli yöntemlerle incelenmektedir.

Aşağıdakilerden hangisi sosyal bilim dallarından biri değildir?

- A) Sosyoloji
- B) Matematik
- C) Coğrafya
- D) Tarih

10. Gitmek istediğimiz adresi bize tarif eden sistemlere Küresel Konumlandırma Sistemi (GPS) denir. Bu teknolojiye navigasyon adı da verilmektedir.

Yukarıda bahsi geçen teknolojiden aşağıdaki alanlardan hangisinde yararlanılmaktadır?

- A) Eğitim
- B) Eğlence
- C) Ulaşım
- D) Sağlık

11. Aşağıda verilen bilgilerden hangisi yanlıştır?

- A) İnsanlar geçmişten günümüze teknolojiyi daima daha üst seviyeye taşımışlardır.
- B) Dünyadaki gelişmelerle birlikte Türkiye’de de teknolojik alanda gelişmeler yaşanmıştır.
- C) UNİCEF ülkemizde bilim ve teknolojinin gelişmesine yönelik çalışmalar yapmıştır.
- D) Kalp, protez bacak ve el gibi organların yapılması sağlık alanındaki gelişmelerden bazılarıdır.

12. Kişilere ait bilgileri saklayabilen kumaştan, düşük yakıt tüketimi sağlayan otomobillere, su kirliliğinin önlenmesinden, boya teknolojisine, savunma sanayisinden bilgisayarlara kadar her alanda artık nanoteknoloji kullanılmaktadır.

Buna göre insanların nanoteknolojiden aşağıdaki alanlardan hangisinde yararlandıkları söylenemez?

- A) Ulaşım
- B) Dokuma
- C) Sanayi
- D) Turizm



1.



I



II



III



IV

Yukarıda sosyal bilimlerle ilişkili bilim dallarına ait görseller verilmiştir.

Buna göre görsellerin ait olduğu bilim dalları aşağıdaki seçeneklerin hangisinde doğru bir şekilde verilmiştir?

	I	II	III	IV
A)	Antropoloji	Nümizmatik	Adalet	Arkeoloji
B)	Ekonomi	Antropoloji	Hukuk	Nümizmatik
C)	Filoloji	Arkeoloji	Kronoloji	Antropoloji
D)	Tarih	Arkeoloji	Antropoloji	Coğrafya

2. Bilim ve teknoloji toplumsal hayatımızı her geçen gün daha da kolaylaştırmakta ve sorunlarımıza çözüm bulmaktadır. Ancak teknoloji bizlere hep fayda getirmekte, teknolojinin bazen zararları da olmaktadır.

Aşağıdakilerden hangisi teknolojinin zararlarından biridir?

- A) İnsanlar internet sayesinde istedikleri bilgilere kolayca ulaşabilmektedir.
 B) Teknoloji sayesinde insanlar işlerini daha hızlı yapabilmektedirler.
 C) Yolculuk süreleri kısalmıştır.
 D) Hava, su ve toprak kirliliği artmıştır.

3. 21. yüzyıl dünyasında bilimsel ve teknolojik alandaki gelişmelere Türkiye de ayak uydurmaya çalışmış, bu alanlarda çeşitli çalışmalar yapmıştır.

Aşağıdaki kuruluşlardan hangisi icatlara öncülük eden kurumdur?

- A) TEMA
 B) TÜBİTAK
 C) TİKA
 D) TÜRKSOY

4.

Sağlık alanında kullanılan cihazlar
◆ Röntgen
◆ Tomografi
◆ Ultrason
◆ ?

Soru işareti (?) konulan yere aşağıdakilerden hangisi getirilirse yanlış olur?

- A) Tansiyon aleti
 B) MR cihazı
 C) Fotoğraf makinası
 D) Holter

5. Bireylerin anne karnında oluşumundan ölümüne kadar geçen süreçteki gelişimini araştırıp inceler. Anne ve babalar çocuklarının büyüme aşamalarını bu sayede daha kolay takip edebilirler.

Açıklaması yapılan sosyal bilim dalı aşağıdakilerden hangisidir?

- A) Psikoloji
 B) Felsefe
 C) Coğrafya
 D) Sosyoloji



6. Cumhuriyet Anadolu Lisesi Bilgisayar Öğretmeni Hakan Bey Harput kültürü ile ilgili bir projede öğrencilerinden Harput'un gelenek, örf ve adetlerinin araştırılmasının yanında Harput kültürünün Elazığ toplumu üzerindeki etkilerini ve değer yargılarının da incelenmesini istemiştir.

Öğrencilerin bu projeyi hazırlarken;

- I. Paleografya III. Psikoloji
II. Sosyoloji IV. Antropoloji

bilim dallarının hangilerinden yararlanmak zorunda oldukları söylenebilir?

- A) I ve III B) Yalnız II
C) II ve IV D) Yalnız IV

7.

?	
◆ Antropoloji	◆ Sosyoloji
◆ Arkeoloji	◆ Psikoloji
◆ Felsefe	◆ Coğrafya
◆ Tarih	◆ Ekonomi

Yukarıda soru işareti (?) konulan bölüme yazılacak en uygun başlık aşağıdakilerden hangisidir?

- A) Sosyal Bilim Dalları
B) Dini Bilimler
C) Fen Bilimleri
D) Ahlak Bilgisi

8.

- ◆ Varlığı ve bilgiyi bilimsel olarak araştırmaya yönelik soru sorma, sorgulama bilimidir.
- ◆ İnsanda doğru düşünebilmeyi ve bir probleme birçok yönden bakabilmeyi öğretir.
- ◆ Bilim nedir?, Doğru nedir? ve Güzel nedir? gibi sorulara cevap arar.

Yukarıda hakkında bilgi verilen sosyal bilim dalı aşağıdakilerden hangisidir?

- A) Psikoloji B) Sosyoloji
C) Felsefe D) Antropoloji

9.

- I. Sosyoloji → Toplum bilimi
II. Arkeoloji → Kazı bilimi
III. Felsefe → Irk bilimi
IV. Psikoloji → Davranış bilimi

Yukarıda yapılan eşleştirmelerden hangisi yanlıştır?

- A) I B) II C) III D) IV

10.

Sosyoloji - Coğrafya - Felsefe

Yukarıdaki kutucuğun içinde verilen sosyal bilim dalları ile aşağıdaki açıklamalar eşleştirildiğinde hangisi dışta kalır?

- A) Evreni, dünyayı ve yaşamı anlamaya çalışan; varlığın ve bilginin kaynağını bilimsel olarak araştıran bilim dalıdır.
- B) İnsan topluluklarının örf, adet ve geleneklerini inceleyen bilim dalıdır.
- C) İnsan topluluklarının geçmişte kullandıkları yazıları inceleyen bilim dalıdır.
- D) Yeryüzünü fiziksel, ekonomik, beşeri ve siyasal yönlerden inceleyen bilim dalıdır.

11.

- ◆ Dermatoloji (deri hastalıkları) alanında çalışmalar yapmıştır.
- ◆ Uzun yıllar boyunca şark çibani, arpa uyuzu ve mantar hastalıkları gibi dermatoloji konularını incelemiştir.

Hakkında bilgi verilen bilim adamı aşağıdakilerden hangisidir?

- A) Cahit Arf B) Mazhar Osman
C) Oktay Sinanoğlu D) Hulusi Behçet



1

ELMA SİKKELERİ

MÖ V. yüzyılda Perslerin Yunanistan'ı istila etmesinden sonra Atina Şehir Devleti'nin önderliğinde Akdeniz çevresindeki şehirlerden oluşan bir birlik kurulmuştu. Birliğin bir merkezi ve bütçesi vardı. Her ülke kendi bastığı gümüş sikkeden kendi gücü oranında birliğe katkıda bulunurdu. 1984 yılında Antalya'nın Elmalı ilçesinde kazılar sonucu bulunan elma sikkeleri (Yüzyılın Definesi), o bölgede bulunan şehir devletlerinin paralarını içeriyordu. Yaklaşık 1900 adet sikkenin binden fazlası Likya bölgesindeki şehir devletlerinin parasıydı ve içlerinde şimdiye kadar bilinmeyen hanedanların sikkeleri de vardı. Yunanlılar Persleri yendikleri için bir anı parası çıkarmışlardı. Normal olarak o zaman para birimi bir drahmi, en fazla 4 drahmi iken anma nedeniyle 10 drahmilik para çıkarılmıştı (10 drahmilik para=Dekadrahmi). Bu sikkeler çok az sayıda basılmıştı ve 1984 yılına kadar dünyada sadece 13 tanesinin varlığı bilinmekte idi. İşte bu yüzden Elmalı sikkelerine "Yüzyılın Definesi" denmiştir.



Verilen görsel incelendiğinde arkeoloji biliminin tarihi olayların değerlendirilmesine hangi açıdan katkıda bulunduğu söylenemez?

- A) Elde edilen paralardan bölgede hangi siyasi yapıların yaşadığının öğrenilmesine
- B) Eski toplumların yaşam biçimlerinin öğrenilmesine
- C) Bölgedeki ekonomik durumun öğrenilmesine
- D) Yapılan savaşların nedenlerinin bilinmesine

2

- ◆ Malatya'nın Battalgazi ilçesine bağlı Yarımcahan Köyü'nde geliştirilen sistem için köy ile 7 kilometre mesafedeki Karakaya Barajı arasına boru döşendi. Baraj gölü sahasındaki pompanın panosuna yerleştirilen cep telefonuna çağrı bırakıldığında sistem çalışıyor ve borularla köye su ulaşıyor. Sistemin devreden çıkarılması yine bir telefon çağrısı ile yapılıyor.
- ◆ Robot teknolojisinde hayal gücünün sınırlarını zorlayan Japonlar şimdi de alışveriş robotu geliştirdi. Bu robot, alışverişe çıkmayı sevenlerin en büyük yardımcısı olacak. Müşteriyi kapıda karşılayan ve kasaya gidene kadar eşlik eden robot, alışveriş sepetini de taşıyor. Daha önce hafızasına kaydedilmesi şartıyla eğer alışveriş listesinde almayı unuttuğunuz bir şey varsa da hatırlatıyor.
- ◆ İngiltere'de yol bulma derdini tamamen sona erdirecek bir ayakkabı üretildi. GPS teknolojisine sahip ayakkabının burnunda bulunan ekranda ışıklı yön okları var. Ayakkabının dilinin arkasındaki ekrana gitmek istediğiniz yerin koordinatlarını giriyorsunuz, oklar ışık ve seslerle sizi o noktaya yönlendiriyor.

Yukarıda verilen örneklerde teknolojik gelişmelerin daha çok hangi yönüne vurgu yapılmıştır?

- A) Gündelik yaşamı kolaylaştırdığına
- B) Yoğun çalışmalar sonucu ortaya çıktığına
- C) Doğal çevreye zarar verdiğine
- D) Genellikle yurt dışında gerçekleştiğine

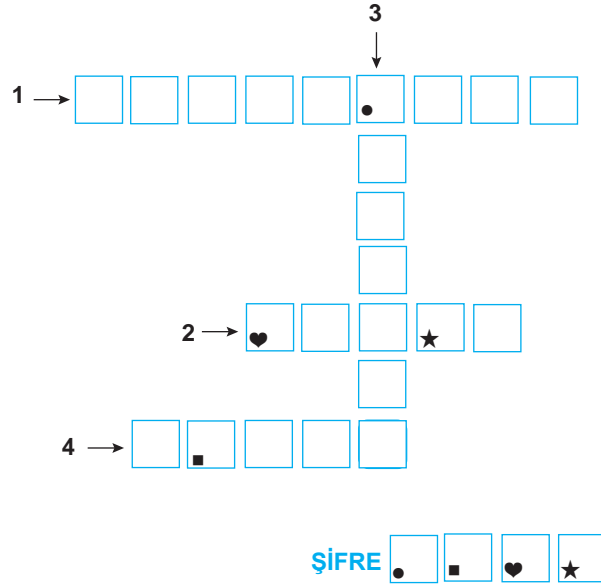


3

İnsanların merak ettikleri konulardan birisi de gelecekte insanlığın nasıl bir hayat tarzına sahip olacağıdır. Şüphesiz geleceğin nasıl olacağını gösteren etkenlerden biri de teknolojik gelişmelerdir. Teknolojik gelişmelere bağlı olarak sosyal, siyasal, ekonomik ve kültürel değişimler birbirini etkileyerek farklı bir dünya oluşturmaktadır. Ünlü fizikçi Einstein, "Hayal gücü bilgidен daha önemlidir." diyerek geleceğin mucitlerine yol göstermiştir.

Bu metindeki bazı sözcüklerin anlamları numaralarla belirtilerek verilmiştir. Belirtilen sözcükleri metinden bularak aşağıdaki bulmacaya yazınız. Simgelerle belirtilen kutularda yer alan harfleri de "ŞİFRE" bölümüne yazınız.

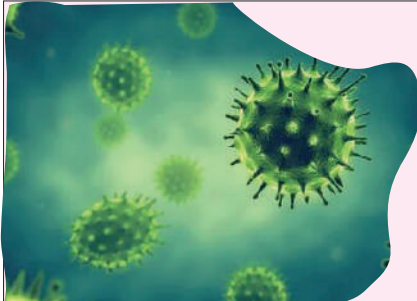
1. Bir nesneyi, o nesne karşımızda olmaksızın tasarlama yetkisi
2. Yeni bir buluş ortaya koyan, icat eden kimse
3. Zaman bakımından ileride olması, gerçekleşmesi beklenen
4. Bir şeyi anlamak veya öğrenmek için duyulan istek



Şekilde belirtilen "ŞİFRE" aşağıdakilerden hangisinde doğru verilmiştir?

- A) Ü Z Ü M B) G E Z İ C) İ M G E D) G E M İ

4



Çin'in Wuhan kentinde ortaya çıkan koronavirüs Covid-19 adı verilen hastalığa yol açmıştır. Koronavirüs Antartika Kıtası hariç tüm kıtalara yayılmıştır. Türkiye'de ilk koronavirüs vakası 11 Mart 2020'de tespit edildi. Tüm dünyada olduğu gibi ülkemizde de bu virüsten korunmak için bazı tedbirler alınmıştır. Koronavirüs kalabalık ortamlarda daha hızlı yayıldığı için iş yerleri çalışma sistemlerini değiştirmiştir. Birçok şirket çalışanlarını virüsten korumak için evden çalışma yöntemine geçmiştir. Birçok işletme ise geçici olarak kapanma yöntemini seçmiş ve işçi çıkarmak zorunda kalmıştır.

Verilen parça sosyal bilim dallarından hangisiyle daha çok ilgilidir?

- A) Antropoloji B) Arkeoloji C) Ekonomi D) Coğrafya



5



Yukarıda sırasıyla icat edilen aydınlatma araçları verilmiştir.

Buna göre;

- I. aydınlatma teknolojilerinin zamanla geliştiği,
- II. kompakt floresan lambaların ampulün icadından sonra yaşamımıza giren aydınlatma araçları olduğu,
- III. Ampulün gelişimini tamamladığı

yargılarından hangilerine ulaşılabilir?

- A) Yalnız I B) I ve II
C) Yalnız III D) II ve III

6

Üç boyutlu yazıcılar günümüzde üzerinde çalışma yapılan ve gelişmeye açık olan teknolojik bir yeniliktir. Henüz her yerde yaygın olarak kullanılmaları da gelecekte hayatımızın birçok alanında yer alabilirler. Fotokopi makinesi ve iki boyutlu yazıcı teknolojisi kullanılmaya başlandığında insanlar kâğıtta olan yazıları hızlı bir şekilde çoğaltma imkânına kavuştu. Şimdi sıra üç boyutlu yazıcılarda. Örneğin, çok sevdiğiniz bir oyuncağınızın kırıldığını düşününüz. Kırılan oyuncağınızın tasarımını Genel Ağ üzerinden bulup 3 boyutlu yazıcıyı kullanarak oyuncağınızın yenisini yazıcıdan çıkarabileceksiniz. Evinizdeki kapı kolunu değiştirmek istediğinizde bir modelin tasarımını üç boyutlu yazıcınızdan çıkarabileceksiniz.

Buna göre;

- I. iki boyutlu yazıcıların insan hayatını kolaylaştırdığı,
- II. üç boyutlu yazıcının kullanımının yaygın olmadığı,
- III. iki boyutlu yazıcıların üç boyutlu yazıcılara göre gelişmiş bir teknolojiye sahip olduğu

yargılarından hangilerine ulaşamaz?

- A) Yalnız I B) I ve II
C) II ve III D) Yalnız III

7

1987 yılında Turgut Özal'ın başbakanlığı döneminde Türkiye'ye çağrılan Japon eğitim heyeti ile Türk heyeti arasında şöyle bir diyalog yaşanır:

Japon Heyeti: Biz çocuklarımızı okul öncesinde Hiroşima'ya, Nagazaki'ye götürür, bombalanmış bölge hakkında bilgilendirir, onlara burada bitkinin bile yeşeremediğini gösteririz. Ve deriz ki: "Eğer sizler çalışmaz, sizden öncekileri geçemezseniz vatanınız işte böyle düşman tarafından bombalanır. Hiçbir canlının yaşamayacağı bir durumda size bırakıp giderler. Çalışırsanız bindiğiniz hızlı trenleri bile geçecek yeni vasıtalar yaparsınız. Gerisi sizin bileceğiniz iş."

Türk Heyeti: Peki, Türkiye için tespitleriniz var mı? Gözlemleriniz nedir?

Japon Heyeti: Elbette var. Bizimkinden çok daha önemli. Bir tanesi Çanakkale Savaşları'nın olduğu bölge. Bu bölge, gençlerinizin şok olması için yeter de artar bile. Bir metre kareye on iki bin merminin düştüğü, dünya savaş tarihinin en büyük ve en çetin savaşlarının yaşandığı Çanakkale'niz var. Sizler de çocuklarınızı o büyük savaşların yapıldığı yere götürebilirsiniz.

Türk Heyeti: Gerçekten de Çanakkale Savaşları, Biz Türkleri, bu ülkede yaşayan herkesin vücudunun her zerresinin iliklerine kadar titretecek yoğunlukta müthiş bir güce sahiptir.

Verilen diyalog değerlendirildiğinde tarih öğrenmenin faydaları ile ilgili aşağıdaki yargılardan hangisine ulaşamaz?

- A) İnsanların geçmişten ders alıp geleceğe yön vermelerini sağlar.
B) İnsanlara vatan ve millet kavramları ile millî değerleri öğretir.
C) Devlet yöneticilerine devletin nasıl yönetileceği konusunda yardımcı olur.
D) Bireylere toplumun geçmişini öğretmek kişinin kendi milletine aidiyet duygusuyla bağlanmasını sağlar.



1. Buluş sahibinin buluş konusu ürünü belirli bir süre üretme, kullanma, satma veya ithal etme hakkına ve bu hakkı gösteren belgeye patent adı verilir. Yapılan herhangi bir buluşun mutlaka markası alınmalıdır. Yani bu buluş marka ile koruma altına alınmalıdır. Türkiye’de patent alabilmek için başvurulması gereken kurum Türk Patent Enstitüsü’dür.

Aşağıdakilerden hangisi Türk Patent Enstitüsü’nün amaçlarından biri değildir?

- A) Buluş faaliyetlerine özendirmek
- B) Marka, tasarım ve mülkiyet haklarını korumak
- C) Eserlerin sayılarını sınırlı tutmak
- D) Yaratıcılığı ve yeniliği teşvik etmek

2. Bilgi ve düşüncelerin aktarılmasında yazılı, görsel ve işitsel pek çok kaynak bulunmaktadır. Eserlerin hazırlanması için büyük emek harcanır ve masraf yapılır. Bu eserlerden herhangi bir amaçla yararlanılması durumunda eserin hak sahibine bilgi verilmesi veya anlaşmalarına göre ücret ödenmesi gerekir.

Buna göre herhangi bir eserden yararlanılması için aşağıdaki yollardan hangisine başvurulması gerekmektedir?

- A) Telif hakkı alınmalı
- B) Eserin sayısı arttırılmalı
- C) İnternet yoluyla satın alınmalı
- D) Satışı önlenmeli

3. Asuman ve arkadaşları araştırma yapmak için kütüphaneye gitmişlerdir. Burada ulaştıkları bilgileri not almış, yapmış oldukları alıntıları da tırnak (“ ”) içine almışlardır. Ayrıca notların altına da konunun, yazarın ve kitabın adını, cilt ve sayfa numaralarını ve basım yılını yazmışlardır.

Buna göre Asuman ve arkadaşlarının aşağıdakilerden hangisine dikkat ettiği söylenebilir?

- A) Düşünce özgürlüğüne
- B) Özel hayatın gizliliği hakkına
- C) Telif ve patent hakkına
- D) Basın özgürlüğüne

4. Herhangi bir bilgi veya düşünce ürününün kullanılması ve yayılması ile ilgili hakların yasalarla belirli kişilere verilmesine telif hakkı denir. Yani bir eserin kullanılmasına ve kopyalanmasına izin verme hakkıdır. Telif hakkının süresi sınırsız değildir.

Buna göre telif hakkı hakkı ile ilgili aşağıda verilen bilgilerden hangisi doğru değildir?

- A) Kişilere belirli bir süre için verilmektedir.
- B) Okur üzerinde olumsuz etkiye neden olmaktadır.
- C) Yasalarla güvence altına alınmıştır.
- D) Bir eserin kullanım hakkının kişilere verilmesidir.

5. **Ceren Öğretmen:** Çocuklar, bilimsel araştırma yaparken başvurulacak yöntemlerden biri de deney yapmaktır. Fakat bu yöntem bizim dersimiz için uygun değildir.

Ceren Öğretmen’in verdiği bilgi değerlendirildiğinde Ceren Öğretmen’in hangi dersin öğretmeni olduğu söylenebilir?

- A) Kimya
- B) Biyoloji
- C) Tarih
- D) Fizik

6. Metin yazarken alıntı yaptığımız kısımları (cümle ya da paragrafları) nereden ve kimden aldığımız gösteren notlara denir.

Yukarıda verilen tanımın doğru olabilmesi için boşluğa aşağıdakilerden hangisi getirilmelidir?

- A) bandrol
- B) patent
- C) hipotez
- D) dipnot



14. Öğretmen 6/A sınıfına Türk Patent ve Marka Kurumunun çıkarılmasının amaçlarını sormuştur.

Öğrencilerin verdiği cevaplar şunlardır:

Ömer: Kanunlarla koruma altına alınmış hakların korunması ile ilgili işlemleri yapmak

Sıla: Buluşların kullanımını takip etmek, yeni teknolojilerin değerlendirilmesini sağlamak

Kadir: Yurt dışında benzer kuruluşlar ve uluslararası kuruluşlarla iş birliğinde bulunmak

Aleyna: Eserlerin satış oranını arttırmak

Öğrencilerden hangisinin verdiği cevap doğru değildir?

- A) Ömer B) Sıla
C) Aleyna D) Kadir

15. Bilgi dolu kitapları hazırlayıp bize ulaştırana kadar onlarca insan emek harcar. Bu insanların emeklerinin karşılıklarını alabilmelerinin tek yolu da satılan kitapların paralarının kendilerine ulaşmasıdır.

Aşağıdakilerden hangisi kitapların hazırlanmasında emeği geçenlerin haklarının çalınmasına örnektir?

- A) Hazırlanan kitapların az satılması
B) Kitapların yasal olmayan yollardan kopyalanarak çoğaltılması
C) Kitaptaki bilgilerin okuyucular tarafından beğenilmesi
D) Elde edilen satış gelirlerinden devlete vergi ödenmesi

16. Üzerinde henüz bilimsel çalışmalar yapılarak doğruluğu kanıtlanmamış ama bilimsel çalışmalar yapıldığında doğru çıkacağı umulan düşünceye denir.

Yukarıda boş bırakılan yere aşağıdakilerden hangisi yazılmalıdır?

- A) patent B) hipotez
C) veri D) bilim

17. **Korsan ürün satın alan bir kişi ile ilgili aşağıdakilerden hangisi söylenemez?**

- A) Sağlığı olumsuz etkiler.
B) Ülkede yeni eserlerin üretilmesine engel olur.
C) Başka insanların emeğini çalar.
D) Eser sahibinin para kazanmasına yardımcı olur.

18.

- I. Telif hakkı T.C. Kültür ve Turizm Bakanlığından alınır.
II. Telif hakkı koruma süresi eser sahibi yaşadığı sürece ve ölümünden sonra 40 yıldır.
III. Ülkemizde sanat ve müzik eserlerini korumak için 5846 sayılı "Fikir ve Sanat Eserleri Kanunu" çıkarılmıştır.
IV. Patent belgesinin geçerlilik süresi en fazla 10 yıldır.

Yukarıda verilen bilgilerden hangileri yanlıştır?

- A) Yalnız I B) II ve III
C) II ve IV D) Yalnız IV

19. **Bir ürünün orijinalini alarak;**

- I. Yasa dışı işleri önlemeyi,
II. ülke içinde huzursuzluk çıkarmayı,
III. eser sahibinin emeğini korumayı

durumlarından hangilerini sağlamış oluruz?

- A) Yalnız I B) I ve II
C) I ve III D) I, II ve III



1 Telif hakkı, bir fikir ya da sanat eserini meydana getiren kişinin, bu eserden doğan haklarının bütünüdür. Ülkemizde telif hakları, Fikir ve Sanat Eserleri Kanunu ile düzenlenerek korunmuştur. Telif Yasası olarak da bilinen bu kanunun 81. maddesinde yapılan değişiklikle korsan yayıncılığa ağır cezalar getirilmiştir.

Buna göre;

- I. Telif hakkı yasalarla güvence altına alınmıştır.
- II. Korsancılık engellenmeye çalışılmıştır.
- III. Fikir ve eser sahibinin hakları koruma altına alınmıştır.

yargılarından hangilerine ulaşılabilir?

- A) I, II ve III B) II ve III
C) Yalnız I D) I ve III

2

- ◆ Kişinin her türlü fikri emeği ile meydana getirdiği ürünler üzerindeki hukuki haklardır.
- ◆ Telif hakkı sayesinde ortaya konan eser ancak sahibinin izniyle kullanılabilir ve yayılabilir.
- ◆ Telif hakkı sembolü “©” şeklindedir.
- ◆ Telif hakkı koruma süresi, eser sahibi yaşadığı sürece ve ölümünden sonraki 70 yıldır.

Verilen bilgilerden hareketle telif hakkı ile ilgili;

- I. Telif hakkının geçerliliği sınırsız değildir.
- II. Emeğe saygı koruma altına alınmıştır.
- III. İnsanların oluşturduğu eserler güvence altına alınmıştır.

yargılarından hangileri söylenebilir?

- A) I, II ve III B) I ve II
C) II ve III D) Yalnız I

3 6. sınıf öğrencisi Derya, sosyal bilgiler dersinde bilimsel araştırma basamaklarını öğrenmiştir. Derya, bilimsel araştırma basamaklarını öğrendikten sonra “Sanayi alanında yapılan çalışmaların çevre üzerindeki etkisi” konusunda bir araştırma yapmaya karar vermiştir. Derya araştırması için konuyla ilgili internetten, gazetelerden, dergi ve kitaplardan birçok bilgiye ulaşmıştır. Bulduğu bilgileri konusuna göre sınıflandırmıştır. Araştırmasını hazırlarken bilgiye ulaştığı ağların adreslerini, gazetelerin ad ve tarihlerini, kitapların adlarını, basımevlerini ve basım yıllarını belirtmiştir. Daha sonra çalışmasını tamamlamıştır.

Buna göre Derya bilimsel araştırma yaparken;

- I. ilgi duyulan, merak edilen bir problemin seçilmesi,
- II. kaynaklardan elde edilen notların konularına göre sınıflandırılması,
- III. sorunun çözümüne yönelik varsayımlarda bulunulması,
- IV. kullanılan kaynakların kaynakçada belirtilmesi

basamaklarından hangilerini uygulamıştır?

- A) I ve II B) I, II ve IV
C) II ve III D) I, II ve III

4 Hafta sonu evde canı sıkılan Ahmet, çarşıya çıkmıştır. Yol kenarında seyyar satıcıların çok uygun fiyata kitap sattığını görmüş, beğendiği iki kitabı alıp eve dönmüştür. Aldığı kitaplardan birini heyecanla açıp okumaya başlamıştır. Kitaptan 20 sayfa okuduktan sonra sayfa sayısının 30’a geçtiğini görmüş, o kitabı okumayı bırakmış, diğer kitabı okumaya başlamıştır. İkinci kitapta da sayfaların silik çıktığını görmüştür. Hızlıca evden çıkıp kitapları geri vermek istemiş ancak satıcının orda olmadığını görünce kitaplarını alıp eve dönmüştür.

Bu durumda Ahmet’e nasıl yardımcı olabiliriz?

- A) Satıcıyı beraber arayıp bulmalıyız.
- B) Tüketici Hakem Heyeti’ne başvurmalıyız.
- C) Ahmet korsan ürün olarak suç işlemiştir, kitap konusunda yardımcı olamayız. Ancak Ahmet’i korsan ürün konusunda uyarmalıyız.
- D) Kitap parasını arkadaşlarla aramızda toplayıp Ahmet’e vermeliyiz.

Aşağıdaki sorulara verilen kavramlardan uygun olanı seçerek cevap veriniz.

Sosyal bilimler, teknoloji, arkeoloji, inovasyon, felsefe, TÜBİTAK, bilim, yapay zekâ, Ar-ge, buluş, tarih, antropoloji, psikoloji, TEMA, hukuk, sosyoloji, kaynakça, hipotez, coğrafya, nanoteknoloji, dipnot, telif, karekod, patent, çip, mucit, bandrol, kor-san, barkod

1. İnsanların geçmişlerini, yaşadıkları çevreyi, yaşam tarzlarını ve kültürlerini inceleyen bilim dalına ne denir?

Cevap:

2. Evrenin bir bölümünü konu olarak seçen, deneye dayanan, mantıklı, düzenli ve sistemli bilgiye ne ad verilir?

Cevap:

3. İnsanın duyu, düşünce ve davranışlarını inceleyen bilim dalına ne ad verilir?

Cevap:

4. Günümüzde yanmayan, buruşmayan ve ıslanmayan kumaşların üretilmesinde kullanılan teknolojiye ne denir?

Cevap:

5. Yenilik, yenilikçilik, yenileşim anlamlarına gelen mal veya hizmette yeni bir pazarlama yönteminin uygulanmasına ne denir?

Cevap:

6. Eski kültür ve uygarlıklardan geriye kalan eserleri ortaya çıkaran kazı bilimine ne denir?

Cevap:

7. Varlığı ve bilgiyi bilimsel olarak araştırmaya yönelik soru sorma, sorgulama bilimine ne denir?

Cevap:

8. İnsan yaşamını kolaylaştırmak için bilimsel bilgilerin kullanılmasıyla yeni ürün üretilmesine ne denir?

Cevap:

9. Mevcut bilgiden yararlanarak yeni malzemeler, yeni ürünler ya da cihazlar üretmeye yönelik sistemli çalışmaya ne denir?

Cevap:

10. Bilgisayar kontrollü robotun, genellikle akıllı varlıklarla ilişkili görevleri yerine getirme yeteneğine ne denir?

Cevap:

11. Türkiye Bilimsel ve Teknolojik Araştırma Kurumunun kısa adı nedir?

Cevap:

12. Buluş veya ürün ortaya çıkaran kişilere ne ad verilir?

Cevap:

13. Geçmiş ve günümüz topluluklarında yaşayan insanların çeşitli yönlerini inceleyen bilim dalına ne denir?

Cevap:

14. Buluşun kullanma hakkının kime ait olduğunu gösteren belgeye ne denir?

Cevap:

15. Herhangi bir bilgi veya düşünce ürününün kullanılması ve yayılması ile ilgili hakların, yasalarla belirli kişilere verilmesine ne denir?

Cevap:

16. Yeryüzünü fiziki, ekonomik, beşerî ve siyasi yönlerden inceleyen bilime ne denir?

Cevap:

17. Araştırmanın olası sonucuna dair yapılan tahminlere ne denir?

Cevap:

18. Devlet tarafından verginin alındığını gösteren ve satılan ürünlerin üzerine konulan etikete ne denir?

Cevap:

19. Geçmişte yaşanan olayları yer ve zaman göstererek inceleyen bilim dalına ne denir?

Cevap:

20. Toplum düzenleyen ve devletin yaptırım gücünü belirleyen yasaları konu alan bilim dalı hangisidir?

Cevap:

21. Bir eserin hazırlanmasında yararlanılan kaynakları eserin sonunda gösteren listeye ne denir?

Cevap:

22. Her türlü ticaret malına konulabilen, o malla ilgili stok, fiyat gibi bilgileri içeren, değişen genişlikte çubuklar biçiminde, elektronik tarayıcıyla okunabilen simgeye ne denir?

Cevap:

23. Metni yazarken alıntı yaptığımız kısımları, nereden ve kimden aldığımızı gösteren notlara ne denir?

Cevap:

24. Büyük emeklerle ortaya çıkarılan ürünlerin taklit edilerek, hatta kendi ürünleriymiş gibi satılmasına ne denir?

Cevap:



1.

- ◆ Kullanım alanı geniş olan bir madendir.
- ◆ Sivas - Divriği, Malatya - Hekimhan - Hasan Çelebi önemli çıkarım alanlarıdır.
- ◆ Zonguldak ve çevresinde işletmeleri vardır.

Yukarıda açıklaması yapılan maden aşağıdakilerden hangisidir?

- A) Bakır B) Taş Kömürü
C) Demir D) Krom

2.

- ◆ Kolay işlenen bir madendir.
- ◆ Daha çok elektrik sanayisinde kullanılır.
- ◆ Artvin-Murgul, Elazığ-Maden ve Kastamonu-Küre başlıca çıkarım yerleridir.

Yukarıda açıklaması yapılan maden aşağıdakilerden hangisidir?

- A) Demir B) Krom
C) Bakır D) Bor

3. Türkiye'de un, makarna ve bisküvi fabrikaları Konya ve civarında yoğunlaşmıştır.

Bu durum aşağıdakilerden hangisi ile açıklanabilir?

- A) Ham maddenin bu bölgede yaygın olması
B) Tüketimin çok fazla olması
C) Ulaşım olanaklarının gelişmiş olması
D) Yer şekillerinin elverişli olmaması

4. Türkiye, maden rezervi ve çeşidi bakımından zengin bir ülkedir.

Yukarıda bahsedilen bu durum aşağıdaki özelliklerden hangisine bağlıdır?

- A) Yer şekillerinin çeşitli olmasına
B) İklim çeşitliliğinin görülmesine
C) Üç tarafının denizlerle çevrili olmasına
D) Jeolojik yapısına

5.

- I. Üç farklı iklim tipinin görülmesi
II. Yeryüzü şekillerinin çeşitlilik göstermesi
III. Dört mevsimin belirgin olarak görülmesi
IV. Gelişmiş ulaşım ağının olması

Yukarıdakilerden hangileri ülkemizde ekonomik faaliyet çeşitliliğinin fazla olmasının nedenlerindedir?

- A) Yalnız I B) I ve II
C) II ve III D) I, II, III ve IV

6. Öğretmen 6/B sınıfında maden konusunu işlerken şu açıklamayı yapmıştır:

“Bu maden inşaat, otomotiv, ev gereçleri, mobilya, ilaç, elektrik-elektronik, seramik, gübre, sabun, deterjan, kozmetik, fotoğraf ve plastik sanayi gibi pek çok alanda kullanılır. Bu madenin dünyadaki oranının %73'ü Türkiye'de bulunmaktadır.”

Öğretmenin açıklamasını yaptığı maden aşağıdakilerden hangisidir?

- A) Bor B) Demir
C) Bakır D) Kömür



7. Ülkemizde hayvancılık ile ilgili aşağıda verilen bilgilerden hangisi yanlıştır?

- A) Nüfusun fazla olduğu yerlerde et ve yumurta ihtiyacını karşılamak için kümes hayvancılığı yapılır.
- B) Çayır bitki örtüsünün yaygın olduğu topraklar üzerinde genellikle küçükbaş hayvancılık yapılır.
- C) Ülkemizin doğusunda ve Karadeniz kıyılarında bulunan yaylalarda büyükbaş hayvancılık yapılır.
- D) Bitki çeşitliliğinin fazla olduğu şehirlerimizde arıcılık yapılır.

8. Ülkemizde ormancılık faaliyetlerinin çoğunlukla kıyı bölgelerde yapılmasının temel nedeni aşağıdakilerden hangisidir?

- A) Kıyı bölgelerde tarım faaliyetlerinin yapılması
- B) Kıyı bölgelerde deniz turizminin gelişmesi
- C) Kıyı bölgelerde nem ve yağış miktarının fazla olması
- D) Kıyı bölgelerde marangozculuk mesleğinin gelişmesi

9. Aşağıdakilerden hangisi ormanların faydalarından biri değildir?

- A) Doğal afet olan sel ve erozyonu önler.
- B) Havadaki karbondioksit miktarını artırır.
- C) Yabani hayvanlara barınak olur.
- D) Hava kirliliğini önler.

10. Pamuk, sıcak iklimin hâkim olduğu alanlarda ve alüvyal topraklarda yetişir. Yetiştirme döneminde bol su, olgunlaşma döneminde ise sıcak ve kurak bir havaya ihtiyaç duyar.

Yukarıda sözü edilen ürünün aşağıdaki bölgelerin hangisinde yetişmesi zordur?

- A) Karadeniz Bölgesi'nde
- B) Akdeniz Bölgesi'nde
- C) Güneydoğu Anadolu Bölgesi'nde
- D) Ege Bölgesi'nde

11. Hayvancılıkla ilgili aşağıda verilen bilgilerden hangisi yanlıştır?

- A) Küçükbaş hayvancılık gür otlakların bulunduğu yerlerde mera hayvancılığı şeklinde yapılmaktadır.
- B) Bursa ve çevresi ipek böcekçiliği için uygundur.
- C) Kümes hayvanlarının yiyeceklerinden olan buğday ve mısır gibi tarım ürünleri toprakta yetiştirilir.
- D) Ülkemizin ortası ve doğusu küçükbaş hayvancılık için uygun yerlerdir.

12. Bir tarım ürünü bir ülkenin bütün bölgelerinde yetiştiriliyorsa, o ülkenin iklim koşullarına uyum sağlamıştır.

Buna göre aşağıdaki tarım ürünlerinden hangisinin ülkemizde görülen iklim koşullarına daha uyumlu olduğu söylenemez?

- A) Şeker pancarı
- B) Buğday
- C) Mercimek
- D) Çay

13.

- I. Tuz elde edilir.
- II. Tarım alanlarını sulamada yararlanır.
- III. Elektrik enerjisi elde etmek amacıyla kullanılabilir.
- IV. İçme suyu olarak yararlanır.

Yukarıdakilerden hangileri göllerden yararlanma yollarından biridir?

- A) Yalnız I
- B) II ve III
- C) III ve IV
- D) I, II, III ve IV



14.



I Zeytin II Çay III Buğday


Yukarıda verilen tarım ürünlerinin genel olarak yetiştiği bölgeler aşağıdakilerden hangisinde doğru olarak verilmiştir?

	I	II	III
A)	İç Anadolu	Karadeniz	Doğu Anadolu
B)	Ege	Karadeniz	İç Anadolu
C)	Akdeniz	Marmara	Güneydoğu Anadolu
D)	Marmara	Karadeniz	Akdeniz

15.



Aşağıdakilerden hangisi yukarıdaki görsele dayalı olarak gelişen ekonomik faaliyetlerden biri değildir?



16. Tarım ürünleri gıda ve sanayide ham madde olarak kullanılmaktadır.

Aşağıdakilerden hangisi dokuma sanayisinde ham madde olarak kullanılan tarım ürünüdür?

- A) Üzüm B) Buğday
C) Pamuk D) Mısır

17. Türkiye'de Zonguldak-Ereğli Havzası'nda kömür çıkarımı yapılmasına rağmen kömür, diğer ülkelerden ithal edilir.

Bu durum aşağıdakilerden hangisi ile açıklanabilir?

- A) Çıkarılan kömürün kalitesiz olması
B) İç tüketimi karşılayamaması
C) Tenörünün çok olması
D) Doğaya zarar vermemesi

18.

- ◆ Yüksek sıcaklık ve nem ister.
- ◆ Sulak alanları, sever.
- ◆ Ülkemizde en fazla Edirne'de yetiştirilir.

Hakkında bilgi verilen tarım ürünü aşağıdakilerden hangisidir?

- A) Zeytin B) Buğday
C) Pirinç D) Arpa

19. Karadeniz Bölgesi'nde makineli tarımın yaygın olmamasında aşağıdakilerden hangisi etkili olmuştur?

- A) Yağış miktarının fazla olması
B) Arazinin engebeli olması
C) Killi toprakların yaygın olması
D) Heyelan olayının yaşanması



1



Yukarıdaki harita incelendiğinde aşağıdakilerden hangisine ulaşamaz?

- A) Ekonomik faaliyetler çeşitlilik göstermektedir.
- B) Karadeniz Bölgesi'nde farklı ekonomik faaliyetler yapılmaktadır.
- C) Büyükbaş hayvancılık Doğu Anadolu Bölgesi'nde yapılmaktadır.
- D) En yaygın yapılan ekonomik faaliyet balıkçılıktır.

2

Ülkemiz, yer altı kaynakları bakımından oldukça zengindir. Bu nedenle madencilik ülkemizde yapılan önemli bir ekonomik faaliyettir. İnsanların bir kısmı maden ocaklarında çalışarak geçimlerini sağlamaktadır. Demir, bakır, bor, krom ve boksit ülkemizde çıkarılan madenlere örneklerdir. Ülkemiz dünya bor rezervinin önemli bir kısmına sahiptir. Bor madeni günlük hayatta kullandığımız birçok alet, eşya ve makinenin ham maddesi olarak kullanılmaktadır. Örneğin; jet ve roket yakıtlarında, bilgisayar ve cep telefonu yapımında, cam sanayisinde, temizlik ürünlerinde bor madeninden yararlanılmaktadır. Bilimin ilerlemesiyle bor madeninin kullanım alanının genişlemesini sağlamıştır.

Buna göre bor madeni ile ilgili;

- I. Günlük hayatta kullandığımız bazı ürünlerin ham maddesini oluşturmaktadır.
- II. Bor yataklarına en çok ülkemizde rastlanılmaktadır.
- III. Teknolojik gelişmeler kullanım alanının genişlemesini sağlamıştır.

yukarıdakilerden hangileri söylenebilir?

- A) I ve II
- B) II ve III
- C) I ve III
- D) I, II ve III



3 Su, bizler için vazgeçilmez bir yaşam kaynağıdır. Tarım ürünlerini yetiştirmek için suya ihtiyaç vardır. Yer altından çıkan sıcak su kaynakları üzerinde kaplıca tesisleri yapılır. Ülkemizdeki denizlerden özellikle yaz aylarında turizm faaliyetleri için yararlanır. Ülkemizde bulunan deniz ve göller ulaşım için kullanılır. İstanbul Boğazı, ülkemizin dünya üzerindeki önemini arttırmaktadır. Buradan geçen yabancı devletlerin ticaret gemilerinden ülkemiz gelir elde etmektedir. Ülkemizin deniz, akarsu ve göllerinde balıkçılık faaliyetleri yapılır.

Buna göre;

- I. sudan farklı alanlarda yararlanıldığı,
- II. suyun en fazla turizm üzerinde önemli bir etkiye sahip olduğu,
- III. suyun ekonomik faaliyetler için önemli bir kaynak olduğu

yargılarından hangilerine ulaşılabilir?

- A) I ve II B) Yalnız II
C) I ve III D) II ve III

4 Ülkemiz akarsu, göl ve deniz gibi doğal su kaynakları açısından da zengin bir ülkedir. Üç tarafı denizlerle çevrili olan ülkemizde deniz taşımacılığı, balıkçılık ve deniz turizmi yapılmaktadır. Enerji potansiyeli yüksek olan akarsularımızın ülkemiz ekonomisine katkısı büyüktür. Ayrıca akarsularımızdan içme suyu, tarlaların sulanması ve suni balık üretimi gibi alanlarda da yararlanılmaktadır. Tatlı su balıkçılığı, tuz ve soda üretimi ile sulama ve enerji üretiminde yararlandığımız göllerimiz de vardır.

Ülkemizin su kaynakları açısından zengin olmasının aşağıdaki alanlardan hangisine katkı sağladığı söylenemez?

- A) Ulaşım B) Tarım
C) Enerji D) Maden

5 Aşağıdaki tabloda ülkemiz topraklarının kullanım alanlarına göre dağılımı verilmiştir.

Kullanım alanı	Oranı (%)
Ekili - dikili arazi	36,04
Koruluk ve orman arazisi	27,64
Çayır ve otlak arazisi	21,85
Tarıma elverişsiz arazi	14.47

Yukarıdaki tabloya bakarak aşağıdakilerden hangisine ulaşamaz?

- A) Koruluk ve orman arazisinde iğne yapraklı ağaçlar geniş yer kaplamaktadır.
- B) Çayır ve otlak arazilerinin oranı tarıma elverişsiz arazilerin oranından daha fazladır.
- C) Topraklar en fazla ekili – dikili arazilerde kullanılmaktadır.
- D) Tarıma elverişsiz arazi en az orana sahiptir.

6 Ülkemizde dört mevsimin yaşanması ve farklı toprak türlerinin bulunmasından dolayı çok çeşitli tarım ürünleri yetiştirilmektedir. Türkiye'nin sahip olduğu özellikler dikkate alındığında tarım ürünleri ihtiyacını kendi kendine karşılayabilecek dünyanın ender ülkelerinden biri olduğu bilinmektedir. Ülkemizde yetiştirilen tarım ürünleri ülke ekonomisine önemli katkılar sağlamaktadır.

Yukarıdaki açıklama dikkate alındığında;

- I. Türkiye'de birçok tarım ürünü yetiştirilmektedir.
- II. Türkiye'de tarım çeşitliliğinin olmasında iklimin etkisi büyüktür.
- III. Türkiye tarım ürünleri ithalatı yapmamaktadır.

yargılarından hangilerine ulaşamaz?

- A) Yalnız I B) I ve II
C) II ve III D) Yalnız III



- 7 Canlılara yaşama ortamı sağlayan yer kabuğunun yüzey bölümüne toprak adı verilir. Toprak yaşamımızı sürdürmek için önemli bir kaynaktır. İnsanlar toprağı kullanarak çeşitli ekonomik faaliyetler yaparlar. Toprak üzerinde yapılan en önemli ekonomik faaliyetlerden biri tarımdır. Bir yerde tarımın yapılması büyük ölçüde iklime, toprağa ve yer şekillerine bağlıdır. Ülkemiz iklim ve toprak yapısı bakımından tarıma elverişli bir ülkedir. Ülkemizde farklı iklim ve toprak çeşidinin olması, farklı tarım ürünlerinin yetiştirilmesini sağlamaktadır.

Yukarıdaki parçaya göre aşağıdakilerden hangisi söylenemez?

- A) Tarım toprak üzerinde yapılmaktadır.
B) Ülkemiz tarıma elverişlidir.
C) Türkiye'den yurt dışına tarım ürünleri ihraç edilmektedir.
D) Toprak çeşitliliğinin olması tarım ürünü çeşitliliğini etkilemiştir.

- 8 Ülkemizin önemli kaynaklarından biri ormanlardır. Ağaçların sık veya seyrek ancak kesintisiz bir örtü oluşturduğu alana orman adı verilir. Ormancılık; ormanların bakımı, yeniden yetiştirilmesi, orman ürünlerine ve hizmetlerine olan ihtiyaçların karşılanabilmesi amacıyla yapılan faaliyetlerin tümüdür.



Gazete



Odun



At Kestanesi



Masa - Sandalye

Yukarıda verilen görsellerden aşağıdakilerden hangisi çıkarılamaz?

- A) Ormanlar doğal güzellikleri ile ülke turizmine katkıda bulunur.
B) Ormanlar yakacak ve ham madde kaynağıdır.
C) Evimizde kullandığımız mobilyaların ham maddesi ormanlardır.
D) Ormanlardan kağıt elde edilir.



1. Dünyamız her geçen gün küresel ısınma sorunu ile daha fazla karşı karşıya kalıyor.

Aşağıdakilerden hangisi küresel ısınmanın temel nedenleri arasında sayılmaz?

- A) Fabrika dumanları
B) Egzozlardan çıkan karbondioksit
C) Bazı parfümler ve deodorantlar
D) Meyve ve sebze çöpleri

2. Doğal çevre sadece insanların değil bütün canlıların yaşam alanıdır.

Aşağıdakilerden hangisi doğal çevreyi korumak için yapılması gerekenlerden biri değildir?

- A) Geri dönüşümü olan ürünleri kullanmak
B) Toplu taşıma araçlarını tercih etmek
C) Ormanları koruyucu tedbirler almak
D) Tükenebilir enerji kaynaklarını kullanmak

3. Doğal denge bozulduğu zaman eski hâline getirilmesi çok zordur. Gelecek nesillerin de bu dengenin korunmasını isteme hakları vardır. Doğal dengeyi korumak hepimizin görevi olmalıdır.

Aşağıdakilerden hangisi doğal dengenin korunması için yapılması gerekenlerden biri değildir?

- A) Doğal enerji kaynakları kullanılmalıdır.
B) Fabrika bacalarına filtre takılmalıdır.
C) Su tüketiminde israftan kaçınılmalıdır.
D) Ormanlık alanlar tarıma açılmalıdır.

4. Doğal kaynakların hızla tüketilmesi sonucunda gelecek nesiller zor durumda kalacaklardır.

Aşağıdakilerden hangisi gelecek nesilleri bekleyen tehlikelerden biri değildir?

- A) Susuzluk
B) Açlık ve kuraklık
C) Bilimsel araştırma ve buluşlar
D) Birçok canlı neslinin tükenmesi

5. Konya'da yapılan bir araştırmaya göre bilinçsiz sulama ve gübre kullanımı yüzünden Konya Ovası'nda tuz miktarının arttığı ve topraktaki bazı elementlerin azaldığı tespit edilmiştir.

Buna göre aşağıdakilerden hangisine ulaşılabilir?

- A) Küresel ısınmanın toprak üzerindeki etkisi büyüktür.
B) İnsanların bilinçsizce hareket etmeleri toprağa zarar vermektedir.
C) Konya Ovası'nda verim büyük oranda düşmüştür.
D) Konya Ovası'nda tarım yapan çiftçiler ekonomik kayba uğramıştır.

6. Enerji kaynakları tükenebilen ve tükenmeyen enerji kaynakları olarak ikiye ayrılır.

Buna göre;

- I. Doğal gaz
II. Kömür
III. Rüzgâr
IV. Petrol

yukarıdakilerden hangisi tükenmeyen (yenilebilir) enerji kaynaklarından biridir?

- A) I
B) II
C) III
D) IV



7.

- ◆ Güneş enerjisi
- ◆ Rüzgâr enerjisi
- ◆ Su gücü enerjisi

Yukarıdaki enerji kaynaklarının ortak özellikleri arasında aşağıdakilerden hangisi gösterilemez?

- A) Tükenebilir enerji kaynakları olmaları
- B) Yenilebilir özellikte olmaları
- C) Doğada sürekli bulunan enerji kaynakları olmaları
- D) Doğal çevreye zarar vermemeleri

8. Uranyum ve toryum madenlerinin ham madde olarak kullanılmasıyla elde edilen enerji türü aşağıdakilerden hangisidir?

- A) Doğal Gaz
- B) Petrol
- C) Nükleer enerji
- D) Jeotermal enerji

9. Doğal kaynakların bilinçsizce tüketilmesi kuraklık, hava kirliliği, su kirliliği, erozyon, heyelan, gıda yetersizliği ve küresel ısınma gibi sorunlara sebep olmaktadır.

Aşağıdaki görsellerden hangisi su kaynaklarının bilinçsizce tüketilmesi sonucunda ortaya çıkan çevre sorunlarından biridir?



10.

- ◆ Suyun akış hızından yararlanılarak elde edilen enerji türüne denir.
- ◆ Çok sayıda nehir bulunan bu ülkemizde bu enerjinin potansiyeli yüksektir.
- ◆ Nehirlerin üzerine yapılan barajlar elektrik üretimini sağlar.
- ◆ Atatürk, Karakaya, Keban ve Hirfanlı bu enerjiyi üreten barajlardır.

Hakkında bilgi verilen enerji türü aşağıdakilerden hangisidir?

- A) Rüzgâr enerjisi
- B) Jeotermal enerji
- C) Nükleer enerji
- D) Hidroelektrik enerji

11.

- ◆ Yer altında bulunan sıcak suyun yeryüzüne çıktığı yerlerde santralleri kurulmaktadır.
- ◆ Bu santrallerde yeryüzüne çıkan sıcak su ve su buharından yararlanılarak elektrik enerjisi üretilmektedir.
- ◆ Ülkemizde Denizli (Sarayköy) ve Aydın'da (Buharkent) santralleri bulunmaktadır.

Yukarıda hakkında bilgi verilen enerji kaynağı aşağıdakilerden hangisidir?

- A) Hidroelektrik enerji
- B) Jeotermal enerji
- C) Rüzgâr enerjisi
- D) Nükleer enerji

12.

- ◆ Günümüzde yaygın olarak kullanılan enerji kaynaklarından biridir.
- ◆ Konutların ısıtılmasında, sanayide ve elektrik retiminde kullanılır.
- ◆ Ülkemizde Kırklareli (Hamitabat) ve Mardin'de (Çamurlu) çıkarılır.

Yukarıda hakkında bilgi verilen enerji kaynağı aşağıdakilerden hangisidir?

- A) Doğal gaz
- B) Petrol
- C) Linyit
- D) Taş kömürü



13. Güneş ışığını gün boyunca daha fazla alan yerlerde güneş enerjisinden yararlanılır.

Ülkemizde aşağıdaki yerlerden hangisinde Güneş enerjisinden yararlanma olanağı azdır?

- A) Antalya B) Aydın
C) İzmir D) Ordu

14. Enerji kaynakları; kömür, petrol, doğal gaz, rüzgâr ve Güneş gibi çeşitli doğal kaynaklardır. Bu kaynaklar ısı ve enerji üretiminde kullanılarak insan yaşamını kolaylaştırır. Enerji kaynakları tükenebilir (yenilenemeyen) ve tükenmeyen (yenilenebilen) olmak üzere iki grupta incelenir.

Aşağıdakilerden hangisi yenilenemeyen enerji kaynaklarından biridir?

- A) Güneş B) Rüzgâr
C) Doğal gaz D) Jeotermal

15.

- ◆ Yandığında çevresine yüksek miktarda ısı yayan fosil bir yakıttır.
- ◆ Ülkemizde Zonguldak ve çevresindeki madenlerden çıkarılır.
- ◆ Demir - çelik sanayisinde enerji kaynağı olarak kullanılır.

Hakkında bilgi verilen enerji kaynağı aşağıdakilerden hangisidir?

- A) Linyit B) Taş kömürü
C) Petrol D) Doğal Gaz

16.

- ◆ Isı enerjisi çok yüksek değildir.
- ◆ Evlerde ısınma amacıyla ve termik santrallerde elektrik üretiminde kullanılır.
- ◆ En fazla Soma (Manisa), Tunçbilek (Kütahya), Yatağan (Muğla) vb. çıkarılır.

Yukarıda hakkında bilgi verilen enerji kaynağı aşağıdakilerden hangisidir?

- A) Linyit B) Taş kömürü
C) Petrol D) Doğal gaz

17.

- ◆ Büyük bir kısmı ithalatla karşılanmaktadır.
- ◆ Batman, Siirt, Diyarbakır ve Adıyaman'da çıkarılmaktadır.
- ◆ İzmir, İzmit, Mersin, Orta Anadolu ve Batman'da rafinerileri vardır.

Hakkında bilgi verilen enerji kaynağı aşağıdakilerden hangisidir?

- A) Taş kömürü B) Linyit
C) Petrol D) Doğal gaz

18. **Aşağıdakilerden hangisi yenilebilir enerji kaynaklarının özelliklerinden biri değildir?**


- A) Ülkeyi dışa bağımlı hâle getirir.
B) Kaynakların kullanım süresi sınırsızdır.
C) Canlı yaşamına verdiği zarar çok azdır.
D) Ülkenin enerji ihtiyacını kendi kaynaklarıyla karşılar.



1

Lütfen dikkat!

Belediye yetkilileri, vatandaşlara şu hususlarda uyarılarda bulundu: Kullanılmış kızartmalık yağları çevrenin korunması amacıyla kanalizasyona, toprağa, denize ve benzeri ortamlara dökmeyiniz. Kullanılmış kızartmalık yağları diğer atıklardan ayrı olarak biriktirip geri kazanım tesislerinde değerlendirmek üzere temiz ve ağzı kapalı 5 litrelik bir kaptaki biriktiriniz. Biriktirdiğiniz atık yağları belediyemiz tarafından gönderilen yetkililere teslim ederek 1 litre ayçiçeği yağınızı alınız.



Buna göre aşağıdakilerden hangisinden söz edilmemiştir?

- A) Sağlıklı beslenme
B) Çevre bilinci
C) Geri dönüşüm
D) Atık maddelerin kullanımı

2

Yenilenemeyen Enerji Kaynaklarının Özellikleri	Yenilenebilir Enerji Kaynaklarının Özellikleri
<ul style="list-style-type: none">◆ Bu kaynaklardan elektrik enerjisi üretilirken aşırı miktarda karbondioksit açığa çıkar.◆ Kaynakların kullanım süresi sınırlıdır. Kaynaklar kullanıldığında yeniden oluşmaları çok uzun yıllar alır.◆ Ülkeyi dışa bağımlı hâle getirir.◆ Canlı yaşamına verdiği zarar çok fazladır.	<ul style="list-style-type: none">◆ Bu kaynaklardan elektrik enerjisi üretilirken az miktarda karbondioksit açığa çıkar.◆ Kaynakların kullanım süresi sınırsızdır. Kaynaklar kullanıldığında kısa zaman içinde yeniden kullanılabilir.◆ Ülkenin enerji ihtiyacını kendi kaynaklarıyla karşılar.◆ Canlı yaşamına verdiği zarar çok azdır.

Buna göre yenilenebilir enerji kaynaklarının yenilenemeyen enerji kaynaklarına göre;

- I. ekonomik açıdan kârlı olması,
II. doğal yaşam alanlarına olumsuz etkilerinin az olması,
III. ülke kaynaklarının bilinçsizce tüketilmesine neden olması

durumlarından hangilerine katkıda bulunduğu söylenebilir?

- A) Yalnız I
B) I ve II
C) Yalnız III
D) I, II ve III



3



Yukarıdaki görselden çıkarılabilecek yargı aşağıdakilerden hangisidir?

- A) İnsanların doğa üzerinde hiçbir etkisi yoktur.
- B) Su kaynakları giderek azalmaktadır.
- C) Su yenilenebilir olduğu için kirlenmesinde hiçbir sakınca yoktur.
- D) İnsanların bilinçsiz davranışları su kaynaklarının kirlenmesine neden olmaktadır.

4

Doğada insan kullanımına sunulmuş olan çeşitli enerji kaynakları bulunmaktadır. Ancak insanların enerji kaynaklarını kullandıktan sonra arıtmadan doğaya bıraktıkları zehirli gazlar, katı ve sıvı sanayi atıkları havayı, toprağı ve suyu kirleterek çeşitli sorunlara neden olmaktadır. Bu sorunlardan bazıları kirlenme sonucunda içme ve kullanma suyu sıkıntısının çekilmesi, deniz, göl ve akarsuda yaşayan canlı sayısının azalmasıdır. Suyun ve toprağın bu şekilde zarar görmesi insanların beslenme ihtiyaçlarını karşılayan ürünlerin de azalmasına neden olmuştur.

Buna göre aşağıdaki yargılardan hangisine ulaşamaz?

- A) Su ve toprağın zarar görmesi insan ihtiyaçları üzerinde etkilidir.
- B) İnsan faaliyetleri doğal dengenin bozulmasına neden olmaktadır.
- C) Doğal dengedeki bozulma sadece insanları etkilemektedir.
- D) Enerji kaynaklarının bilinçsizce kullanılması doğal çevreye zarar vermektedir.

5

Doğal kaynaklar içerisinde yer alan ormanlar sanayi alanlarına ham madde oluşturmasının yanı sıra doğal dengenin korunmasında da büyük öneme sahiptir. Günümüzde dünyanın akciğerleri olarak bilinen ormanların hızla azalması yer altı ve yer üstü su rejimini bozmakta, erozyonu ve çölleşmeyi hızlandırmaktadır. Ormanların azalması sonucunda hava kirliliği artmakta, hayvanların yaşam alanları daralmaktadır.

Buna göre ormanların azalması;

- I. Canlı yaşamını olumsuz etkiler.
- II. Doğal dengeyi korur.
- III. Küresel sorunlara neden olur.

durumlarından hangilerine neden olur?

- A) Yalnız II
- B) I ve II
- C) I ve III
- D) I, II ve III

6



Numaralandırılmış görsellerle ilgili aşağıdakilerden hangisine ulaşamaz?

- A) II. görseldeki uygulama çevre sorunlarına neden olmaz.
- B) I. görselde yenilenebilir enerji kaynağı gösterilmiştir.
- C) I. görsel tükenilebilir bir enerji kaynağıdır.
- D) II. görsel tekrar oluşması yıllar almayan enerji kaynağıdır.



1. Sanayi ve ticaret ile ilgili herhangi bir alanda yatırım yapmak isteyen yatırımcılar belirli faktörleri göz önüne alarak bu faktörlerin elverişli olduğu alanlarda projelerini hayata geçirirler.

Buna göre;

- I. Yer şekilleri
- II. İklim
- III. Ulaşım

yukarıdakilerden hangileri bir yatırımcının projesini gerçekleştirmek için göz önüne alması gereken faktörlerdir?

- A) I, II ve III
- B) Yalnız III
- C) I ve II
- D) Yalnız II

2. Vergi, devletin vatandaşlarına daha iyi hizmet sunabilmesi için kişilerden ve kuruluşlardan aldığı paradır.

Buna göre bir ülkede vergi gelirlerinin artması;

- I. eğitim ve sağlık hizmetleri,
- II. devlet yatırımları,
- III. ekonomik kalkınma

alanlarından hangilerini olumlu yönden etkilemektedir?

- A) I, II ve III
- B) Yalnız I
- C) II ve III
- D) I ve II

3. Vergi, devletin milletine ve ülkesine karşı yerine getirmekle yükümlü olduğu görevlerini yapabilmesi için gereken giderlere bireyin katılma payıdır.

Vergi ile ilgili aşağıda verilen bilgilerden hangisi yanlıştır?

- A) Vergi vermek vatandaşlık borcudur.
- B) Herkes mali gücüne göre vergi ödemekle yükümlüdür.
- C) Vergi miktarı kişilerin isteğine göre belirlenir.
- D) Vergiler yasalarla belirlenir, değiştirilir veya kaldırılabilir.

4. Vatandaşların devlete karşı yerine getirmesi gereken sorumlulukları olduğu gibi devletin de vatandaşa karşı bazı sorumlulukları vardır. Devletin halkın sağlığını, güvenliğini ve adaletini sağlaması gibi görevleri vardır. Devletin bu görevleri yerine getirmek için yaptığı harcamaların önemli bir kaynağı ise halktan aldığı vergilerdir.

Aşağıdakilerden hangisi devletin topladığı vergilerle yaptığı hizmetlerden biri değildir?

- A) Barajların yapılması
- B) Yolların yapılması
- C) Özel hastanelerin yapılması
- D) Limanların yapılması

5. **Ahmet Öğretmen:** “Doğu Anadolu Bölgesi’nde yaşayan bir kişi hangi alanda proje hazırlarsa daha kazançlı çıkar?”

Ahmet Öğretmen’in sorduğu soruya verilecek olan doğru cevap aşağıdakilerden hangisidir?

- A) Meyve suyu sanayi
- B) Balık sanayi
- C) Süt sanayi
- D) Yağ sanayi

6. İş adamı olan Yavuz Bey yatırım amacıyla bir fabrika açmaya karar vermiştir. Ancak fabrikayı ne üzerine ve nerede kuracağı konusunda kararsız olduğu için arkadaşı Selim Bey’den yardım istemiştir. Selim Bey, Yavuz Bey’e Bursa’da zeytinyağı fabrikası kurabileceği önerisinde bulunmuştur.

Selim Bey’in Yavuz Bey’e zeytinyağı fabrikası kurması için Bursa’yı önermesinin temel nedeni aşağıdakilerden hangisidir?

- A) Ulaşım imkânlarının gelişmesi
- B) Çalışacak nüfusun fazla olması
- C) Pazarlama imkânlarının gelişmiş olması
- D) Ham madde yönünden zengin olması



7. I. Tüketilmek üzere üretilen mal ve hizmetlerin satışından alınan vergidir.
 II. Vergi yükümlülerinin bir vergi döneminde sağladığı kazançlarını bildirdikleri belgedir.
 III. Vergi verecek kişileri tespit edip, denetleyen resmi kurumdur.
 IV. İnsanların sahip olduğu taşınmaz mallardan alınan vergidir.
- a) Emlak vergisi
 b) Katma değer vergisi
 c) Vergi beyannamesi
 d) Vergi dairesi

Yukarıdaki açıklamaların kavramlar ile eşleştirilmesi aşağıdakilerden hangisinde doğru verilmiştir?

	I	II	III	IV
A)	b	c	d	a
B)	c	a	b	d
C)	a	b	c	d
D)	b	a	d	c

8. Devletin vatandaşlara karşı savunma, asayiş, eğitim, sağlık, ulaşım vb. gibi görevleri vardır. Bu işleri vatandaş tek başına yapamayacağı için devlet yapar.

Buna göre devlet bu görevleri yerine getirirken vatandaşlardan da yapmasını istediği davranış aşağıdakilerden hangisidir?

- A) Askerlik yapması
 B) Seçimlerde oy kullanması
 C) Vergi vermesi
 D) Okula gitmesi
9. **Katma değer vergisi aşağıdakilerden hangisini ifade eder?**
- A) Ülkede yaşanan enflasyon miktarını
 B) Satıcının üründen kazandığı net ücreti
 C) Ürünün kaç paraya satıldığını
 D) O üründen devlete verilen vergi miktarını

10. Sanayi ve ticaret ile ilgili faaliyetlerde bulunan yatırımcılar, yatırımlarını yer şekilleri, iklim, nüfus ve yerleşme gibi faktörlerin uygun olduğu yerlere yaparlar. Yatırımcılar açısından en önemli faktörlerden biri de ulaşım.

Yatırımcıların sanayi yatırımı yapacakları yerlerde aradıkları nitelikler arasında aşağıdakilerden hangisi yoktur?

- A) Kara, deniz, demir ve hava yollarından birine yakın olması
 B) Askeri açıdan güçlü bir yönetim anlayışının olması
 C) İş gücü olanaklarının olması
 D) Pazarlama açısından nüfusun yeterli olması

11. Genç bir girişimci olan Ahmet Bey Karadeniz Bölgesi'nde pamuk ekimi yapmıştır. Ancak belli bir süre sonra Ahmet Bey'in pamukları çürümüştür.

Ahmet Bey'in iş girişiminde başarısız olmasının nedeni aşağıdakilerden hangisidir?

- A) Pamuk yetiştirmek için doğru bölgeyi seçmemesi
 B) Sermayesini uygun kullanmaması
 C) Pamuk işçilerine yüksek ücret vermesi
 D) Pazarlama olanaklarını iyi kullanmaması

12. **Projenin Adı:** Otlu peynir denediniz mi?

Projenin Amacı: Yöremize ait otlu peyniri ülkemize ve tüm dünyaya tanıtmak

Uygulama Yeri: ?

Yukarıda bir projeye ait bazı bilgiler verilmiştir.

Bu bilgilere göre proje aşağıda verilen hangi şehirde gerçekleştirilebilir?

- A) Edirne
 B) Isparta
 C) Van
 D) Muğla



1. Bir ürünün bir malın, bir hizmetin satışını gerçekleştirmek amacıyla; tanıtmayı, paketlemeyi, satış elemanlarının yetiştirilmesini içeren etkinliklerin bütünüdür.

Yukarıda yatırım yapılırken dikkat edilmesi gereken faktörlerden hangisinden bahsedilmiştir?

- A) İş gücü
B) Enerji
C) Ham madde
D) Pazarlama

2. Seracılık; sıcaklık değerlerini yüksek tutmak amacıyla üstü kapalı alanlarda ürün yetiştirmektir.

Seralarda bitki yetiştirmek isteyen bir kişi aşağıdaki bölgelerin hangisinde üretim yaparsa daha kârlı çıkar?

- A) Akdeniz Bölgesi
B) İç Anadolu Bölgesi
C) Güneydoğu Anadolu Bölgesi
D) Doğu Anadolu Bölgesi

3. Vatandaşlardan toplanan vergiler; doğrudan alınan vergiler ve dolaylı yoldan alınan vergiler olmak üzere iki çeşittir.

Aşağıda verilenlerden hangisi dolaylı yoldan alınan vergilere örnek olabilir?

- A) Katma Değer Vergisi
B) Emlak Vergisi
C) Kurumlar Vergisi
D) Gelir Vergisi

4.

- I. Okul yapılması
II. Eve eşya alınması
III. Suyun ve elektriğin evlere ulaşmasını sağlaması
IV. Yol yapılması

Yukarıdakilerden hangilerinin gerçekleşmesinde ödenen vergilerin bir etkisi yoktur?

- A) I ve II
B) Yalnız II
C) II ve III
D) Yalnız IV

5. Aşağıdakilerden hangisi Erzurum'da yapılabilecek bir yatırım türü değildir?

- A) Şeker Sanayisi
B) Petrol rafinerisi
C) Et kombinası
D) Yem sanayisi

6. Ege Bölgesi'nde yatırım yapmak isteyen bir yatırımcının hangi ürün ile ilgili fabrika kurması beklenmez?

- A) Tütün
B) Haşhaş
C) Kayısı
D) Üzüm

7. Yaşadığı yerin coğrafya özelliklerini dikkate alarak yatırım yapmayı planlayan Semra Hanım Rizelidir.

Semra Hanım yatırım yapacağı projede ham maddeyi göz önüne aldığına göre aşağıdaki sektörlerden hangisini seçmiştir?

- A) Konserve
B) Tekstil
C) Kerestecilik
D) Seracılık



8. Devlet tarafından kişi veya kurumlardan doğrudan doğruya ya da dolaylı yoldan toplanan paraya vergi denir.

Aşağıdakilerden hangisi vergiler yoluyla devletin yaptığı hizmetler arasında gösterilemez?

- A) Savunma harcamalarını karşılamak
B) Tünel yapmak
C) Okulların teknolojik gereksinimlerini karşılamak
D) Bireylerin konut edinmesini sağlamak
9. Devletin vatandaşlara eğitim, sağlık ve ulaşım gibi hizmetleri bulunmaktadır. Ayrıca devletin bu hizmetleri gerçekleştirme için ekonomik kaynağa da ihtiyacı vardır. Bunlardan en önemlisi ise vatandaşların ödediği

Boş bırakılan yere aşağıdakilerden hangisi gelmelidir?

- A) kredi kartı borçlarıdır.
B) gümrük vergisidir.
C) faizlerdir.
D) vergilerdir.

10.

Projenin Adı ➤ Zeytinyağı Kullanılım

Projenin Amacı ➤ Zeytinyağını modern yöntemlerle üreterek toplumun hizmetine sunmak

Fabrikanın yapılacağı yer ➤ ?

Türkiye'nin coğrafi özellikleri düşünüldüğünde proje tablosunda “?” ile gösterilen yere hangi ilin yazılması uygun olur?

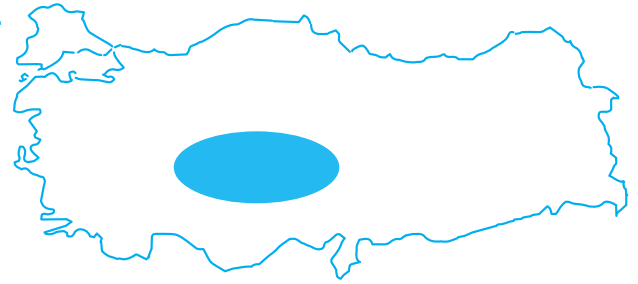
- A) Aydın
B) Van
C) Erzurum
D) Muş

11. Sinan Bey Konya'da un fabrikası açmak istiyor.

Sinan Bey'in un fabrikası kurmak için Konya'yı seçmesinin temel nedeni nedir?

- A) Ulaşımın gelişmiş olması
B) Nitelikli insan gücünün varlığı
C) Pazarlama imkânının gelişmiş olması
D) Ham madde yönünden zengin olması

12.



Türkiye haritasında koyu renk ile boyanmış olan yerde yaşayan Eda Hanım bir girişimcidir.

Bu bölgede tarım ürünlerine dayalı bir fabrika açmak istemektedir.

Haritada verilen taralı alanda açılacak en uygun fabrika aşağıdakilerden hangisidir?

- A) Çay fabrikası
B) Zeytinyağı fabrikası
C) Makarna fabrikası
D) Meyve suyu fabrikası

13. **Aşağıdakilerden hangisi devlete ödenen vergilerle devletin vatandaşlarına sunmak zorunda olduğu görevler arasında yer almaz?**

- A) Sağlık hizmetlerinin yerine getirilmesi için ihtiyaçların giderilmesi
B) Kişisel ihtiyaçların giderilmesi için kaynakların temin edilmesi
C) Güvenliğin sağlanması
D) Ulaşım için gerekli alt yapının oluşturulması



- 1 Vergi, devlet tarafından yapılan kamu hizmetlerinin maliyetini karşılamak ve devlete kaynak oluşturmak amacıyla vatandaştan alınan paradır. Vergilerin kimlerden hangi oranda alınacağı kanunlarla belirlenmiştir. Çünkü bir iş adamının, öğretmenin, doktorun ve işçinin kazandığı para farklı olduğu için bunların devlete ödemeleri gereken vergi miktarları da birbirinden farklılık göstermektedir.

Buna göre aşağıdaki yargılardan hangisi yanlıştır?

- A) Kişilerden alınacak olan vergi miktarları kanunlar çerçevesinde belirlenmiştir.
B) Halktan alınan vergiler toplum yararı için kullanılmaktadır.
C) Her vatandaş kanun önünde eşit olduğu için eşit miktarda vergi vermektedir.
D) Vergi vermek devlet hizmetleri için önem arz etmektedir.

2

VERGİLERİMİZ

50.000 Okul	62.300 km yol
300 Hastane	67 Havaalanı
200 Üniversite	3.000.000 Kamu Görevlisi



6. sınıfların sosyal bilgiler dersine giren Ayhan Öğretmen bu hafta öğrencilerine “Vergimi Ödüyorum” konusunu anlatmış ve tahtadaki bilgileri yazmıştır.

Tahtadaki bilgilerden yola çıkarak aşağıdakilerden hangisi söylenemez?

- A) Halkın toplumsal ihtiyaçlarının karşılandığı
B) Halktan zor kullanılarak maddi kaynak sağlandığı
C) Ulaşımaya yatırım yapıldığı
D) Kamu giderleri için kaynak ayrıldığı



- 3 Fatih Bey, bankadan büyük miktarda kredi alarak köyüne sabun fabrikası açmak ister. Fakat işler umduğu gibi gitmez. Köyünün yol koşullarının olumsuz olmasından dolayı üretilen mallar tüketiciye zamanında ulaşmamakta ve fazla maliyet gerektirmektedir. Bu durum Fatih Bey'in işlerini çok kötü etkilemektedir.

Buna göre yatırım yapmadan önce dikkat edilmesi gereken unsurlardan hangisi vurgulanmaktadır?

- A) Ham madde
B) Sermaye
C) İş gücü
D) Ulaşım

- 4 Tabloda bir yatırım projesine ait bilgiler verilmiştir.

PROJE	
Coğrafi Özellikler	Dağlık ve engebeli sıcaklık değerleri düşük yüksek boylu çayırırlardır.
Yatırım Önerisi	Et ve süt ürünleri işletmesi
Pazarlama Önerileri	Reklam ve ürün tanıtımına ağırlık verilmesi

Tabloda verilen bilgilerden hareketle bu projenin yapılacağı alan aşağıdakilerden hangisidir?

- A) Erzurum ve çevresi
B) Bursa ve çevresi
C) İzmir ve çevresi
D) İstanbul ve çevresi

- 5 Motorlu Taşıtlar Vergisi araç sahiplerinin yılda iki kez ödemek zorunda oldukları bir vergi türüdür. Motorlu Taşıtlar vergisi ocak ve temmuz aylarında bulunulan ilin vergi dairesi ve anlaşmalı bankaları tarafından tahsil edilmektedir. Bu vergi türünden tüm araç sahipleri yükümlüdür. Ancak bazı araçlar bu vergi türüne dahil değildir.

Buna göre motorlu taşıtlar vergisi ile ilgili olarak aşağıdakilerden hangisine ulaşılabılır?

- A) Herkesten eşit oranda alınmaktadır.
B) Pahalı araç sahiplerinin ödemek zorunda oldukları bir vergi türüdür.
C) Motorlu Taşıtlar Vergisini ödemeyenler cezalandırılmaktadır.
D) Tüm araçlar Motorlu Taşıtlar Vergisi'ne dahil değildir.

6



1. Devlet vergi sayesinde hastane yapar.



2. Devlet, vergi sayesinde okul yapar.



3. Devlet aldığı vergilerle ülkemizi iç ve dış tehlikelere karşı korumak için savunma harcaması yapar.



4. Devlet aldığı vergilerle yeni yollar, köprüler ve tüneller inşa eder.

Yukarıdaki görseller ve verilen bilgiler aşağıdaki alanlardan hangileri ile ilgilidir?

	I	II	III	III
A)	Sağlık	Eğitim	Güvenlik	Ulaşım
B)	Eğitim	Güvenlik	Ulaşım	Sağlık
C)	Sağlık	Güvenlik	Ulaşım	Eğitim
D)	Güvenlik	Eğitim	Ulaşım	Sağlık



1. Ülkemizde, son yıllarda nitelikli insan gücü oluşturma çerçevesinde çok sayıda kurum ve meslek edindirme kursları açılmıştır.

Yukarıda bahsedilen bu gelişme;

- I. Nitelikli insan sayısını arttırmak,
- II. Türkiye ekonomisinin gelişmesini sağlamak,
- III. Türkiye'nin kalkınmasını hızlandırmak

amaçlarından hangilerini gerçekleştirilmeye yöneliktir?

- A) I ve II
- B) I ve III
- C) Yalnız III
- D) I, II ve III

2.

- I. Meslek belli bir eğitim ile kazanılan sistemli bilgi ve becerilere dayanır.
- II. Seçilen meslek zamanın şartlarına uygun olmalıdır.
- III. Meslek seçerken öncelikle ailenin beklentileri dikkate alınmalıdır.
- IV. Meslek sahibi insanlar vergi vermezler.

Yukarıdaki ifadelerden hangileri yanlıştır?

- A) I ve II
- B) Yalnız II
- C) III ve IV
- D) Yalnız IV

3. Lise son sınıfta okuyan Necati'nin meslek seçimi ile ilgili kafası çok karışıktır.

Necati'nin doğru mesleği seçebilmesi için öncelikle kendisine aşağıdaki sorulardan hangisini sorması doğru olmaz?

- A) Yeteneklerime uygun mu?
- B) Ben neleri yapmaktan hoşlanırım?
- C) Mesleğin çalışma şartları nasıldır?
- D) En çok hangisinde para kazanırım?

4. Nitelikli insanlar vasıfsız, hiçbir özelliği olmayan insanlar gibi değildir.

Aşağıdakilerden hangisi nitelikli insanların özelliklerinden biri değildir?

- A) Hayal gücü yüksek olma
- B) Malzemeyi, zamanı ve enerjiyi israf etme
- C) Sorumluluklarının farkında olma
- D) Yeniliklere açık olma

5. Meslek seçiminde dikkat edilmesi gereken hususlardan biri de yeteneklerimiz ve fiziksel özelliklerimizdir.

Buna göre bir basketbolcunun aşağıdaki yetenek ve becerilerden hangisine sahip olması gerekir?

- A) Fiziksel olarak el-kol-kas becerileri yeterli olmalıdır.
- B) İnsanlarla iyi iletişim kurabilmelidir.
- C) Sözel yeteneğe sahip olmalıdır.
- D) İyi bir okuyucu olmalıdır.

6. Nitelikli insanların çok olduğu bir ülke gelişmiş ülkeler arasında yer almaktadır.

Aşağıdaki ülkelerin hangisinde nitelikli insanların daha az olması beklenir?

- A) Japonya
- B) Kenya
- C) İngiltere
- D) Fransa



7.

1. Çok yönlü düşünürler.
2.
3. İşini en iyi ve başarılı şekilde yaparlar.
4. Girişimci bir ruha sahiptirler.
5.

Yukarıda nitelikli insanların bazı özellikleri verilmiştir. Boş bırakılan yerlere de nitelikli insanların özellikleri yazılacaktır.

Buna göre aşağıdakilerden hangisi boşluklara getirilebilir?

- A) (2) Aktif bir şekilde çalıştıkları için vergi yükümlülükleri yoktur.
 - (5) Toplum içerisindeki diğer insanların düşüncelerini önemsemezler.
- B) (2) Ülkedeki işsizlik oranının artmasına neden olurlar.
 - (5) Devlet ile arasında herhangi bir bağ olmadığı için tek başlarına hareket ederler.
- C) (2) Karşılaştıkları zorluklar karşısında kolay kolay yılmazlar.
 - (5) Meslekleriyle ilgili farklı eğitimlere, toplantılara ulusal ya da uluslararası fuarlara katılarak bilgilerini ve tecrübelerini daima artırırlar.
- D) (2) Mücadeleci bir ruha sahip değildirler.
 - (5) İnsanlar arasında ayrımcılık yaparlar.

8. Nitelikli insan; iyi eğitim almış, kendini yetiştirmiş, alanında uzman, zihin gücüne dayalı olan işlerde çalışan kişilere denir. Nitelikli insan işini isteyerek ve en iyi şekilde yapar.

Aşağıdakilerden hangisi nitelikli insanın özelliklerinden biri değildir?

- A) İyi bir gözlemci olmak
- B) Risk almaktan kaçınmak
- C) Üretken olmak
- D) Kaynakları doğru ve verimli kullanmak

9.



Ben Elif, hayvanları çok seviyorum. Onların yaşadığı yerleri, neler yiyip içtiklerini çok merak ediyorum ve sürekli araştırıyorum.

Elif aşağıdaki mesleklerden hangisini seçmelidir?

- A) Polis
- B) Veteriner
- C) Sosyolog
- D) Kasap

10.

- ◆ Polis
- ◆ Hemşire
- ◆ Avukat
- ◆ Öğretmen

Verilen meslekler aşağıdaki ekonomik faaliyet türlerinden hangisinde yer alır?

- A) Hizmet
- B) Sanayi
- C) Turizm
- D) Tarım

11. Her meslekte alınması gereken akademik eğitim farklıdır. Sadece doğru yerde eğitim almak seçilen her mesleğin yapılabileceği anlamına gelmez. Kişilerin de o mesleğin gerektirdiği becerilere sahip olması gerekir. Örneğin; kan görmeye dayanamayan birinin doktor olması, el becerisi iyi olmayan birinin mühendis olması doğru değildir. Beceriler ile mesleki gereklilikler birbirleriyle uyumlu olmalıdır.

Buna göre meslek seçiminde aşağıdakilerden hangisine öncelik verilmelidir?

- A) Mesleğin kazancına
- B) Yeteneklere uygun olup olmadığına
- C) Toplumdaki saygınlığına
- D) Çalışma saatlerine



1. Aşağıdakilerden hangisi nitelikli bir insanın sahip olduğu özelliklerden biri değildir?

- A) Sadece kendini düşünür.
- B) İşini severek yapar.
- C) Alanında uzmandır.
- D) Ülkesinin gelişmesine katkı sağlar.

2. Mustafa Kemal Atatürk "Cahillik yok edilmedikçe yerimizdeyiz. Yerinde duran bir şey ise geriye gidiyor demektir. Bir taraftan genel olan cahilliği yok etmeye çalışmakla beraber, diğer taraftan toplumsal yaşamda bizzat faal ve faydalı, verimli elemanlar yetiştirmek lazımdır..." demiştir.

Mustafa Kemal Atatürk "faal ve faydalı" ifadesi ile nitelikli insan gücünün hangi özelliğine vurgu yapılmıştır?

- A) Çalışkan ve yararlı
- B) Çok yönlü ve bağımsız
- C) Hayal gücü yüksek
- D) İyi iletişim kurabilen

3.

- ◆ Millî Mücadele Dönemi'nde İstanbul'da ticaretle uğraşırken Anadolu ve Rumeli Müdafaa-i Hukuk Cemiyetinin Maçka Şubesini yönetti.
- ◆ Kardeşiyle birlikte çalışarak Samsun-Erzurum, Sivas-Erzurum ve Afyon-Dinar hattının 1012 km'lik demir yolunu bir yıl gibi kısa bir sürede tamamladı.
- ◆ Karabük Demir Çelik, İzmit Selüloz, Sivas Çimento, Bursa Yünlü Sanayi Dokuma tesislerini ve Eceabat Havalimanı'nı inşa etti.

Yukarıda hakkında bilgi verilen girişimci aşağıdakilerden hangisidir?

- A) Vecihi Hürkuş
- B) Naim Süleymanoğlu
- C) Zihni Derin
- D) Nuri Demirağ

4. Yükseklik korkusu olmayan ve soğukkanlı olan bir kişi aşağıdaki mesleklerden hangisinde başarılı olur?

- A) Doktorluk
- B) Pilotluk
- C) Öğretmenlik
- D) Makinistlik

5.

- I. Nasıl bir hayat sürdürmek istiyorum?
- II. Seçeceğim meslek çevremın beklentilerine uygun mu?
- III. Seçeceğim meslek ilgi ve yeteneklerime uygun mu?
- IV. Seçeceğim mesleğin özellikleri nelerdir?

Yukarıdakilerden hangileri meslek seçerken kendimize sormamız gereken sorulardan biri değildir?

- A) I ve II
- B) Yalnız II
- C) III ve IV
- D) Yalnız IV

6. Aşağıdakilerden hangisi nitelikli insan gücünün fazla olduğu bir ülkede görülmez?

- A) Ülkede işsizlik oranı azalır.
- B) Yenilikler ve gelişmeler takip edilir.
- C) Ülkenin kalkınma hızı azalır.
- D) Fabrikalar daha kaliteli üretim yapar.



7.

- I. İlgil
- II. Yetenek
- III. Kişilik özellikleri

Meslek seçiminde yukarıdakilerden hangileri dikkate alınmalıdır?

- A) Yalnız I
- B) I ve II
- C) II ve III
- D) I, II ve III

8. Benim ismim Semra, Toplumun eğitim hedefleri doğrultusunda bireylere eğitim ve öğretim sunmakla görevliyim. Çocuklara bir şeyler öğretmeyi ve bilgi vermeyi çok seviyorum.

Buna Semra'nın aşağıdaki mesleklerden hangisini yapması daha uygundur?

- A) Psikolog
- B) Şoförlük
- C) Öğretmenlik
- D) Doktorluk

9. **Deniz:** Kolay iletişim kurabilen, insanların güvenliğini sağlayan biriyim.

Fatih: Adaletten ayrılmam. Kişinin haklarını korurum.

Elif: Hayvanları sever ve hayvanlarla vakit geçirmekten hoşlanan biriyim.

Yukarıdaki cümleleri kuran kişiler ile seçeneklerde verilen meslekler eşleştirildiğinde hangisi boşta kalır?

- A) Veteriner
- B) Polis
- C) Avukat
- D) Makinist

10. **Aşağıdakilerden hangisi yeniliklere açık nitelikli insan gücüne örnek oluşturmaz?**

- A) Daha fazla enerji kullanarak tarımsal üretim yapabilen makineler tasarlayan mühendis
- B) Hastalıkların tedavisinde yeni yöntemleri kullanan doktor
- C) Yenilenebilir enerji kaynakları kullanıp motor üreten mühendis
- D) Eğitimde farklı teknikler kullanarak başarılı olan öğretmen

11. **Derya:** Fen ve matematik gibi sayısal derslerde oldukça başarılıyım. Mantık yürütme ve analitik düşünmede de oldukça iyiyim. Bilgisayar kullanmayı da çok seviyorum.

Buna göre Derya aşağıdaki mesleklerden hangisini seçerse başarılı olur?

- A) Türkçe Öğretmeni
- B) Yazılım mühendisi
- C) Polis
- D) Heykeltıraş

12.

- I. Kararlı ve ısrarcıdır.
- II. Yeni iş olanaklarıyla işsizlik sorununa çözüm olur.
- III. Bağımsız düşünmez.
- IV. Kaynaklara ulaşabilecek ilişki ağına sahip değildir.

Yukarıdakilerden hangileri nitelikli insanların özelliklerinden biri değildir?

- A) Yalnız I
- B) I ve II
- C) Yalnız III
- D) III ve IV



1 Ülkelerin en önemli gücü insan kaynağıdır. Yaptığı işin hakkını veren verimli insanlara nitelikli insanlar denilmektedir. İnsan kaynağını daha etkili bir güce dönüştürebilmenin yolu eğitimden geçer. Ülkeler sahip oldukları insan gücünü eğitim aracılığıyla nitelikli insan gücüne dönüştürdükleri ölçüde güçlü olurlar. Nitelikli insanlar alanında iyi eğitim almış kişilerdir. Bu insanlar sadece yaptıkları işin okulunda eğitim almakla yetinmezler, bilgilerini ve tekniklerini devamlı olarak güncellerler. Devamlı bir araştırma ve kendini geliştirme telaşı içerisindeyler. Meslekleriyle ilgili farklı eğitimlere, toplantılara, ulusal ya da uluslararası fuarlara katılarak bilgilerini ve tecrübelerini daima arttırmaları.

Buna göre nitelikli insanlar ile ilgili;

- I. Diğer insanlardan farklı bir özellik göstermezler.
- II. Kendilerini sürekli olarak geliştirirler.
- III. Eğitim aldıkları okulları dereceyle bitirirler.

yargılarından hangileri söylenebilir?

- A) I, II ve III B) Yalnız II
C) Yalnız III D) I ve III

2 Bireylerin hayatlarını iyi bir şekilde devam ettirebilmeleri için ekonomik gelir elde ettiği sürekli işe meslek denir. Farklı meslek gruplarında farklı eğitimler almak gerekmektedir. Örneğin, öğretmen olmak isteyen birinin üniversitelerin eğitim fakültelerinde, doktor olmak isteyen birinin üniversitelerin tıp fakültelerinde eğitim alması gerekmektedir. Doğru yerde eğitim almak seçilen her mesleğin yapılabileceği anlamına gelmediği için kişiler okuduğu mesleğin gerektirdiği becerilere de sahip olmalıdır.

Buna göre aşağıdakilerden hangisi meslek için gerekli olan becerilere sahip olduğuna örnek olarak gösterilebilir?

- A) Kan görmeye dayanamayan Ahmet'in doktor olması
B) Çocukları çok seven Zeynep'in öğretmen olması
C) El becerisi olmayan Azra'nın mühendis olması
D) Yemek yapmayı beceremeyen Aslı'nın aşçı olması

3 Nitelikli insanlar ülke ekonomisinin de temel unsurlarındandır. Yeni iş olanakları oluşturarak ülkedeki işsizlik sorununun çözülmesinde önemli rol oynarlar. Ayrıca ülke kaynaklarını daha verimli kullanırlar ya da kullanılmayan kaynakların kullanılmasını sağlarlar. Böylece daha az kullanılan kaynakları ekonomiye kazandırarak üretimde artış yaşanmasına olanak verirler. Yeni açılan ya da yeniden yapılandırılan üretim alanlarında yeni teknolojik ürünlerle toplumu tanıştırmaları.

Buna göre nitelikli insanlar ile ilgili;

- I. Ülke ekonomisinin gelişimini olumlu yönde etkilerler.
- II. Kaynakların ekonomiye kazandırılmasını sağlarlar.
- III. Toplum üzerinde olumlu etki yaparlar.

yargılarından hangilerine ulaşılabilir?

- A) Yalnız I B) I ve II
C) Yalnız III D) I, II ve III

4 Ekonomik faaliyetler üretim, dağıtım ve tüketim aşamalarından oluşur. İnsanlar, bir malın üretiminden pazarlanmasına kadar tüm aşamalarda önemli bir rol oynarlar. Ülkelerin gelişip kalkınmasında insanların niteliği önemlidir. Nitelikli insan gücüne her iş dalında önem verilmektedir. Eğitim aracılığıyla nitelikli insan gücüne sahip olan ülkeler güçlü olurlar.

Buna göre;

- I. Eğitim nitelikli insan gücünün oluşmasında etkilidir.
- II. Nitelikli insanlar ülke ekonomisinin gelişmesini sağlar.
- III. Nitelikli insanlar, işinin gerektirdiği bilgi ve beceriye sahiptir.
- IV. Nitelikli insanlar yeni projeler ve iş alanları üretemezler.

yargılarından hangilerine ulaşamaz?

- A) Yalnız I B) I ve II
C) Yalnız IV D) III ve IV



5



Merhaba, ben Emniyet Teşkilatı'nda polis olarak görev yapmaktayım. Zaten küçüklükten beri polis üniformaları çok dikkatimi çekti. Ancak polis olmak için vatanseverlik ve polisliği sevmek yeterli değildir. Bazı fiziksel özelliklere de sahip olmak gerekir. Polis memuru olmak için Polis Meslek Yüksek Okulundan ya da Polis Meslek Eğitim Merkezinden mezun olmak gerekmektedir.



Merhaba, ben Mühendislik Fakültesi Biyomedikal Mühendisliği Bölümü'nden mezun oldum. Beş yıldır biyomedikal mühendisliği yapmaktayım. İşimi çok seviyorum zaten ortaokuldan beri fen bilimlerine ilgim vardı. Liseyi de fen lisesinde okudum. Teknik işleri ve insanlara faydalı olmayı çok seviyorum. Çalıştığım firma ameliyat cihazlarının onarım ve bakımı üzerine çalışıyor. İşimin önemini çok iyi biliyorum ve insanlara faydalı olabilmek için işimi titizlikle yapıyorum.

Yukarıdaki konuşmalardan hareketle aşağıdakilerden hangisi söylenemez?

- A) Yapılacak meslekle ilgili eğitim alınmalıdır. B) Her mesleğin kendine ait şartları vardır.
C) Yapılacak mesleği sevmek önemlidir. D) Mesleğin maddi getirisi yüksek olmalıdır.

6



Aziz Sancar Nobel Kimya Ödülü'nü kazanan ilk bilim insanıdır. DNA onarımının mekanizmaları ile ilgili çalışmaları vardır. Yaptığı çalışmalar 2006 yılında TÜBA (Türkiye Bilimler Akademisi) üyeliğine seçilmesini sağlamıştır. Kendisini uzun yıllar boyunca bilime adanmıştır. 2015 yılında Nobel Kimya Ödülü'nü almıştır.

Buna göre Aziz Sancar ile ilgili;

- I. Yeni iş olanakları sağlayarak işsizliği azaltmıştır.
II. Tıp alanında çalışmalar yapmıştır.
III. Uluslararası alanda tanınan bir bilim insanıdır.
IV. Türkiye'de seçkin bilim adamları arasına katılmıştır.

yargılarından hangilerine ulaşamaz?

- A) Yalnız I B) II ve III C) Yalnız III D) III ve IV

Aşağıdaki sorulara verilen kavramlardan uygun olanı seçerek cevap veriniz.

Doğal kaynak, turizm, ticaret, üretim, fosil, KOP, dağıtım, narenciye, jeotermal enerji, fatura, kamu, tüketim, madencilik, ham madde, vergi, girişimci, hidroelektrik enerji, ZBK, nükleer enerji, nitelikli insan, sermaye, GAP, yenilenebilir enerji, yenilemeyen enerji, küçükbaş hayvancılık, enerji, seracılık, fosil enerji, termik santrali, büyükbaş hayvancılık, biyokütle enerjisi

1. Tarım ürünlerini, uygun koşulları oluşturarak mevsimi dışın-
da üretmeye ne denir?

Cevap:

2. Oluşumunda insanların etkisinin bulunmadığı, doğada var
olan tüm zenginliklere ne ad verilir?

Cevap:

3. Tarım ürünlerinin alınıp satılması faaliyetine ne ad verilir?

Cevap:

4. Doğal güzelliklerin bulunduğu yerlerde yapılan faaliyetlere
ne denir?

Cevap:

5. Çalışan ve maddi geliri olan vatandaşların gelirlerinin bir
kısmını devlete vermelerine ne denir?

Cevap:

6. Üretilen mal ve hizmetlerin, gereksinim ve isteklerini kar-
şılamaları amacıyla insanlar tarafından kullanılmasına ne
denir?

Cevap:

7. Kömür, bakır ve demir gibi yer altından çıkarılan kaynaklarla
ile ilgili ekonomik faaliyetlere ne denir?

Cevap:

8. Turuncgiller portakal, mandalina, limon, grefurt vb. meyve-
lere verilen ad hangisidir?

Cevap:

9. Uranyum ve toryum madenlerinin ham madde olarak kulla-
nılmasıyla elde edilen enerjiye ne denir?

Cevap:

10. Akarsuların üzerinde kurulan barajlar yoluyla üretilen elekt-
rik enerjisine ne denir?

Cevap:

11. Bir üretim sürecinde kullanılan doğal veya işlenmemiş mal-
zemelere ne denir?

Cevap:

12. Bir ticaret girişiminin gerçekleştirilmesi ve yürütülmesi için
gerekli olan para ve paraya çevrilebilecek malların tümüne
ne denir?

Cevap:

13. Kullanıldıkça tükenmeyen ve tekrar oluşması uzun yıllar al-
mayan enerji kaynaklarına ne denir?

Cevap:

14. Kullanıldıkça tükenen ve tekrar oluşması çok uzun yıllar
alan enerji kaynaklarına ne denir?

Cevap:

15. Fay hatlarının bulunduğu yerlerden çıkan sıcak su buharı ile
üretilen enerjiye ne denir?

Cevap:

16. Katı, sıvı ve gaz hâlindeki yakıtlarda var olan kimyasal ener-
jiyi ısı enerjisine, ısı enerjisini hareket (kinetik) enerjisine,
hareket enerjisini de elektrik enerjisine dönüştüren tesislere
ne denir?

Cevap:

17. Taş ya da kayaların içerisinde rastlanan taşlaşmış, canlı ya
da canlı parçalarına ne denir?

Cevap:

18. Kömür, petrol ve doğal gaz olan kaynaklara ne denir?

Cevap:

19. Belirli bir alanda uzmanlaşmış ve eğitim almış kişilere ne de-
nir?

Cevap:

20. Ticaret endüstri vb. alanlarda sermaye koyarak girişimde
bulunan kimseye ne denir?

Cevap:

21. Farklı ekonomik faaliyetlere yönelik yatırımların yapıldığı
Konya Ovası Projesi'nin kısa adı hangisidir?

Cevap:

22. Farklı ekonomik faaliyetlere yönelik yatırımların yapıldığı
Zonguldak, Bartın, Karabük Projesi'nin kısa adı hangisidir?

Cevap:

23. Halk hizmeti gören devlet organlarının tümüne ne denir?

Cevap:

24. Gür otlakların bulunduğu yerlerde yapılan hayvancılık türü
hangisidir?

Cevap:

25. Bozkır bitki örtüsünün yaygın olduğu yerlerde yapılan hay-
vancılık türü hangisidir?

Cevap:



1. Demokrasilerde hiç kimseye ayrıcalık tanınmaz. Herkes kanunlar önünde aynı hak ve ödevlere sahiptir. İnsanlar başkalarına zarar vermemek şartıyla diledikleri gibi yaşama hakkına sahiptir. Demokrasilerde yönetme hakkı halka aittir. Halk bu haklarını seçeceği temsilciler aracılığıyla kullanır.

Yukarıdaki paragrafta demokrasinin dayandığı temel ilkelerden;

- I. özgürlük,
II. eşitlik,
III. millî egemenlik

hangilerine değinilmiştir?

- A) I, II ve III B) Yalnız II
C) II ve III D) Yalnız III

2. İnsanların görüşleri birbirinden farklı olabilir. Demokratik toplumlarda farklı görüşlerin farklı siyasal partiler ile temsil edilmesidir.

Yukarıda hakkında bilgi verilen demokrasinin temel ilkesi aşağıdakilerden hangisidir?

- A) Çoğulculuk B) Eşitlik
C) Seçim D) Özgürlük

3. Yöneten ve yönetilenlerin kurallar dahilinde hareket etmelerini sağlar. Bu ilkenin uygulanması bağımsız ve tarafsız bir yargı ile mümkündür.

Yukarıda hakkında bilgi verilen demokrasinin temel ilkesi aşağıdakilerden hangisidir?

- A) Millî egemenlik
B) İnsan haklarına saygı
C) Hukukun üstünlüğü
D) Çoğulculuk

4.

- ◆ 5 yıllık süre için milletvekilleri seçilir.
- ◆ Yöneticiler Anayasa ve yasalara uygun davranırlar.
- ◆ Yöneticiler denetlenebilir.

Yukarıda hangi yönetim birimi ile ilgili bilgi verilmiştir?

- A) Monarşi B) Cumhuriyet
C) Oligarşi D) Teokrazi

5. Demokratik öğretim anlayışı ve toplum yapısı içerisinde yaşayan bir bireyin aşağıdaki davranışlardan hangisini yapması beklenir?

- A) Kanunlara uymaz.
B) Kendi çıkarlarını her şeyin üzerinde tutar.
C) Seçimlerde oy kullanır.
D) Vergisini düzenli bir şekilde ödemez.

6. Katılımcı demokrasinin tam anlamıyla yaşandığı toplumlarda aşağıdakilerden hangisi yaşanmaz?

- A) İnsanlar toplumsal sorunlara karşı ilgilidir.
B) Temel hak ve özgürlükler kullanılır.
C) Alınan kararlar toplum tarafından daha iyi benimsenir.
D) Kararların uygulanması için insanlar çaba göstermez.



7.

- I. Millî egemenlik
- II. Hürriyet ve eşitlik
- III. Monarşi
- IV. Hukukun üstünlüğü
- V. Teokrazi

Yukarıda verilenlerden hangileri demokrasinin temel ilkeleri arasında yer alır?

- A) I, II ve III B) I, II ve IV
C) I, IV ve V D) III, IV ve V

8. Demokrasilerde her vatandaş özgür doğar. Vatandaşların sahip olduğu haklar ve özgürlükler Anayasa'nın güvencesi altındadır. Yasalar herkese aynı biçimde uygulanır.

Yukarıdaki açıklamada demokrasinin hangi ilkesinden bahsedilmektedir?

- A) Siyasi partiler B) Millî egemenlik
C) Eşitlik D) Çoğulculuk

9.

- ◆ Millet'in ve onun tüzel kişiliği olan devletin yetkilerinin hepsi demektir.
- ◆ Bu ilkeye göre demokrasilerde egemenlik hakkı millete aittir. Millet, sahip olduğu bu hakkı doğrudan ya da seçtiği milletvekilleri aracılığı ile kullanır.

Yukarıda bazı özellikleri verilen demokrasinin dayandığı temel ilke aşağıdakilerden hangisidir?

- A) Siyasi partiler
B) Çoğulculuk
C) Millî egemenlik
D) Hukukun üstünlüğü

10.

- I. Demokratik yönetimlerde yurttaşların ülke yönetimine çeşitli yollarla katılmasıdır.
- II. Demokrasi ile yönetilen ülkelerde egemenliğin millete ait olmasıdır.
- III. Demokratik toplumlarda farklı görüşlerin yönetimdeki etkisinin kabul edilmesidir.

Yukarıda verilen demokrasinin temel ilkelerinden hangisinin açıklaması verilmemiştir?

- A) Katılımcılık B) Özgürlük
C) Çoğulculuk D) Millî egemenlik

11. Bir devletin temel yapısını, yönetim biçimini, devlet kurumlarının birbirleriyle ilişkisini, kişilerin temel hak ve hürriyetlerini düzenleyen yasalar Anayasa'lardır. Bu ilke gereği ülkede var olan kurumların tümü ve kişiler anayasa'ya uymak zorundadır.

Yukarıda açıklaması yapılan demokrasinin temel ilkesi aşağıdakilerden hangisidir?

- A) Hukukun üstünlüğü
B) Siyasi partiler
C) Çoğulculuk
D) Millî egemenlik

12. Demokrasi; yönetim şekli olmaktan ziyade bir yaşam biçimidir. Özgür bir seçim sistemi sonucunda seçilen temsilcilerden kurulan halk yönetimidir. Demokrasinin yaşatılabileceği en iyi yönetim şekli cumhuriyettir.

Buna göre;

- I. Siyasi partiler
- II. İnsan haklarına saygı
- III. Katılım
- IV. Seçimler ve temsil

yukarıda verilenlerden hangileri demokrasinin dayandığı temel ilkelere dendir?

- A) I, II, III ve IV B) I, II ve IV
C) Yalnız IV D) II ve IV



13. 1. Millî Egemenlik
2. Katılım
3. Hürriyet
4. Çoğulculuk
5. Eşitlik
- a. İnsanların anayasal ve yasal sınırlar içinde kalmak şartıyla başkalarını özgürlüğünü engellemeden istediklerini düşünebilmesi ve istediklerine inanabilmesidir.
- b. Halkın, yöneticilerini seçtikten sonra onların yönetimle ilgili kararlarını etkileyebilmesi ve gerektiğinde değiştirmesinde etkili olabilmesidir.
- c. Yönetme yetkisinin millete verilmesidir. Millet bu hakkını doğrudan değil de milletvekilleri aracılığıyla kullanır.
- d. Tüm vatandaşların kanunlar önünde aynı haklara sahip olmasıdır.
- e. Farklı görüşlere, anlayışlara ve inanışlara saygı gösterilmesidir. Farklı fikirlerin yönetime yansımalarıdır.

Yukarıdaki verilen demokrasinin temel ilkeleri ile hemen altındaki açıklamaların doğru eşleştirilmesi aşağıdakilerden hangisidir?

- A) 1 – a, 2 – e, 3 – c, 5 – b, 5 – d
B) 1 – c, 2 – a, 3 – e, 4 – d, 5 – b
C) 1 – b, 2 – c, 3 – d, 4 – e, 5 – a
D) 1 – c, 2 – b, 3 – a, 4 – e, 5 – d

14. Cumhuriyet halkın egemenliğine dayanan yönetim şeklidir.

Aşağıdakilerden hangisi cumhuriyet yönetimi ile bağdaşmaz?

- A) Seçilen yöneticiler halk adına ülkeyi yönetir.
B) Seçilen yöneticiler halk adına mecliste kanunları yapar.
C) Seçme ve seçilme hakkı bir gruba ve sınıfa ait değil, tüm millete aittir.
D) Yasama, yürütme ve yargı tek kişinin elindedir.

15. İnsanların toplu olarak yaşamaları belli kurallara göre işleyen devletlerin kurulmasını gerekli kılmıştır. Monarşi ile yönetilen devletlerde yönetime tek kişi hâkimdir. Oligarşi ile yönetilenlerde ise yönetime bir sınıf hâkimdir. Teokrasi ile yönetilen devletlerde ise din adamları etkilidir. XX. yüzyıla gelindiğinde ise tüm dünyada demokrasi anlayışı yerleşmeye başlamıştır. Halk kendi yöneticilerini seçmeye başlamıştır.

Açıklaması verilen yönetim biçimlerinden hangisinde millî egemenlik ilkesinin benimsendiği söylenebilir?

- A) Monarşi B) Oligarşi
C) Cumhuriyet D) Teokrasi

16. Eski Yunan Medeniyeti'nde şunlar görülmektedir:

- ◆ Site adı verilen şehir devletlerinde hâkimiyetin sahibi halktı.
- ◆ Halk bir meydana toplanarak kanunları yapardı.
- ◆ Hakimler ve bir kısım yöneticiler seçimle belirlenirdi.

Yukarıda verilen özellikler hangi yönetim biçiminin niteliklerini göstermektedir?

- A) Oligarşi B) Cumhuriyet
C) Teokrasi D) Monarşi

17. Aşağıdakilerden hangisi monarşi yönetim biçiminin özelliklerinden biri değildir?

- A) Siyasi, askeri ve ekonomik açıdan ülkenin ileri gelenleri yönetimde söz sahibidir.
B) Egemenlik yetkisi bir kişinin elindedir.
C) Yöneticiler kral, hükümdar veya padişah gibi unvanlar alırlar.
D) Yönetici yasa yapar, yargılar hatta savaşa bile karar verebilir.



1. Mehmet'in tatile gittiği ülkede bazı özellikler dikkatini çekmiştir. Bunların birkaçı şöyledir: Bu ülkede bir kişinin her yerde fotoğrafı asılmıştır. Halk kendilerini yönetecek kişiyi seçemiyor ve oy kullanma hakkını kullanamıyor-muş. Yönetim babadan oğula geçmekte imiş. Yöneticinin sözleri kanun hükmünde sayılmıştır.

Yukarıda verilen bilgilere göre Mehmet'in tatile gitmiş olduğu ülkedeki yönetim biçimi aşağıdakilerden hangidir?

- A) Cumhuriyet B) Teokrazi
C) Monarşi D) Oligarşi

2. **Eren:** Benim ülkemde yönetim belirli bir sınıfın ya da grubun elindedir.

Elif: Benim ülkemde yöneticiler belli bir süre ile halk tarafından seçilir.

Eren ve Elif'in yukarıda belirttiği özellikler aşağıdaki yönetim biçimlerinden hangilerine aittir?

	Eren	Elif
A)	Cumhuriyet	Oligarşi
B)	Monarşi	Cumhuriyet
C)	Teokrazi	Oligarşi
D)	Oligarşi	Cumhuriyet

3.

- I. Oligarşi
II. Cumhuriyet
III. Teokrazi
IV. Monarşi

Yukarıda verilen yönetim biçimlerinden hangilerinde kişi hak ve özgürlükleri vardır?

- A) I ve II B) Yalnız II
C) II ve III D) Yalnız IV

4. Demokraside egemenlik kayıtsız şartsız milletindir. Millet bu egemenlik hakkını milletvekilleri aracılığıyla kullanmaktadır. Ülkeyi yöneten kişiler ellerindeki gücü milletten alırlar. Demokraside hürriyet ve eşitlik kavramları esas alınır.

Yukarıdaki paragraf aşağıdaki yönetim şekillerinden hangisi ile ilişkilendirilebilir?

- A) Monarşi B) Teokrazi
C) Oligarşi D) Cumhuriyet

5.

- ◆ Dini kurallara göre yönetilen devlet anlayışıdır.
- ◆ Halk kendisini yönetecek kişileri belli aralıklarla yapılan seçimlerle belirler.
- ◆ Yasalar herkes için geçerli olup kanun önünde herkes eşittir.
- ◆ Ülke yönetiminin ayrıcalıklı olan bir grubun ya da bir zümrenin elinde olduğu yönetim şeklidir.

Yukarıda verilen özellikler ile aşağıdaki yönetim biçimleri eşleştirildiğinde hangisi dışta kalır?

- A) Cumhuriyet B) Oligarşi
C) Monarşi D) Teokrazi

6. Atatürk "Demokrasilerde bireylerin farklı görüşlere sahip olması doğaldır. Herhangi bir konu ile ilgili karar alınırken çoğunluğun görüşü belirleyici olur."

Atatürk'ün bu sözünden hareketle demokrasilerde seçim yapılmasının gereği aşağıdakilerden hangisidir?

- A) Halkın yönetime katılmasını sağlamak
B) Oy veren kişilerin cinsiyetlerini öğrenmek
C) Birlik ve beraberliği arttırmak
D) Ülkeyi yabancı güçlere karşı korumak



7.

1. Halk ülke yönetiminde söz sahibidir.
2. Yönetme yetkisi halkın elindedir.
3.
4.
5. Bir grubun değil tüm halkın kararı önemlidir.

Yukarıda Cumhuriyet yönetiminin özellikleri verilmiştir.

Buna göre boş bırakılan alanlara aşağıdakilerden hangisi yazılmalıdır?

- A) (3) Yönetici ömür boyu ülkeyi idare edebilir.
(4) Ülke dini kurallara göre yönetilir.
- B) (3) Devlet yönetiminde görev alan kişiler yaptıkları tüm işleri Tanrı adına yaparlar.
(4) Ülkede yönetme yetkisi tek kişinin elindedir.
- C) (3) Herkes Anayasa'ya ve yasalara uymak zorundadır.
(4) Halk yöneticilerinden memnun olmazsa seçimle bunları değiştirebilir.
- D) (3) Devletin memurları ve yöneticileri çalışmalarını yönetimi elinde bulunduran kişi adına yaparlar.
(4) Ülke yöneticileri siyasi, askeri ve ekonomik açıdan zengin olan kişiler arasından seçilir.

8.

- I. Hak, eşitlik ve özgürlük kavramları öne çıkar.
- II. Serbest seçimler yoluyla ülkeyi yönetecek kişiler belirlenir.
- III. Yönetimin başındaki kişi ölünceye kadar ülkeyi yönetir.
- IV. Vatandaşlar seçme ve seçilme hakkına sahiptir.

Yukarıdakilerden hangileri Cumhuriyet yönetiminin özelliklerinden biri değildir?

- A) Yalnız I
- B) I ve II
- C) Yalnız III
- D) III ve IV

9.

	Yöneten	Yönetim Biçimi
I	Kral	Monarşi
II	Padişah	Cumhuriyet
III	Din adamı	Teokrazi
IV	Cumhurbaşkanı	Oligarşi

Yukarıda verilen yöneten - yönetim biçimi eşleştirmelerinden hangileri doğrudur?

- A) I ve II
- B) II, III ve IV
- C) I ve III
- D) Yalnız III

10. Cumhuriyet yönetimi ile ilgili aşağıda verilen bilgilerden hangisi yanlıştır?

- A) Günümüzde en yaygın olan yönetim biçimidir.
- B) Egemenlik tek bir kişiye aittir.
- C) Ülkeyi yönetecek temsilciler belli bir süre için seçilir.
- D) İnsanlar özgür bir şekile yaşamlarını sürdürebilir.

11. Monarşi, egemenliğin tek kişide olduğu yönetim biçimidir. Monarşilerde yönetim babadan oğula geçer.

Monarşi yönetimlerle ilgili olarak aşağıdakilerden hangisi söylenemez?

- A) Halk iradesine önem verilir.
- B) Yönetici verdiği kararlar sebebiyle suçlanıp, yargılanamaz.
- C) Seçim dışı yöntemler kullanılır.
- D) Halk yönetime dahil değildir.



1. Bazı monarşik yönetimlerde mutlak idarecinin yanında meclis de bulur. Osmanlı Devleti'nde 1876 yılından itibaren yönetimde padişahın yanında halkın seçtiği milletvekilleri de yer almıştır.

Yukarıda bahsedilen yönetim biçimi aşağıdakilerden hangisidir?

- A) Cumhuriyet B) Meşrutî Monarşi
C) Teokrasi D) Oligarşi

2.

- ◆ Yöneticiler din adamlarıdır ve Tanrı adına ülkeyi yönettiklerini savunurlar.
- ◆ Aldıkları kararlar tartışılmaz ve eleştirilemez.
- ◆ Geçmişte Mezopotamya medeniyetlerinden Sümerlerde görülmüş bir yönetim şeklidir.

Yukarıda hakkında bilgi verilen yönetim biçimi aşağıdakilerden hangisidir?

- A) Cumhuriyet B) Oligarşi
C) Monarşi D) Teokrasi

3. Seçim sandığına oy atan biri aşağıdaki demokrasinin temel ilkelerinden hangisini doğrudan uygulamıştır?

- A) Eşitlik B) Katılımcılık
C) Hukukun üstünlüğü D) Özgürlük

4.



Tüm siyasi otoritelerin hâkimi ben dedim. Kimseye hesap vermeden ülkeyi yönetirim.

Yukarıdaki yönetim biçiminin en önemli özelliği aşağıdakilerden hangisidir?

- A) Din adamlarının hâkimiyeti vardır.
B) Tek kişinin hâkimiyeti söz konusudur.
C) İnsan haklarına saygılıdır.
D) Hak ve özgürlükler güvence altındadır.

5.

- I. Demokratik toplumda halkın çoğu seçim zamanında sandığa gider.
II. Demokratikleşme düzeyi ile seçimlere katılım oranı arasında bir bağ vardır.
III. Seçimlere katılım oranının yüksek olması demokrasinin gelişmediğini gösterir.
IV. Bilinçli hareket eden toplumlarda seçimlere katılım oranı düşük çıkar.

Yukarıda verilen bilgilerden hangileri yanlıştır?

- A) Yalnız I B) I ve II
C) Yalnız III D) III ve IV

6. Aşağıdakilerden hangisi demokrasi ile yönetilen bir ülkede görülebilecek durumlardan biri değildir?

- A) Güçler birliği ilkesinin kabul edilmesi
B) Farklı düşüncelerin yönetimde temsil edilmesi
C) Kişilerin istediği partiye oy verebilmesi
D) Problemlerin hukuk yoluyla çözülmesi



7. Monarşi, oligarşi, cumhuriyet ve teokrasi gibi farklı yönetim biçimleri bulunmaktadır.

Buna göre;

- | | |
|----------------|---------------|
| I. Pakistan | III. Vatikan |
| II. Yunanistan | IV. Hindistan |

yukarıda verilen ülkelerin hangisi teokrasi ile yönetilmektedir?

- A) I B) II C) III D) IV

8. Demokratik yönetimlerde halk; seçme ve seçilme, sivil toplum kuruluşları kurma vb. yollarla ülke yönetimine katılır. Yönetimin aldığı kararlarda etkili olur.

Buna göre;

- I. eşitlik, II. çoğulculuk, III. özgürlük

demokrasinin dayandığı temel ilkelerden hangilerinin bahsedilmektedir?

- A) I ve II B) Yalnız II
C) II ve III D) Yalnız III

9. Cumhuriyet egemenliğin kaynağının millete ait olduğu yönetim biçimidir. Devleti yönetecek kişiler seçimle iş başına gelirler. Bütün vatandaşlar kanun önünde eşittir. Kişi hak ve özgürlükleri Anayasa ve yasalar ile güvence altına alınmıştır. Cumhuriyet yönetimi ancak demokrasi ilkelerinin etkili olduğu ülkelerde uygulanabilir.

Buna göre cumhuriyet yönetimi ile ilgili aşağıdakilerden hangisi söylenebilir?

- A) Vatandaşlar arasında ayırım yapılmaz.
B) Yasalar ayrıcalıklı kişileri kapsar.
C) Seçilenler ömür boyu iktidarda kalır.
D) Yöneticiler belli bir zümrenin kararıyla seçilir.

10. Ülkeyi yönetme hakkı ayrıcalıklara sahip soylular, din adamları, toprak sahipleri vb. gruplara aittir. Yönetimde söz sahibi olan gruplar siyasi, askeri ve ekonomik açıdan ülkenin ileri gelen kişilerinden oluşur. Geçmişte Anadolu medeniyetlerinden biri olan İyonlarda görülmüş bir yönetim şeklidir.

Hakkında bilgi verilen yönetim biçimi aşağıdakilerden hangisidir?

- A) Monarşi B) Teokrasi
C) Cumhuriyet D) Oligarşi

11. Demokrasi ile yönetilen ülkelerde millet temsil edilme hakkını seçtiği milletvekilleri aracılığı ile kullanır. Yasalar herkese aynı şekilde uygulanır. Kişi başkalarına zarar vermeden ve kanunlara aykırı olmadan dilediğini düşürebilir ve yapabilir.

Yukarıdaki açıklamada demokrasinin temel ilkelerinden hangisine yer verilmemiştir?

- A) Milli egemenlik B) Eşitlik
C) Çoğulculuk D) Özgürlük

12.

- ◆ Yönetici olan kişi ömrü boyunca yönetimde kalabilir.
- ◆ Ülkeyi yöneten kişi öldükten sonra yerine genellikle aile üyelerinden biri geçer.
- ◆ Ülke ile ilgili kararlarda son söz yönetici devlet yönetiminde mutlak egemen kişidir.
- ◆ Yüzyıllar boyunca dünyada en yaygın yönetim biçimi olarak uygulanmışsa da günümüzde bu yönetim biçimi ile yönetilen ülke sayısı çok azdır.

Hakkında bilgi verilen yönetim biçimi aşağıdakilerden hangisidir?

- A) Cumhuriyet B) Oligarşi
C) Teokrasi D) Monarşi



1 “Bir rüyam var. Gün gelecek, eski kölelerin evlâtlarıyla eski köle sahiplerinin evlâtları, Georgia'nın kızıl tepelelerinde kardeşlik sofrasına birlikte oturacaklar.

Bir rüyam var. Gün gelecek, bu ulus ayağa kalkıp kendi inancını gerçek anlamıyla yaşayacak...

Bir rüyam var. Gün gelecek, Alabama eyaleti, küçük siyah oğlanlarla küçük siyah kızların, küçük beyaz oğlanlar ile küçük beyaz kızların el ele tutuşup kardeşçe birlikte yürüdüğü bir yere dönüşecek.”

Martin Luther King

Martin Luther King yukarıdaki konuşmasıyla demokrasinin dayandığı temel ilkelere hangisini vurgulamaktadır?

- A) Katılımcılık
- B) Hukukun üstünlüğü
- C) Eşitlik
- D) Çoğulculuk


2



Yukarıdaki karikatürde verilen yönetim şekli ile ilgili olarak aşağıdakilerden hangisi söylenemez?

- A) Bu yönetim biçimiyle idare edilen ülkelerde yönetme yetkisi halkta değil tek kişinin elindedir.
- B) Yönetici ömür boyu ülkeyi idare eder.
- C) Demokrasi ile ilişkilendirilebilecek bir yönetim biçimidir.
- D) Siyasi otorite miras yoluyla bir kişinin elinde toplanmıştır.

3



Yukarıda görseli verilen yönetim şekli ile ilgili aşağıdakilerden hangisi söylenemez?

- A) Halkın ülke yönetiminde söz sahibi olduğu yönetim biçimidir.
- B) Devlet başkanı ve milletvekilleri kanunla belirlenen, belli aralıklarla yapılan seçimle ve belli bir süreliğine iş başına gelir.
- C) Bir kişi ya da grubun değil, tüm halkın çıkarları önemlidir.
- D) Devlet yönetiminde görev alanlar yaptıkları tüm işleri tanrı adına yaparlar.

4

Monarşi denilen yönetim şekline göre egemenlik tek bir kişinin elindedir. Ülkeyi yönetme yetkisine sahip olan kişiye devletlerde; kral, kağan, han, imparator ve padişah gibi farklı unvanlar verilir. Yönetici yasama, yürütme ve yargı yetkilerini tek başına kullanırdı. Yöneticinin verdiği kararlara herkes uymak zorundaydı. Yönetici, verdiği kararlar sebebiyle suçlanıp yargılanamazdı. Ülkeyi yöneten kişi öldükten sonra yerine genellikle aile üyelerinden biri geçerdi. Halk yönetimde söz sahibi değildi.

Buna göre monarşi ile yönetilen bir ülkede aşağıdakilerden hangisi görülmez?

- A) Demokratik uygulamalar yoktur.
- B) Kralın belirlenmesinde halkın ileri gelenleri etkili olmaktadır.
- C) Hükümdarın mutlak hâkimiyeti söz konusudur.
- D) Ülke sadece hükümdar ve ailesi tarafından yönetilmektedir.



1. Derya, avukat olan babasının bürosuna ziyarete gitmiştir. Büroda hukukla ilgili kitapları görünce kitapların kalınlığına ve çokluğuna şaşmıştır. Kitapların içinde Anayasa yazan bir kitabı görmüş ve babasına; “Bu kitabın içinde yazan kanunları kim hazırlıyor?” diye sormuştur.

Parçada Derya'nın sorduğu sorunun doğru cevabı aşağıdakilerden hangisidir?

- A) Anayasa Mahkemesi
B) Cumhurbaşkanı
C) Türkiye Büyük Millet Meclisi
D) Bölge İdare Mahkemesi

2. 23 Nisan 1920 tarihinde BMM açılmıştır. Kurtuluş Savaşı devam ettiğinden I. BMM olağanüstü yetkileri olan bir meclis olarak bilinir. Yasama, yürütme ve yargı yetkilerinin üçünü de üstlenmiştir. Günümüzde ise bu yetkilerin hepsi BMM'de değildir.

Yetkilerin aynı yerde toplanmaması durumuna verilen isim hangisidir?

- A) Yetki aşımı
B) Yetki paylaşımı
C) Kuvvetler ayrılığı
D) Yönetim kuvveti

3. “Ben devlete bağlı bir kurumda memur olarak görev yapıyordum. Belli gerekçelerle işime son verildi. Haksızlığa uğradığımı belirterek ülkemdeki mahkemelere başvurdum. İstedğim sonucu alamadım fakat hakkımı aramaktan vazgeçmedim.”

Yukarıdaki açıklamayı yapan bir kişi hakkını aramaya devam edebilmek için aşağıdaki mahkemelerden hangisine başvurmalıdır?

- A) Bölge İdare Mahkemesine
B) Uyuşmazlık Mahkemesine
C) Anayasa Mahkemesine
D) Avrupa İnsan Hakları Mahkemesine

4.

- I. Para basılmasına karar vermek
II. Kanun koymak değiştirmek ve kaldırmak
III. Savaş ilanına karar vermek
IV. Üst kademe kamu yöneticilerini atamak

Yukarıda verilenlerden hangisi TBMM'nin görevleri arasında yer almaz?

- A) I
B) II
C) III
D) IV

5. Cumhurbaşkanı devletin başı olup yürütme yetkisi cumhurbaşkanına aittir. Cumhurbaşkanı devlet başkanı sıfatıyla Türkiye Cumhuriyeti'ni ve Türk milletinin birliğini temsil eder.

Aşağıdakilerden hangisi cumhurbaşkanının görev ve yetkilerinden biri değildir?

- A) Bütçe ve kesin hesap kanun tekliflerini görüşür ve kabul eder.
B) TBMM'yi gerektiğinde toplantıya çağırır.
C) Devleti yurt içinde ve yurt dışında temsil eder.
D) Millî Güvenlik Kuruluna başkanlık eder.

6.

Cumhurbaşkanı - İç tüzük -
Milletvekili

Yukarıdaki kutuda aşağıdaki sorulardan hangisinin cevabı yoktur?

- A) Yasama, yürütme ve yargının bir kişi veya kurumda toplanmasına ne ad verilir?
B) Devlet başkanı sıfatıyla Türkiye Cumhuriyeti'ni kim temsil eder?
C) Kanun tekliflerinin TBMM'de görüşülme usul ve esasları ne ile düzenlenir?
D) TBMM üyelerine ne denir?



7. Aşağıda verilen bilgilerden hangisi yanlıştır?

- A) Ülkemizde 40 yaşını geçmiş olan kişiler cumhurbaşkanı olabilir.
- B) Lise mezunu olan herkes cumhurbaşkanı olabilir.
- C) Cumhurbaşkanlığı hükümet sistemine göre cumhurbaşkanı hem hükümetin hem de devletin başıdır.
- D) Yürütme gücü kanunları uygulama gücüdür.

8. Sosyal Bilgiler Öğretmeni Zeynep Hanım öğrencilerine cumhurbaşkanının görevlerinin neler olduğunu sormuştur.

Öğrencilerden;

Ahmet: Türk Silahlı Kuvvetlerinin başkomutanlığını temsil etmek

Zerrin: Kanunları yayımlamak

Hümeyra: Uluslararası anlaşmaları onaylayıp yayınlamak

Hakan: Milletvekillerini seçmek

cevaplarını vermişlerdir.

Buna göre öğrencilerden hangisinin verdiği cevap doğru değildir?

- A) Hakan
- B) Ahmet
- C) Hümeyra
- D) Zerrin

9. Yargı yetkisi aşağıdakilerden hangisine aittir?

- A) Bağımsız ve tarafsız mahkemelere
- B) TBMM'ye
- C) Cumhurbaşkanına
- D) Cumhurbaşkanı yardımcısına

10. Geçmiş kahramanlıklarla dolu olan şanlı Türk ordusu vatanımızın korunmasında görev üstlenen gücü temsil eder. Türk milleti tarihten bugüne ordu – millet anlayışı ile her zaman düşmana karşı tek yumruk olmayı bilmiştir. Türk milleti için mesele vatansa gerisi teferruattır.

Ülkemizin başka bir ülke ile savaş yapmasına karar verme yetkisi aşağıdakilerden hangisine aittir?

- A) Türkiye Büyük Millet Meclisine
- B) Cumhurbaşkanına
- C) Bakanlar Kuruluna
- D) Genelkurmay Başkanına

11. Türkiye Cumhuriyeti Devleti demokratik bir yönetim yapısına sahiptir. Anayasa'ya göre millet egemenlik hakkını yine Anayasa'da belirlenen esaslara göre yasama, yürütme ve yargı organları eliyle kullanır. Türkiye Cumhuriyeti Devleti'nde yasama yetkisi Türkiye Büyük Millet Meclisi, yürütme yetkisi cumhurbaşkanı tarafından, yargı ise bağımsız ve tarafsız mahkemeler tarafından kullanılır.

Yukarıdaki açıklama dikkate alındığında Türkiye Cumhuriyeti Devleti'nin aşağıdakilerden hangisini uyguladığı söylenebilir?

- A) Kuvvetler ayrılığı
- B) Halk iradesi
- C) Monarşi
- D) Oligarşi

12. Anayasa'mıza göre devletin hukuki işlemlerinin tamamı, yargı denetimindedir. Anlaşmazlığın olduğu her yerde yargı vardır. Yargı organları kişiler arasında çıkan uyuşmazlıkları yasalara uygun olarak çözümler. Dava konusu ne olursa olsun, bir mahkeme Türk milleti adına yargı yetkisini kullanmak zorundadır. Mahkemelerin yargı yetkisi tamamen bağımsız ve tarafsızdır.

Yukarıdaki özellikler dikkate alındığında Türkiye'de aşağıdaki devlet anlayışlarından hangisinin uygulandığı söylenebilir?

- A) Sosyal devlet
- B) Hukuk devleti
- C) Monarşik devlet
- D) Kuvvetler birliği



1.

- I. Türkiye Cumhuriyeti'nin ilk anayasası olan 1921 Anayasası savaş döneminde çıkartıldığı için tüm güçler BMM'ye verilmiştir.
- II. Hâkimler, görevlerinde bağımsız değillerdir ve vicdani kanaatlerine göre hüküm veremezler.
- III. 1982 Anayasası'nın ilk üç maddesi değiştirilemez.
- IV. Demokratik devletlerde kuvvetler ayrılığı ilkesi uygulanır.

Yukarıdaki bilgilerden hangisi yanlıştır?

- A) I B) II C) III D) IV

2. Kanunlar cumhurbaşkanı tarafından yayımlanır.

Cumhurbaşkanı Türkiye Büyük Meclisine kabul edilen kanunlar, kaç gün içinde yayımlamalıdır?

- A) 25 B) 20 C) 15 D) 10

3.

- ◆ Bireylerin kendi aralarında veya devletle olan ilişkilerinde uyuşmazlıkları çözmeye işidir.
- ◆ Kararları denetlenebilir.
- ◆ Vatandaşlar, mahkeme kararlarına itiraz ederek üst mahkemeye başvurabilirler.

Yukarıda hakkında bilgi verilen devlet organı aşağıdakilerden hangisidir?

- A) Yasama B) Yürütme
C) Yargı D) TBMM

4.

- I. Türkiye'de 24 Haziran 2018'de yapılan seçimlerle Cumhurbaşkanlığı Hükümet Sistemi'ne geçilmiştir.
- II. Cumhurbaşkanlığı kabinesine cumhurbaşkanı tarafından TBMM üyeleri arasından ya da dışarıdan bakanlar seçilir.
- III. Yasama, yürütme ve yargı ülke yönetiminde önemli güç unsurlarındandır.
- IV. Cumhurbaşkanı değiştirilen kanunu tekrar Meclise geri gönderemez.

Yukarıda verilen bilgilerden hangileri yanlıştır?

- A) Yalnız I B) I ve II
C) II ve III D) Yalnız IV

5.

- ◆ Devlet organlarının düzenli ve uyumlu çalışmasını temin eder.
- ◆ Cumhurbaşkanı yardımcılarını ile bakanları atar ve görevlerine son verir.
- ◆ Millî güvenlik politikalarını belirler ve gerekli önlemleri alır.
- ◆ Ülkenin iç ve dış siyaseti hakkında meclise mesaj verir.

Yukarıda görevleri verilen yönetici aşağıdakilerden hangisidir?

- A) Cumhurbaşkanı B) TBMM Başkanı
C) Dışişleri Bakanı D) Adalet Bakanı

6.

- I. Yasama devletin kanun yapma, değiştirme ve yürürlükten kaldırma yetkisidir.
- II. Yürütme, hukuk ayrılıklarını belirleme, uyuşmazlıkları çözmeye ve yasalara uymayanları cezalandırmaktır.
- III. Yargı, devletin toplumun ihtiyaçlarının karşılanması için hizmet vermesidir.
- IV. Milletvekili seçilen kişiler Anayasa'da belirtilen yemin metnini okuyarak göreve başlarlar.

Yukarıda kaç numaralı cümlelerde bilgi yanlışlığı yapılmıştır?

- A) I ve II B) II ve III
C) III ve IV D) II, III ve IV



7.

1. Cumhurbaşkanı	a. Yargı
2. Bağımsız ve Tarafsız Mahkemeler	b. Yasama
3. Türkiye Büyük Millet Meclisi	c. Yürütme

Yukarıdaki yetkilerle yetki sahiplerinin doğru eşleştirilmesi hangi seçenekte doğru verilmiştir?

	1	2	3
A)	a	b	c
B)	b	c	a
C)	c	a	b
D)	b	a	c

8. Ülkemiz yasama, yürütme ve yargı organlarının ayrı ayrı temsil edildiği demokratik bir devlettir. Demokratik devletlerde kuvvetler ayrılığı ilkesi uygulanır. Yasama, kanun ya da yasa çıkarma gücüdür. Ülkemizde yasama gücü Türk milleti adına TBMM'ye verilmiştir.

Ülkemizde kanun teklif etmeye yetkili olan aşağıdakilerden hangisidir?

- A) Bakanlar B) Cumhurbaşkanı
C) Mahkemeler D) Milletvekili

9. **Aşağıda verilen bilgilerden hangisi yanlıştır?**

- A) Türkiye'nin ilk meclisi 23 Nisan 1920'de açılmıştır.
B) TBMM 550 milletvekilinden oluşur.
C) TBMM seçimleri 5 yılda bir yapılır.
D) 18 yaşını dolduran her Türkiye Cumhuriyeti vatandaşı milletvekili olabilir.

10. Bireylerin kendi aralarında veya devletle olan ilişkilerindeki uyuşmazlıkları çözme işine yargı denir. Yargı yetkisi Türk milleti adına bağımsız ve tarafsız mahkemeler tarafından kullanılır.

Buna göre;

- I. kanun çıkarmak,
II. devletle vatandaşlar arasındaki uyuşmazlıkları çözmek,
III. kişiler arasındaki anlaşmazlıkları gidermek

yargılardan hangileri bağımsız ve tarafsız mahkemelerin görev ve yetkilerinden değildir?

- A) Yalnız I B) I ve II
C) Yalnız III D) II ve III

11. **Türkiye Büyük Millet Meclisi tatilde iken ülkenin ani bir saldırıya uğraması hâlinde Türk Silahlı Kuvvetlerinin yetkisi aşağıdakilerden hangisine aittir?**

- A) Cumhurbaşkanı Yardımcısı
B) Cumhurbaşkanı
C) Dışişleri Bakanı
D) İçişleri Bakanı

12.

- I. Cumhurbaşkanı Yardımcısı
II. TBMM Başkanı
III. Anayasa Mahkemesi

Yukarıdakilerden hangileri cumhurbaşkanı yurt dışına çıktığında ona vekâlet eder?

- A) Yalnız I B) I ve II
C) Yalnız III D) I, II ve III



1 Cumhuriyet, 29 Ekim 1923'te ilan edilmiş ve ilk cumhurbaşkanı olarak Mustafa Kemal seçilmiştir. Bu tarihten itibaren cumhurbaşkanı Türkiye Büyük Millet Meclisi tarafından seçilmiştir. 10 Ağustos 2014 tarihinden itibaren ise cumhurbaşkanı seçiminde halk oylamasına gidilmiştir.

Bu paragrafta çıkarılabilecek en kapsamlı yargı aşağıdakilerden hangisidir?

- A) Cumhurbaşkanı devletin başıdır.
- B) Cumhurbaşkanı seçilmek için belli şartlara sahip olmak gerekmektedir.
- C) Cumhurbaşkanı seçiminde değişiklikler yaşanmıştır.
- D) Türkiye Cumhuriyeti Devleti'nin ilk cumhurbaşkanı Mustafa Kemal Atatürk'tür.

2 23 Nisan 1920 yılında Büyük Millet Meclisi Ankara'da toplandı. 20 Ocak 1921'de Teşkilât-ı Esasiye Kanunu adını taşıyan Anayasa yürürlüğe girdi. 1921 Anayasası ile millet egemenliğine dayanan yeni bir Türk devleti kurulmuş oldu. Modern Türkiye'nin temellerini atan Atatürk, millî egemenlik ilkesini devletin temel öğelerinden biri hâline getirdi. 29 Ekim 1923'te cumhuriyet ilan edildi. Böylece tek kişinin hâkimiyetine dayalı yönetim şekli sona erdi. Millî egemenlik, bir milletin kendini yönetecek kişileri kendisinin seçmesi yani yönetimde söz sahibi olması demektir.

Buna göre Türkiye'de halkın yönetimde söz sahibi olması yani millî egemenliğin gerçekleşmesinde aşağıdakilerden hangisinin rolü olduğu söylenemez?

- A) TBMM'nin açılması
- B) 1921 Anayasası
- C) Cumhuriyetin ilanı
- D) Siyasi partilerin kapatılması

3

Yasama yetkisi, TBMM'nin elindedir. Halkın ihtiyaçları doğrultusunda kanunlar çıkarır.

Yürütme yetkisi, Cumhurbaşkanına aittir. Cumhurbaşkanı, çıkarılan kanunlara uygun olarak ülkede yürütme görevini yerini getirir. Ülkenin Anayasa ve kanunlara göre yönetilmesini sağlar.

Yargı yetkisi bağımsız ve tarafsız mahkemelerindir. Devlet yönetiminde kanunlara aykırı hareket edilmesi durumunda bağımsız ve tarafsız mahkemeler olumsuz durumların ortaya çıkmasını önler.

Buna göre;

- I. ülkemizde kuvvetler ayrılığı ilkesinin olduğu,
- II. Cumhurbaşkanının Anayasa'ya bağlı olduğu,
- III. bağımsız ve tarafsız mahkemelerin yasaları değiştirebildiği

yargılarından hangilerine ulaşılabilir?

- A) Yalnız I
- B) I ve II
- C) Yalnız III
- D) II ve III

4

MADDE 138 - "Hâkimler, görevlerinde bağımsızdırlar. Anayasaya, kanuna ve hukuka uygun olarak vicdanî kanaatlerine göre hüküm verirler. Hiçbir organ, makam, merci veya kişi, yargı yetkisinin kullanılmasında mahkemelere ve hâkimlere emir ve talimat veremez; genelge gönderemez; tavsiye ve telkinde bulunamaz. Görülmekte olan bir dava hakkında Yasama Meclisinde yargı yetkisinin kullanılması ile ilgili soru sorulamaz, görüşme yapılamaz veya herhangi bir beyanda bulunulamaz. Yasama ve yürütme organları ile idare, mahkeme kararlarına uymak zorundadır; bu organlar ve idare, mahkeme kararlarını hiçbir suretle değiştiremez ve bunların yerine getirilmesini geciktiremez."

Verilen Anayasa maddesinden hareketle;

- I. mahkemelerin bağımsız olduğu,
- II. Hakimlerin Anayasa'ya aykırı hareket ettiği,
- III. Mahkemelerin bireylerin haklarını koruyamadığı

yargılarından hangileri söylenebilir?

- A) Yalnız I
- B) I ve II
- C) Yalnız II
- D) II ve III



5 Aşağıdaki tabloda Cumhurbaşkanı, TBMM, Bağımsız ve Tarafsız mahkemelerin bazı görevleri verilmiştir.

Cumhurbaşkanı	TBMM	Bağımsız ve Tarafsız Mahkemeler
◆ Milletlerarası antlaşmaları onaylar ve yayımlar.	a. Para basılmasına karar verir.	1. Genel ve özel af ilanına karar verir.
▲ Milletlerarası antlaşmaların onaylanmasını uygun bulur.	b. Savaş ilanına karar verir.	2. Bireylerin haklarını aramasını sağlar.
● Milli güvenlik politikalarını belirler.	c. Bütçe ve kesin hesap tekliflerini görüşür.	3. Kişiler ve kurumlar arasındaki sorunları çözer.

Tabloda verilen görevlerin bazıları ait olmadığı organ başlığı altında verilmiştir.

Buna göre aşağıda verilen görevlerden hangileri ait olmadığı organ başlığı altında verilmiştir?

A) ◆ – a

B) ▲ – 1

C) b – 3

D) ● – c

6

MADDE 88 - Kanun teklif etmeye milletvekilleri yetkilidir. Kanun tekliflerinin Türkiye Büyük Millet Meclisinde görüşülme usul ve esasları İçtüzükle düzenlenir.

MADDE 89 - Cumhurbaşkanı, Türkiye Büyük Millet Meclisince kabul edilen kanunları on beş gün içinde yayımlar. Yayımlanmasını kısmen veya tamamen uygun bulmadığı kanunları, bir daha görüşülmek üzere, bu hususta gösterdiği gerekçe ile birlikte aynı süre içinde, Türkiye Büyük Millet Meclisine geri gönderir. Cumhurbaşkanınca kısmen uygun bulunmama durumunda, Türkiye Büyük Millet Meclisi sadece uygun bulunmayan maddeleri görüşebilir. Bütçe kanunları bu hükme tâbi değildir. Türkiye Büyük Millet Meclisi, geri gönderilen kanunu üye tamsayısının salt çoğunluğuyla aynen kabul ederse, kanun Cumhurbaşkanınca yayımlanır; Meclis, geri gönderilen kanunda yeni bir değişiklik yaparsa, Cumhurbaşkanı değiştirilen kanunu tekrar Meclise geri gönderebilir.

MADDE 90 - Türkiye Cumhuriyeti adına yabancı devletlerle ve milletlerarası kuruluşlarla yapılacak andlaşmaların onaylanması, Türkiye Büyük Millet Meclisinin onaylamayı bir kanunla uygun bulmasına bağlıdır.

Buna göre verilen bilgilerden hareketle;

- I. milletvekillerinin kanunları Resmi Gazete'de yayınladığı,
- II. kanunların farklı aşamalardan geçerek yayınladığı,
- III. kanunların Anayasa'ya uygun olma zorunluluğunun olmadığı

yargılarından hangilerine ulaşılabilir?

A) I ve II

B) Yalnız II

C) II ve III

D) Yalnız III



1. Ülkemizde erozyonla mücadele etmek ve ağaçlandırma yapmak amacıyla kurulan sivil toplum kuruluşu aşağıdakilerden hangisidir?

- A) TEMA
B) ÇEKÜL
C) YEŞİLAY
D) TEC

2. Sivil toplum kuruluşu; toplumdaki çeşitli sorunları bağımsız olarak ele alıp kamuoyunu bilgilendirme ve aydınlatma görevi yapan, öneriler sunan her türlü birliktir. Bu kuruluşlar bazı sorunları çözebilmek için çeşitli yöntemler kullanır.

Aşağıdakilerden hangisi sivil toplum kuruluşlarının uyguladığı yöntemlerden biridir?

- A) Bazı resmi kurumları işgal etmek
B) İmza kampanyaları düzenlemek
C) Yol keserek trafiği durdurmak
D) İzinsiz şekilde gösteriler yapmak

3. Demokrasi bireyler için bir yaşam biçimidir. Birey, toplumsal hayatın her anında demokrasiye uygun hareket etmelidir.

Buna göre aşağıdakilerden hangisinin davranışı demokrasiye uygundur?

- A) Aslı'nın kantinde bir şey alırken sıraya girmemesi
B) Fatih'in düşüncelerinden dolayı arkadaşlarıyla alay etmesi
C) Can'ın arkadaşlarına sevdikleri eşyaları vererek kendini başkan seçtiği
D) Elif'in yetkili kuruma dilekçe yazarak sorununa çözüm araması

4. Kamuoyu, bir konuyla ilgili halkın genel düşüncesine denir. Kamuoyu oluşturmak ise bir düşünceyi yaygınlaştırmak ve halkın dikkatini o düşünce etrafında toplamak ve yoğunlaştırmak şeklinde özetlenebilir. İletişim araçları kamuoyunun oluşturulmasında önemli rol oynar.

Buna göre;

- I. Televizyon
II. Radyo
III. Gazete
IV. Telgraf

yukarıdaki iletişim araçlarından hangisinin kamuoyu oluşturulmasında etkili olduğu söylenemez?

- A) I
B) II
C) III
D) IV

5. Türk Silahlı Kuvvetleri içerisinde askeri üniforma giymiş bir grup tarafından 15 Temmuz 2016'da Türkiye Cumhuriyeti Devleti'ni, demokrasiyi ve millî iradeyi hedef alan haince bir darbe girişiminde bulunulmuştur.

15 Temmuz Darbe Girişimi ile ilgili;

- I. Darbe girişimi güvenlik kuvvetleri ve halkın kahramanca mücadelesi sonucunda engellenmiştir.
II. Fethi Sekin darbe girişiminin temsili hâline gelmiştir.
III. Darbe sonrasında Boğaziçi Köprüsü'nün adı "15 Temmuz Şehitler Köprüsü" olarak değiştirilmiştir.
IV. 15 Temmuz'da TRT işgal edilerek spikere darbe bildirisi okutulmuştur.

yukarıda verilen bilgilerden hangileri yanlıştır?

- A) Yalnız I
B) III ve IV
C) Yalnız II
D) II ve III

6.

- I. Sınıf kurallarının öğretmen tarafından belirlenmesi
II. Öğrencilerin öğretmenin sorduğu soruya söz alarak cevap vermeleri
III. Okul temsilcisinin okul müdürü tarafından belirlenmesi

Yukarıdakilerden okulda uygulanan demokratik uygulamalardan hangisi?

- A) Yalnız I
B) I ve II
C) Yalnız II
D) II ve III



7. 15 Temmuz Darbe Girişimi'nde büyük mücadeleler vererek şehit olan Ömer Halisdemir'in adının verildiği üniversite aşağıdakilerden hangisidir?

- A) Selçuk Üniversitesi
- B) Ankara Üniversitesi
- C) Niğde Üniversitesi
- D) İnönü Üniversitesi

8. Sivil toplum kuruluşları, devletin müdahalesi dışında kalmış ve bireylerin kendi kendine yönlendirebildikleri demokratik bir yapıdır. Burada gönüllülük esastır.

Aşağıdakilerden hangisi sivil toplum örgütlerinden biri değildir?

- A) Dernekler
- B) Sendikalar
- C) Vakıflar
- D) Belediyeler

9. Halkın bir konuda benimsediği ortak görüşe kamuoyu denir. Halk tarafından yöneticilerin yaptıkları uygulamalar ve verdikleri kararlar toplumda oluşan kamuoyu sonrasında değişebilmektedir.

Aşağıdakilerden hangisi yukarıda verilen bilgiye örnek oluşturmaz?

- A) Satışların düşmesi nedeniyle pazarların sebze fiyatlarında indirim gitmesi
- B) Köyden geçen araçların yoldaki hız limitinin halkın isteği üzerine 70'ten 50'ye düşürülmesi
- C) Hayvansaver halkın tepkileri ile belediyenin köpekleri zehirlemeyi bırakması
- D) Velilerin yoğun talepleri üzerine mahalledeki okulun kapatılmasından vazgeçilmesi

10. Kararlara katılan ve onlara kendinden bir şeyler katan kişiler, bu kararları daha iyi benimser ve uygulanması için daha çok çaba gösterir. Topluca alınan kararlar bir kişinin kararından daha fazla kabul görür. Kararlara katılan kişiler kararların gerekçelerini bildikleri için uygulamada daha bilinçli olurlar.

Buna göre;

- I. Medya
- II. Bireyler
- III. Siyasi partiler

yukarıdakilerden hangileri yönetimin karar alma sürecini etkilemektedir?

- A) Yalnız I
- B) I ve II
- C) Yalnız III
- D) I, II ve III

11.

- ◆ Millete ve seçilmiş hükümete yönelik zor ve silah kullanılarak devirme girişimine darbe denir.
- ◆ 15 Temmuz 2016 Cuma gecesinde demokrasiye darbe girişiminde bulunuldu. Bu darbe sonucunda 251 kişi şehit oldu.

Darbecilere ilk kurşunu sıkarak 15 Temmuz Darbe Girişimi ile özdeşleşen kahramanımız aşağıdakilerden hangisidir?

- A) Ömer Halisdemir
- B) Halil İbrahim Yıldırım
- C) Mehmet Oruç
- D) Engin Tilbaç

12.

- I. Cumhurbaşkanlığı Külliyesi bombalandı.
- II. Halkın oylarıyla seçilen yöneticilere suikast girişiminde bulunuldu.
- III. Fatih Sultan Mehmet Köprüsü ulaşımına kapatıldı.
- IV. Başta TRT olmak üzere medya organları ele geçirildi.

Yukarıdakilerden hangileri 15 Temmuz Darbe Girişimi sırasında yaşanan gelişmelerdendir?

- A) Yalnız I
- B) II ve III
- C) III ve IV
- D) I, II, III ve IV



13. Toplumsal hayatta demokrasinin gelişmesi için ülkemizde çeşitli alanlarda çalışmalar yapılmıştır.

Aşağıda demokratik değerleri benimsemiş bir toplum ile ilgili aşağıdakilerden hangisi söylenemez?

- A) Bireyler eşit haklara sahiptir.
B) İnsan hakları gelişmiştir.
C) Farklılıklara saygı gösterilmektedir.
D) Sınıf ayrımı mevcuttur.

14.

- I. Vakıf, dernek, sendika vb. den oluşan sivil toplum kuruluşlarına üye olan insanlar gönüllülük esasıyla çalışırlar.
II. Sivil toplum kuruluşları devletten bağımsız sivil insanlar tarafından oluşturulurlar.
III. Sivil toplum kuruluşları kâr amacı güderler.
IV. Sivil toplum kuruluşları devletten ekonomik yardım alırlar.

Yukarıda verilen bilgilerden hangileri yanlıştır?

- A) Yalnız I
B) I ve II
C) Yalnız III
D) III ve IV

15. Toplumda sözlü ve yazılı haber alma imkanını sağlayan televizyon, Genel Ağ, radyo gazete, dergi vb. kitle iletişim araçlarının oluşturduğu basın yayın organları aşağıdaki kavramlardan hangisini ifade eder?

- A) Kamuoyu
B) Medya
C) Referandum
D) Özgürlük

16. Sivil toplum kuruluşları ile ilgili aşağıda verilen bilgilerden hangisi doğrudur?

- A) Siyasi partileri denetlerler.
B) Çalışanlar maaş almaz.
C) Devlete bağımlı kuruluşlardır.
D) Ülke siyasetine yön verirler.

17. halkın türlü siyasi ve toplumsal sorunlar karşısında olumlu veya olumsuz görüşünü belirlemek için başvurulan bir oylamadır.

Yukarıda boş bırakılan yere yönetimin karar alma sürecinde etkili olan unsurlardan hangisi yazılmıştır?

- A) Referandum
B) Vefa
C) İktidar
D) Fırka

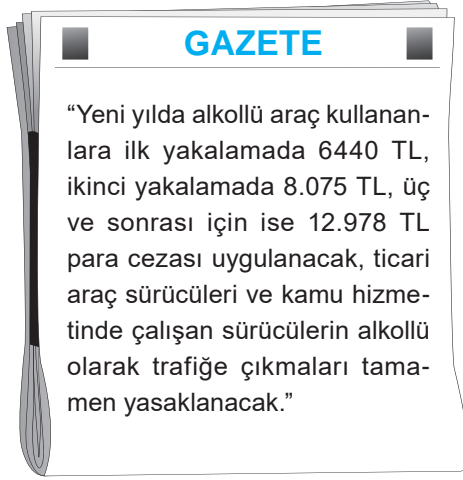
18. Kamuoyu, yöneticilerin toplum meseleleri üzerinde duyarlı olmalarını sağlar. Ülke sorunları, oluşturulan bu kamuoyu tarafından daha çabuk halledilir. Yöneticiler kamuoyu ve medya sayesinde halkın sorunlarını daha kısa bir zamanda öğrenirler. Kitle iletişim araçları ile halk, sesini çok daha rahat duyurabilmektedir.

Yukarıda yönetimde etkili olan kamuoyu ve medya hakkında yazılanlara göre aşağıdaki yorumlardan hangisi yapılamaz?

- A) Yöneticilerin duyarlılığını artırır.
B) Medya ile halk sesini daha kısa zamanda duyurur.
C) Yöneticiler halkın sorunlarına duyarsız kalırlar.
D) İnsanlar, sorunları için kamuoyu oluştururlar.



1



Yukarıdaki yasal düzenlemeler basın organlarında yer aldıktan sonra alkollü araç kullanan kişi sayısı azalır mı aşağıdaki yorumlardan hangisi yapılabilir?

- A) Haber alkol satışlarını arttırmıştır.
- B) Trafik cezaları sürücülerini bıktırmıştır.
- C) Ülkede alkol kullanımı tamamen ortadan kalkmıştır.
- D) Basında çıkan haberler halkı etkilemiştir.

2

Deniz: Bir ülkenin devlet politikasını ve yönetim şeklini belirlemede halkın söz sahibi ve eşit haklara sahip olduğu yönetim biçimine demokrasi denir.

Sümeyye: Toplumun gelişmesi ve çağdaş hâle gelmesi için demokrasiye gerek duyulur.

Merve: Demokrasi ile yönetilen ülkelerde halk eğitim, sağlık, vakıf, kültürel ve yardım alanlarında gelişme sağlar.

Zeynep: Demokrasinin hoşgörüsü kuralına uyarak farklı düşüncelere saygılı olmalıyız.

Yukarıdaki öğrencilerin demokrasi ile ilgili olarak söylediklerinden yola çıkarak aşağıdaki yorumlardan hangisi yapılamaz?

- A) Demokrasi ile yönetilen ülkelerde halk düşüncelerini özgürce söyleyebilir.
- B) Demokrasi ile yönetilen ülkelerde gelişme daha kolay gerçekleşir.
- C) Demokrasi sayesinde farklı alanlarda gelişmeler sağlanır.
- D) Bütün toplumlarda demokrasi yönetimi vardır.

3

Demokrasinin olduğu toplumlarda kamuoyu ortak bir bilinç oluşturarak toplumun sorunlarının duyurulmasına ve çözülmesine katkıda bulunur. Demokrasilerde kamuoyu özgürce oluşur. Çünkü haberler ve fikirler bu tip ortamlarda özgürce tartışılabilir ve yayılabilir. Halka ulaşan haberlerin doğruluğu ve çok yönlü olması önemlidir.

Buna göre;

- I. Kamuoyu sorunların artmasına neden olur.
- II. Demokrasilerde halkın yönetime katılması temel esastır.
- III. Kamuoyu ortamında farklı düşünceler daha kolay ortaya çıkar.

yargılarından hangileri söylenebilir?

- A) I, II ve III
- B) Yalnız I
- C) Yalnız III
- D) I ve III

4

- ◆ Kantinde öğrencilerin bir şey almak için sıraya girmesi
- ◆ Okul temsilcisinin seçilmesi için öğrencilerin oy kullanması
- ◆ Sınıf ile ilgili alınan kararlarda öğretmenin öğrencilerin de fikrini sorması
- ◆ Apartman sakinlerinin birbirlerinin haklarına saygı göstermesi

Verilen örnekler aşağıdakilerden hangisinin önemini vurgulamaktadır?

- A) Demokratik bir yaşamın
- B) Din ve vicdan özgürlüğünün
- C) Devletin koyduğu kurallara uymanın
- D) Hoşgörüsü ve barışın



5

19 Mayıs 1919'da Mustafa Kemal ve dava arkadaşlarının yaktığı bağımsızlık ateşinin özgürlük mücadelemizin son halkası olduğunu düşünmüştük. Aradan yaklaşık olarak 100 yıl geçmesine rağmen, huzur ve barış içerisinde yaşadığımız ülkemizde 15 Temmuz 2016 gecesi hiç beklemediğimiz bir anda ve bir yerden haince bir saldırıya ülke olarak maruz kaldık. Kurtuluş Savaşı'nda Nene Hatun'u, Sütçü İmam'ı ve İzmir'in işgal edilmesine karşı işgalcilere ilk kurşunu sıkan gazeteci Hasan Tahsin'i çıkaran bu bereketli topraklar, 15 Temmuz Gecesi'nde de darbecilere karşı ilk kurşunu sıkan Ömer Halisdemir'i henüz on beş yaşında olan Halil İbrahim Yıldırım gibi birçok kahramanı bağrından çıkardı. 15 Temmuz Darbe Gecesi'nde umutlarımıza, hayallerimize ve özgürlüğümüze kelepçe vurulmak istendi.

Bu parçaya göre aşağıdakilerden hangisine ulaşamaz?

- A) Nene Hatun, Sütçü İmam, Ömer Halisdemir ve Halil İbrahim Yıldırım gibi kahramanlar ülkemiz için mücadele etmiştir.
B) Gazeteci Hasan Tahsin 15 Temmuz Darbe Gecesi'nin önemli kahramanlarından.
C) 15 Temmuz Darbe Gecesi'nde bağımsızlığımız engellenmeye çalışılmıştır.
D) Mustafa Kemal ve dava arkadaşlarının bağımsızlık mücadelesi zaferlerle sonuçlanmıştır.

6

Semra, arkadaşıyla sinemaya gitmek için ailesinden izin alır. Arkadaşını telefonla arayarak ona sinemaya gitmeyi teklif eder. Semra'nın arkadaşı bu teklifi geri çevirir ve beraber satranç oynayabileceklerini söyler. Semra, başta verdiği kararı değiştirir ve ailesinden izin alarak arkadaşına satranç oynamaya gider.

Esra Hanım, eve yeni koltuk takımı almak istemektedir. Ancak Esra Hanım'ın eşi maddi durumlarının uygun olmadığını söyleyerek bu isteğe sıcak bakmaz. Esra Hanım ve eşi aile bütçesiyle ilgili bir hesap yaparlar. Esra Hanım yeni koltuk alma fikrinden vazgeçer.

Buna göre;

- I. Bireyler günlük yaşamlarında aldıkları kararları uygularken çeşitli unsurlardan etkilenirler.
II. Bireyler kendi istekleriyle aldıkları kararları değiştirebilir veya uygulamaya koymaktan vazgeçebilirler.
III. Bireylerin aldıkları kararları değiştirmesi doğru bir davranış olarak görülmemektedir.

Yorumlarından hangileri yapılamaz?

- A) Yalnız I
B) I ve II
C) II ve III
D) Yalnız III



1. Fotoğrafçılık yapan Deniz Hanım, Hakan ve Elif çiftinin düğün fotoğraflarını çekmiştir. Deniz Hanım düğün fotoğraflarının bir kısmını, evli çiftin bilgisi ve rızası dışında, iş yerinin vitrininde ve internet sitesinde reklam amaçlı olarak yayınlamıştır.

Yukarıda verilen durumda hangi kişilik hakkının ihlâl edildiği vurgulanmaktadır?

- A) Özel yaşamın gizliliği hakkının
B) Yaşama hakkının
C) Düşünceyi yayma hakkının
D) Konut dokunulmazlığı hakkının

2. Türkiye Cumhuriyeti Devleti'nin 26. maddesinde "Herkes, düşünce ve kanaatlerini söz, yazı, resim veya başka yollarla ya da toplu olarak açıklama ve yayma hakkına sahiptir..." ifadesi yer almaktadır.

Anayasa'mızın bu maddesi insan hak ve özgürlüklerinden hangisiyle ilgilidir?

- A) Din ve vicdan özgürlüğü
B) Kişi dokunulmazlığı hakkı
C) Özel yaşamın gizliliği hakkı
D) Düşünce ve kanaat özgürlüğü

3.

- I. Toplumun huzuru ve mutluluğu için hak ve özgürlükler sınırsız değildir.
II. Ülke bütünlüğünü, toplum sağlığını ve güvenliğini korumak için hak ve özgürlükler kanunlar çerçevesinde sınırlandırılabilir.
III. Üzerine düşen sorumluluğu yerine getirmeyen bireyler ülke geleceğine katkıda bulunur.
IV. Olağanüstü hâl gibi bir durum oluştuğunda özgürlüklere sınırlamalar getirilebilir.

Yukarıda verilen bilgilerden hangileri yanlıştır?

- A) Yalnız I
B) I ve II
C) Yalnız III
D) III ve IV

4. Anayasa'mıza göre yetkili mercilerin yazılı bir emri bulunmadıkça kimsenin evine girilemez, arama yapılamaz ve buradaki eşyalara el konulamaz.

Yukarıdaki Anayasa maddesinin bizlere sağladığı hak aşağıdakilerden hangisidir?

- A) Konut dokunulmazlığı hakkı
B) Din ve vicdan özgürlüğü hakkı
C) Kişi dokunulmazlığı hakkı
D) Düşünce özgürlüğü hakkı

5. "Herkes kendi hayatı ile ilgili diğer insanların bilmesini istemediği durumları gizleme hakkına sahiptir."

Yukarıda bahsedilen temel hak aşağıdakilerden hangisidir?

- A) Yaşama hakkı
B) Özel hayatın gizliliği hakkı
C) Kişi dokunulmazlığı hakkı
D) Konut dokunulmazlığı hakkı

6. Anayasa'nın 17. maddesine göre; "Kişinin vücut bütünlüğüne dokunulamaz, rızası olmadan bilimsel ve tıbbi deneylere dahi tabi tutulamaz".

Yukarıda verilen Anayasa maddesi ile güvence altına alınan temel hak aşağıdakilerden hangisidir?

- A) Haberleşme hakkı
B) Eğitim ve öğrenim alma hakkı
C) Seyahat etme hakkı
D) Kişi dokunulmazlığı hakkı



7.



Telefonlarım dinleniyormuş.
Haberim olmadan mektuplarım
posta kutusundan çalınmış.
Fotoğraflarım çekilmiş.

Yukarıdaki şikâyetleri dile getiren kişinin aşağıdaki haklarından hangisi ihlâl edilmiştir?

- A) Bilgi edinme hakkı
- B) Özel yaşamın gizliliği hakkı
- C) Düşünce ve ifade özgürlüğü hakkı
- D) Yaşama hakkı

8.

- I. Siyasi hak ve ödevler toplumda sadece belli kişilere verilmiştir.
- II. Sosyal ve ekonomik haklar, hem ülke kalkınmasını sağlamak hem de sosyal adaleti gerçekleştirmek için devletin yerine getirmesi gereken ödevlerden oluşmaktadır.
- III. Ülke yönetimine katılmamızı sağlayan siyasi hak ve ödevlerimiz vardır.
- IV. Anayasa'mız temel hak ve hürriyetlerin korunması, kullanılabilmesi, imkânlarının hazırlanması bakımından devlete çeşitli ödevler yüklemiştir.

Yukarıda verilen bilgilerden hangileri yanlıştır?

- A) Yalnız I
- B) I ve II
- C) II ve III
- D) Yalnız IV

9.

- ◆ Bebek, doğduğu andan itibaren hayatta kalma hakkını elde etmiştir.
- ◆ Ali, tatil yapmak için farklı bir şehre doğru yola çıkmıştır.
- ◆ Ayşe ile Kemal her gün okullarına gitmektedirler.

Yukarıda verilen maddeler ile temel hak ve özgürlükler eşleştirildiğinde aşağıdakilerden hangisi açıkta kalır?

- A) Eğitim hakkı
- B) Din ve vicdan özgürlüğü
- C) Seyahat özgürlüğü
- D) Yaşama hakkı

10.

- I. İnsanların istediği dini yaşama özgürlüğüdür.
- II. İnsanların doğuştan sahip olduğu en temel haktır.
- III. Vatandaşların karşılık gözetmek kaydıyla istek ve şikâyetlerini ilgili makamlara iletme hakkıdır.
- IV. Bireylerin can ve mallarına zarar gelmeden emniyetli bir şekilde yaşamalarını sağlayan haktır.

- a) Yaşama hakkı
- b) Güvenlik hakkı
- c) Din ve vicdan hürriyeti
- d) Dilekçe hakkı hürriyeti

Yukarıdaki açıklamalar ile hakların doğru eşleştirilmesi aşağıdakilerden hangisidir?

	I	II	III	IV
A)	c	a	d	b
B)	a	d	b	c
C)	d	c	a	b
D)	b	a	c	d

11. Türkiye Cumhuriyeti Devleti'nin Anayasası'nda temel haklar ve ödevler; kişi hakları ve ödevleri, sosyal ve ekonomik haklar ile ödevler ve siyasi haklar ve ödevler olmak üzere üç ana başlıkta yer almıştır.

Bunlar;

- a. Dilekçe hakkı
- b. Eğitim ve öğrenim hakkı
- c. Yaşama hakkı
- d. Vatan hizmeti ve vergi hakkı
- e. Konut dokunulmazlığı hakkı

Yukarıda verilenlerden hangileri siyasi haklar ve ödevlerimiz arasında yer alır?

- A) b ve e
- B) a ve d
- C) a ve b
- D) c ve d



12. Vatandaş olarak hem haklarımız hem de sorumluluklarımız vardır.

Buna göre;

- I. Vergi vermek
- II. Dilekçe yazmak
- III. Askerlik yapmak
- IV. Eğitim görmek

yukarıda verilenlerden hangileri sorumluluklarımız arasında yer alır?

- A) I ve II
- B) I ve III
- C) II ve IV
- D) III ve IV

13.

- I. Sağlık hakkı
- II. Beslenme hakkı
- III. Eğitim hakkı
- IV. Seyahat hakkı

Yukarıdakilerden hangileri 6. Sınıfa giden Eda'nın tek başına doğrudan kullanabileceği haklardan biri değildir?

- A) I ve II
- B) III ve IV
- C) II ve III
- D) Yalnız IV

14.

- ◆ Savaş ve olağanüstü hâl gibi durumlarda bile korunması gerekir.
- ◆ Tıbbi zorunluluklar ve kanunda yazılı olan hâller dışında; kişinin vücut bütünlüğüne dokunulamaz, rızası olmadan bilimsel ve tıbbi deneylere tabi tutulamaz.
- ◆ Kimseye işkence ve eziyet yapılamaz.

Yukarıda verilen maddeler aşağıdaki haklardan hangisinin kapsamındadır?

- A) Yaşama hakkı
- B) Din, vicdan ve kanaat hürriyeti
- C) Düşünce hürriyeti
- D) Seçme ve seçilme hakkı

15. İstanbul'da yaşayan Hasan Bey camiye, Gabriel Bey havraya, Aamanda Hanım ise kiliseye giderek ibadet etmektedir.

Bu durum Anayasa'daki temel hak ve özgürlüklerden hangisinin korunduğunu göstermektedir?

- A) Eğitim hakkının
- B) Çalışma hakkının
- C) Din ve vicdan özgürlüğünün
- D) Düşünce ve kanaat hürriyetinin

16. Semra Hanım sabah işe giderken emniyet kemerini takmış, kırmızı ışıklarda durmuş, yaya geçitlerinde ise yayalara yol vermiştir.

Buna göre Semra Hanım'ın aşağıdaki sorumluluklardan hangisini yerine getirdiği söylenebilir?

- A) Askerlik yapmak
- B) Oy kullanmak
- C) Vergi vermek
- D) Kanunlara uymak

17. "Kimseye işkence ve eziyet yapılamaz; kimse insan haysiyetiyle bağdaşmayan bir cezaya veya muameleye tabi tutulamaz."

Verilen ifade aşağıdaki hak ve özgürlüklerden hangisiyle ilgilidir?

- A) Kişi dokunamazlığı hakkı
- B) Yerleşme ve seyahat özgürlüğü
- C) Özel hayatın gizliliği hakkı
- D) Din ve vicdan özgürlüğü



1 İnsanı insan yapan özelliklerin başında düşünebilmesi gelmektedir. Herkes istediği konuda dilediği gibi düşünebilir. Bunun yasaklanması mümkün değildir. Ancak düşüncenin açıklanmasında ve geniş kitlelere yayılmasında dikkatli olunması gerekmektedir. Toplumun huzurunu, birlik ve beraberliğini bozmaya yönelik düşüncelerin kısıtlanması kaçınılmazdır.

Buna göre;

- I. Herkes düşüncesini istediği yerde söyleme hakkına sahiptir.
- II. Düşünceler açıklanırken dikkat edilmesi gereken hususlar vardır.
- III. Düşünceler açıklanırken toplum üzerindeki etkisi dikkate alınmalıdır.

yargılarından hangilerine ulaşamaz?

- A) Yalnız I B) I ve II
C) II ve III D) Yalnız III

2 Türkiye Cumhuriyeti Devleti Anayasası'nın 24. maddesinde "Herkes vicdan, dini inanç ve kanaat hürriyetine sahiptir." ifadesi yer almaktadır. Din ve vicdan özgürlüğü, bireylerin Tanrı ve din konusunda istediği tercihi yapabilmesidir. Bu özgürlük kısaca kişilerin din ve Tanrı konularında devlet ya da diğer kişiler tarafından baskıya uğramadan istediği dini seçmede özgür olmasıdır. İnanç özgürlüğü din ve vicdan özgürlüğünün temelini oluşturur.

Buna göre aşağıdaki yargılardan hangisine ulaşamaz?

- A) Din ve vicdan özgürlüğü Anayasa ile güvence altına alınmıştır.
B) Herkesin aynı dine inanma zorunluluğu vardır.
C) İnanç ve vicdan özgürlüğü birbiriyle bağlantılıdır.
D) İnsanlar din ve vicdan konusunda serbest bırakılmıştır.

3 Türkiye Cumhuriyeti Devleti insan hak ve özgürlüklerine saygılı demokratik, laik ve sosyal bir hukuk devletidir. Türkiye Cumhuriyeti Anayasası ile vatandaşların başta yaşama hakkı olmak üzere kişi dokunulmazlığı, din ve vicdan özgürlüğü, düşünce özgürlüğü gibi hakları güvence altına alınmıştır. Ancak özgürlüklerimizin kullanım sınırını diğer bireylerin hak ve özgürlüklerinin sınırı belirlemektedir.


Buna göre;

- I. Yaşamak en temel hakkımızdır.
- II. Özgürlüklerimiz sınırsız değildir.
- III. Temel hak ve özgürlüklerimizin güvenliği kanunlarla sağlanmıştır.

yargılarından hangilerine ulaşılabilir?

- A) I, II ve III B) I ve II
C) Yalnız III D) II ve III

4



Ben tebaamdan;
Müslümanları camide,
Hristiyanları kilisede,
Yahudileri havrada görmek
isterim. Aralarında başka bir fark
yoktur.

Osmanlı padişahlarından II. Mahmud'un bu sözü incelendiğinde Osmanlı Devleti'nde vatandaşlara aşağıdaki haklardan hangisinin tanındığı söylenebilir?

- A) Düşünce özgürlüğü
B) Yaşama hakkı
C) Din ve vicdan özgürlüğü
D) Kişi dokunulmazlığı hakkı



1. Türk kadınına ülke yönetiminde görev alabilmesini sağlayan siyasi haklar Mustafa Kemal Atatürk'ün öncülüğünde verilmiştir.

Aşağıdakilerden hangisi Türkiye'nin ilk kadın başbakanıdır?

- A) Türkan Akyol
- B) Tansu Çiller
- C) Gül Esin
- D) Süreyya Ağaoğlu

2. Aşağıda Anadolu'da yapılan bazı mimari eserlerin adları verilmiştir.

- ◆ Gevher Nesibe Hatun Şifahanesi
- ◆ Mama Hatun Türbesi

Buna göre bu eserlerin isimlerinden yola çıkarak aşağıdakilerden hangisi söylenebilir?

- A) Kadınlara siyasi haklar tanınmıştır.
- B) Kadınlar devlet yönetiminde söz sahibidir.
- C) Türk toplumunda kadınlar önemli bir değere sahiptir.
- D) Tüm hükümdar eşlerine türbe yaptırılmıştır.

3. Yeni Türk devletinin kurulup cumhuriyetin ilan edilmesinden sonra Mustafa Kemal Atatürk öncülüğünde Türk kadınlarının yeni hak ve özgürlüklere kavuşmasını sağlayacak yeni düzenlemeler Türk kadınları tarafından da olumlu bir şekilde karşılanmıştır.

Aşağıdakilerden hangisi Türk kadınının cumhuriyetin ilanından sonra elde ettiği haklardan biri değildir?

- A) Yaşama hakkı
- B) Seçilme hakkı
- C) Meslek ve mülkiyet edinme hakkı
- D) Boşanma hakkı

4.

- ◆ Resmi nikâh hakkı
- ◆ Çalışma hayatına girebilme hakkı
- ◆ Boşanma hakkı

Yukarıda verilen haklara Türk kadını aşağıdaki kanunlardan hangisi ile kavuşmuştur?

- A) Medeni Kanun
- B) Soyadı Kanunu
- C) Kabotaj Kanunu
- D) Tevhid-i Tedrisat Kanunu

5. Türk kadınları Mustafa Kemal Atatürk sayesinde istediği okula gitme, istediği mesleği seçme, milletvekili seçme ve seçilme, mirastan eşit pay alma gibi haklar elde etmişlerdir.

Buna göre aşağıdaki yargılardan hangisine ulaşamaz?

- A) Kadınlara verilen değer artmıştır.
- B) Kadınlar sosyal ve siyasal haklar elde etmiştir.
- C) Kadınlar verilen haklardan memnun olmamışlardır.
- D) Kadının toplumsal hayattaki önemi artmıştır.

6. "İnsan topluluğu, kadın ve erkek denilen iki cinsten oluşur. Kabil midir bu kütlenin bir parçasını ilerletelim, ötekini ihmal edelim de kütlenin bütünü ilerleyebilsin? Mümkün müdür ki bir cismin yarısı göklere yükselebsin?"

Aşağıdaki kanunlardan hangisi Atatürk'ün yukarıdaki sözü doğrultusunda yapılmıştır?

- A) Medeni Kanun'un çıkarılması
- B) Takvim, saat ve ölçülerde değişiklikler yapılması
- C) Kabotaj Kanunu'nun kabul edilmesi
- D) Tekke ve zaviyelerin kapatılması



7. İlk Türk devletlerinde hükümdarın eşine “hatun” denirdi. Devlet meselelerinde hatunun da fikri sorulurdu.

Yukarıda verilen bilgiden yola çıkılarak aşağıdakilerden hangisi söylenebilir?

- A) Ülkeyi kadınlar yönetmektedir.
B) Kadınlar nüfus sayımında sayılmamıştır.
C) Tahta geçen kişiyi hep kadınlar belirlemiştir.
D) Kadınlara değer verilmiş ve kadınlar yönetimde söz sahibi olmuşlardır.

8.

1930: Türk kadınlarına ilk kez belediye seçimlerine katılma hakkı tanınmıştır.

1933: Türk kadınlarının muhtarlık seçimlerine katılmaları sağlanmıştır.

1934: Türk kadını milletvekili seçme ve seçilme hakkını elde etmiştir.

Türk kadınına yukarıdaki hakların verilmesi ile aşağıdaki alanlardan hangisinde kadın erkek eşitliğinin sağlanması amaçlanmıştır?

- A) Sosyal
B) Siyasi
C) Ekonomi
D) Askeri

9. Türk kadınına ülke yönetiminde görev alabilmesini sağlayan siyasi haklar Mustafa Kemal Atatürk'ün öncülüğünde verilmiştir.

Türkiye'nin ilk kadın muhtarı aşağıdakilerden hangisidir?

- A) Süreyya Ağaoğlu
B) Türkan Akyol
C) Gül Esin
D) Müfide İlhan

10. Türkiye’de şirketler kadın istihdamını arttırmak için kreş yardımları ve çalışma modelleri sunmaktadır. İşe alımlarda kadınlara öncelik tanınmaktadır. Bu çalışmalar kadınlara pozitif ayrımcılık yapıldığını göstermektedir.

Aşağıdakilerden hangisi pozitif ayrımcılığa örnektir?

- A) Kadınların erkeklerden daha önce emekli olma hakkına sahip olması
B) Engelli vatandaşlara maaş bağlanması
C) Bakıma muhtaç yaşlılara yardım edilmesi
D) Vatandaşların seçme ve seçilme hakkını kullanabilmesi

11. Kadına yönelik şiddet toplum tarafından kabul görmeyen bir durumdur. İnsanların bedenlerine yönelik her türlü saldırı fiziksel şiddet olarak adlandırılır.

Aşağıdakilerden hangisinin kadına yönelik şiddeti ortadan kaldırma adına yapılması doğru olmaz?

- A) Sosyal sorumluluk projeleri gerçekleştirmek
B) Şiddette bulunan kişilere şiddet uygulamak
C) Etkili yasal düzenlemeler yapmak
D) Cinsiyet ayrımcılığının olumsuz yönlerini insanlara anlatmak

12. **Aşağıdaki kanunlardan hangisinin kabul edilmesiyle toplumsal ve ekonomik hayatta kadın-erkek eşitliği kabul edilmiştir?**

- A) Mecelle
B) Kanun-i Esasi
C) Medeni Kanun
D) Teşkilat-ı Esasi



13.

- ◆ Bireyin ruh sağlığı ve duygularında kalıcı izler bırakan şiddete denir.
- ◆ İnsanların bedenlerine yönelik her türlü saldırıya denir.
- ◆ Bireylere cinsiyetlerinden dolayı toplumda adaletsiz bir şekilde davranılmasına denir.

Yukarıda aşağıdakilerin hangisiyle ilgili bir tanıma yer verilmemiştir?

- A) Cinsiyet ayrımcılığı
- B) Ekonomik şiddet
- C) Fiziksel şiddet
- D) Psikolojik şiddet

14. İsviçre dahil bazı Avrupa ülkelerinde bile kadınların oy kullanmadığı bir dönemde Türk kadınının seçme ve seçilme hakkını elde etmesi Türkiye’de;

- I. insan hakları,
- II. demokrasi,
- III. eşitlik

ilkelerinin hangilerinde gelişme sağlandığı söylenebilir?

- A) Yalnız I
- B) Yalnız II
- C) I ve III
- D) I, II ve III

15.

- I. Türk kadınları 1923 yılında seçme ve seçilme hakkını elde etmiştir.
- II. Kadınlara fiziksel ve psikolojik zarar veren davranışlar cinsiyet ayrımcılığı olarak tanımlanır.
- III. Şerife Bacı 15 Temmuz Darbe Girişimi’nin önemli kadın kahramanlarından biridir.
- IV. Pozitif ayrımcılık toplum içinde yeri ve konumu daha zayıf olanı koruma ya da kollamaktır.

Yukarıda kaç numaralı cümlelerde bilgi yanlışlığı yapılmıştır?

- A) I ve III
- B) II ve III
- C) Yalnız III
- D) III ve IV

16. İlk Türk devletlerinde hatun denilen hükümdar eşleri devlet yönetiminde söz sahibiydiler. Hatun hükümdarlarla birlikte kurultay toplantılarına katılır gerektiğinde elçileri kabul eder ve antlaşmaları onaylardı.

Verilen paragrafta Türk toplumunda kadının sahip olduğu hangi haktan söz edilmiştir?

- A) Sosyal
- B) Siyasi
- C) Ekonomi
- D) Kültür

17. Türkiye’deki ilk resmi nikah, Latife Hanım ile Mustafa Kemal arasında olmuştur. Mustafa Kemal evliliklerin tek eşi olmasını istemiştir.

Mustafa Kemal’in bu düşüncesi aşağıdaki amaçlardan hangisine yöneliktir?

- A) Kadınlara nitelikli bir eğitim verilmesine
- B) Kadınların seçme ve seçilme hakkına sahip olmasına
- C) Kadınların siyasi hayata katılımının gerçekleştirilmesine
- D) Kadınlara toplumsal saygınlığın kazandırılmasına

18.

- I. Seçme ve seçilme
- II. Mirasta eşitlik
- III. Mahkeme şahitliğinde eşitlik
- IV. İsteddiği mesleği seçme

Yukarıdakilerden hangileri 17 Şubat 1926’da kabul edilen Medeni Kanun’un Türk kadınına getirdiği haklardan biri değildir?

- A) Yalnız I
- B) I ve II
- C) II ve III
- D) Yalnız IV



- 1 Mustafa Kemal Atatürk "Bir toplum, bir millet erkek ve kadın denilen iki cins insandan oluşur. Mümkün müdür ki bir kitlenin bir parçasını ilerletelim. Diğerini görmemezlikten gelemim de kitlenin tümü ilerlemeye imkân bulabilsin? Mümkün müdür ki bir toplumun yarısı topraklara zincirlerle bağlı kaldıkça diğer kısmı göklere yükselbilsin? Şüphe yok, ilerleme adımları, dediğim gibi iki cins tarafından beraber, arkadaşça atılmak ve ilerleme ve yenileşme sahasına birlikte kesin aşamalar yaptırmak lazımdır. Böyle olursa, inkılap başarılı olur." demiştir.

Atatürk bu sözüyle aşağıdakilerden hangisine vurgu yapmıştır?

- A) Yeni ve millî bir devletin kurulması gerektiğine
B) Toplumsal farklılıkların ortaya çıkması gerektiğine
C) Kadın-erkek eşitliğine
D) Cumhuriyet rejimine geçilmesi gerektiğine

- 2 Millî Mücadele yıllarının fedakâr Türk kadınlarından biri Şerife Bacı'dır. Şerife Bacı 1921 yılının en şiddetli soğuklarının yaşandığı günlerde İnebolu'dan Ankara'ya cephaneye taşıyarak bu zor görevi yerine getirmeye çalışıyordu. Soğğun tipiye çevirdiği sırada kağındaki mermiyi çocuğunun yorganı ile örttükten sonra çoğunu da mermilerin arasına gizledi. Çok zor şartlarda güçlkle ilerleyerek cephaneyi askerlere teslim etmesine az bir mesafe kala yolda donarak şehit oldu.

Buna göre;

- I. Türk kadını bağımsızlık için canı pahasına mücadele etmiştir.
II. Millî Mücadele'nin tek kadın kahramanı Şerife Bacı'dır.
III. Türk kadını ülkenin kurtulmasını her şeyin üstünde tutmuştur.

yargılarından hangilerine ulaşılabilir?

- A) I, II ve III
B) I ve II
C) II ve III
D) I ve III

3



Gevher Nesibe Darüşşifası

Türkiye Selçuklu Sultanı II. Kılıç Arslan'ın kızı Gevher Nesibe'nin vasiyeti üzerine Kayseri'de Gevher Nesibe Darüşşifası yaptırılmıştır. Eserin sol tarafta bulunan kısmı hastane, sağ tarafta bulunan kısmı ise tıp medresesidir. Bu iki yapı birbirine bir koridorla bağlanmış hâdedir. Yapının tıp medresesi, yani tıp eğitimi verilen ikinci kısmı ise 1213 yılında inşa edilmiş ve 19'uncu yüzyılın sonlarına kadar eğitim devam etmiştir. Dünyanın ilk hastane ve tıp medresesi kompleksidir. Medresedeki özel odalarda, akıl hastaları kuş ve su sesi ile müzik dinletilerek tedavi edilmiştir.

Verilen bilgilerden hareketle Gevher Nesibe ile ilgili;

- I. yönetimde söz sahibi olduğu
II. vakıf hizmetinde bulunduğu
III. sosyal hizmetlere destek verdiği

yargılarından hangilerine ulaşılabilir?

- A) I, II ve III
B) II ve III
C) I ve II
D) Yalnız I

- 4 "...Dünya'da hiçbir milletin kadını, ben Anadolu kadınından daha fazla çalıştım, milletimi kurtuluşa ve zafere götürmekte Anadolu kadını kadar gayret gösterdim diyemez. Erkeklerle kurduğumuz hayat kaynaklarını kadınlarmız işletmiştir."

Atatürk'ün Kurtuluş Savaşı'nda büyük bir özveriyle vatan savunmasını yapan kadınlarımız ile ilgili bu sözlerinden aşağıdakilerden hangisine ulaşamaz?

- A) Anadolu kadını Kurtuluş Savaşı'nın kazanılmasında büyük rol oynamıştır.
B) Anadolu kadını erkeklerin kurduğu bazı yerleri işletmiştir.
C) Anadolu kadını yurduna sahip çıkmıştır.
D) Anadolu kadını devlet yönetiminde söz sahibi olmuştur.



5

KADINLAR İSTEDİKLERİ YERDE İNEBİLECEK

Kadın Yolculara pozitif ayrımcılık

İzmirli kadınlar, 22.00-06.00 saatleri arasında, otobüslerde istedikleri takdirde durak haricinde de inmeye başladı. ESHOT Genel Müdürlüğü, kadın yolcuların bu yöndeki taleplerinin yol, yolcu, çevre ve trafik güvenliğini tehdit etmeyecek en uygun noktalarda durularak karşılanacağını duyurdu.

İzmir Büyükşehir Belediyesi Meclisinde kabul edilen toplu ulaşımda otobüs kullanan kadın yolcuların akşam 22.00'den sonra durak haricinde de inebilmelerine yönelik düzenleme hayata geçirildi. İzmir Büyükşehir Belediyesi tarafından işletilen otobüslerde seyahat eden kadın yolcular bu uygulamadan yararlanmaya başladı. ESHOT Genel Müdürlüğü tarafından konu

ile ilgili bir açıklama yapılarak, "Belediye meclisimizin, kadınlara ve onların güvenli bir yaşam sürdürebilme hakkına verdiği önemin ve değerini göstergesi durumundaki kararı ile otobüslerimizde seyahat eden

kadın yolcularımız 22.00 ile 06.00 saatleri arasında güzergâh üzerindeki durak olmayan noktalarda da inebileceklerdir." denildi. Kadının toplumsal yaşamdaki yerinin hak ettiği noktaya ulaşması için atılan her adımın ve kararın destekleyicisi olduklarını dile getiren ESHOT Genel Müdürlüğü yetkilileri, alınan kararları uygulamaktan gurur ve mutluluk duyacaklarını ifade etti.



Buna göre İzmir Büyükşehir Belediyesi ile ilgili;

- I. sosyal yaşamda kadınlara yönelik pozitif ayrımcılık yaptığı,
- II. kadınları siyasi hayata katmaya çalıştığı,
- III. kadınlara değer verdiği

yorumlarından hangileri yapılabilir?

- A) I ve III B) Yalnız II C) II ve III D) Yalnız III

- 6 Kadınlar geçmişten günümüze önemli rollere sahip olmuşlardır. Bacıyan-ı Rum Anadolu'da yardımlaşma amacıyla kurulan dünyanın ilk kadın teşkilatıdır. I. Dünya Savaşı'nda ise zor günler yaşanmış, o zor günlerde Türk kadını yeri geldiğinde evin geçimini ve çocukların bakımını üstlenmiş, yeri geldiğinde cepheye silah ve cephane taşımıştır. Ayrıca cephe gerisinde askerlerin sağlık, beslenme ve giyinme ihtiyaçlarının karşılanmasında da yardımcı olmuştur. Günümüzde ise kadınlar hayatın her alanında önemli görevler almaktadır.

Buna göre;

- I. Erkekler kadınlardan daha fazla sorumluluğa sahip olmuştur.
- II. Kadınlar geçmişten günümüze hayatın birçok alanında etkili olmuştur.
- III. Kadınlar istediği eğitimi alamamıştır.

yargılarından hangilerine ulaşılabilir?

- A) I ve II B) Yalnız II C) II ve III D) Yalnız III

Aşağıdaki sorulara verilen kavramlardan uygun olanı seçerek cevap veriniz.

Monarşi, Teşkilat-ı Esasiye Kanunu, egemenlik, meşrutiyet, yargı, demokrasi, Cumhuriyet, kuvvetler ayrılığı, çoğulculuk, katılım, yürütme, danıştay, yasama, çoğunluk, teokrasi, oligarşi, özgürlük, Medeni Kanun, yetki, anayasa, yargıtay, kamuoyu, STK, siyasi parti, cinsiyet ayrımcılığı, pozitif ayrımcılık, sorumluluk, darbe, AİHM, kuvvetler birliği, medya, hukuk

1. Halkın kendi kendini yönetmesine ne ad verilir?
Cevap:
2. Egemenliğin kaynağının millete ait olduğu yönetim biçimine ne ad verilir?
Cevap:
3. Egemenliğin tek kişiye ait olduğu devlet biçimine ne ad verilir?
Cevap:
4. Yürütme ve yargı güçlerinin tek bir kişide toplandığı devlet yönetim modeline ne denir?
Cevap:
5. Kişilerin başkalarına zarar vermeden ve kanunlara aykırı olmadan dilediğini düşünebilmesi ve yapabilmesine ne denir?
Cevap:
6. Bir kimsenin üstüne aldığı, yapmak zorunda bulunduğu ya da yaptığı bir iş için gerektiğinde hesap verme durumuna ne denir?
Cevap:
7. Devletin egemenlik yetkilerinden birisi olup genel ve asli kural koyma yetkisine ne denir?
Cevap:
8. Yasaların uygulanmasından ve bir devletin yönetiminden genel olarak sorumlu olan hükümete verilen ad hangisidir?
Cevap:
9. Vatandaşların birbiriyle ve devletle olan ilişkilerindeki uyumsuzluklarını çözme yetkisine ne denir?
Cevap:
10. Adli davaların en üst yetkili mahkemesine ne ad verilir?
Cevap:
11. İdari yani yönetim ile ilgili davaların en üst mahkemesine ne ad verilir?
Cevap:
12. Avrupa İnsan Hakları Mahkemesinin kısa adı hangisidir?
Cevap:
13. Kişilerin bir ülkenin yönetiminde söz sahibi olmak üzere oluşturdukları örgütlenmeye ne denir?
Cevap:
14. İş birliği içinde hareket ederek toplum yararına hizmet eden sivil toplum kuruluşlarının kısa adı hangisidir?
Cevap:
15. İnsanlar arasında iletişimi sağlayan radyo, televizyon, gazete ve Genel Ağ gibi basın yayın organlarının tümüne ne denir?
Cevap:
16. Toplumu ilgilendiren herhangi bir konu hakkında halkın benimsediği ortak görüşe ne denir?
Cevap:
17. Toplumsal yaşamda iş, meslek edinme, yönetme gibi alanlarda kadınlara, çocuklara ve engellilere ayrıcalık tanımaya ne denir?
Cevap:
18. Bireylere cinsiyetlerinden dolayı toplumda adaletsiz bir şekilde davranılmasına ne denir?
Cevap:
19. Egemenlik yetkisinin belli bir zümre, sınıf veya grubun elinde olan yönetim modeline ne denir?
Cevap:
20. Toplumlarda farklı görüşlerin farklı siyasal partiler ile temsil edilmesine ne denir?
Cevap:
21. Bir ülke ve ulusun, onun tüzel kişiliği olan devletin yasama, yürütme, yargılama vb. yetkilerinin tümüne ne denir?
Cevap:
22. Bir ülkenin dinî kurallara göre idare edilme şekline ne denir?
Cevap:
23. Kişiler, aileler, miraslar ve eşyalar üzerine ilişkileri düzenleyen kanuna ne denir?
Cevap:
24. Yasama, yürütme ve yargı güçlerinin birbirinden ayrılmış oldukları devlet yönetim modeline ne denir?
Cevap:



1.

- ◆ Komşu ülkelerle arasındaki ilişkilerin geliştirilmesi
- ◆ Ülkeler arasında ulaşım ve iletişim hizmetlerinin geliştirilmesi
- ◆ Türkiye Cumhuriyeti ile diğer ülkeler arasında öğrenci değişim programlarının uygulanması

Yukarıda verilen durumlar Türkiye açısından aşağıdakilerden hangisinin göstergesidir?

- A) Türkiye'nin yayılcı siyaset izlediğinin
- B) Türkiye'nin dış ilişkilerine önem verdiği
- C) Türkiye'nin dış borç verdiği
- D) Türkiye'nin devletçi bir politika izlediğinin

2. Atatürk ülkemizin Balkan Antantı ve Sadabat Paketi gibi birlikliklere üye olmasını sağlamıştır. Ayrıca Atatürk, diğer milletlerin örf ve âdetlerine her zaman hoşgörülü davranılması gerektiğini de vurgulamıştır.

Buna göre Atatürk hakkında aşağıda verilen bilgilerden hangisi doğrudur?

- A) Uluslararası alanda barışa önem verdiği
- B) Komşu ülkelerin iç işlerine karıştığı
- C) Irkçı yönetimlerle iş birliği yaptığı
- D) Devletler arasındaki ilişkilerde ekonomiye önem vermediği

3. **Aşağıdakilerden hangisi TİKA (Türkiye İş Birliği ve Kalkınma Koordinasyon Ajansı Başkanlığı)'nın öncelikli faaliyetlerinden biri değildir?**

- A) Türkçe konuşan ülkelerle ekonomik, sosyal ve kültürel alanda iş birliğini sağlamak
- B) Karadeniz'e kıyısı olan ülkeler arasındaki iş birliğini sağlamak
- C) Açlık sorunu çeken Türklere yardım ulaştırmak
- D) Türkler arasındaki birlik ve beraberliği sağlamak

4. Barış içinde olmak genel olarak beyaz güvercin ve zeytin dalı ile simgelenir. Ülkemiz de her zaman barışçı bir dış politika izleme yanlısı olmuştur. Fakat başka bir ülkenin bize karşı saldırgan bir tutum üstlenmesi durumunda barışçı olma ilkesimiz bir kenara bırakılır ve o ülke bize nasıl bir tutum içindeyse ülkemiz tarafından da o tutum sergilenir.

Yukarıda bahsedilen dış politika ilkesi aşağıdakilerden hangisidir?

- A) Yurtta barış, dünyada barış
- B) Devletlerin eşitliği
- C) Karşılıklılık
- D) Komşu devletlerle iyi ilişkiler

5. "Türkiye'nin devlet siyaseti, millî sınırlar içinde egemenliğe dayanarak bağımsız yaşamaktır. Hareket kararımız budur."

Atatürk'ün bu sözünde aşağıdakilerden hangisinin önemine vurgu yapılmıştır?

- A) Güçler ayrılığına
- B) Tam bağımsızlığa
- C) Yurtta barış dünyada barış ilkesine
- D) Ekonomik bağımsızlığa

6.

- ◆ Türkiye'de bu ülke için yavru vatan nitelendirmesi yapılmaktadır.
- ◆ Bu ülkeyi resmi olarak tanıyan tek ülke Türkiye'dir.
- ◆ Türkiye bu ülkenin haklarını dünya kamuoyunda koruma görevini üstlenmiştir.

Yukarıda hakkında bilgi verilen ülke aşağıdakilerden hangisidir?

- A) KKTC
- B) Kazakistan
- C) Özbekistan
- D) Türkmenistan



7. Kurtuluş Savaşı'ndan sonra barış görüşmeleri için İsmet Paşa Lozan'a gitmiştir. Görüşmeleri yürüten ekip, İsmet Paşa'yı yenilen devletlerle birlikte oturtunca İsmet Paşa: "Biz zaferi kazandık buraya geldik. Zafer kazananların tarafında oturmak bizim hakkımızdır." diyerek karşı çıkmıştır.

İsmet Paşa'nın bu tavrı millî dış politika ilkelerinden hangisi ile açıklanır?

- A) Tam bağımsızlık
B) Devletlerin eşitliği
C) Yurtta barış, dünyada barış
D) Karşılıklılık

8.

- ◆ Türk dilini konuşan ülkelerin kültür ve sanat alanlarında iş birliğini sağlayan, üye ülkelerin yönetimine, iç ve dış politikalarına karışmayan uluslararası bir teşkilattir.
- ◆ Bu teşkilatın ev sahipliğini yapan ülke Türkiye Cumhuriyeti'dir.
- ◆ Resmi dili Türkçe, merkezi Ankara'dır.

Yukarıda hakkında bilgi verilen teşkilat aşağıdakilerden hangisidir?

- A) TÜRKSOY B) TİKA
C) BM D) AGİT

9. Sosyal Bilgiler Öğretmeni Derya Hanım öğrencilerine TÜRKSOY hakkında bilgi verdikten sonra bu teşkilatın kurucu üyeleri olan ülkeleri öğrencilerine sormuştur. Öğrencilerinden şöyle cevaplar almıştır:

Ceren: Türkiye

Elif: Kırgızistan

Ahmet: Azerbaycan

Ercan: Irak

Buna göre hangi öğrenci yanlış cevap vermiştir?

- A) Elif B) Ahmet C) Ercan D) Ceren

10. Ülkemiz diğer ülkelerle olan uluslararası ilişkilerinde bazı millî dış politika ilkeleri belirlemiştir.

Buna göre;

- I. Devletlerin eşitliği
II. Karşılıklılık
III. Çıkarıcılık
IV. Tam bağımsızlık

yukarıdakilerden hangisi bu ilkelerden biri değildir?

- A) I B) II C) III D) IV

11. 1992 yılında Dışişleri Bakanlığına bağlı olarak kurulmuştur. Kuruluş amacı; özellikle Türk dilinin konuşulduğu ülkeler, komşu ülkeler ve gelişmekte olan ülkelerle her türlü iş birliğini geliştirmektedir.

Yukarıda açıklaması yapılan kuruluş aşağıdakilerden hangisidir?

- A) Türk Dil Kurumu
B) Türk İş Birliği ve Kalkınma İdaresi Başkanlığı
C) Türk İstatistik Kurumu
D) Türk Standartları Enstitüsü

12. Aşağıdakilerden hangisi Atatürk Dönemi'nde izlenen dış politika esaslarından biri değildir?

- A) Millî bağımsızlıktan taviz vermemek
B) Ülke sınırlarını genişletmek
C) Yurtta sulh, cihanda sulh prensibine bağlı kalmak
D) Devletler arası hukuka bağlı kalmak



1. “Komşularla ve bütün devletlerle iyi geçinmek Türkiye siyasetinin esasıdır.”

Atatürk' ün yukarıdaki sözüyle aşağıdaki sözlerden hangisi arasında bir benzerliğin olduğu söylenebilir?

- A) Ne mutlu Türküm diyene!
B) Türk öğün, çalış, güven.
C) Hayatta en hakiki mürşit ilimdir.
D) Yurtta sulh cihanda sulh!

2.

- ◆ 400 yıla yakın süredir değişmeyen 560 km'lik sınırı paylaştığımız bir komşumuzdur.
- ◆ Türkiye bu ülkeden özellikle petrol ve doğal gaz satın almaktadır.
- ◆ Türkiye bu ülkeye başta altın, çelik ve otomotiv ürünleri olmak üzere çok sayıda ürün ihraç etmektedir.

Yukarıda hakkında bilgi verilen ülke aşağıdakilerden hangisidir?

- A) İran
B) Irak
C) Suriye
D) Ermenistan

3. Ülkeler arasında gerçekleştirilen insan, ürün ve hizmet çıkışı uluslararası yapılan anlaşma kuralları çerçevesinde düzenlenmiştir. Devletler tarafından belirlenmiş olan bu kurallar dahilinde ülkelerin sınırlarında giriş ve çıkış kontrollerinin yapıldığı gümrük kapıları oluşturulmuştur.

Aşağıdakilerden hangisi Türkiye'nin sınır kapısının olduğu komşu ülkelerden biri değildir?

- A) Yunanistan
B) Bulgaristan
C) Gürcistan
D) Mısır

4. Türkiye'nin kara sınırı göz önüne alındığında komşu devletlerle arasında çeşitli sınır kapılarının olduğu görülmektedir.

Buna göre;

- I. Sarp Sınır Kapısı
II. Habur Sınır Kapısı
III. Dilucu Sınır Kapısı
IV. İpsala Sınır Kapısı

Türkiye-Yunanistan arasında bulunan sınır kapısı aşağıdakilerden hangisidir?

- A) I
B) II
C) III
D) IV

5.

- ◆ Türkiye 16 Aralık 1991 tarihinde bu ülkenin bağımsızlığını tanımıştır.
- ◆ Türkiye ile bu ülkenin ilişkilerindeki en önemli konulardan birini Ahıska Türklerinin ana vatanına geri dönüş süreci oluşturmaktadır.
- ◆ Türkiye'den bu ülkeye demir-çelik, inşaat malzemesi ve tıbbi ilaç ihracatı yapılmaktadır.

Yukarıda hakkında bilgi verilen ülke aşağıdakilerden hangisidir?

- A) Ermenistan
B) Gürcistan
C) Bulgaristan
D) Yunanistan

6. Mustafa Kemal Atatürk II.Dünya Savaşı'na giden süreci isabetli bir şekilde tahlil ederek bölgesel iş birliği çabalarına hız vermiştir. Bundan dolayı 1934 yılında Balkan Antantı'nı imzalamıştır.

Aşağıdakilerden hangisi Balkan Antantı'nı imzalayan devletlerden biri değildir?

- A) Bosna-Hersek
B) Yunanistan
C) Türkiye
D) Romanya



7.

- ◆ İki ülke vatandaşları birbirleri için “kardeş ülke” yakıştırmaları yapmaktadır.
- ◆ İki ülke arasında Bakü - Tiflis - Ceyhan Petrol Boru Hattı sayesinde bu ülkeden ülkemize petrol taşınmaktadır.
- ◆ Kurulduğu andan itibaren Türkiye ile arasında dostane bir ilişki vardır.

Hakkında bilgi verilen Türk Cumhuriyeti aşağıdakilerden hangisidir?

- A) Kazakistan B) Özbekistan
C) Azerbaycan D) Kırgızistan

8.

Türkiye ile arasında çeşitli madenler, hayvansal ürünler ve tarım ürünleri başta olmak üzere önemli ticari faaliyetler söz konusudur. Türk dünyasının ortak üniversitesi olarak kabul edilen Ahmet Yesevi Üniversitesi bu ülkede bulunmaktadır.

Hakkında bilgi verilen Türk Cumhuriyeti aşağıdakilerden hangisidir?

- A) Kırgızistan B) Kazakistan
C) Özbekistan D) Türkmenistan

9.

- ◆ Türkiye bu ülkenin bağımsızlığını ilk tanıyan ve burada ilk büyükelçilik açan ülkedir.
- ◆ İki ülke arasında başta dış politika, ticaret kültür ve eğitim olmak üzere her alanda ilişkiler iyi düzeydedir.
- ◆ Turabek Khanum Türbesi bu ülkededir.

Hakkında bilgi verilen Türk Cumhuriyeti aşağıdakilerden hangisidir?

- A) Özbekistan B) Türkmenistan
C) Kırgızistan D) Kazakistan

10. Aşağıdakilerden hangisi Türkiye'nin jeopolitik önemi arttıran faktörlerden biri değildir?

- A) Üç kıta arasında köprü konumunda olması
B) İdari bakımdan 81 ile ayrılmış olması
C) Zengin yer altı ve yer üstü kaynaklarına sahip olması
D) Önemli su ve kara yollarının kesiştiği bölgede yer alması

11.

- ◆ Yıllardır süren iç karışıklıklarla uğraşmak zorunda kalan bir sınır komşumuzdur.
- ◆ Türkiye her zaman bu ülkenin toprak bütünlüğünü savunmuştur.
- ◆ İki ülke arasındaki ekonomik ilişkiler ileri bir seviyededir.
- ◆ Kerkük - Yumurtalık Petrol Boru Hattı sayesinde bu ülkeden ülkemize ham petrol taşınmaktadır.

Hakkında bilgi verilen komşumuz aşağıdakilerden hangisidir?

- A) İran B) Suriye
C) Irak D) Yunanistan

12. Ülkemizin sahip olduğu Boğazlar, Karadeniz'e kıyısı olan ülkelerin Ege ve Akdeniz'e açılan kapısıdır. Avrupa ülkeleri, zengin petrol yataklarına sahip olan Orta Doğu ülkeleriyle ülkemiz üzerinden bağlantı kurmaktadır.

Yukarıdaki açıklamada Türkiye'nin özelliklerinden hangisine vurgu yapılmaktadır?

- A) Askeri yapısı B) Yönetim şekli
C) Coğrafi konumu D) Sosyal yapısı



1

Hoca Ahmed Yesevi Türkistan Şehri

Türkiye ile Kazakistan arasında çeşitli madenler, hayvansal ürünler ve tarım ürünleri başta olmak üzere önemli ticari faaliyetler söz konusudur.

Ayrıca iki ülke arasında bankacılık alanında iş birliği yapılmaktadır. Türk dünyasının ortak üniversitesi olarak kabul edilen Ahmet Yesevi Üniversitesi bu ülkede bulunmaktadır. Üniversitenin öğretim dilinin Türkiye Türkçesi ve Kazak Türkçesi olması kültürel birlikteliğimizin bir göstergesidir. Bu üniversiteye yaklaşık 8.000 Türk vatandaşı gitmektedir. Bununla birlikte TİKA, Türk-İslam bilginlerinden biri olan Ahmed Yesevi'nin türbesinde kapsamlı bir restorasyon çalışması yapmıştır.



Buna göre Türkiye ile Kazakistan arasında;

I. ekonomi

II. eğitim

III. askeri

alanlarının hangilerinde gelişme yaşandığı söylenebilir?

A) Yalnız I

B) I ve II

C) II ve III

D) Yalnız III

2

Tika'dan Azerbaycan'da Genç Sporculara Destek

Türk İş Birliği ve Koordinasyon Ajansı Başkanlığı (TİKA) Azerbaycanlı gençlerin zararlı alışkanlıklardan korunmasına, Azerbaycan'ın geleceğinin sağlam temeller üzerinde inşa edilmesine katkı sağlayacak eğitim, spor ve kültür faaliyetleri çerçevesinde üniversite öğrencileri ve gençlerin kullanımı için halı saha kurdu. Açılış töreninde konuşan T.C. Bakü Büyükelçisi, "Türkiye ile Azerbaycan iki devlet, bir millettir. Türkiye'nin gücü Azerbaycan'ın, Azerbaycan'ın gücü ise Türkiye'nin gücüdür. Birlikte her zaman daha güçlü ve daha ileride olacağız." dedi. Büyükelçi, Azerbaycanlı gençlerin desteklenmesi adına Azerbaycan'da yapılan çalışmalardan dolayı TİKA'ya teşekkürlerini dile getirdi.



Buna göre Türkiye ile ilgili aşağıdaki yargılardan hangisi söylenebilir?

A) Ortak değerlere sahip olduğu ülkelerle iş birliği yapmıştır.

B) Uluslararası alanda kültürel faaliyetlere ev sahipliği yapmaktadır.

C) Ekonomik alanda Azerbaycan'a destek vermektedir.

D) Azerbaycan'la iş birliğini daha çok eğitim alanında yapmıştır.



3

Devletler	Gelişmeler
Azerbaycan	Türkiye Azerbaycan petrolünün dünya pazarlarında taşınması için Bakü - Tiflis - Ceyhan Petrol Boru Hattı'nın yapımına destek vermiştir.
Kazakistan	Türkiye'nin Kazakistan'da Ahmet Yesevi Üniversitesinin açılmasında önemli bir katkısı vardır. Üniversitenin öğretim dili Kazak Türkçesi ve Türkiye Türkçesidir.
Türkmenistan	1991 yılında bağımsızlığını ilan eden Türkmenistan'ı ilk tanıyan ve burada büyükelçilik açan ülke Türkiye'dir.
Kuzey Kıbrıs Türk Cumhuriyeti	Türkiye Kuzey Kıbrıs Türk Cumhuriyeti'nin (KKTC) haklarını dünya kamuoyunda koruma görevini üstlenmiştir.

Tabloda verilen bilgilerden hareketle aşağıdakilerden hangisine ulaşamaz?

- A) Türk kültürünün korunması için çalışılmıştır.
- B) Türkiye Türk Cumhuriyetleri ile siyasi ilişkiler kurmuştur.
- C) Türkiye, Türk Cumhuriyetleri'nin egemenliğini altına girmiştir.
- D) Türkiye Türk Cumhuriyetleri'nin ekonomik yönden gelişmesini desteklemiştir.

4 Türkiye ile Yunanistan arasındaki ilişkiler uzun süre inişli çıkışlı bir seyir izlemiştir. Ancak 1999 yılı itibarıyla iş birliği ve müzakereye dayalı yeni bir döneme girmiştir. Bu sayede ticaret, başta olmak üzere birçok alanda ilerlemeler olmuştur. İki ülke arasındaki ticaret hacmi her geçen yıl artmaktadır. İstanbul - Selanik hızlı tren hattının kurulması planlanmaktadır. Selanik'te bulunan Atatürk evi her yıl çok sayıda Türk vatandaşını ağırlamaktadır.

Buna göre iki ülke arasında;

- I. siyasi
- II. ekonomik
- III. ulaşım

alanlarının hangilerinde iş birliğine gidildiği söylenebilir?

- A) Yalnız I
- B) I ve II
- C) Yalnız III
- D) I, II ve III

5 30 Ekim 2017 tarihinde işletmeye açılan Bakü – Tiflis – Kars (BTK) demir yolu hattına talep her geçen gün artmaktadır. "Milli Tren Projesi" kapsamında üretilen yeni nesil milli yük vagonlarının bu hatta kullanılması ise yük taşımacılığının daha etkin ve verimli yapılmasını sağlamaktadır. Bugüne kadar BTK demir yolu hattında, ülkemizden Kazakistan'a gübre ve inşaat malzemesi, Kazakistan'dan ülkemize tahıl ve yem taşınması yapıldı. Bölge ülkelerinin yanı sıra Avrupa demir yolu idare ve şirketlerinin ilgisini çeken Bakü – Tiflis – Kars demir yolu hattı için en son Avusturya ile iş birliği yapıldı.

Bakü - Tiflis - Kars Demiryolu ile ilgili;

- I. Türkiye'ye ilk hızlı tren hattı yapılmıştır.
- II. Birçok ülkeyi kapsamaktadır.
- III. Ulaşım ağı genişlemiştir.

verilen yargılardan hangileri söylenebilir?

- A) I ve II
- B) II ve III
- C) I ve III
- D) I, II ve III



1. **Ayşe:** Türkiye'den Almanya'ya kumaş satıyorum.

Semra: Çin'den oyuncaklar alıyorum.

Mert: Azerbaycan'dan petrol ürünleri alıyorum.

Fatih: Adana'dan İstanbul'daki bir fabrikaya pamuk satıyorum.

Yukarıdaki kişilerin Türkiye'de yaşadıkları düşünülürse hangisi uluslararası alışveriş yapmamaktadır?

- A) Ayşe B) Semra
C) Mert D) Fatih

2. "Değerli basın mensupları ithalatımız %8 arttı."

Yukarıdaki bilgiye göre aşağıdaki ürünlerden hangisinin ülkemizin ithalatını arttırdığı söylenemez?

- A) Kimyasal maddeler
B) Bor madeni
C) Tıbbi ilaçlar
D) Doğal gaz

3. Kendi kaynaklarımızın yetersiz kaldığı veya ülkemizde hiç bulunmayan bazı ürünleri ülke dışından satın alarak ihtiyacımızı karşılarız.

Aşağıdakilerden hangisi ülkemizde yetiştirilmesine rağmen ihtiyacımızı karşılayacak düzeyde değildir?

- A) Muz B) Kayısı
C) Üzüm D) İncir

4. Bir ülkenin başka ülkelerle yaptığı alışverişe ticaret denir.

Aşağıdakilerden hangisi Türkiye'nin ihraç ettiği ürünler arasında yer almaz?

- A) Tekstil ürünleri
B) Unlu mamüller
C) Madeni eşyalar
D) Petrol

5. Bir ülkenin diğer ülkelerden çeşitli ürünler satın almasına ithalat, bir ülkenin diğer ülkelere sattığı çeşitli ürünlere de ihracat denir.

Türkiye'nin ithalat ve ihracatıyla ilgili olarak aşağıda verilen bilgilerden hangisi yanlıştır?

- A) Krom Türkiye'nin ihraç ettiği madenlerden biridir.
B) Türkiye kauçuk ve kakao ihraç etmektedir.
C) Türkiye'nin ithalat oranı ihracat oranından fazladır.
D) Türkiye'nin ithal ettiği ürünler arasında en büyük pay sanayi sektörüne aittir.

6.



Fındık



Tekstil
Ürünleri



Bor
Madeni

Yukarıdaki ürünlerle ilgili olarak aşağıdakilerden hangisi söylenebilir?

- A) Türkiye'nin dış ülkelere satın aldığı ürünlerdir.
B) Türkiye'nin dış ülkelere ihraç ettiği ürünlerdir.
C) Türkiye'de üretimi az olan ürünlerdir.
D) Ülkenin zarar ettiği ürünlerdir.

7. Türkiye'de pamuk yetiştirmesine rağmen birçok ülkeden pamuk almaktadır.

Bu durumun sebebi aşağıdakilerden hangisidir?

- A) Türkiye'de kaliteli pamuk yetiştirilmemesi
B) Dışarıdan pamuğun daha pahalıya alınması
C) Pamuk tüketiminin üretimden fazla olması
D) Türkiye ikliminin pamuk yetiştirmeye uygun olmaması



8. Türkiye bazı ürünleri hem ithal hem de ihraç etmektedir.

Buna göre;

- I. Petrol
- II. Otomotiv ürünler
- III. Doğal gaz
- IV. Kömür

yukarıdakilerden hangisi Türkiye'nin hem ihraç hem de ithal ettiği ürünlerden biridir?

- A) I B) II C) III D) IV

9. Türkiye'nin hava sahasını ihlal eden Rus uçağı askeri birlikler tarafından düşürüldü. Bu olaydan sonra basında sık sık Rusya'dan alınan önemli bir ürünün Rusya tarafından verilmeme ihtimali olduğu konuşuldu.

Yukarıda verilen bilgiye göre Rusya'dan satın alındığı söylenen ürün aşağıdakilerden hangisidir?

- A) Kömür B) Demir
C) Doğal gaz D) Petrol

10. Aşağıda Türkiye'nin ithal ve ihraç ettiği ürünlerden bazıları yanlış verilmiştir.

İhraç	İthal
Cıva	Petrol
Kayısı	Kakao
Mermer	Gübre
Kahve	Antep fıstığı

Yukarıdaki ürünlerden hangilerinin yerleri değişirse tablo doğru olur?

- A) Cıva – Petrol
B) Kayısı – Kakao
C) Mermer – Gübre
D) Kahve – Antep fıstığı

11. **Gelişmiş ülkelerin ticari faaliyetlerinde aşağıdakilerden hangisinin görülme olasılığı daha yüksektir?**

- A) İthalat giderleri ihracat getirilerinden fazladır.
B) Petrol ve madenleri işleme sanayisi gelişmemiştir.
C) Sanayi ürünleri ihracatı fazladır.
D) Kaynaklar, ihtiyaçlarını karşılamaya yetmez.

- 12.

- I. Verimli ovaların bulunması
- II. Dört mevsimin yaşanması
- III. Önemli boğazlara sahip olması
- IV. Yarı kurak iklimin yaşanması

Yukarıdaki özelliklerden hangileri Türkiye'nin ekonomik yönden gelişmesini sağlamıştır?

- A) I ve II B) II ve III
C) I, II ve III D) I, II ve IV

13. Ülkelerin tarım, sanayi, madencilik, enerji vb. yer altı ve yer üstü kaynaklarından ihtiyaç fazlası olanların başka ülkelere satılmasına ihracat denir.

Yukarıdakilerden hangileri Türkiye'nin ihraç ettiği ürünlerden biri değildir?

- A) Ananas
B) Motorlu kara taşıtları
C) Fındık
D) Demir-çelik ürünleri



14. Aşağıdakilerden hangisi Türkiye'nin en çok ithal ettiği ürünlerden biri değildir?

- A) Tütün
B) Yolcu uçağı
C) Optik Araçlar
D) Mango

15. Bir ülkenin ithalatı sürekli artarken ihracatı azalıyorsa bu ülke ile ilgili aşağıdakilerden hangisi söylenbilir?

- A) Ülkenin aldığı ürünler sattığı ürünlerden fazladır.
B) Ülkenin maddi geliri artmaktadır.
C) Ülkeye döviz girdisi çöktür.
D) Dış ticaret açığı yoktur.

16. Yabancı bir ülkeden mal veya hizmet alınması işlemine ithalat denir.

Buna göre;

- I. Tıbbi malzemeler
II. Optik araçlar
III. İncir
IV. İlaç

yukarıdakilerden hangisi Türkiye'nin ithal ettiği ürünler arasında yer almaz?

- A) I
B) II
C) III
D) IV

17. (....) Türkiye daha önce ithal ettiği birçok ürünü ihraç eder duruma gelmiştir.

(....) Ülkeler çeşitli ihtiyaçlarını karşılamak için başka ülkelerle ticaret yaparlar.

(....) İhracat, başka ülkelerden mal satın almaktır.

(....) Dış ticaret, bir devletin yabancı bir devletle yaptığı ithalat ve ihracattır.

Etkinlikte doğru olanların başına "D", yanlış olanların başına "Y" yazıldığında doğru seçenek aşağıdakilerden hangisi olur?

- A) D, Y, D, Y
B) Y, D, Y, D
C) Y, Y, D, D
D) D, D, Y, D

18.

- I. Emir Bey'in internet üzerinden sipariş alarak Almanya'ya Giresun'dan fındık yollaması
II. Derya'nın Kayseri'de ürettiği mantıyı birkaç farklı markette satılması için İstanbul'a yollaması
III. Ispartalı iş adamı Fatih Bey'in kurduğu gül reçeli fabrikasının ürünlerini İngiltere'ye yollaması
IV. Ülkemizdeki ünlü bir mobilya merkezinin birçok Avrupa ülkesine ürettiği ürünlerden satması

Yukarıdakilerden hangisinde iç ticarete örnek verilmiştir?

- A) I ve II
B) Yalnız II
C) II ve III
D) III ve IV

19. Petrol ve doğal gaz bakımından zengin kaynaklara sahiptir. Aynı zamanda önemli bir sanayi ve tarım ülkesidir.

Hakkında bilgi verilen ülke aşağıdakilerden hangisidir?

- A) Almanya
B) Çin
C) Hindistan
D) Rusya

20.

- ◆ Cam, porselen, deterjan, fotoğrafçılık, tekstil boyaları, böcek öldürücüleri, jet ve roket yakıtları yapımında kullanılır.
◆ Türkiye, kalitesi yüksek olan bu madende rezerv bakımından dünyada birinci sıradadır.

Hakkında bilgi verilen maden aşağıdakilerden hangisidir?

- A) Kükürt
B) Çinko
C) Bor
D) Civa



1



Yukarıda verilen haritalara bakılarak ülkemiz ile ilgili olarak aşağıdaki yorumlardan hangisi yapılabilir?

- A) Rusya ve Azerbaycan'dan petrol ithal eder.
- B) Daha çok tarım ürünleri ihraç ederken sanayi ve elektronik ürünleri de ithal etmektedir.
- C) Bor madeni rezervi bakımından dünyada birinci sıradadır.
- D) En çok harcama elektronik eşyaya yapılmaktadır.

2 A ülkesinin ihracatı ithalatından fazladır.

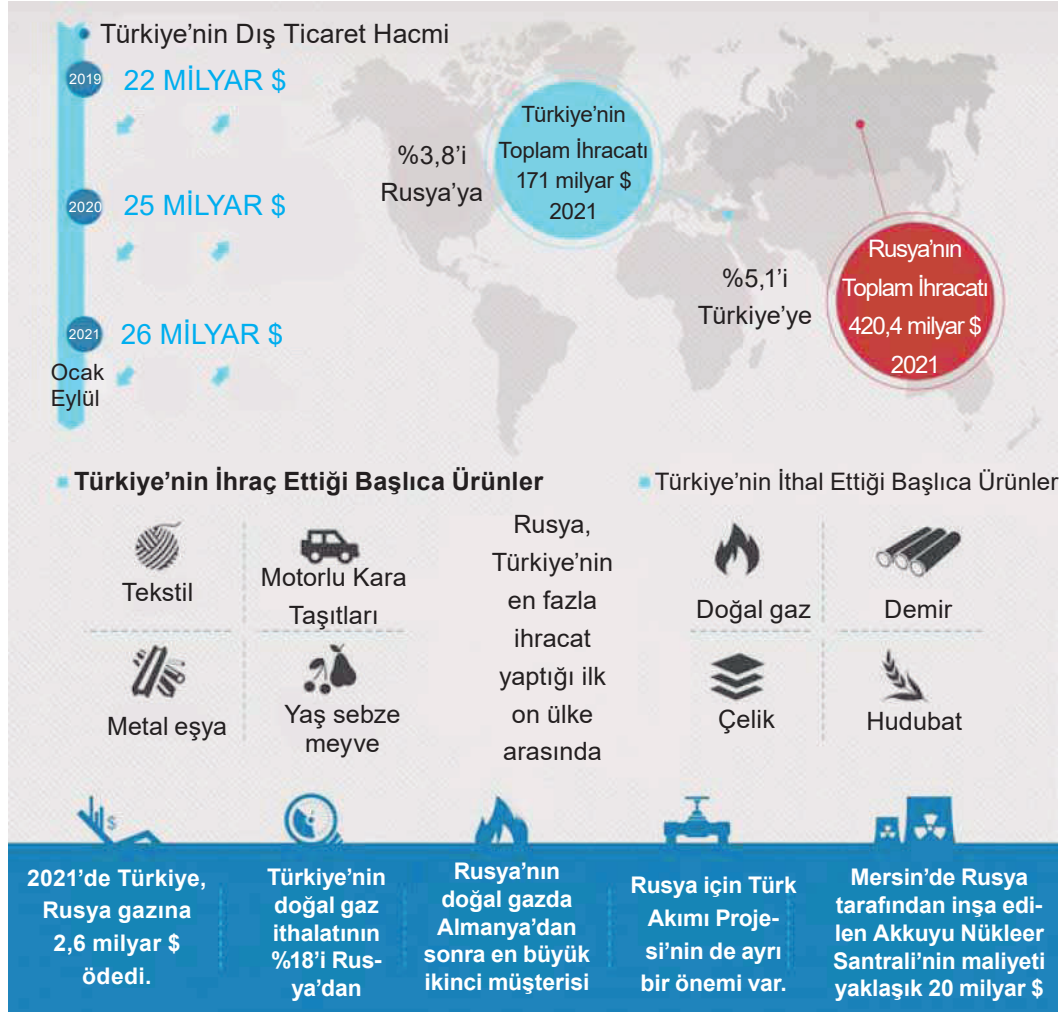
Verilen bilgiye göre aşağıdaki yorumlardan hangisi yapılamaz?

- A) A ülkesi, yurt dışına ürün satmaktadır.
- B) A ülkesinin, sattığı ürün aldığı üründen fazladır.
- C) A ülkesinde ihtiyaçtan daha fazla ürün vardır.
- D) A ülkesinin aldığı ürün sattığı üründen fazladır.



3

RUS EKONOMİSİ İÇİN TÜRKİYE'NİN ÖNEMİ BÜYÜK



Yukarıdaki afişe bakılarak aşağıdaki yorumlardan hangisi yapılamaz?

- Türkiye'nin doğal gaz ihtiyacının yarısından fazlasını Rusya karşılamaktadır.
- Türkiye'nin dış ticaret hacmi 2019 – 2020 yılları arasında yükselmiştir.
- Rusya'nın 2021 yılındaki toplam ihracat oranı Türkiye'nin 2021 yılındaki ihracat oranından fazladır.
- Türkiye, Rusya'dan yer altı kaynağı ithal etmektedir.

- Dünya üzerinde ekonomik faaliyetlerin farklılık göstermesinin temel nedeni insanların ihtiyaçlarının çeşitlilik göstermesidir. Beslenme, barınma, korunma gibi temel ihtiyaçlar ekonomik faaliyetlerin çeşitlenmesine ve gelişmesine neden olmuştur. Yer altı ve yer üstü kaynakları bakımından oldukça zengin olan ülkemiz bu kaynaklarıyla kendi ihtiyaçlarını karşılamasının yanında ihtiyaç fazlası ürünleri de diğer ülkelere ihraç ederek gelir elde etmektedir. Ülkeler bazı ihtiyaçlarını diğer ülkelere ithal ederek karşılamaya çalışırlar. Ülkeler arasındaki kaynak ve ihtiyaçlara bağlı bu alışverişten dış ticaret doğar.

Yukarıdaki paragrafta;

- Ekonomik faaliyetlerin farklılık göstermesinde etkili olan faktörler nelerdir?
- Ülkemiz en çok hangi ürünleri ihraç etmektedir?
- Dış ticaretin ortaya çıkmasının üzerinde etkili olan faktörler nelerdir?

sorularından hangilerinin cevabı yoktur?

- Yalnız I
- I ve II
- Yalnız II
- I, II ve III

**1. Aşağıda verilen doğal gaz boru hatlarından hangisi Türkiye ile Rusya arasındadır?**

- A) Doğu Anadolu Doğal Gaz Ana İletim Hattı
- B) Trans Anadolu Doğal Gaz Boru Hattı
- C) Mavi Akım
- D) Bakü–Tiflis–Ceyhan Petrol Boru Hattı

2.

- ◆ II. Dünya Savaşı'ndan sonra Sovyet Rusya'nın yayılmacı politikasına karşı 4 Nisan 1949'da kurulmuştur.
- ◆ Türkiye'nin 1950 yılında Kore Savaşı'na asker göndermesi bu kuruluşa üye olmasını kolaylaştırmıştır.
- ◆ Türkiye 1952'de bu kuruluşa üye olmuştur.

Hakkında bilgi verilen uluslararası kuruluş aşağıdakilerden hangisidir?

- A) AGİT
- B) NATO
- C) G-20
- D) D-8

3.

- I. Türkiye zengin petrol yataklarına sahip Orta Doğu ve diğer Asya ülkeleri ile komşudur.
- II. Türkiye zengin yer altı kaynaklarına sahiptir.
- III. Su kaynakları bakımından zengindir ve verimli tarım arazilerine sahiptir.
- IV. Türkiye'de tarihî eser yok denecek kadar azdır.

Yukarıda verilen bilgilerden hangisi yanlıştır?

- A) I
- B) II
- C) III
- D) IV

- 4. Belli bir dönem için geçerli olan, hızlı üretilen ve hızlı tüketilen kültürel öğelerin bütününe denir.

Yukarıda boş bırakılan noktalı yere aşağıdaki kavramlardan hangisi gelmelidir?

- A) kültürel gecikme
- B) popüler kültür
- C) kültürleşme
- D) kültürel yozlaşma

- 5. Türkiye gelişmiş Avrupa devletleri ile enerji kaynakları yönünden zengin Asya devletleri arasında ticari bir köprü görevi görmektedir. Aynı zamanda Türkiye BM ve NATO gibi örgütlere üye olarak çeşitli barış gücü operasyonlarına katılmaktadır.

Ülkemizin üstlendiği bu görevler aşağıdaki alanlardan hangisiyle ilgilidir?

- A) Siyasi – Dini
- B) Ekonomik – Kültürel
- C) Ekonomik – Askeri
- D) Sosyal – Siyasi

- 6. I. Popüler kültür kolay yayılabilmekte ve kolay tüketilebilmektedir.
- II. Popüler kültürün etkisi altındaki kesimlerin bazı özellikleri değişebilmektedir.
- III. Popüler kültürün etkisi altında kalan gençler çevresindeki toplumsal olaylara kafa yormamaya başlamaktadır.
- IV. Popüler kültür daima olumlu sonuçlara sebep olmaktadır.

Popüler kültür ile ilgili yukarıda verilen bilgilerden hangisi yanlıştır?

- A) I
- B) II
- C) III
- D) IV



7. Aşağıdakilerden hangisi popüler kültüre örnek gösterilemez?

- A) Evlenecek kızlara yapılan kına gecesi
- B) Hip – hop tarzı müzik
- C) Tek kişilik sahne şovları
- D) Hazır yiyecek (fast food) anlayışı

8.

- ◆ Askeri bir teşkilattir. Türkiye bu kuruluşun dünya çağında yaptığı faaliyetlere yeri geldiğinde askeri gücüyle destek vermektedir.
- ◆ 5 Mayıs 1949 tarihinde kurulmuştur. Merkezi, Fransa'nın Strazburg şehrinde bulunmaktadır.
- ◆ II. Dünya Savaşı'ndan sonra barış ve güvenliği sağlamak amacıyla kurulmuştur.

Yukarıda verilen bilgiler ilgili olduğu kuruluşlar eşleştirildiğinde aşağıdakilerden hangisi dışarıda kalır?

- A) NATO
- B) Avrupa Konseyi
- C) BM
- D) İKÖ

9.

I



II



III



IV



Yukarıdaki görsellerden hangileri kültürümüzle ilişkilendirilebilir?

- A) I ve II
- B) III ve IV
- C) I ve III
- D) II ve IV

10.

- I. Barışa yönelik tehditleri önlemek
- II. Ülkeler arasında dostane ilişkiler kurmak
- III. Uluslararası ekonomik ve sosyal iş birliğini sağlamak

Yukarıdakilerden hangileri Birleşmiş Milletler Teşkilatı'nın amaçlarındandır?

- A) Yalnız I
- B) I ve II
- C) Yalnız III
- D) I, II ve III

11.



Yukarıda verilen amblem aşağıdaki kuruluşlardan hangisine aittir?

- A) NATO
- B) BM
- C) G20
- D) KEİ

12. Aşağıdakilerden hangisi kültürümüze ait örneklerden biri değildir?

- A) Eve gelen misafirleri kapıdan uğurlamak
- B) Yılbaşı kutlamalarına katılmak
- C) Askere giden gençlerin ellerine kına sürmek
- D) Bayramlarda büyüklerin elini öpmek



13.

- ◆ Uluslararası sistemde başlıca gelişmiş ülkeler ile önemi ve ağırlığı hızla artan gelişmekte olan ülkeler arasında ekonomik ilişkileri arttırmak amacıyla kurulmuştur.
- ◆ Türkiye, Aralık 2014 yılında dönem başkanlığı üstlenmiştir.
- ◆ Türkiye'nin dönem başkanlığı 15-16 Kasım 2015 tarihlerinde Antalya'da düzenlenen Liderler Zirvesi'nde başarıyla tamamlanmıştır.

Yukarıda hakkında bilgi verilen kuruluş aşağıdakilerden hangisidir?

- A) G-20 B) İİT
C) BM D) EİT

14.

- İnsan hakları ve demokrasi ilkelerini korumak ve güçlendirmek
- İrkçılık, hoşgörüsüzlük ve yabancı düşmanlığı konularında sorunlara çözüm aramak
- Üye ülkelerin sosyal ve kültürel alanlarda ilerlemesine ve gelişmesine katkıda bulunmak

Yukarıdakilerden hangileri Avrupa Konseyi'nin amaçlarındandır?

- A) Yalnız I B) I ve II
C) Yalnız III D) I, II ve III

15. Jeopolitik, bir ülkenin konumunun ona sağladığı avantajlara denir.

Aşağıdakilerden hangisi Türkiye'nin jeopolitik önemini arttıran faktörlerden biri değildir?

- A) İstanbul ve Çanakkale boğazlarına sahip olması
B) Orta Doğu ülkelerine yakın olması
C) Farklı iklim tiplerinin görülmesi
D) Dünyanın önemli geçiş yolları üzerinde bulunması

16.

- ◆ Türkiye'nin üye olduğu uluslararası kuruluşlardan biridir.
- ◆ Türkiye, İran, Pakistan, Bangladeş, Malezya, Endonezya, Mısır ve Nijerya'nın katılımıyla 1997 yılında kurulmuştur.

Yukarıda hakkında bilgi verilen uluslararası kuruluş aşağıdakilerden hangisidir?

- A) Birleşmiş Milletler (BM)
B) İslam Konferansı Örgütü (İKÖ)
C) Avrupa Konseyi (AK)
D) D-8

17. Popüler kültür, özellikle gençleri sinema, dizi ve reklamlar ile etkisi altına almaktadır. Popüler kültürün etkisinde kalan gençler kendi kültüründen uzaklaşmaktadır. Popüler kültüre göre gençlerin yeme içmesi, giyim kuşamı, hayata bakışı şekillenmektedir. Hazır yiyeceklerin zararlı olmasına rağmen gençler tarafından tüketilmesi bunun göstergesidir.

Aşağıdakilerden hangisi popüler kültürün olumsuz etkilerini azaltmak için yapılması gerekenlerden biridir?

- A) Gençlerin ve çocukların televizyon izlemelerine izin vermemek
B) Medya okuryazarlığı eğitimi vermek
C) Gazlı içecek satışını yapan kişileri cezalandırmak
D) Fast food reklamlarını arttırmak

18. Türkiye bütün sorunlarını barışçıl yollardan çözümlmeye gayret göstermiştir.

Yukarıdaki bilgiye dayanarak Türkiye'nin aşağıdaki kuruluşlardan hangisine üye olduğunu söylemek doğru olur?

- A) Avrupa Birliği B) TEMA
C) Birleşmiş Milletler D) Kızılay



1. Kültür ile ilgili aşağıda verilen ifadelerden hangisi yanlıştır?

- A) Teknolojik gelişmeler kültür alışverişini sağlar.
- B) Türk kültürü zaman zaman yabancı kültürlerin etkisi altında kalır.
- C) Kültürel özellikler tarih boyunca gelişir.
- D) Türk kültürü kısa bir tarihi süreç sonucunda oluşmuştur.

2.

- ◆ Merkezi Suudi Arabistan'ın Cidde şehrinde yer almaktadır.
- ◆ Türkiye bu teşkilatın kurucu üyelerindedir.
- ◆ Üye devletler arasında iş birliği ve dayanışmayı güçlendirmek temel amacıdır.

Yukarıda bilgisi verilen teşkilat aşağıdakilerden hangisidir?

- A) G-20
- B) İslam İş Birliği Teşkilatı
- C) Avrupa Konseyi
- D) BM

3. Popüler kültürün etkisinde kalan insanlar kendi kültürel değerlerini unutabilmektedir. Ülkemizde gençler yeterli kıyafetleri olduğu hâlde yeni kıyafetler almakta, çalışır durumda olan akıllı cep telefonunu kullanmayarak daha üst model telefon almaktadır.

Buna göre popüler kültür aşağıdakilerden hangisine zarar vermiştir?

- A) Aile bütçesine
- B) Eğitime
- C) Bilime
- D) Sağlık sistemine

- 4. I. Bayramlarda büyüklerimiz ziyaret etmek
- II. Büyük alışveriş merkezlerinden alışveriş yapmak
- III. Sosyal medya akımlarını takip etmek
- IV. Modaya uygun giyinmek

Yukarıdakilerden hangileri popüler kültüre ait bir örnek değildir?

- A) Yalnız I
- B) I ve II
- C) II ve III
- D) Yalnız IV

5. Popüler kültür, belli bir dönem için geçerli olan, hızlı tüketilen kültürel öğelerin bütünü olarak tanımlanmaktadır. Temel mantığı "kullan at" olan popüler kültür öğelerine, dönemsel olarak ortaya çıkan, çok satan, tüketildikten sonra da "ortadan kaybolan her şey girer. Popüler kültüre ait olan unsurlar medya araçları yoluyla millî kültürümüzü ve dolayısıyla da toplum hayatını etkilemektedir.

Aşağıdakilerden hangisi popüler kültürün yayılmasını sağlayan kitle iletişim araçlarından biri değildir?

- A) Televizyon
- B) Mektup
- C) Genel Ağ
- D) Sinema

6. Aşağıdakilerden hangisi Türkiye'nin üye olduğu uluslararası kuruluşlardan biri değildir?

- A) Avrupa Birliği (AB)
- B) Kuzey Atlantik Antlaşma Örgütü (NATO)
- C) Birleşmiş Milletler Teşkilatı (BM)
- D) İslam İş Birliği Teşkilatı (İİT)



7. ◆ 24 Ekim 1945 yılında kurulmuştur.
- ◆ Kuruluşun merkezi New York'tur.
- ◆ İnsanlığa büyük acılar getiren savaşların ve barışı engelleyici tehditlerin tekrarını önlemek, uluslararası barış ve güvenliği korumak amacıyla kurulmuştur.

Hakkında bilgi verilen kuruluş aşağıdakilerden hangisidir?

- A) Kuzey Atlantik Anlaşma Örgütü (NATO)
B) Avrupa Güvenlik İş Birliği Teşkilatı (AGİT)
C) Birleşmiş Milletler Teşkilatı (BM)
D) İktisadi İş Birliği ve Gelişme Teşkilatı (OECD)

8.

- I. Aslı'nın telefonunun hiçbir arızası olmamasına rağmen aynı aynı telefon markasının son çıkan modelini alması
- II. Fatih'in çocukluğunda oynadığı çelik çomak, seksek ve körebe gibi oyunları çocuklarına öğretmesi
- III. Modayı yakından takip eden Sevil'in moda için uygun kıyafetler alamadığı zaman kendisini kötü hissetmesi
- IV. Can'ın alışveriş sırasında babasına sürekli reklamda gördüğü çizgi film kahramanının oyuncağını almak için ağlaması

Yukarıdakilerden hangisi popüler kültürün örneklerinden biri değildir?

- A) I ve II
B) Yalnız II
C) III ve IV
D) Yalnız IV

9. Bakü – Tiflis– Ceyhan Boru Hattı ile hangi Türk Cumhuriyeti'nin petrolü Türkiye ve Gürcistan üzerinden taşınmaktadır?

- A) Azerbaycan
B) Özbekistan
C) Tacikistan
D) Kırgızistan

10. Popüler kültür ile ilgili aşağıda verilenlerden hangisi yanlıştır?

- A) Popüler kültür hızlı yayılmaktadır.
B) Popüler kültürün altında kalan kesimler giyim tarzı ve konuşma biçimiyle toplumdaki ayrılmaktadır.
C) Popüler kültürden etkilenen gençler çevreye karşı daha duyarlı olmaktadır.
D) Popüler kültür olumsuz sonuçlara neden olabilmektedir.

11.

- ◆ 25 Eylül 1969 tarihinde kurulmuştur.
◆ Teşkilata 57 ülke üyedir.
◆ Merkezi Suudi Arabistan'ın Cidde şehridir.
◆ Amacı; üye devletler arasında iş birliği ve dayanışmayı güçlendirmektir.

Hakkında bilgi verilen kuruluş aşağıdakilerden hangisidir?

- A) Ekonomik İş Birliği Örgütü (EİT)
B) Türk İş Birliği ve Kordinasyon Ajansı Başkanlığı (TİKA)
C) Gelişmekte olan 20 ülke (G-20)
D) İslam İşbirliği Teşkilatı (İİT)

12.

- I. Popüler kültürün tek taşıyıcısı televizyondur.
II. Popüler kültür eğlence yoluyla toplumun değer yargılarını etkiler.
III. Popüler kültür sadece çocukları etkilemektedir.
IV. Popüler kültür toplumu tüketime yönlendirir.

Yukarıda kaç numaralı cümlelerde bilgi yanlışlığı yapılmıştır?

- A) I ve III
B) II ve III
C) III ve IV
D) I, II, III ve IV



1

Müziklerimiz ve halk oyunlarımız popüler kültürün etkisi altına aldığı alanlardır. Medya araçları yoluyla günümüzde insanlar arasında pop, hip-hop, rap tarzı müzik dinlemek yaygınlaşmıştır. Bu tarz müzikler zamanla insanların oyun anlayışını da etkilemiştir. Özellikle gençler arasında bu müziklerin dansları ilgi görmeye başlamıştır. Bahsedilen unsurların, popüler kültürün etkisiyle dünyaya yayıldığı ve kendi kültürümüze ait olmadığı unutulmamalıdır. Popüler kültürün etkisi altına girmeden önce ülkemizde insanların çoğu türkü ve sanat müziği dinlemekte ve söylemekteydi. Bir araya geldiklerinde ise halay çekerek, zeybek ve horon gibi oyunlar oynayarak eğlenmekteydi. Günümüzde hâlen bu değerleri yaşatmaya özen gösteren kişiler vardır.



Buna göre;

- I. Medya araçları yeni müzik türlerini ortaya çıkarmıştır.
- II. Popüler kültür, kültürümüze ait olmayan unsurları ortaya çıkarmıştır.
- III. Günümüzde halk oyunları unutulmaya yüz tutmuştur.

yargılarından hangilerine ulaşamaz?

- A) Yalnız I B) I ve II C) II ve III D) Yalnız III

- 2 Türkiye enerji üretiminde önemli bir yere sahip Hazar Bölgesi ve Orta Doğu ülkeleri ile enerjiye ihtiyaç duyan, sanayileşmiş Avrupa arasında köprü durumundadır. Üretilen petrol ülkemiz üzerinden boru hatları ile Avrupa'ya ulaştırılmaktadır. Türkiye NATO'nun müttefikidir. NATO'nun dünya genelinde yaptığı faaliyetlere gerektiğinde askeri gücüyle destek vermektedir.

Buna göre Türkiye'nin üstlendiği uluslararası rollerin;

- I. ekonomi II. eğitim III. askeri

hangilerinden söz edilmemektedir?

- A) I ve II B) Yalnız II C) II ve III D) Yalnız III

- 3 Ülkemizde çocuklara yönelik televizyon programlarının önemli bir bölümünü oluşturan çizgi filmlerin çoğunluğu yabancı ülkelerden alınmaktadır. Dolayısıyla farklı kültürel yapının ürünleri olan bu filmlerin sembolleri ve figürleri çocukların dünyasının bir parçası hâline gelmektedir. Çocuklar bu sembol ve figürlerden etkilenmektedir. Çizgi filmlerde görülen şiddete dayalı anlatım çocukların davranışlarına yansımaktadır. Ayrıca çeşitli televizyon programlarında insanlara örnek olarak sunulan yaşam tarzı da kültürel değerlerimizin yıpranmasına sebep olmaktadır.

Buna göre aşağıdaki yorumlardan hangisi yapılamaz?

- A) Televizyon programlarından bazıları kültürümüz üzerinde olumsuz etkiler oluşturmaktadır.
- B) Çizgi filmler çocukların düşünce dünyasında ve davranışlarında büyük bir etkiye sahiptir.
- C) Kültürel değerlerimiz tamamıyla yabancı kültürün etkisi altına girmiştir.
- D) Yabancı ülkelerden alınan çizgi filmler çocuklarda olumsuz etkiye neden olabilmektedir.



- 4 Hazır yiyecek (fast food) anlayışı dünyaya son yıllarda hızlı bir şekilde yayılmış ve yaygınlaşmış popüler kültür unsurlarından biridir. Bu anlayışla, insanların sipariş verdikten sonra çok kısa bir zamanda yemeğe ulaşması ve yemeği tüketmesi amaçlanmıştır. Bu konuda medya araçlarıyla yapılan yoğun tanıtımlar sonucunda insanlar artık hazır yiyeceklere alıştırmıştır. Böylece bu yemek anlayışı günümüzde insanlar arasında “sanki bizim kültürümüze aitmiş” hissi uyandırabilmektedir. Kültürümüzde insanlar genellikle yemekleri evlerinde pişirirler ve ailece sofrada tüketirler.

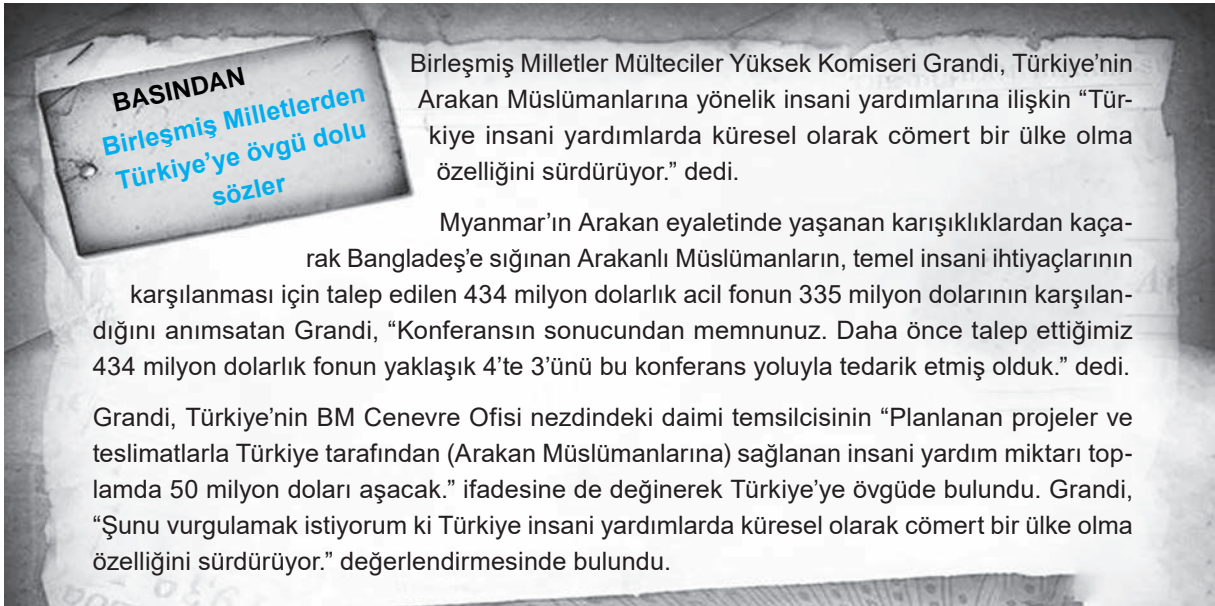
Buna göre;

- I. popüler kültürün beslenme üzerinde etkili olduğu,
- II. günümüzde evlerde yemek pişirilmediği,
- III. hazır yiyeceklerin insan sağlığını bozduğu

yargılarından hangilerine ulaşılabilir?

- A) Yalnız I B) I ve II C) II ve III D) Yalnız III

5

**Buna göre Türkiye ile ilgili;**

- I. uluslararası sorunlara kayıtsız kalmadığı,
- II. Arakan Müslümanlarına mali destekte bulunduğu,
- III. yaptığı yardımların takdirle karşılandığı

yargılarından hangilerine ulaşılabilir?

- A) I, II ve III B) I ve II C) II ve III D) Yalnız III

Aşağıdaki sorulara verilen kavramlardan uygun olanı seçerek cevap veriniz.

kültür, iltica, ekonomi, yardımlaşma, Sadabat Paketi, mülteci, G-20, dayanışma, dış ticaret, TÜRTEP, UNESCO, Milletler Cemiyeti, soydaş, müteakabiliyet, Balkan Antantı, politika, ihracat, TİKA, ithalat, TÜRKSOY, NATO, uluslararası, STK, İİT, küresel, UNICEF, BM, jeopolitik konum, medya, TANAP, Avrupa Konseyi, popüler kültür, ticaret, barışçılık

1. Kâr elde etmek amacıyla üretilen her türlü mal ve hizmetin alınıp satılmasına ne denir?
Cevap:
2. Türkiye'nin dünyada uluslararası sorunların çözümünde takip ettiği politikaya ne ad verilir?
Cevap:
3. Uluslararası ilişkilerde karşılıklı güven ve saygı ilkesine ne denir?
Cevap:
4. Bir ülkenin başka bir ülkeden mal almasına (dış alım) ne denir?
Cevap:
5. Bir ülkenin başka bir ülkeye mal satmasına (dış satım) ne denir?
Cevap:
6. Bir toplumu oluşturan bireylerin duygu, düşünce ve çıkar birliğiyle birbirlerine karşılıklı olarak bağlanmalarına ne denir?
Cevap:
7. I. Dünya Savaşı'nın ardından dünyada kalıcı barışı sağlamak için kurulan uluslararası kuruluş hangisidir?
Cevap:
8. Türkiye'nin batı sınırının güvenliğini sağlamak için 1934 yılında Yunanistan, Yugoslavya ve Romanya ile yaptığı iş birliği hangisidir?
Cevap:
9. Türkiye'nin doğu sınırının güvenliğini sağlamak için 1937 yılında İran, Irak ve Afganistan ile yaptığı işbirliği hangisidir?
Cevap:
10. Türk Cumhuriyetleri'yle olan ilişkilerimizin gelişmesinde Türk İşbirliği ve Koordinasyon Ajansı Başkanlığı'nın kısa adı hangisidir?
Cevap:
11. Türk Kültür ve Sanatları Ortak Yönetimi'nin kısa adı hangisidir?
Cevap:
12. Türkiye Türkçesiyle Uzaktan Eğitim Programlarının kısa adı hangisidir?
Cevap:
13. II. Dünya Savaşı sonrası dünya barışını korumak amacıyla kurulan uluslararası teşkilatın kısa adı hangisidir?
Cevap:
14. Bir başka yere ya da ülkeye sığınan kimseye ne ad verilir?
Cevap:
15. Ülkeler arası her türlü mal ve hizmetin alınıp satılmasına ne denir?
Cevap:
16. Bir ülkenin coğrafi konumundan dolayı elde ettiği ekonomik, siyasi, askerî ve kültürel güçle dış siyasetini oluşturup yönlendirmesine ne denir?
Cevap:
17. Bir toplumu diğer toplumlardan farklı kılan yaşam tarzının tümüne ne denir?
Cevap:
18. Belli bir dönem için geçerli olan, hızlı üretilen ve tüketilen kültürel öğelerin bütününe ne denir?
Cevap:
19. Aynı soydan olan bireylerden her birine ne denir?
Cevap:
20. İslam İşbirliği Teşkilatının kısa adı hangisidir?
Cevap:
21. Türkiye'nin de üye olduğu Kuzey Atlantik Antlaşması Teşkilatının kısa adı hangisidir?
Cevap:
22. İnsan hakları ve demokrasi ilkelerini korumak ve güçlendirmek amacıyla kurulan uluslararası kuruluş hangisidir?
Cevap:
23. Birleşmiş Milletler Eğitim, Bilim ve Kültür Teşkilatının kısa adı hangisidir?
Cevap:
24. Azerbaycan doğal gazının Türkiye üzerinden Avrupa'ya transfer edilmesi planlanan boru hattı projesinin kısa adı hangisidir?
Cevap:



www.ortaokuldata.com Dijital Eğitim
Platformunun tanıtım ve kullanım
videoları için karekodu okutunuz.



Dijital Eğitim Platformunda Neler Var?

Bu seti alan öğretmen ve öğrencilerin tamamı Dijital Eğitim Platformuna sınırsız sahip olacaktır. Dijital Eğitim Platformunda

- Deneme sınavları çözme,
- Soru çözme,
- Konu çalışma,
- Yapay zeka destekli istatistiksel raporlar alma,
- Süreç odaklı dijital öğrenci takip sistemi,
- Ders kitabının dijital içerikleri,
- Akıllı tahta uygulamaları

gibi birçok özelliğe sahiptir.

Dijital Eğitim Platformu Nasıl Kullanılır?

- Öğretmenin sisteme üye olması
 1. Öğretmen kendisi ortaokuldata.com'dan üyelik yapabilir.
 2. 0 (542) 262 03 37 whatsapp hattından yardım alarak üyelik yaptırabilir.
- Öğretmen, öğrenci listesini sisteme girdikten sonra öğrencilerin kullanıcı adı ve şifreleri otomatik oluşturulacak veya öğrenci listesini 0 (542) 262 03 37 whatsapp hattına göndererek sistem tarafından öğrenci şifreleri oluşturulacaktır.
- Öğrenci, öğretmeninden alacağı şifre ile sisteme giriş yapabilecektir.

* Sınırsız kullanım süresi 1 eğitim-öğretim yılıdır.



Ayrıca “DEFTERİM” Kitabımızı da Deneyimleyiniz.

Karekodu okutunuz.



İvedik Organize Sanayi Matbaacılar Sitesi 1518 Sok.
Mat-Sit İş Merkezi No:2/20 Yenimahalle / ANKARA
Tel: 0 312 384 20 33 - 0 505 925 57 81
www.editoryayinevi.com | bilgi@editoryayinevi.com



9 786052 806234

Nasıl Sipariş Edebilirim?

Kitapçınızdan talep edebilir veya 0 505 099 24 84 telefon hattından bilgi alabilirsiniz.